

تم تحميل هذا الملف من موقع المناهج الكويتية



محمد البلاطي

الملف إجابة أسئلة اختبار القصير الأول من منصة البلاطي

[موقع المناهج](#) ⇨ [المناهج الكويتية](#) ⇨ [الصف السادس](#) ⇨ [علوم](#) ⇨ [الفصل الثاني](#)

روابط مواقع التواصل الاجتماعي بحسب الصف السادس



روابط مواد الصف السادس على تلغرام

<a href="#">الرياضيات</a>	<a href="#">اللغة الانجليزية</a>	<a href="#">اللغة العربية</a>	<a href="#">التربية الاسلامية</a>
---------------------------	----------------------------------	-------------------------------	-----------------------------------

المزيد من الملفات بحسب الصف السادس والمادة علوم في الفصل الثاني

<a href="#">بنك أسئلة</a>	1
<a href="#">دليل المعلم</a>	2
<a href="#">دليل المعلم</a>	3
<a href="#">كتاب الطالب 6</a>	4
<a href="#">تحضير درس مخطط جسمك</a>	5

# توقعات ليلة الامتحان إجابة امتحانات تجريبية قصير (أ)



## العلوم

### الفصل الدراسي الثاني

2025 - 2024

6

نموذج ( 1 )

الشعبة .....

اسم الطالب / .....

8

## السؤال الأول

اختر الإجابة الصحيحة علمياً لكل من العبارات التالية بوضع علامة (✓) في المربع المقابل لها: 2 درجة

1 - خلية طوبلة رقيقة كثيرة التفرع، مما يساعدها في نقل الإشارات بين أجزاء الجسم :

( ) خلايا عضلية ( ) كريات الدم الحمراء

( ✓ ) خلايا عصبية ( ) خلايا الجلد

2 - مجموعة الأنسجة التي تعمل متضافرة لتأدية وظائف معينة تكون :

( ) خلية ( ) نسج

( ) عضو ( ✓ ) جهاز

اكتب بين القوسين كلمة (صحيحة) أمام العبارة الصحيحة و كلمة (خطأ) أمام العبارة غير الصحيحة في كل مما يلي : 2 درجة

1 - عضيات الخلايا تساعدها على البقاء حية. صحيحة

2 - الخلايا تحتوي على مادة وراثية (حمض نووي) حيث تنتقل من خلالها صفات معينة من الخلايا الأبوة إلى الخلايا البنوة. صحيحة

اكتب المصطلح العلمي الدال على العبارات التالية : 2 درجة

1 - عدسة تكون قربة من الشي المراد تكبيره. عدسة عينية

2 - عضية تكون في الخلية النباتية تصنع الغذاء. البلاستيدات الخضراء

## السؤال الثاني

من الرسم الذي أمامك حدد :



1 - الخلية النباتية يمثلها الرقم (1).



2 - السهم المقابل يشير إلى عدسة عينية .

نموذج ( 2 )

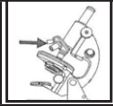
الشعبة .....

8

اسم الطالب / .....

## السؤال الأول

اختر الإجابة الصحيحة علمياً لكل من العبارات التالية بوضع علامة (✓) في المربع المقابل لها: 2 درجة



1 - الجزء المشار اليه في الشكل المقابل يسمى :

( ) القاعدة ( ) العدسة العينية ( ✓ ) العدسة الشيئية ( ) الضابط الكبير

2 - تنتج الغذاء للخلية النبات حيث إنها تحتوي على مادة الكلوروفيل :

( ) النواة ( ) الميتوكوندريا ( ✓ ) البلاستيدات الخضراء ( ) الجدار

اكتب بين القوسين كلمة (صحيحة) أمام العبارة الصحيحة و كلمة (خطأ) أمام العبارة غير الصحيحة في كل مما يلي : 2 درجة

- 1 - تتشابه الخلايا النباتية والحيوانية أنها تحتوي على جيع العضيات. خطأ
- 2 - النسبج العمادي في الورقة يحتوي على المادة الخضراء. صحيحة

اكتب المصطلح العلمي الدال على العبارات التالية : 2 درجة

- 1 - انتظام مجموعة من الخلايا المتخصصة. (النسبج)
- 2 - ينقل الماء والاملاح من الجذور الى الاوراق بواسطة. (الخشب)

## السؤال الثاني

أي مم يلي لا ينتمي للمجموعة : 2 درجة

- 1 - جدار الخلية - ميتوكوندريا - فجوة عصارية كبيرة - الجسم المركزي. الذي لا ينتمي : الجسم المركزي.

السبب: من مكونات الخلية الحيوانية والباقي من مكونات الخلية النباتية.

علل لما يأتي تعليلا علميا سليما : 2 درجة

- 1 - النواة تحدد صفات الكائن الحي. لان بها المادة الوراثية.

\*\*\* مع أطيّب التمنيات بالنجاح والتوفيق \*\*\*

نموذج ( 3 )

اسم الطالب / .....

الشعبة .....

8

## السؤال الأول

اختر الإجابة الصحيحة علمياً لكل من العبارات التالية بوضع علامة (✓) في المربع المقابل لها:

2 درجة

1 - خلايا تقوم بنقل الماء والأملاح من الجذور إلى الأوراق :

( ) العضلية ( ) العصبية ( ) الجلدية ( ✓ ) الخشب

2 - جميع الخلايا بها أجزاء صغيرة تسمى :

( ) نسج ( ) جهاز ( ✓ ) عضيات ( ) أعضاء

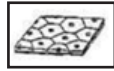
اكتب بين القوسين كلمة (صحيحة) أمام العبارة الصحيحة و كلمة (خطأ) أمام العبارة غير الصحيحة في كل مما يلي :

2 درجة

صحيحة

1 - النواة عضيه تتحكم في جميع أنشطة الخلية.

خطأ



2 - الشكل المقابل يوضح أعلى مستويات التعضي.

أكمل الفراغ التالي بما يناسبه علمياً : 2 درجة

1 - تركيب ينقبض وينبسط ويساعد الجسم على الحركة الخلايا العضلية.2 - تقوم كريات الدم الحمراء بنقل الأكسجين داخل الجسم.

## السؤال الثاني

2 درجة

في الجدول المقابل قارن بين كلا مما يلي :

وجه المقارنة	الخلية النباتية	الخلية الحيوانية
جدار الخلية	يوجد	لا يوجد
السييتوبلازم	يوجد	يوجد

نموذج ( 4 )

الشعبة .....

اسم الطالب/ .....

8

## السؤال الأول

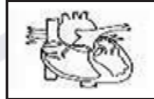
اختر الإجابة الصحيحة علمياً لكل من العبارات التالية بوضع علامة (✓) في المربع المقابل لها:

2 درجة

1 - الوحدة الوظيفية والاساسية في جسم الكائن الحي :



( )



( )



( ✓ )



( )

2 - تنظيم الانسجة في كثير من الكائنات مع بعضها في مجموعات يطلق عليها :

( ) الأجهزة

( ) الخلايا

( ✓ ) الأعضاء

( ) جسم الكائن الحي

اكتب بين القوسين كلمة (صحيحة) أمام العبارة الصحيحة و كلمة (خطأ) أمام العبارة غير الصحيحة في كل مما يلي :

2 درجة

خطأ



1 - الشكل المقابل يثل خلايا نباتية متخصصة.

صحيحة

2 - يتحد الاكسجين مع نوانج هضم الطعام لتحرير الطاقة اللازمة للخلايا.

اكتب المصطلح العلمي الدال على العبارات التالية : 2 درجة

(المصدر الضوئي)

1 - الجزء في المجهر يزود الضوء لرؤية العينة.

( الميتوكوندريا )

2 - عضيه تطلق الطاقة من الغذاء.

## السؤال الثاني

عال لما يأتي تعليلا علميا سليما : 2 درجة

1 - وجود الجهاز الهضمي في جسم الانسان.

معالجة الغذاء بواسطة الفم والمعدة والامعاء.

2 - تتكون خلايا جذور النباتات من جدار رقيق.

لتنمك من امتصاص الماء والاملاح والمعادن.



نموذج ( 5 )

الشعبة

8

اسم الطالب/

السؤال الأول

اختر الإجابة الصحيحة علمياً لكل من العبارات التالية بوضع علامة (✓) في المربع المقابل لها:

2 درجة

1 - خلايا النباتات التي تتمكن من امتصاص الماء والأملاح المعدنية :

( ✓ ) جذور ( ) الخشب ( ) اللحاء ( ) العمادية

2 - جهاز مسؤول عن ضخ الدم في كافة أنحاء الجسم يسمى الجهاز :

amanahj.com/kw

( ) الهضمي ( ) العصبي

( ✓ ) الدوري ( ) العضلي

اكتب بين القوسين كلمة (صحيحة) أمام العبارة الصحيحة و كلمة (خطأ) أمام العبارة غير الصحيحة في كل مما يلي : 2 درجة

- 1 - الخلية العضلية تعتبر أطول خلية في جسم الانسان. خطأ
- 2 - يطلق على مجموعة الخلايا المتخصصة نسج. صحيحة

اكمل العبارات التالية بما يناسبها علمياً : 2 درجة

- 1 - تنظم كل مجموعة من الخلايا المتخصصة في ما يعرف بـ النسج.
- 2 - تكون مجموعة الأعضاء التي تعمل معا ما يعرف بـ الجهاز.

السؤال الثاني

أي مم يلي لا ينتمي للمجموعة : 2 درجة



- 1

الذي لا ينتمي : الخلية النباتية.

السبب: لأنها وحدة بناء النبات والباقي من وحدة بناء الحيواني او الانسان.



- 2

الذي لا ينتمي : خلايا اللحاء.

السبب: لأنها خلايا نباتية والباقي خلايا حيوانية.

\*\*\* مع أطيب التمنيات بالنجاح والتوفيق \*\*\*

نموذج ( 6 )

الشعبة .....

اسم الطالب / .....

8

## السؤال الأول

اختر الإجابة الصحيحة علمياً لكل من العبارات التالية بوضع علامة (✓) في المربع المقابل لها:

1 - الجزء المسؤول عن خفض ورفع العدسات الشبكية :

( ) المصدر الضوئي ( ) القاعدة ( ) الضابط الصغير ( ✓ ) الضابط الكبير

2 - جزء في الخلية النباتية يحميها ويغلفها ويحدد شكلها :

( ) غشاء الخلية ( ✓ ) جدار الخلية

( ) النواة ( ) السيتوبلازم

اكتب بين القوسين كلمة (صحيحة) أمام العبارة الصحيحة و كلمة (خطأ) أمام العبارة غير الصحيحة في كل مما يلي : 2 درجة

- 1 - البلاستيدات الخضراء مادة هلامية شفافة تتكون معظمها من الماء. خطأ  
2 - الجهاز العصبي يجمع ويحول ويعالج المعلومات وارسال الأوامر الى الدماغ. صحيحة

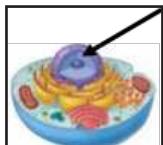
اكتب المصطلح العلمي الدال على العبارات التالية : 2 درجة

- 1 - الوحدة التركيبية والوظيفية الأساسية في جميع الكائنات الحية. الخلية  
2 - عضيه كبيرة الحجم توجد في وسط الخلية تخزن الغذاء والماء والفضلات. الفجوة العصارية

## السؤال الثاني

الرسم المقابل يمثل الخلية البكتيرية : 2 درجة

- 1 - رتب مستويات التعضي ترتيب تصاعدياً بالأرقام من (1-4) واكتب الرقم المناسب مع اتجاه السهم.



- 2 - الرسم المقابل يمثل : الخلية الحيوانية.

الجزء المشار اليه يمثل : النواة.



نموذج ( 7 )

الشعبة .....

اسم الطالب / .....

8

## السؤال الأول

اختر الإجابة الصحيحة علمياً لكل من العبارات التالية بوضع علامة (✓) في المربع المقابل لها:

2 درجة

1 - عضيه توجد في الخلية الحيوانية :

( ) البلاستيدات الخضراء ( ) غشاء الخلية

( ) جدار الخلية ( ✓ ) الجسم المركزي

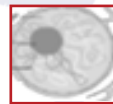
2 - مركز التحكم في الخلية :



( )



( )



( ✓ )



( )

اكتب بين القوسين كلمة (صحيحة) أمام العبارة الصحيحة و كلمة (خطأ) أمام العبارة غير الصحيحة في كل مما يلي : 2 درجة

1 - خلايا الجلد تكون مسطحة وتنظم معا بشكل متراس لتحافظ حماية الجسم. صحيحة

2 - تكون خلايا اللحاء النسج العمادي في الورقة. خطأ

اكتب المصطلح العلمي الدال على العبارات التالية : 2 درجة

1 - عضيه تتكون من شبكة من الانابيب والقنوات تنقل المواد من مكان لآخر داخل الخلية.

( الشبكة الاندوبلازمية )

2 - عجلة صغيرة توجد في المجهر تستعمل لرؤية واضحة. ( الضابط الصغير )

## السؤال الثاني

علل لما يأتي تعليلا علميا سليما : 2 درجة

1 - تقوم البلاستيدات الخضراء على صنع الغذاء في الخلايا النباتية.

لوجود مادة الكلوروفيل الخضراء اللون الذي يمتص ضوء الشمس.

2 - الخلايا العصبية طويلة وكثيرة التفرعات.

لنقل الإشارات (المعلومات) بين أجزاء الجسم.

نموذج ( 8 )

.....

الشعبة

8

اسم الطالب/ .....

## السؤال الأول

اختر الإجابة الصحيحة علمياً لكل من العبارات التالية بوضع علامة (✓) في المربع المقابل لها: 2 درجة

1 - خلايا النباتات التي تتمكن من نقل الغذاء المتكون في الورقة إلى جميع أجزاء النبات :

( ✓ ) جذور ( ) الخشب ( ) اللحاء ( ) العمادية

2 - جهاز مسؤول عن الاتصال بين الأعضاء بالهرمونات :

( ) الهضمي ( ) العصبي

( ✓ ) الغدد الصماء ( ) الدوري

اكتب بين القوسين كلمة (صحيحة) أمام العبارة الصحيحة و كلمة (خطأ) أمام العبارة غير الصحيحة في كل مما يلي : 2 درجة

خطأ

1 - خلايا الجلد تكون مسطحة وتنظم معا بشكل متراص لتحافظ حماية الجسم.

صحيحة

2 - يطلق على مجموعة الخلايا المتخصصة نسج.

اكمل العبارات التالية بما يناسبها علمياً : 2 درجة

1 - تنتظم الانسجة في الكثير من الكائنات الحية في مجموعات يطلق عليه العضو.

2 - خلايا قرصية الشكل تنقل الاكسجين ومواد أخرى داخل جسم الكائن الحي كريات الدم الحمراء.

## السؤال الثاني

في الجدول المقابل قارن بين كلا مما يلي : 2 درجة

وجه المقارنة	خلايا اللحاء	خلايا الخشب
الوظيفة	نقل الغذاء من الورقة الى جميع أجزاء النبات.	نقل الماء والاملاح من جذور النبات الى الورقة.

## السؤال الأول

اختر الإجابة الصحيحة علمياً لكل من العبارات التالية بوضع علامة (✓) في المربع المقابل لها:

2 درجة

1 - الجزء الذي يثبت المجهر ويدعمه :

( ✓ ) القاعدة ( ) المصدر الضوئي

( ) الضابط الكبير ( ) الضابط الصغير

2 - جزء رقيق في الخلية يحميها ويغلفها وينظم مرور المواد من الي الخلية واليها :

( ) النواة ( ) غشاء الخلية

( ✓ ) جدار الخلية ( ) السيتوبلازم

اكتب بين القوسين كلمة (صحيحة) أمام العبارة الصحيحة و كلمة (خطأ) أمام العبارة غير الصحيحة في كل مما يلي : 2 درجة

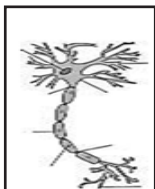
1 - السيتوبلازم مادة هلامية شفافة تتكون معظمها من الماء. **صحيحة**2 - خلايا جذور النبات ذات جدار سميك حتى تتمكن من امتصاص الماء و الاملاح. **خطأ**

أكمل الفراغ التالي بما يناسبه علمياً : 2 درجة

1 - النواة في الخلية تحدد الصفات الوراثية.2 - الجلد خلايا مسطحة متراسة وظيفتها حماية الجسم.

## السؤال الثاني

ادرس الصورة ثم أجب عن المطلوب : 2 درجة

1 - الرسم المقابل يمثل: **كريات الدم الحمراء**.وظيفتها: **نقل الاكسجين والمواد الأخرى داخل الجسم**.2 - نوع الخلية: **حيوانية**.وظيفتها: **نقل الإشارات والمعلومات بين أجزاء الجسم**.

نموذج ( 10 )

الشعبة .....

8

اسم الطالب / .....

## السؤال الأول

اختر الإجابة الصحيحة علمياً لكل من العبارات التالية بوضع علامة (✓) في المربع المقابل لها: 2 درجة

1 - خلايا تنقبض وتساعد على حركة الجسم :

( ) كريات الدم الحمراء ( ) العصبية

( ) الجلد ( ✓ ) العضلية

amanahj.com/kw

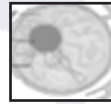
2 - خلايا في النبات تمتص الماء والأملاح من التربة :



( ✓ )



( )



( )



( )

اكتب بين القوسين كلمة (صحيحة) أمام العبارة الصحيحة و كلمة (خطأ) أمام العبارة غير الصحيحة في كل مما يلي : 2 درجة

خطأ

1 - خلايا العصبية تكون مسطحة وتنتظم معاً بشكل متراص لتحافظ حماية الجسم.

صحيحة

2 - تكون خلايا عمادية تكون النسج العمادي في الورقة.

اكتب المصطلح العلمي الدال على العبارات التالية : 2 درجة

(النواة)

1 - عضيه تتحكم في جميع أنشطة الخلية.

( العدسة العينية )

2 - العدسة التي ترى من خلالها العين الى الداخل لرؤية العينة.

## السؤال الثاني

في الجدول المقابل قارن بين كلا مما يلي : 2 درجة

		وجه المقارنة
حيوانية	نباتية	نوع الخلية
تنقبض فتساعد على حركة الجسم	تكوّن النسج العمادي	وظيفتها
خلايا عضلية	خلية عمادية	اسم الخلية



## احرص على اقتناء سلسلة منصة البلاطي

- كتاب الشرح.
- كتاب الأسئلة.
- كتاب إجابة الأسئلة.
- المراجعة النهائية (الأسئلة - الإجابة).
- توقعات ليلة الامتحان (الأسئلة - الإجابة).
- كبسولة ليلة الامتحان.
- برشامة ليلة الامتحان.

موقع  
المناهج الكويتية  
almanahj.com/kw



6

## العلوم

الفصل الدراسي الثاني

2025 - 2024

استمتع بتجربة التعلم  
مع منصة البلاطي

