



وزارة التربية

الإدارة العامة لمنطقة الجهراء التعليمية

اختبار نهاية الفصل الدراسي الثاني
٢٠١٩ / ٢٠١٨

الصف	التاسع
المادة	الاجتماعيات

نموذج إجابة



وزارة التربية

مكتب المدير العام



وزارة التربية

الإدارة العامة لمنطقة الجهراء التعليمية
مكتب المدير العام

ملفات الكويت
التعليمية

kwEduFiles.com



وزارة التربية

الإدارة العامة لمنطقة الجواء التعليمية
التوجيه الفني للاجتماعيات

امتحان الفترة الدراسية الثانية
لمقرر الكويت والعالم
للفيف التاسع المتوسط

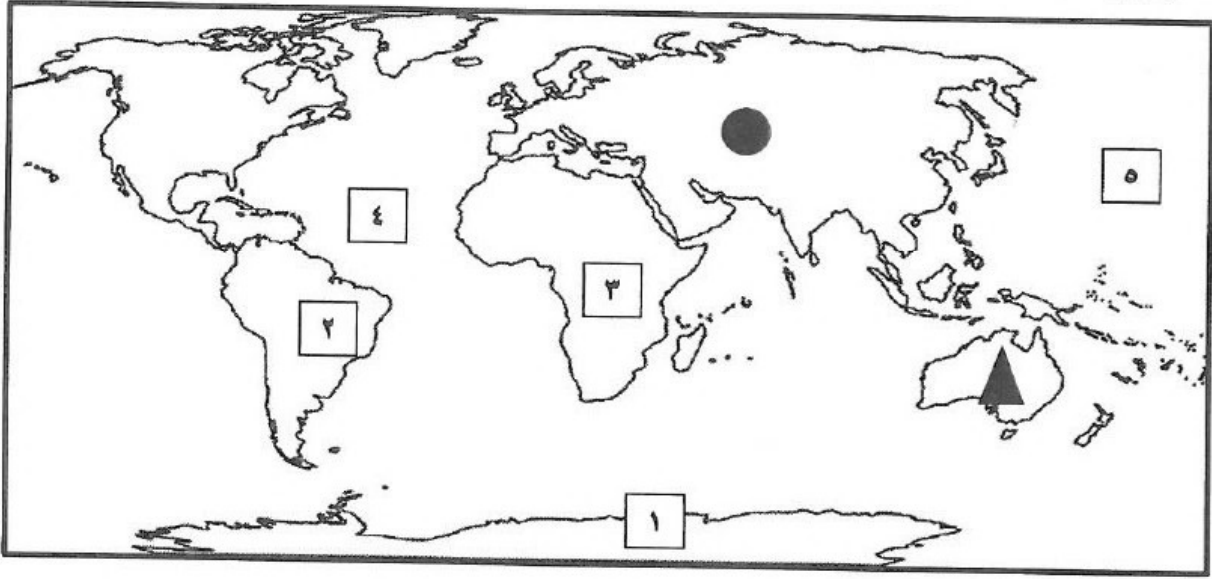
العام الدراسي ٢٠١٨ / ٢٠١٩ م
الزمن : ساعة و ٤٥ دقيقة
عدد الأوراق : (٥)

نموذج الإجابة

أجب عن جميع الأسئلة :

السؤال الأول : ويتكون من (أ - ب)

أ- لاحظ خريطة العالم التي أمامك ثم أجب عن الأسئلة التي تليها : (٥ درجات لكل نقطة درجة)



أولاً : أكتب الرقم الدال على العبارات التالية :

- ١- المحيط الأطلسي يمثله على الخريطة الرقم ٤ ص ٧٩
- ٢- القارة التي اكتشف ثقب الأوزون فوقها يمثلها على الخريطة الرقم ١ ص ١٣٤
- ٣- مرتفعات البرازيل يمثلها على الخريطة الرقم ٢ ص ٨١

ثانياً : حدد كل مما يلي على الخريطة باستخدام الرموز التالية :

- ١- قارة آسيا باستخدام الرمز ● ص ٧٩
- ٢- أقل قارات العالم في عدد السكان باستخدام الرمز ▲ ص ٨٢

ب - صنف الدول التي شاركت في الحرب العالمية الثانية حسب الجدول (٥ درجات لكل نقطة درجة)

(فرنسا - إيطاليا - الاتحاد السوفيتي - ألمانيا - بريطانيا) ص ١٢٤

دول المحور	دول الحلفاء
ألمانيا - إيطاليا	فرنسا - الاتحاد السوفيتي - بريطانيا

السؤال الثاني : يتكون من (أ - ب)

١- ضع خطاً تحت الخيار الصحيح من بين الخيارات التي تلي كل عبارة : (٥ درجات لكل نقطة درجة)

١- الغاز الأساسي المسبب لظاهرة الاحتباس الحراري : ص ١٣٤
أ- أول أكسيد الكربون ب- الهيدروجين ج- النيتروجين د- ثاني أكسيد الكربون

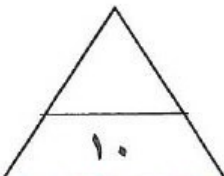
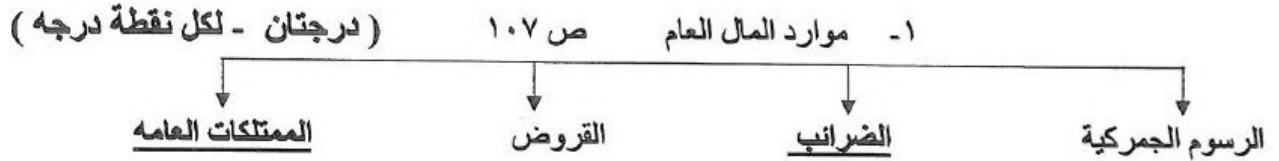
٢- أكبر القطاعات التي يمولها الصندوق الكويتي للتنمية الاقتصادية هي : ص ١٤٤
أ- الطاقة ب- النقل ج- الصناعة د- الزراعة

٣- العام الذي انضمت فيه دولة الكويت للأمم المتحدة : ص ١٤٣
أ- ١٩٦٣ م ب- ١٩٦٤ م ج- ١٩٦٥ م د- ١٩٦٦ م

٤- توظيف الفائض من الأموال أو النقود الناتج عن زيادة دخل الدولة : ص ١٠٨
أ- الادخار ب- الترشيح ج- الاستثمار د- الدخل القومي

٥- الفترة الزمنية التي استمر فيها الغزو العراقي على دولة الكويت عام ١٩٩٠ : ص ١٤٦
أ- ٤ شهور ب- ٥ شهور ج- ٦ شهور د- ٧ شهور

ب- أكمل المخططات السهمية التالية :



السؤال الثالث : ويتكون من (أ - ب)

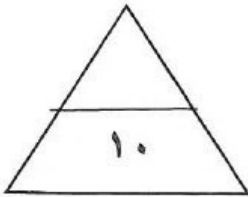
أ- أكمل العبارات التالية بما يناسبها فيما درست : (٧ درجات - لكل نقطة درجة)

- ١- الدولة التي يقع فيها مقر المنظمة الإقليمية لحماية البيئة البحرية تسمى الكويت ص ١٤٦
- ٢- قامت الثورة الصناعية في أوروبا في القرن ١٨ ص ١١٥
- ٣- تم تحرير دولة الكويت من النظام العراقي البائد في ٢٦ فبراير عام ١٩٩١ ص ١٤٨
- ٤- الحاكم الكويتي الذي أصبح الحكم وراثيا في ذريته اسمه ..الشيخ مبارك الصباح ص ١٠٤
- ٥- الدولة التي يوجد فيها أضخم صخرة في العالم تسمى استراليا ص ٨٥
- ٦- صاحب فكرة إنشاء مجلس التعاون الخليجي هو الشيخ جابر الأحمد الجابر الصباح ص ١٥١
- ٧- المرض الذي يسببه فيروس يؤدي إلى ضعف المناعة المكتسبة في جسم الإنسان يسمى الايدز ص ١٣٦

ب- إختر للمجموعة (أ) ما يرتبط بها من المجموعة (ب) بوضع الرقم المناسب : ص ١٢٢

(٣ درجات) لكل نقطة درجة

الرقم	المجموعة (أ)	الرقم المناسب	المجموعة (ب)
١	زعيم الفاشية في إيطاليا	٢	لينين
٢	زعيم الشيوعية في روسيا	١	موسوليني
٣	زعيم النازية في ألمانيا	—	ستالين
٤		٣	هتلر





السؤال الرابع : يتكون من (أ - ب - ج)

أ- لاحظ الشكل المقابل ثم اجب عن الأسئلة التالية :

١- ماذا يمثل الشعار المقابل ؟ ص ١٢٨ (درجة)

هيئة الأمم المتحدة

٢- عدد احدى شروط الانضمام لهذه المنظمة ؟ (يكتفى بنقطه) ص ١٢٧ (درجة)

١- أن تكون الدولة مستقلة ٢- أن تكون الدولة محبة للسلام ٣- أن تتعهد بتنفيذ قوانين هيئة الأمم المتحدة

ب- دلي على صحة العبارات التالية :

١- يعتبر الحاسوب أعظم اختراع عرفته البشرية . ص ٩٧ يكتفى بنقطتين (درجتان)

- تدخل في استخداماته في جميع مجالات الحياة - ثبت بأنه ذو كفاءة عالية ويوفر الوقت والجهد

٢- للكويت دور فاعل وإيجابي على المستوى العربي . ص ١٥١ يكتفى بثلاث نقاط (٣ درجات)

- انضمت الكويت لجامعة الدول العربية منذ استقلالها ١٩٦١

- كان للكويت دورا بارزا في تأسيس مجلس التعاون الخليجي من خلال مبادرة الشيخ جابر الصباح

- الوقوف إلى جانب الشعب الفلسطيني والإلتزام بدعم حقه المشروع في نيل كافة حقوقه السياسية

- الاهتمام بمشكلة إقليم (دارفور) في السودان والوقوف مع الجهود لوقف تدهور الأوضاع فيه


- استضافة المؤتمر الموسع الثالث لوزراء خارجيه دول جوار العراق في الكويت ٢٢/ابريل/٢٠٠٨

٣- النفط والغاز الطبيعي مادة استراتيجية مهمة في عصرنا الحاضر . ص ١٣٠ يكتفى بنقطتين (درجتان)

- توفرهما بكميات كبيره في مناطق محدده - سهولة نقلها وتخزينها - يعتبران مادتان هامتان وقت السلم والحرب

ج- فرق بين مايلي : (٦ درجات)

معدل النمو الطبيعي ص ٨٣ (درجة)	معدل النمو الطبيعي ص ٨٣ (درجة)
زيادة عدد السكان عن طريق الهجرة	معدل المواليد - معدل الوفيات
الدخل القومي ص ١٠٨ (درجة)	الدخل الفردي ص ١٠٨ (درجة)
دخل الدولة خلال عام من مختلف المصادر	نصيب الفرد من الدخل القومي
الطاقة الغير متجدده ١٢٩ (درجة)	الطاقة المتجدده ص ١٢٩ (درجة)
مصادر الطاقة ذات الكمية المحدوده والتي يتناقص حجمها باستمرار مع الزمن وتمثل ٩٠% من مجموع الطاقة في العالم مثل (النفط ، الغاز الطبيعي ، الفحم	مصادر الطاقة التي لاتنفذ أبدا مادامت هناك حياه على وجه الأرض مثل (الشمس ، الرياح ، الأمواج)



ملفات الكويت
التعليمية

السؤال الخامس : يتكون من (أ - ب - ج)

أ- قارن بين : (٤ درجات) لكل نقطة درجة

وجه المقارنة	الهند ص ٨٩-٩٠	اليابان ص ٩٢-٩٤
المناخ السائد	المناخ الموسمي الحار ممطر صيفا ، ويسوده مناخ بارد قاسي في المناطق الشمالية من جبال الهملايا (درجة)	تمتد أراضيها في الأقاليم المعتدلة الدافئة والباردة (درجة)
اهم الصناعات	الأنسجة - الذهب - الفضة (درجة) (يكتفى بنقطة واحدة)	وسائل النقل - الصناعات الكيماوية - الأجهزة والأدوات الكهربائية (درجة) (يكتفى بنقطة واحدة)

ب- اكتب فيما يلي :

- ١- أسباب قيام الحرب العالمية الأولى **يكتفى بنقطتين (درجتين) ص ١١٦**
- ١- زيادة المنافسه بين الدول الاوروبية من أجل السيطرة على منابع الثروات الطبيعية في الدول الأخرى .
- ٢- الصراع حول المستعمرات في قارتي اسيا وافريقيا .
- ٣- السبب المباشر هو قيام طالب صربي باغتيال ولي عهد النمسا في مدينة سراييفو عاصمة البوسنة .
- ٢- **الأثار الناتجة عن تآكل طبقة الأوزون يكتفى بنقطتين (درجتين) ص ١٣٤**
- ١- ارتفاع درجة حرارة الجو المحيط بالكرة الأرضية .
- ٢- ارتفاع نسبة الإصابة بالامراض الجلدية وامراض العيون .
- ٣- اتلاف الغطاء النباتي وانخفاض إنتاج المحاصيل الزراعية .
- ٣- **أنشطة المؤسسات الخيرية الكويتية يكتفى بنقطتين (درجتين) ص ١٤٥**
- ١- تقديم المساعدات المادية والعينية والهبات لضحايا الحروب والكوارث والمجاعات واللاجئين في اسرع وقت .
- ٢- إقامة مشاريع تنمية (زراعية - صناعية) وتشغيل الأيدي العاملة .
- ٣- بناء المساجد والمراكز الإسلامية والمدارس والمستشفيات في كثير من دول العالم .
- ٤- **أنواع الأقاليم المناخية في قارة استراليا . يكتفى بنقطتين (درجتين) ص ٨٦**
- ١- مناخ التندرا ٢- المناخ المعتدل ٣- المناخ الصحراوي

ج- عرف المفاهيم التالية :

- ١- **الرأي العام :** اراء مجموعه من الافراد بشأن قضية او موقف ما . (درجة) ص ١٠٦
- ٢- **الاحتباس الحراري :** هو ارتفاع درجات حرارة الأرض عن معدلها الطبيعي . (درجه) ص ١٣٣
- ٣- **المنظمة الإقليمية :** مجموعة من الدول تقع في منطقة جغرافية معينة من العالم تنشأ بينها علاقات تدعو الى تكوين منظمة للتعاون فيما بينها في سبيل حل مشاكلها . (درجه) ص ١٤٣



وزارة التربية

الإدارة العامة لمنطقة الجهراء التعليمية

اختبار نهاية الفصل الدراسي الثاني
٢٠١٩ / ٢٠١٨

الصف	التاسع
المادة	الاجتماعيات

كامل
المنهج



مركز منطقة الجه



وزارة التربية
الإدارة العامة لمنطقة الجهراء التعليمية
مكتب المدير العام

ملفات الكويت
التعليمية

kwEdnFiles.com

العام الدراسي : ٢٠١٨ / ٢٠١٩ م
الزمن : ساعة و ٤٥ دقيقة
عدد الأوراق : (٥)

امتحان الفترة الدراسية الثانية
(المنهج الكامل)
لمقرر الكويت والعالم
للفيف التاسع المتوسط

وزارة التربية
الإدارة العامة لمنطقة الجواء التعليمية
التوجيه الفني للاجتماعيات

نموذج الإجابة

أجب عن جميع الأسئلة :

السؤال الأول : ويتكون من (أ - ب)

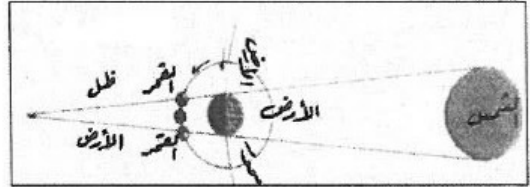
أ- أكمل العبارات التالية بما يناسبها فيما درست : (٦ درجات - لكل نقطة درجة)

- ١- تشكل مساحة اليابسة من مساحة الكرة الأرضية حوالي ٢٩ % ص ٣٣
- ٢- الرحلات التي قام بها الأوروبيون لاكتشاف عوالم جديدة تسمى . الكشوف الجغرافية ص ١١٥
- ٣- بدأت الحرب الجوية لتحرير دولة الكويت في ١٧ يناير عام ١٩٩١ م ص ١٤٨
- ٤- أول حاكم تم اختياره للكويت أسمه صباح بن جابر (صباح الأول) ص ١٠٤
- ٥- بلغ عدد الدول المشتركة في الحرب العالمية الأولى ٣٣ دولة ص ١١٧
- ٦- العالم الذي اخترع جهاز الهاتف هو الكسندر غراهام بل ص ٩٥


ب- ضع عنوانا مناسباً للصور والأشكال التي أمامك :



ص ١٢٨ منظمة أو هيئة الأمم المتحدة



ص ٣١ خسوف القمر



ص ٢٩ أوجه ومنازل القمر



ص ١٢٢ زعيم الشيوعية في روسيا (لينين)

السؤال الثاني : يتكون من (أ - ب)

١- ضع خطاً تحت الخيار الصحيح من بين الخيارات التي تلي كل عبارة : (٥ درجات لكل نقطة درجة)

١- نوع الأمطار الملوثة التي تؤثر على النباتات والحيوانات : ص ٦٦

أ- التضاريسية ب- الإعصارية ج- الحمضية د- الموسمية

٢- الدولة التي تشتهر على مستوى العالم بإنتاجها للصوف : ص ٨٧

أ- أستراليا ب- الهند ج- اليابان د- فرنسا

٣- الجهاز الرئيسي للأمم المتحدة ويضم جميع الدول الأعضاء : ص ١٢٨

أ- مجلس الأمن ب- الأمانة العامة ج- الجمعية العامة د- مجلس الوصاية

٤- نوع التعاون الذي يمثله تعاون الموظفين في نطاق العمل : ص ١١٠

أ- التعاون الأسري ب- التعاون الدفاعي ج- التعاون الجبري د- التعاون الاختياري

٥- أول مرحلة من مراحل العلاقة بين الإنسان والبيئة : ص ٥٥

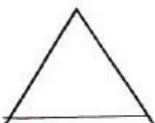
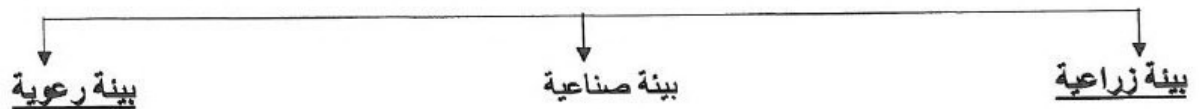
أ- الجمع ب- الصيد والقنص ج- الرعي د- الزراعة

ب- أكمل المخططات السهمية التالية :

١- عناصر المناخ ص ٤١ (٣ درجات - لكل نقطة درجة)



٢- النشاط البشري ص ٥٤ (درجتان - لكل نقطة درجة)



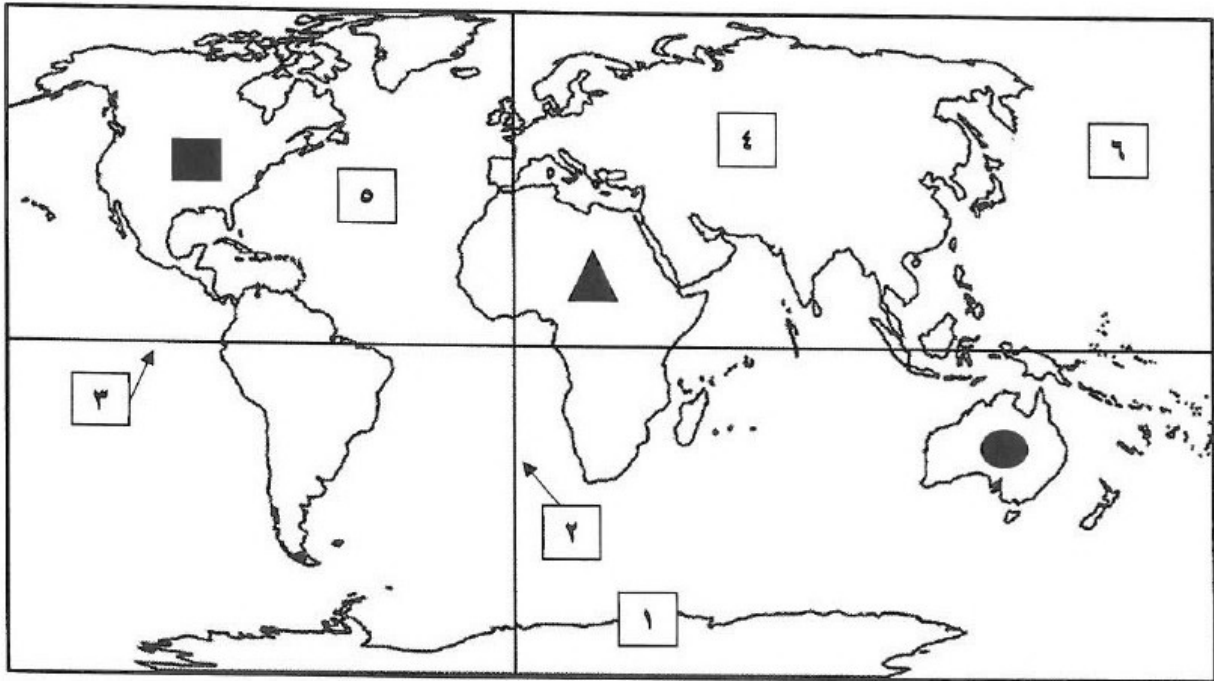
السؤال الثالث : ويتكون من (أ - ب)

أ - صنف الكلمات التالية إلى مكانها المناسب في الجدول الذي يليها : (٤ درجات)

(البكتيريا - الحيوان - الماء - النبات) ص ٥٧

المجموعة الأساسية	مجموعة المحلات	مجموعة المنتجات	مجموعة المستهلكات
الماء	البكتيريا	النبات	الحيوان

ب- لاحظ خريطة العالم التي أمامك ثم أجب عن الأسئلة التي تليها (٦ درجات لكل نقطة درجة)



أولاً : أكتب الرقم الدال على العبارات التالية :

ص ٧٩

ص ٢٣

ص ١٣٤

ص ٧٩

ص ٣٢

ص ٣٥

١- المحيط الهادي يمثله على الخريطة الرقم ٦

٢- خط الطول الرئيسي جرينتش يمثله على الخريطة الرقم ٢

٣- ثقب الأوزون اكتشف فوق القارة التي تحمل رقم ١

ثانياً : حدد كل مما يلي على الخريطة باستخدام الرموز التالية :

١- قارة أفريقيا باستخدام الرمز

٢- أصغر قارات العالم باستخدام الرمز

٣- القاره التي تقع فيها جبال روكي باستخدام الرمز

السؤال الرابع : يتكون من (أ - ب - ج)

أ- أقرأ الفقرة التالية جيدا ثم أجب عما يلي : ص ٦٥ ، ص ٦٦

قام النظام العراقي البائد بإحراق أبار البترول في بلدنا الحبيب ، حيث أدت هذه الحرائق إلى استمرار اشتعال النيران في المئات من الأبار لفترة تسعة أشهر من بعد انتهاء الحرب ونتج عن هذه الحرائق واحدة من أعقد كوارث التلوث البيئي التي عرفها العالم في التاريخ الحديث

١- ضع عنوان مناسب للفقرة السابقة . (درجة)

مايراه المصحح مناسباً

٢- أذكر الفترة الزمنية التي استمر فيها اشتعال أبار النفط الكويتية بعد انتهاء الحرب . (درجة)

تسعة أشهر

٣- عدد بعض الآثار السلبية المترتبة على إحراق أبار البترول . (درجة) (يكتفى بنقطة واحدة)

-التأثير على الحياة النباتية نتيجة تكون امطار حمضية - التأثير على الصحة العامة - التأثير على التربه

ب- علل مايلي :

١- أهمية الغلاف الجوي للكائنات الحية على سطح الكرة الأرضية . ص ٣٧ (درجتان) (يكتفى بنقطتين)

- يحمي الغلاف الجوي سطح الأرض من تساقط بقايا الشهب والنيازك من الفضاء الخارجي
- تنعم الحياة على سطح الأرض بدون الغلاف الجوي ، حيث أن الهواء هو مصدر تكوين السحب والغيوم وهبوب الرياح والأمطار
- يعتمد عليّة الإنسان والحيوان في عملية التنفس لاحتوائه على (الأكسجين)

٢- أختلاف الحرف والأنشطة الاقتصادية بين دول العالم . ص ٦٩ (درجتان) (يكتفى بنقطتين)

- بسبب تنوع الموارد الطبيعية - لاختلاف الظروف الحضارية والعلمية والتكنولوجية بين الدول

٣ - النفط والغاز الطبيعي مادة استراتيجية مهمة في عصرنا الحاضر . ص ١٣٠ (درجتان) (يكتفى بنقطتين)

- توفرهما بكميات كبيرة في مناطق محددة - سهولة نقلها وتخزينها - يعتبران مادتان هامتان وقت السلم والحرب

ج- فرق بين كل مايلي : (٦ درجات)

معدل النمو الطبيعي ص ٨٣ (درجة)	معدل النمو الطبيعي ص ٨٣ (درجة)
زيادة عدد السكان عن طريق الهجرة	معدل المواليد - معدل الوفيات
المناخ ص ٤١ (درجة)	الطقس ص ٤١ (درجة)
الأحوال الجوية وتغيراتها خلال فترة طويلة لاتقل عن ٣٠ سنة	الأحوال الجوية وتغيراتها خلال فترة قصيره يوم او يومين
الترشيد ص ١٠٨ (درجة)	الانذار ص ١٠٨ (درجة)
الاتفاق الأمثل للمال بحيث يتم استخدام أساليب وتدابير حكيمة في عملية الاستهلاك	اقتطاع جزء من الدخل بشرط يأخذ طريقه إلى الاستثمار

السؤال الخامس : يتكون من (أ - ب - ج)

أ - عرف المفاهيم والمصطلحات التالية :- لكل مفهوم درجة (٣ درجات)

- ١ - البيئة : هي الاطار الذي يعيش فيه الانسان ويحصل فيه على مقومات حياته ويتفاعل فيها مع عناصر البيئة الاخرى ص ٥١
 - ٢ - الانفجار السكاني : الزيادة السريعة والمستمره في أعداد السكان التي تؤدي الى استهلاك الإمكانيات المتوفرة من العناصر الطبيعية في البيئة . ص ٦٠
 - ٣ - أنفلونزا الطيور : هو مرض فيروسي يصيب الطيور ، كما يمكن أن يصيب أنواعا أخرى من الحيوانات كالخنزير ، وينتقل الى الانسان عن طريق الطيور المصابة . ص ١٣٦
- ب- قارن بين كل مما يلي : (٤ درجات)

وجه المقارنة	خطوط الطول ص ٢٣	دوائر العرض ص ٢٣
عددها	٣٦٠ (درجة)	١٨٠ (درجة)
الخط الأساسي	خط جرينتش (درجة)	خط الاستواء (درجة)

ج - ما النتائج المترتبة على كلا من :

١ - قيام الحرب العالمية الأولى : يكتفى بنقطتين (درجتين) ص ١١٩

- ١ - اختفاء أربعة امبراطوريات (الألمانية ، الروسية ، النمساوية ، التركية) .
 - ٢ - فرض غرامه ماليه على الدول المهزومه .
 - ٣ - فرض القيود على الجيش والاسطول الألماني من حيث العدد والتسليح وفقدان ألمانيا لأجزاء من أراضيها وتجريدها من كافة مستعمراتها.
- ٢ - ظاهرة الاحتباس الحراري : يكتفى بنقطتين (درجتين) ص ١٣٤
- ١ - ارتفاع درجة حرارة سطح الأرض مع ازدياد الملوثات الهوائية .
 - ٢ - ذوبان الجليد في المناطق تاقطبية والمرتفعات الجبلية مما يؤدي لحدوث الفيضانات وارتفاع مناسيب مياه الأنهار والبحار والمحيطات .
 - ٣ - حدوث الجفاف والتصحر في بعض المناطق .

٣ - جهود المؤسسات الخيرية الكويتية : يكتفى بنقطتين (درجتين) ص ١٤٥

- ١ - تقديم المساعدات المادية والمعينية والهيئات لضحايا الحروب والكوارث الطبيعية والمجاعات اللاجئين في اسرع وقت .
- ٢ - إقامة مشاريع تنمية (زراعية - صناعية) وتشغيل الايدي العاملة .
- ٣ - بناء المساجد والمرتكز الإسلامية والمدارس والمستشفيات في كثير من دول العالم .

٤ - الدورة المحورية للأرض : يكتفى بنقطتين (درجتين) ص ٢٦

- ١ - تعاقب حدوث الليل والنهار .
- ٢ - تعاقب الحرارة والبرودة .
- ٣ - اختلاف التوقيت بين مناطق الأرض .