

تم تحميل هذا الملف من موقع ملفات الكويت التعليمية



[com.kwedufiles.www//:https](https://www.kwedufiles.com)

\*للحصول على أوراق عمل لجميع الصفوف وجميع المواد اضغط هنا

\* للحصول على أوراق عمل لجميع مواد الصف الخامس اضغط هنا

<https://kwedufiles.com/5>

\* للحصول على جميع أوراق الصف الخامس في مادة علوم ولجميع الفصول, اضغط هنا

<https://kwedufiles.com/5science>

\* للحصول على أوراق عمل لجميع مواد الصف الخامس في مادة علوم الخاصة بـ الفصل الأول اضغط هنا

<https://www.kwedufiles.com/5science1>

\* لتحميل كتب جميع المواد في جميع الفصول للـ الصف الخامس اضغط هنا

<https://www.kwedufiles.com/grade5>

للحصول على جميع روابط الصفوف على تلغرام وفيسبوك من قنوات وصفحات: اضغط هنا [bot\\_kwlinks/me.t//:https](https://t.me/bot_kwlinks)

الروابط التالية هي روابط الصف الخامس على مواقع التواصل الاجتماعي

مجموعة الفيسبوك

صفحة الفيسبوك

مجموعة التلغرام

بوت التلغرام

قناة التلغرام

رياضيات على التلغرام



وزارة التربية

الإدارة العامة لمنطقة مبارك الكبير التعليمية

كنترول مبارك الكبير

امتحانات الفصل الدراسي الأول  
٢٠٢٠ / ٢٠١٩

الصف	الخامس
المادة	العلوم



المجال الدراسي : علوم

وزارة التربية

الزمن : ساعة واحدة

الإدارة العامة لمنطقة مبارك الكبير التعليمية

عدد الأوراق : ٥

التوجيه الفني للعلوم

امتحان نهاية الفترة الدراسية الأولى في مادة العلوم

للفيف الخامس الابتدائي

العام الدراسي ٢٠١٩ | ٢٠٢٠ م

نموذج إجابة

أولاً : الأسئلة الموضوعية (٢٤ درجة)

السؤال الأول : اختر الإجابة الصحيحة علمياً لكل من العبارات التالية بوضع

علامة (✓) في المربع المقابل لها:

١- تستغرق الأرض لتدور حول نفسها دورة كاملة:

①

٣٤ ساعة ☐

٣٠ ساعة ☐

٢٤ ساعة ☒

٢٠ ساعة ☐

٢- يوجد غاز الأكسجين في الغلاف الجوي بنسبة :

①

٥٠ % ☐

٢١ % ☒

١٥ % ☐

١٠ % ☐

٣- تطفو مكونات الدم في سائل أصفر هو :

①

خلايا الدم البيضاء ☐

خلايا الدم الحمراء ☐

الاجسام المضادة ☐

البلازما ☒

٤- الوعاء الدموي الذي ينقل الدم من القلب إلى أنحاء الجسم المختلفة هو :

①

الشعيرات الدموية ☐

الشريان ☒

الصفائح الدموية ☐

الوريد ☐

٥- الإجراءات التي يمكن تقديمها للمصاب في مكان الحادث قبل الوصول إلى المركز الصحي :

①

إسعافات الأولية ☒

تحريك المصاب ☐

إطعام المصاب ☐

تمارين رياضية ☐



**السؤال الثاني: أكتب بين القوسين كلمة ( صحيحة ) للعبارة الصحيحة وكلمة ( خطأ ) للعبارة غير الصحيحة في كل مما يأتي:**

١. النجوم ينبعث منها وميض لأنها ذاتية الإضاءة . (.....صحيحة.....) ①
٢. تنتمي الشمس والأرض وبقية الكواكب إلى مجرة درب التبانة . (.....صحيحة.....) ①
٣. كوكب المريخ هو أكبر كواكب المجموعة الشمسية. (.....خطأ.....) ①
٤. استخدام المبيدات الحشرية يؤدي إلى زيادة تلوث الهواء الجوي . (.....صحيحة.....) ①
٥. في عملية الزفير يهبط الحجاب الحاجز إلى أسفل فيزيد حجم الرئتين. (.....خطأ.....) ①

**السؤال الثالث : في الجدول التالي اختر العبارة من المجموعة ( ب ) وأكتب رقمها أمام ما يناسبها من عبارات المجموعة ( أ ) :**

الرقم	المجموعة ( أ )	المجموعة ( ب )
( ٣ )	أكثر طبقات الغلاف الجوي برودة وتحمي الأرض من الشهب القادمة من الفضاء ①	١. ستراتوسفير
( ٢ )	أكثر طبقات الغلاف الجوي حرارة وتعكس موجات الراديو ①	٢. تيرموسفير
		٣. ميزوسفير

الرقم	المجموعة ( أ )	المجموعة ( ب )
( ١ )	نسيج قوي مرن يمسك العظام عند المفاصل. ①	١. الرباط
( ٣ )	تمنع احتكاك العظام ببعضها . ①	٢. العمود الفقاري
		٣. الغضاريف



**السؤال الرابع : أكتب بين القوسين الإسم أو المصطلح العلمي الدال على كل**

١٠

**عبارة من العبارات التالية :-**

١. كل جسم موجود في الفضاء الخارجي . (الجسم الفلكي / السماوي) ٣٦
٢. غاز ينشأ بتأثير الأشعة فوق البنفسجية ويتكون من ثلاث ذرات أكسجين . (الأوزون) ٤٤
٣. ينتج عن فقدان الدم من الجهاز الدوري بسبب تمزق الاوعية الدموية . (النزيف) ١٧
٤. يحدث نتيجة فقدان الشخص لوعيه تماما . (الدغاء) ١٧
٥. ظاهرة علمية تتمثل بازدياد حرارة الغلاف الجوي للكرة الأرضية . (الاحتباس الحراري) ٩٧

**ثانياً: الأسئلة المقالية (١٦ درجة)**

**السؤال الخامس : اقرأ العبارات التالية ثم صحح ما تحته خط لتصبح صحيحة علمياً :**



١. الغلاف الجوي يحيط بالأرض بسبب وجود الجبال . (الجاذبية الأرضية) ٤٣
٢. الماء يغطي كوكب الأرض بنسبة تبلغ ٣٠ % . (٧١٪) ٤٤
٣. الجهاز الهضمي يزود الخلايا بالأكسجين ويخلص الجسم من ثاني أكسيد الكربون . (الجهاز التنفسي) ٥٨

**السؤال السادس :**

٢

- اذكر بعض الخطوات التي يجب اتباعها عند إصابة زميلك بجرح بسيط أثناء اللعب :



١. وضع مناداة على الجرح / وضع شاش مطعّم . ١٢
٢. غسل الجرح / ربط الجرح / تغطية الجرح . ١٢



السؤال السابع : أكمل جدول المقارنة التالية :

٢

أوجه الاختلاف	طبقة تروبوسفير ①	طبقة ستراتوسفير ①
وجود الظواهر الجوية	تحدث فيها معظم الظواهر الجوية كالأمطار والغيوم والهباء	تخلو من الظواهر الجوية لا توجد أمطار ولا هباء

٣٧ ص

السؤال الثامن : علل لما يأتي تعليلاً علمياً سليماً :

٢

١- يمتاز كوكب عطارد بارتفاع درجة حرارته .

①

بسبب قربه من الشمس

٣٤ ص

٢- عندما تتمرن يخفق قلبك خفقاناً سريعاً.


①

لأنه العضلات تحتاج إلى المزيد من الأكسجين والمغذيات

٣١ ص


السؤال التاسع : اربط بين ما يلي :

١



الكواكب

①



٣١ ص

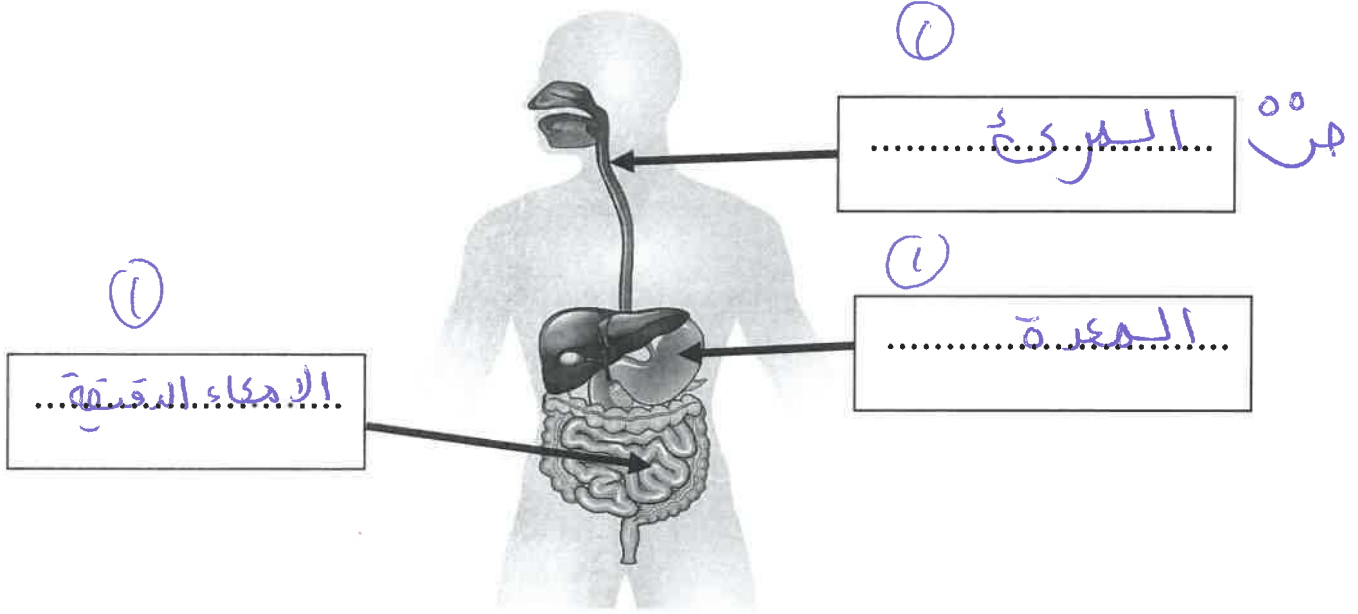
تدور الكواكب حول الشمس في مدارات ذات شكل بيضاوي

أو اهليلجي

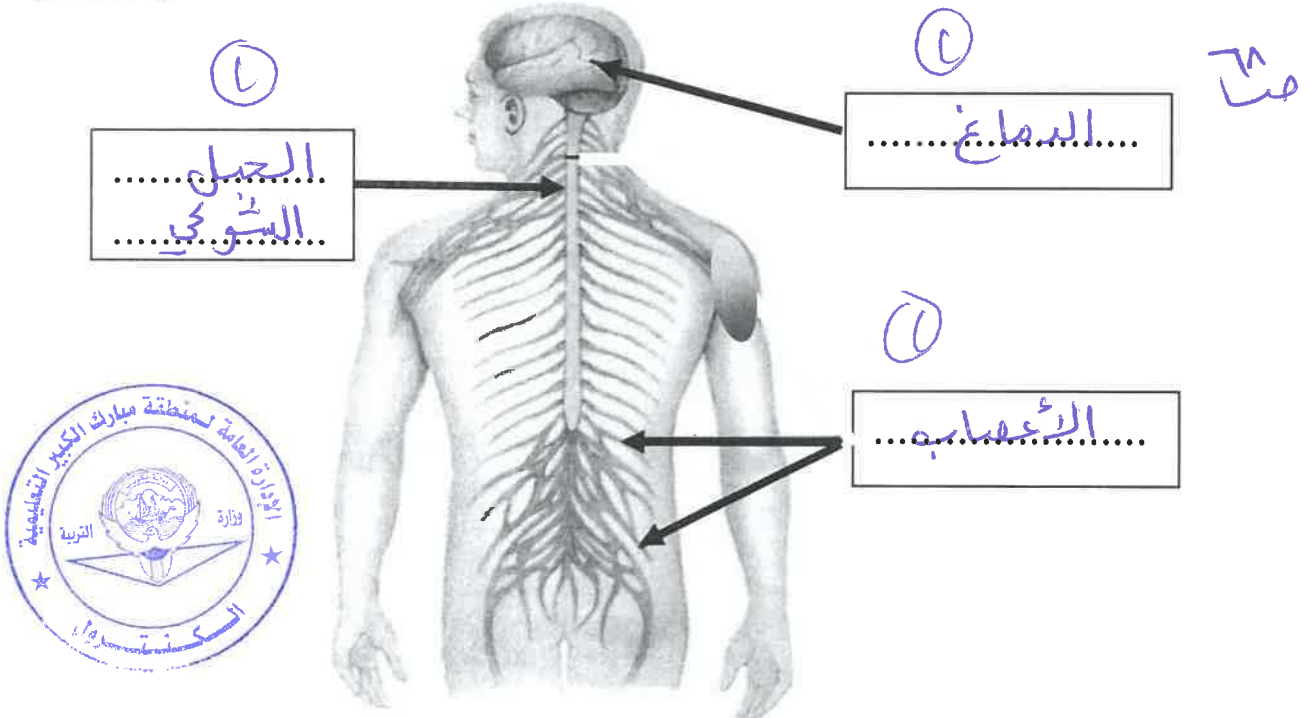
**السؤال العاشر : أكتب البيانات على الرسوم التالية:**

٣

(أ) - الرسم التالي يوضح الجهاز الهضمي في جسم الإنسان



(٢) - الرسم التالي يوضح الجهاز العصبي في جسم الإنسان



انتهت الأسئلة