

تم تحميل هذا الملف من موقع المناهج الكويتية



عيدة الشمري

الملف اختبار تحصيلي أول

[موقع المناهج](#) ⇨ [المناهج الكويتية](#) ⇨ [الصف الثاني](#) ⇨ [تربية اسلامية](#) ⇨ [الفصل الثاني](#)

روابط مواقع التواصل الاجتماعي بحسب الصف الثاني



روابط مواد الصف الثاني على تلغرام

[الرياضيات](#)


[اللغة الانجليزية](#)

[اللغة العربية](#)

[التربية الاسلامية](#)

المزيد من الملفات بحسب الصف الثاني والمادة تربية اسلامية في الفصل الثاني

اوراق عمل	1
ورقة عمل لمادة الاسلامية	2
نموذج اختبار مهم ومفيد في مادة التربية الاسلامية	3
تحميل كتاب الطالب	4
ورقة عمل للتربية الاسلامية	5



الاختبار التحصيلي الاول للصف الثاني

الفصل الدراسي الثاني للعام 2024-2025





نموذج (٢) اختبار تحصيلي (١)
في مادة الرياضيات للصف (الثاني)
الفصل الدراسي الثاني للعام ٢٠٢٤ - ٢٠٢٥



وزارة التربية
الإدارة العامة لمنطقة حولي التعليمية
التوجيه الفني للرياضيات

السؤال الأول:

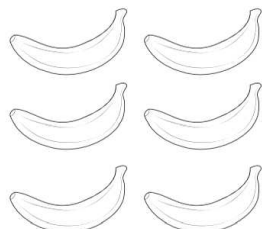
(أ) قسم إلى مجموعات متساوية. أكمل.



$$\underline{\hspace{2cm}} = \underline{\hspace{2cm}} \div \underline{\hspace{2cm}}$$

$$\underline{\hspace{2cm}} = \underline{\hspace{2cm}} \div \underline{\hspace{2cm}}$$

(ب) لون ما يمثل الثلث.

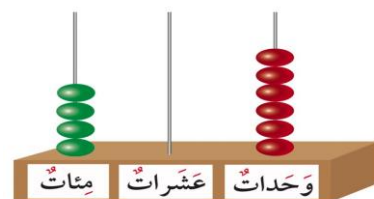



السؤال الثاني:

(أ) أكمل الرسم لتحصل على مجموعات متساوية.



(ب) اكتب رمز العدد.




(ج) أكمل.

$$\underline{\hspace{2cm}} + \underline{\hspace{2cm}} + \underline{\hspace{2cm}} = ١٠٤$$

السؤال الثالث:

(أ) أرسم عقربى الساعة اللذين


يدلان على الوقت.



الساعة الرابعة والنصف

(ب) أكتب الوقت الذي تشير إليه

الساعة بطريقتين مختلفتين.



:

الساعة

السؤال الرابع:

أولاً: حوّل الإجابة الصحيحة.

(١) الشهر الذي نحتفل فيه بالعيد الوطني هو

فبراير

يوليو

مارس

(٢) القيمة المكانية للرقم ٨ في العدد ٦٩٨ هي

٨٠٠

٨٠

٨

(٣) ١٥ 🐠 وزعت على ٣ 🐟 بالتساوي فكم 🐠 في كل حوض

٣

٥

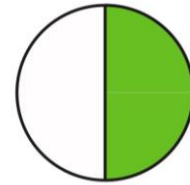
١٥

ثانياً: صل كل شكل بالكلمة المناسبة.

ربع

•

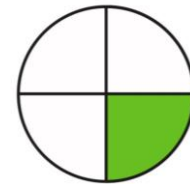
•



نصف

•

•



انتهت الأسئلة نتمنى لكم التوفيق،،،



نموذج (٢) اختبار تحصيلي (١)
في مادة الرياضيات للصف (الثاني)
الفصل الدراسي الثاني للعام ٢٠٢٤ - ٢٠٢٥



وزارة التربية
الإدارة العامة لمنطقة حولي التعليمية
التوجيه الفني للرياضيات

السؤال الأول:

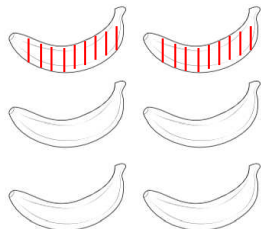
(أ) قسم إلى مجموعات متساوية. أكمل.



$$4 = 2 \div 8$$

$$2 = 4 \div 8$$

(ب) لون ما يمثل الثلث.




السؤال الثاني:

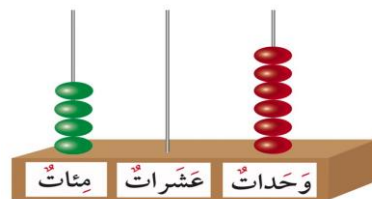
(أ) أكمل الرسم لتحصل على مجموعات متساوية.



(ب) اكتب رمز العدد.



١٠٠٠



٤٠٦

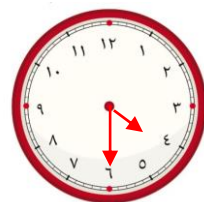
(ج) أكمل.

$$100 + 0 + 4 = 104$$

السؤال الثالث:

(أ) أرسم عقربى الساعة اللذين

يدلان على الوقت.



الساعة الرابعة والنصف

(ب) أكتب الوقت الذي تشير إليه

الساعة بطريقتين مختلفتين.



٦ : ٠٠

الساعة السادسة

السؤال الرابع:

أولاً: حوّل الإجابة الصحيحة.

(١) الشهر الذي نحتفل فيه بالعيد الوطني هو

فبراير

يوليو

مارس

(٢) القيمة المكانية للرقم ٨ في العدد ٦٩٨ هي

٨٠٠

٨٠

٨

(٣) ١٥ 🐠 وزعت على ٣ 🐟 بالتساوي فكم 🐠 في كل حوض

٣

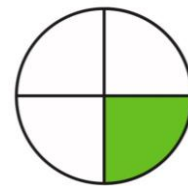
٥

١٥

ثانياً: صل كل شكل بالكلمة المناسبة.

ربع

نصف



انتهت الأسئلة نتمنى لكم التوفيق،،،