

تم تحميل هذا الملف من موقع المناهج الكويتية



محمد البلاطي

الملف أسئلة اختبار القصير الأول من منصة البلاطي

[موقع المناهج](#) ⇨ [المناهج الكويتية](#) ⇨ [الصف السادس](#) ⇨ [اجتماعيات](#) ⇨ [الفصل الثاني](#)

روابط مواقع التواصل الاجتماعي بحسب الصف السادس



روابط مواد الصف السادس على تلغرام

[الرياضيات](#)

[اللغة الانجليزية](#)

[اللغة العربية](#)

[التربية الاسلامية](#)

المزيد من الملفات بحسب الصف السادس والمادة اجتماعيات في الفصل الثاني

مراجعة	1
مراجعة	2
مراجعة	3
مذكرة في مادة الاجتماعيات	4
مراجعة محلولة ومفيدة في مادة الاجتماعيات	5

توقعات ليلة الامتحان أسئلة امتحانات تجريبية قصير (أ)



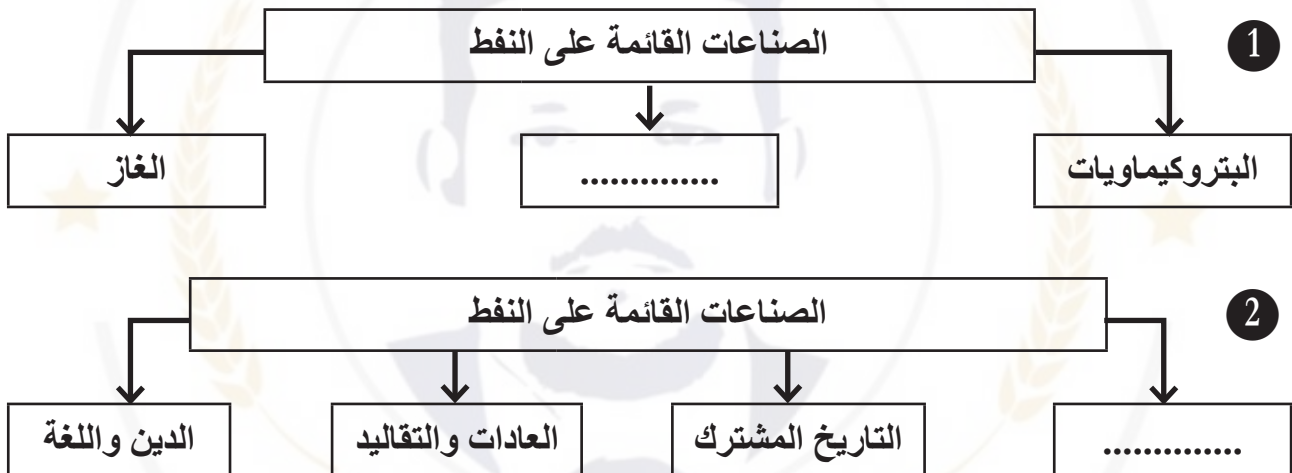
الدراسات الاجتماعية
الكويت ودول
الخليج العربية
الفصل الدراسي الثاني
2025 - 2024



السؤال الأول: أكمل العبارات التالية بما يناسبها: (4 درجات)

- 1 - دولة خليجية تحتل المركز الأول في عدد السكان هي
- 2 - أعلى دولة خليجية في نسبة الوافدين هي
- 3 - مجموعة من الناس تشترك فيما بينها في الصفات الجسمانية هي
- 4 - تم تصدير أول شحنة للنفط في عام

السؤال الثاني: أكمل المخططات السهمية التالية: (2 درجة)



السؤال الثالث: قارن بين كل مما يلي: (4 درجات)

أسباب التلوث الضوضائي	أسباب التلوث المائي
.....
.....

السؤال الأول: وزع الهجرات الآتية حسب مكانها الصحيح في الجدول: (6 درجات)

(آل الصباح – آل خليفة – قبائل الأزدي – القواسم – المعاضيد – بني ياسي)

الهجرة
مكان الاستقرار	قطر	عمان	البحرين	رأس الخيمة	الكويت	أبوظبي

السؤال الثاني: أكتب فيما يلي مما درست: (4 درجة)

١ أنواع الهجرات:

.....

٢ العوامل التي ساعدت على زيادة أعداد الوافدين في دول الخليج العربية:

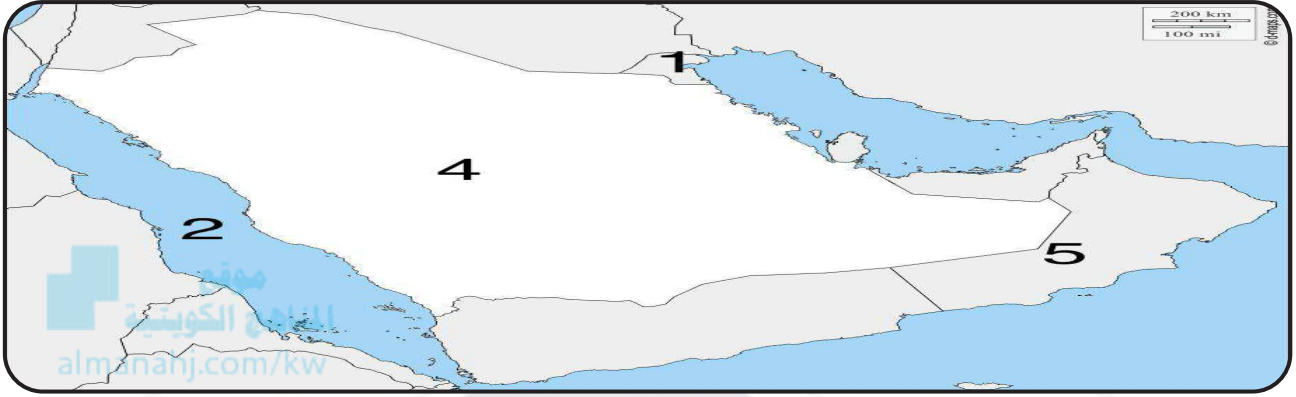
.....

.....

٣ فسر الثقافة:

.....

السؤال الأول: على خريطة شبه الجزيرة العربية السماء (4 درجة)
التي أمامك نفذ ما يطلب منك:



- ١ أقل الدول الخليجية في نسبة الوافدين تحمل الرقم (.....)
- ٢ مسطح البحر الأحمر يحمل الرقم (.....)
- ٣ ظهرت حضارة هيلي في دولة (.....)
- ٤ يوجد سهل الباطنة في دولة تحمل على الخريطة الرقم (.....)

السؤال الثاني: صحح ما تحته خط: (2 درجة)

- ١ نجحت المملكة العربية السعودية في إنتاج محصول القطن. (.....)
- ٢ الطبقة التي تحمي الأرض والأحياء من خطر الأشعة فوق بنفسجية هي طبقة التروبوسفير. (.....)

السؤال الثالث: عدد ما يلي: (4 درجة)

- ١ أنواع التلوث:

.....
.....

- ٢ مظاهر التعاون الاقتصادي بين دول الخليج العربية:

.....
.....

السؤال الأول: اختر الإجابة الصحيحة من بين الأقواس: (3 درجة)

١ الدولة التي يوجد بها مقر قوات درع الجزيرة هي:

الكويت ☐ السعودية ☐ قطر ☐ عمان ☐

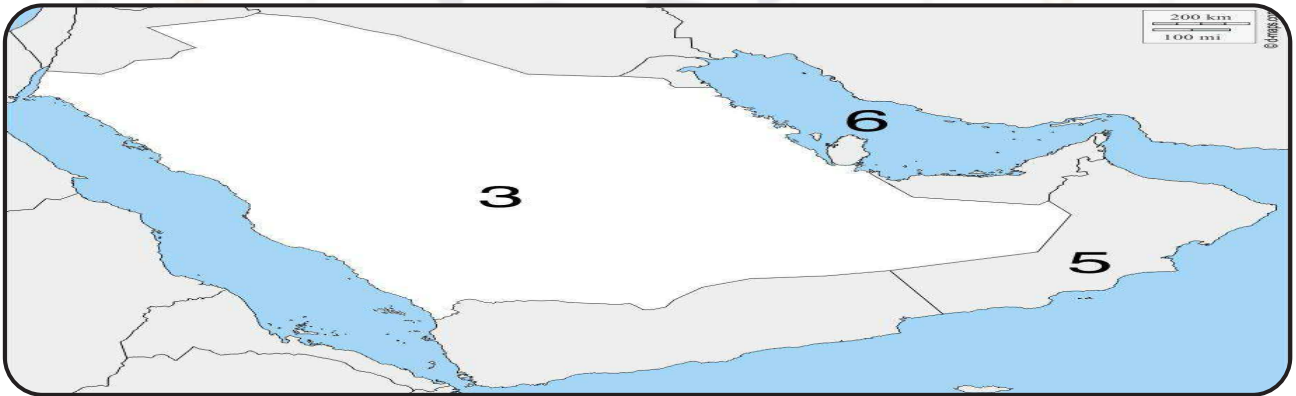
٢ المدينة التي تم فيها الإعلان عن قيام السوق الخليجية المشترك هي:

الدوحة ☐ الكويت ☐ أبوظبي ☐ الرياض ☐

٣ العام الذي قام فيه النظام العراقي البائد بغزو دولة الكويت هو:

1990 ☐ 1991 ☐ 1992 ☐ 1993 ☐

السؤال الثاني: على خريطة شبه الجزيرة العربية الصماء التي أمامك نفذ ما يطلب منك: (3 درجة)



١ أكبر دولة خليجية من حيث المساحة تحمل الرقم (.....)

٢ الخليج العربي يحمل على الخريطة الرقم (.....)

٣ توجد منطقة لبوا الزراعية في دولة (.....)

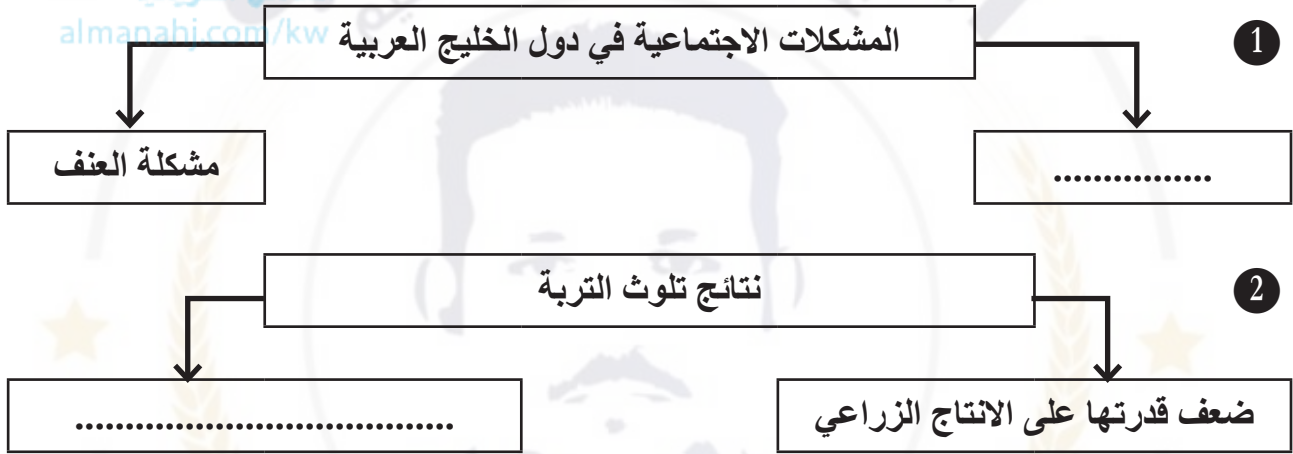
السؤال الثالث: قارن بين كل مما يلي: (4 درجة)

إنتاج النفط	إحتياطي النفط
.....
الزراعة بدون تربة	بيوت بلاستيكية
.....

السؤال الأول: صح ما تحته خط: (2 درجة)

- ١ يوجد سهل الباطنة في دولة الامارات. (.....)
- ٢ بدأ التنقيب عن النفط في دولة الكويت عام 1934م في حقل برقان. (.....)
- ٣ توجد منطقة الأحساء في دولة قطر. (.....)

السؤال الثاني: أكمل المخططات السهمية التالية: (2 درجة)



السؤال الثاني: صح ما تحته خط: (2 درجة)

- ١ نجحت المملكة العربية السعودية في إنتاج محصول القطن. (.....)
- ٢ الطبقة التي تحمي الأرض والأحياء من خطر الأشعة فوق بنفسجية هي طبقة التربوسفير. (.....)

السؤال الثالث: علل لما يأتي: (4 درجة)

- ١ استقبال حوض الخليج العربي موجات سكانية من كل المناطق.
.....
- ٢ عدد مصادر تلوث الهواء.
.....
- ٣ فسر العمال المنزلية:
.....

اسم الطالب /
الشعبة /

السؤال الأول: اختر من العمود (أ) ما يناسبه من العمود (ب) (3 درجة)

العمود (ب)	الرقم	العمود (أ)
الاقتصادي	١ بدأ التنقيب عن النفط بدولة الكويت في عام
السياسي	٢ تم تصدير أول شحنة للنفط في عهد الشيخ
الصناعة	٣ تحويل المواد الخام إلى مواد مصنعه يمكن الاستفادة منها
أحمد الجابر	٤ إدانة احتلال الجزر الاماراتية الثلاث من مظاهر العدوان
1934	
1946	

السؤال الثاني: ضع علامة (✓) أو (X) أمام العبارات التالية: (3 درجة)

- ١ مجموع الدخول التي تحصل عليها الدولة خلال عام هو الدخل القومي. (.....)
- ٢ ترجع أصول السلالات السكانية في منطقة الخليج العربية إلى جنس البحر المتوسط وغرب أفريقيا. (.....)

السؤال الثالث: (4 درجة)

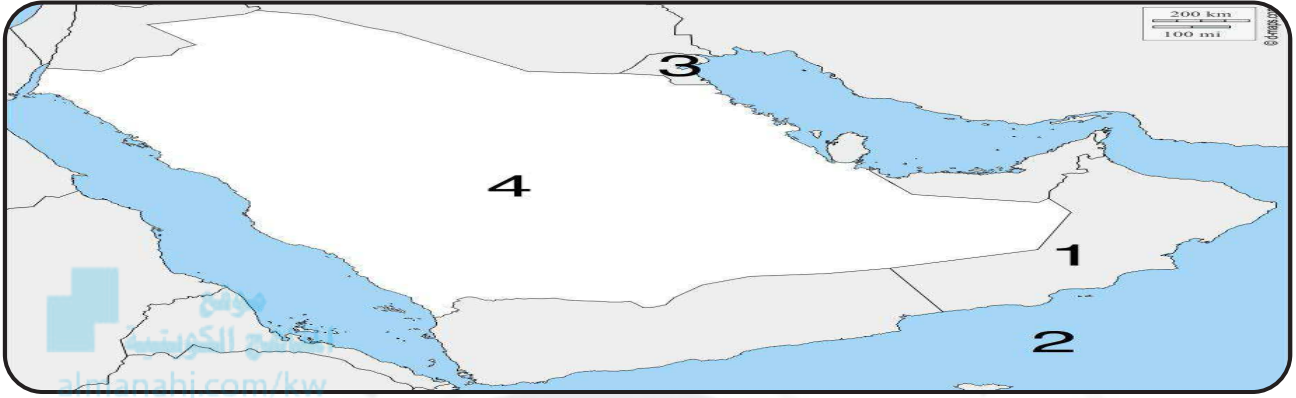
١ عدد الروابط التي تربط بين أبناء دول الخليج العربية:

.....
.....
.....
.....

٢ عدد مظاهر التعاون الثقافي بين دول الخليج العربية:

.....
.....
.....

السؤال الثاني: على خريطة شبه الجزيرة العربية الصماء (3 درجة)
التي أمامك نفذ ما يطلب منك:



- ١ مقر مكتب التربية العربي في مدينة (.....)
- ٢ بحر العرب يحمل على الخريطة الرقم (.....)
- ٣ أعلى دولة في نسبة المواطنين تحمل على الخريطة الرقم (.....)
- ٤ الدولة التي ظهرت بها حضارة (ودبا) يحمل على الخريطة الرقم (.....)

السؤال الثاني: ضع علامة (✓) أو (X) أمام العبارات التالية: (3 درجة)

- ١ البضائع والسلع التي تشتريها دولنا من الخارج. (.....)
- ٢ عدد المواليد - عدد الوفيات (.....)

السؤال الثالث: قارن بين (4 درجة)

التلوث الهوائي	التلوث
.....
الترانزيت	الصادرات
.....

السؤال الأول: أكمل العبارات التالية بما يناسبها: (4 درجات)

- 1 - العام الذي تعرضت فيه الكويت للغزو العراقي هو 1990م.
- 2 - ترجع أصول السلالات السكانية في منطقة الخليج العربية إلى جنس البحر المتوسط وشرق
- 3 - المركز الذي تحتله الكويت بين دول الخليج العربية من حيث عدد السكان
- 4 - مقر قوات درع الجزيرة في مدينة
- 5 - إعلان قيام السوق الخليجية المشتركة في عام
- 6 - عدد الآبار الكويتية المحترقة أثناء الغزو العراقي بنراً.

السؤال الثالث: علل لما يأتي: (4 درجة)

١ زيادة عدد الوافدين في دول الخليج العربية.

.....

.....

.....

.....

٢ قياد دول الخليج بإقامة العديد من الموانئ النفطية.

.....

.....

.....

.....



احرص على اقتناء سلسلة منصة البلاطي

- كتاب الشرح.
- كتاب الأسئلة.
- كتاب إجابة الأسئلة.
- المراجعة النهائية (الأسئلة - الإجابة).
- توقعات ليلة الامتحان (الأسئلة - الإجابة).
- كبسولة ليلة الامتحان.
- برشامة ليلة الامتحان.

موقع
المناهج الكويتية
almanahj.com/kw



6 الدراسات الاجتماعية الكويت ودول الخليج العربية

الفصل الدراسي الثاني
2025 - 2024

استمتع بتجربة التعلم
مع منصة البلاطي

