

تم تحميل هذا الملف من موقع المناهج الكويتية



الملف نماذج الإجابة لأسئلة في التاريخ

[موقع المناهج](#) ← [ملفات الكويت التعليمية](#) ← [الصف العاشر](#) ← [اجتماعيات](#) ← [الفصل الأول](#)

روابط مواقع التواصل الاجتماعي بحسب الصف العاشر



روابط مواد الصف العاشر على تلغرام

[الرياضيات](#)

[اللغة الانجليزية](#)

[اللغة العربية](#)

[التربية الاسلامية](#)

المزيد من الملفات بحسب الصف العاشر والمادة اجتماعيات في الفصل الأول

[كتاب تاريخ الكويت الطبعة الأولى](#)

1

[نموذج إجابة امتحان الفترة الأولى مقرر التاريخ](#)

2

[نموذج إجابة امتحان نهاية الفصل الأول تاريخ دولة الكويت](#)

3

# نماذج اختبارات

## الفصل الأول

2026



تاريخ الكويت

الصف العاشر

مطولة



تجميع وإعداد

أ. محمد علي

٥٠٢٤٨٤٨١



واتساب



TikTok



تليجرام



سلسلة

(أ-أ. محمد علي)  
(مديتر تاريخ)

الاجتماعيات

والتاريخ

والجغرافيا

والفلسفة

وعلم النفس

نموذج إجابة امتحان نهاية الفترة الدراسية الأولى

العام الدراسي : ٢٠٢٤ - ٢٠٢٥ م  
الزمن : ساعتان وربع  
عدد الأوراق : ٣

مقرر تاريخ دولة الكويت  
للمصف العاشر



أجب على جميع الأسئلة

السؤال الأول موضوعي ويتكون من ( أ ، ب ، ج ) :-

٣ درجات ( درجة لكل نقطة ) : أكمل العبارات التالية بما يناسبها :

١. الحضارة التي قامت في منطقة الصبية تسمى ..... العبيد ..... ص ٥٦
٢. أكبر الجزر الكويتية من حيث المساحة الجغرافية تسمى .... بوبيان ... ص ٢٦
٣. الشيخ الذي تم في عهده تأسيس أول مستشفى في الكويت عام ١٩١١م اسمه ... الشيخ مبارك الصباح ... ص ٩٤

٣ درجات ( درجة لكل نقطة ) : ظل الخيار الصحيح من بين الخيارات التي تلي كل عبارة :

١. الشيخ الذي تم في عهده أول تعداد للسكان في دولة الكويت : ص ٣٤

عبدالله السالم الصباح	صباح السالم الصباح	جابر الأحمد الصباح	سعد العبدالله الصباح
-----------------------	--------------------	--------------------	----------------------

٢. خط سكة الحديد ( مشروع كابنيست ) سعى لتحقيقه : ص ٩٦

الألمان	الروس	البريطانيون	العثمانيون
---------	-------	-------------	------------

٣. رئيس البحارة والمسؤول عن إدارة السفينة في الداخل : ص ٤٥

النوخدة	الغيص	النهام	المجدي
---------	-------	--------	--------

( ج ) أكتب المفهوم الدال على العبارات التالية : درجتان ( درجة لكل نقطة )

م	المفهوم	العبارة
١	العنوب	مجموعة من العشائر أو الأسر التي تنتمي إلى عدة قبائل من أبرزها قبيلة عنزة . ص ٦٧
٢	الحياك	الشخص الذي يقوم بخياطة الملابس كالبيشوت . ص ٥٣



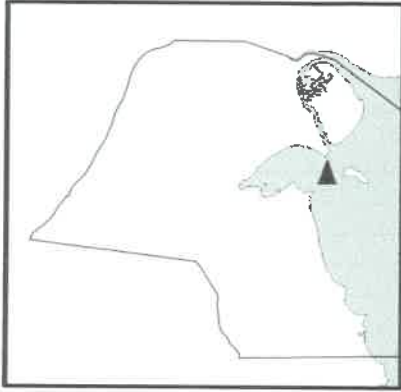
لتزول اسم احمي  
لجنة تقدر الدرجات

السؤال الثاني مقالي ويتكون من ( أ ، ب ، ج ) :-

ثلاث درجات ( درجة لكل نقطة )

( أ ) اقرأ الفقرة التالية ثم أجب عما يليها من أسئلة:

وقعت معركة الرقة البحرية بين الكويت وبنو كعب عام ١٧٨٣م بعد ازدهار الكويت تجارياً واقتصادياً لاسيما بعد أن أصبح ميناؤها مفضلاً من قبل بعض التجار، حيث أثار ذلك غيرة بعض القوى القريبة، وعلى رأسهم بنو كعب .



ص ٧١ - ٧٢

١. ضع عنواناً مناسباً للفقرة السابقة :

معركة الرقة البحرية - ما يراه المصحح مناسباً .

٢. علل حدوث معركة الرقة البحرية .

بعد ازدهار الكويت تجارياً واقتصادياً أصبح ميناؤها مفضلاً من قبل بعض التجار مما أثار ذلك غيرة بعض القوى القريبة وعلى رأسهم بنو كعب .

٣. عين على الخريطة المقابلة موقع معركة الرقة البحرية باستخدام الرمز (▲)

٤ درجات ( درجة لكل نقطة )

( ب ) قارن بين كل من:

وجه المقارنة	الدشة ص ٤٤	القفال ص ٤٤
التعريف	بداية موسم الغوص على اللؤلؤ	نهاية موسم الغوص على اللؤلؤ
الشهر	مايو	سبتمبر أو أكتوبر

ثلاث درجات ( درجة لكل نقطة )

( ج ) علل لما يلي :

ص ٥٧

١. الأهمية الأثرية لجزيرة فيلكا . (يكتفى بنقطتين)

- وجود القلعة الهلينستية وتل الخزنة الذي كان مكاناً مقدساً عند الإغريق / العملات النحاسية / عثر بها على العديد من الكتابات على الصخور كحجر إيكاروس / تعتبر مركزاً من مراكز حضارة دلمون القديمة.

- الأختام المستديرة / معابد حولها وحدات سكنية / عثر على أكثر من ٤٠٠ ختم دلموني / كانت تؤدي دور الوسيط التجاري بين حضارات الهند وحضارة بلاد الرافدين.

ص ٤٠

٢. اتجاه معظم السكان الكويتيين قديماً للعمل في النشاط البحري . (يكتفى بنقطة واحدة)

- تقع الكويت في منطقة صحراوية قليلة الموارد شحيحة الأمطار، و أراضيها غير صالحة للزراعة .



مركز الأقسام العلمي  
لمجلة تقدير الدرجات



السؤال الثالث مقالتي ويتكون من ( أ ، ب ، ج ) :-

( أ ) لاحظ الجدول المقابل ، ثم أجب على الأسئلة التالية :

ص ٣٥

د

نسب السكان في دولة الكويت عام ١٩٩٠م	
الكويتيين	٢٨٪
غير الكويتيين ( الوافدين )	٧٢٪



١. علل تعرض وضع السكان في دولة الكويت لتغييرات كبيرة في عام ١٩٩٠م.  
- نتيجة للعدوان والاحتلال العراقي الغاشم لدولة الكويت وما تبع ذلك من عودة كبيرة للوافدين من العرب وغيرهم إلى أوطانهم.

٢. حول نسبة السكان غير الكويتيين ( الوافدين ) في عام ١٩٩٠م إلى دائرة بيانية.

٤ درجات ( درجة لكل نقطة )

( ب ) فرق بين كل من :

السرايات ( العواصف الترابية ) ص ٣٢	السموم ص ٣٢
رياح تهب في أواخر الربيع وأوائل الصيف فتثير الغبار مصحوبة عادة بعواصف رعدية يسقط بسببها المطر الشديد في أواخر الربيع وأوائل الصيف .	رياح جافة جداً تهب في الظهيرة، حيث تنخفض معها الرطوبة النسبية، وهذه الرياح ذات درجات حرارة عالية تهب من الشمال أو الشمال الشرقي في فصل الصيف وإذا كانت هذه الرياح نشطة فإنها تثير الأتربة والرمال .
النهام ص ٤٥	الطواش ص ٤٥
الشخص الذي ينشد المواويل تشجيعاً لطاقم السفينة في رحلتهم .	تاجر اللؤلؤ

٤ درجات ( درجة لكل نقطة )

( ج ) أكتب فيما يلي :

- العوامل التي ساعدت على ازدهار صناعة السفن في دولة الكويت . ( يكتفى بنقطتين ) ص ٤١
  - هبوب الرياح الموسمية على منطقة الخليج العربي والتي ساعدت على دفع السفن نحو شواطئ الهند وشرق آسيا / براعة الأسانذة والقلاليف فالأستاذ هو الذي يقوم بتصميم السفينة ويأتي القلاف في المرتبة الثانية وهو الذي يقوم بعملية إعداد المواد اللازمة للصناعة ثم عملية بناء السفينة نفسها .
  - توفر الأيدي العاملة لصناعة السفن / تمتع الكويت بواجهة بحرية طويلة تمتد من شمالها إلى جنوبها ويتخللها العديد من التعرجات . / توفر مصادر المواد المستخدمة في صناعة السفن .
- أحد أعمال الحاكم الثالث الشيخ جابر الأول بن عبدالله الصباح . ( يكتفى بنقطة واحدة ) ص ٧٤
  - بناء السور الثاني عام ١٨١٤م / ساعد العثمانيين على إعادة البصرة بعد قيام بعض القبائل بالخروج على السلطة العثمانية . / رفض عرض مقدم من شركة الهند الشرقية الإنجليزية لإقامة محطة فحم لدولة الكويت عام ١٨٤١م .
- تعرض الوجود البرتغالي للانهايار التدريجي في منطقة الخليج العربي . ( يكتفى بنقطة واحدة ) ص ٨٤
  - بسبب المنافسة التجارية بينه وبين الهولنديين والإنجليز / بالإضافة لجهود اليعاربة في عمان التي ساهمت في تصفية الوجود البرتغالي في الخليج في النهاية وطردهم من المنطقة . / ووقوع البرتغال نفسها تحت الاحتلال الأسباني .

انتهت الأسئلة





دولة الكويت  
وزارة التربية  
التوجيه الفني العام للاجتماعيات

امتحان الفترة الدراسية الأولى  
لمقرر تاريخ دولة الكويت  
للسنة العاشرة  
نموذج الإجابة

العام الدراسي: ٢٠٢٣م / ٢٠٢٤م  
الزمن: (ساعتان وربع)  
عدد الأوراق: ٣

أجب على جميع الأسئلة

السؤال الأول (موضوعي) يتكون من (أ - ب - ج - د): ٨ درجات (درجة لكل نقطة)

(أ) أكمل العبارات التالية بما يناسبها:



ص ٢

١- الحضارة التي قامت في منطقة الصبية تسمى ..... العبيد.....

ص ٤

٢- المعركة التي قادها الشيخ مبارك في مايو ١٩١٠ م اسمها ..... هدية.....

(ب) ظل الخيار الصحيح من بين الخيارات التي تلي كل عبارة:

١- العام الذي نشأت فيه دولة الكويت : ص ٦٦

١٦١٦م	١٦١٥م	١٦١٤م	١٦١٣م
-------	-------	-------	-------

٢ - أول المستعمرين الأوروبيون وصولاً لمنطقة الخليج العربي : ص ٨٣

الانجليز	البرتغاليين	الفرنسيين	الروس
----------	-------------	-----------	-------

(ج) صوب ما تحته خط في العبارات التالية بكتابة الإجابة الصحيحة:

م	العبارة	التصويب
١	أكبر جزر دولة الكويت وتمثل حوالي ٥٪ من مساحة البلاد تسمى <u>فيلكا</u> . ص ٢٦	..... <u>بوبيان</u> .....
٢	خط سكة الحديد ( مشروع كابنيس ) سعى لتحقيقه <u>الألمان</u> . ص ٩٦	..... <u>الروس</u> .....

وزارة التربية



(د) اكتب المفاهيم والمصطلحات الدالة على العبارات التالية :

التوجيه الفني العام للاجتماعيات

١- ( ... الترانزيت ... ) إعادة تصدير الواردات . ص ٤٧

٢- ( ..... السموم ..... ) رياح جافة تهب في الظهيرة حيث تنخفض معها الرطوبة النسبية ذات درجات حرارة

عالية تهب من الشمال او الشمال الشرقي في فصل الصيف . ص ٣٢

السؤال الثاني ( مقال ) يتكون من ( أ - ب - ج )  
( أ ) اقرأ الفقرة التالية ثم أجب عما يليها من أسئلة: ( درجتين )

فترة حكم الحاكم السابع الشيخ مبارك الصباح ( ١٨٩٦ - ١٩١٥ م ) كانت فترة حاسمة في تاريخ الامارة فخلال هذه الفترة كان الشيخ مبارك حاكماً مطلقاً بل كان الدولة بكل سلطاتها . لاسيما وانه يواجه خلال فترة حكمه واقعا دوليا يموج بالتغيرات والخلافات والمطامع والتهديدات التي طالت وهددت إمارته ووجودها . ص ٩٣



١- ضع عنواناً مناسباً للفقرة السابقة . درجة

- مليراه المصحح مناسباً في سياق الموضوع .

٢- استخرج من الفقرة ( الصعوبات التي واجهها الشيخ مبارك الصباح خلال فترة حكمه ) درجة

- يواجه خلال فترة حكمه واقعا دوليا يموج بالتغيرات والخلافات والمطامع والتهديدات التي طالت وهددت إمارته ووجودها .

( ب ) فرق بين كل مما يلي: ( ٤ درجات )

النداف ص ٥٣	الحياك
يقوم بتنجيد وصناعة المساند والفرش مستخدماً القطن .	يقوم بخياطة الملابس كالبنشوت .
القفال ص ٤٤	الدشة
انتهاء موسم الغوص على اللؤلؤ وكانت في شهر سبتمبر أو أكتوبر في الغالب .	بداية موسم الغوص على اللؤلؤ تبدأ في شهر مايو .

( ج ) علل لما يلي: ( ٤ درجات )

١- أهمية الموقع الاستراتيجي لدولة الكويت بين دول العالم . ( درجتين و يكتفي بنقطتين ) ص ٢٠  
- موقعها يمثل النهاية الطبيعية للطريق الملاحي البحري والتجاري الواقع على طريق الهند ومنطقة الشرق الأقصى . - تمثل دولة الكويت البوابة والمدخل الطبيعي لشمال شرق الجزيرة وتعد مركزاً لتجارة السكان الوافدين عليها من نجد والاحساء وبادية الشام . - شهرتها بأنها منطقة ترانزيت قليلة الضرائب .

- نشاط دولة الكويت البحري والتجاري فهي أهم الموانئ في شمال اقليم الاحساء وخاصة مع ظهورها البري وملحقاتها من الجزر . - تميز الكويتيين بالمهارة في نقل التجارة بين موانئ الخليج وسواحل الهند والشرق الافريقي .

٢ - هجرة العتوب من موطنهم الأصلي . ( درجتين و يكتفي بنقطتين )

- بسبب القحط الذي أصاب مناطقهم الأصلية .  
- الصراعات القبلية .

٦٧ ص  
وزارة التربية

التوجيه الفني العام للإجتماعيات

السؤال الثالث ( مقالي ) يتكون من ( أ - ب - ج )

( أ ) قارن بين كل مما يلي: ٤ درجات ( درجة لكل نقطة )

وجه المقارنة	الشيخ عبد الله الأول بن صباح بن جابر ص ٧١-٧٢	الشيخ جابر الأول بن عبدالله الصباح ص ٧٤
ترتيبه في شجرة الحكم	الحاكم الثاني	الحاكم الثالث
أهم الأحداث والأعمال	- معركة الرقة. - بناء سور الكويت الأول ١٧٩٧م.	- بناء سور الكويت الثاني ١٨١٤ م . - ساعد العثمانيين على إعادة البصرة . - رفض عرض مقدم من شركة الهند الشرقيه الانجليزية لاقامة محطة فحم . - رفض طلب نائب المقيم السياسي البريطاني في الخليج ان تقوم الكويت برفع الراية الإنجليزية وإقامة المباني على أراضيها . ( يكتفى بنقطة )



( ب ) عدد اثنان لكل مايلي: ( ٤ درجات )

- ١- أنواع السفن في دولة الكويت قديما . ص ٤٢  
 ١- الجاليوت ٢- السنبوك ٣- الشوعي ٤- البغله ٥- البقاره  
 ٦- البوم ٧- البتيل

٢ - الأسس التي تنظم العلاقة بين الكويت والدولة العثمانية في الفرمان العثماني عام ١٨٧١ م . ص ٨٨  
 ( درجتين ويكتفى بنقطتين )

- شيخ الكويت مستقل في شؤونه الداخلية .  
 - منح شيخ الكويت لقب قائم مقام .  
 - أهالي الكويت لايلتزمون بدفع رسوم أو ضرائب الى الباب العالي . - الزام السفن الكويتية برفع العلم العثماني مع اعفائها من دفع الرسوم .

( ج ) عرف المفاهيم أو المصطلحات التالية: ( درجتين )

وزارة التربية

التوجيه الفني العام للإجتماعيات

- ١- القلاف : الذي يقوم بعملية اعداد المواد اللازمة للصناعة ثم عملية بناء السفينة . ص ٤١  
 ٢- المرايات: رياح تهب في أواخر الربيع وأوائل الصيف فتثير الغبار مصحوبه عادة بعواصف رعدية يسقط بسببها المطر الشديد . ص ٣٢



وزارة التربية

التوجيه الفني العام للاجتماعيات

امتحان نهاية الفترة الدراسية الاولى

مقرر / تاريخ دولة الكويت

للسف العاشر

"نموذج الإجابة"

العام الدراسي: ٢٠٢٢ / ٢٠٢٣ م

الزمن: ساعتان وربع

عدد الأوراق: ( ٣ )

\*\*\*\*\*

أجب عن جميع الاسئلة

السؤال الأول : موضوعي يتكون من ( أ - ب - ج - د ) : ( لكل سؤال درجة = ٨ درجات )

( أ ) أكمل العبارات التالية بما يناسبها فيما درست :

١- الحد الفاصل بين الحدود الكويتية والعراقية بمسافة ١٥٠ كم يسمى وادي الباطن. ص ٢٣

٢- الشيخ الذي تم في عهده أول تعداد للسكان في دولة الكويت اسمه عبدالله السالم الصباح. ص ٣٤

( ب ) ظلل الخيار الصحيح من بين الخيارات التي تلي كل عبارة مما يلي :

١- تلال على شكل قباب تقع في جنوب دولة الكويت : ص ٢٢

جال الزور	كراع المرو	اللبح	CONTROL وزارة
-----------	------------	-------	---------------

٢- أول دولة استعمارية في منطقة الخليج العربي : ص ٨٣

هولندا	البرتغال	بريطانيا	العثمانية
--------	----------	----------	-----------

( ج ) صوب ما تحته خط في العبارات التالية بكتابة الإجابة الصحيحة في مكاتها المناسب حسب الجدول:

م	العبارة	التصويب
١	الجزيرة الكويتية التي توجد بها دلائل أثرية ومعمارية قديمة هي <u>بوبيان</u> .	فيلكا ص ٢٦
٢	الحملة التي قام بها "منحت باشا" عام ١٨٧١م كانت للسيطرة على إقليم <u>نجد</u> .	الإحصاء ص ٨٨

( د ) اكتب المصطلح أو المفهوم الدال على العبارات التالية :

١- الشخص الذي ينشد المواويل تشجيعا لطاقم السفينة في رحلتهم.

٢- بداية موسم الغوص وتبدأ في شهر مايو.

( النهام ) ص ٤٥

( اللشة ) ص ٤٤

وزارة



التربية

التوجيه الفني العام للاجتماعيات

السؤال الثاني : مقالتي يتكون من ( أ - ب - ج ) :

( أ ) عرّف المفاهيم والمصطلحات التالية : ( لكل سؤال درجة = ٣ درجات )

١- غيص : الشخص الذي يغوص في قاع البحر بحثًا عن المحار. ص ٤٥

٢- كويت : تصغير لكلمة كوت والتي تعني القلعة أو الحصن وجمع الكوت " أكوات". ص ٦٥

٣- قفال : انتهاء موسم الغوص على اللؤلؤ وكانت في شهر سبتمبر أو أكتوبر في الغالب. ص ٤٤

( ب ) قارن بين كل من :

وجه المقارنة	معركة الرقة	معركة الصريف
الحاكم التي تمت في عهده	الحاكم الثاني : الشيخ عبدالله الأول بن صباح بن جابر . ص ٧١ (درجة)	الحاكم السابع مبارك الصباح " مبارك الكبير" ص ١٠٤ (درجة)
سنة المعركة	١٧٨٣ ص ٧١ (نصف درجة)	مارس ١٩٠١ م ص ١٠٤ (نصف درجة)

( ج ) اكتب اثنين فيما يلي :

١- عوامل نمو وازدهار دولة الكويت تحت حكم آل صباح . ص ٧٩ (درجتان)

- موقع الكويت الاستراتيجي على الجزء الغربي للخليج العربي وشمال شرق شبه جزيرة العرب .
- طبيعة نظام الحكم المعتمد على العدل والشورى والأمن .
- وجود علاقات متوازنة مع القوى المجاورة .
- النظام الاقتصادي الدقيق وتوزيع المهام بين الغوص ونقل التمور وتجارة البادية وأمانة التجار والعمال .
- التسهيلات التي كانت تمنح لتجار البادية ( تجارة المسابرة ) جعلت الكويت المقر الرئيسي للبضائع .
- الصفات التي تميز بها أهل الكويت من التسامح والانفتاح على الآخرين .

٢- أهم المناطق الزراعية في الكويت قديما. ص ٥٠ (درجتان)

- الدمنة (السالمية) - أبو حليفة - الفنتاس - المنقف - الشعبية - الفحيحيل - الجهراء



وزارة التربية

التوجيه الفني العام للإجتماعيات



السؤال الثالث : مقالتي يتكون من ( أ - ب - ج ) :

( أ ) اقرأ الفقرة التالية ثم أجب عما يليها من أسئلة :

السدو إحدى الحرف السائدة التي تزاولها المرأة في البادية حياكة الصوف حيث إنه هو أساس مكونات بيت الشعر الذي يسكنه أهل البادية ومن الصناعات التي تتعلق بالسدو حياكة العدول ومفردها ( العدل ) والمزاود ومفردها المزودة من الزاد وهي عبارة عن أكياس متوسطة لحفظ الطعام والملابس وكذلك العديد من المنسوجات الصوفية المختلفة كالمفروشات والسجاد والعباءات النسائية البشوت الرجالية .

١- عرف ما تحته خط .

- العدل : عبارة عن ما يوضع على ظهر الدابة وتوضع فيه حاجات الراكب. ص ٥٣ ( درجة )

٢- استخرج من الفقرة السابقة ما يلي:

أ - المقصود من كلمة " المزاود" .

-المزاود ومفردها المزودة من الزاد وهي عبارة عن أكياس متوسطة لحفظ الطعام والملابس . ( درجة )

ب - أنواع المنسوجات الصوفية. ( درجتان ) يكتفى بنقطتين.

-المفروشات - السجاد - العباءات النسائية - البشوت الرجالية .

( ب ) فرّق بين كل مما يلي :

الرياح الجنوبية الشرقية " انكوس " ص ٣٢ (درجة)	الرياح الشمالية الغربية ص ٣٢ (درجة)
تمتاز بكونها رطبة دافئة تهب من الجنوب الشرقي تتأثر في المنخفض السوداني وتتسبب هذه الرياح في رفع درجة الحرارة وتزيد من نسبة الرطوبة في فصل الصيف ولكن في فصل الشتاء يعتدل الجو بها وتحمل معها المطر .	تهب معظم أيم السنة وهي رياح جافة بفعل المرتفع السيبيري المتمركز في شمال القارة الآسيوية ولها أثر واضح في خفض درجة الحرارة خاصة في فصل الصيف لكنه يصبح قارس البرودة في فصل الشتاء.

( ج ) علل لما يلي :

١- نقل مركز البريد والتجارة البريطاني من البصرة إلى الكويت عام ١٧٧٥ م . ص ٨٧ ( درجتان )

جسب الصراع بين الدولة الفارسية والعثمانية ما بين ١٧٧٥ م - ١٧٧٩ م .

- الحصار الفارسي للبصرة عام ١٧٧٥ م.

٢- إختيار الشيخ صباح الأول بن جابر للحكم . ص ٦٨ ( درجتان ) يكتفى بنقطتين .

سماته الشخصية من شجاعة وحكمة .

- كانت الزعامة لوالده على قومه منذ كانوا في نجد .

- كان يقيم في الكويت طوال أيام العام وكان عمله في الصحراء خلافاً للبقية الذين كانوا يعملون

في البحر .

انتهت الأسئلة ،،،،





وزارة التربية  
التوجيه الفني العام للاجتماعيات

امتحان نهاية الفترة الدراسية الأولى  
لمقرر / تاريخ دولة الكويت  
( للصف العاشر )  
نموذج إجابة

العام الدراسي ( ٢٠٢١ / ٢٠٢٢ م )  
الزمن : ساعتان وربع  
عدد الأوراق : ( ٣ )

لجب عن جميع الأسئلة التالية :

السؤال الأول / الموضوعي : ويتكون من ( أ - ب ) : ( لكل سؤال درجة = ٨ درجات )

( أ ) ضع خطأ تحت الخيار الصحيح من بين الخيارات التي تلي كل عبارة :

١ . الدولة التي قدمت مشروع ( كابنيس ) لدولة الكويت هي : ص ٩٨

هولندا	ألمانيا	بريطانيا	روسيا
--------	---------	----------	-------

٢ . العلم الذي حدثت فيه معركة الصريف : ص ١٠٦

١٩٠١م	١٩٠٤م	١٩٠٨م	١٩١٢م
-------	-------	-------	-------

٣ . حاكم دولة الكويت الذي تم في عهده بناء السور الثاني : ص ٧٦

جابر الأول	صباح الثاني بن جابر	محمد بن صباح	عبدالله الأول بن الصباح
------------	---------------------	--------------	-------------------------

٤ . الحد الفاصل بين الحدود الكويتية العراقية بمسافة ١٥٠ كم ويسير مع الحدود الغربية للكويت : ص ٢٥

هضبة الأحمدى	سهل القديبة	وادي الباطن	تلال اللياح
--------------	-------------	-------------	-------------

( ب ) اختر للمجموعة ( أ ) ما يناسبها من المجموعة ( ب ) بكتابة الرقم المناسب :

الرقم	المجموعة ( أ )	الرقم المناسب	المجموعة ( ب )
١	اشتهر بالنزاهة والوقار والتواضع ص ٧٧	( - )	الشيخ مبارك الصباح
٢	ساعد العثمانيين في حملتهم على إقليم الإحساء عام ١٨٧١م . ص ٧٧	( ٢ )	الشيخ عبدالله الأول بن صباح بن جابر
٣	ازدهرت الإمارة في أيامه وامتدت تجارتها إلى الهند واليمن وشرق أفريقيا والعراق . ص ٧٣	( ١ )	الشيخ محمد بن صباح
٤	كان يطبخ الأرز للفقراء وله عريش قرب بيته يجتمعون فيه ويقدم لهم الطعام . ص ٧٦	( ٢ )	الشيخ عبدالله بن صباح الثاني
		( ٤ )	الشيخ جابر الأول بن عبدالله الصباح

أ. إيمن السويجل  
الموجه العام للاجتماعيات



التوجيه الفني العام للمواد الدراسية



**السؤال الثاني / مقالتي : ويتكون من ( أ - ب - ج )**

**( أ ) - عرف القرين : ( درجة ) ص ٦٧**

يطلق الاسم القديم أي القرين على المكان ، والقرين كحال الكوت من الناحية اللغوية جرة تصغيره من لفظ القرن وهو اسم شائع في شبه الجزيرة العربية للدلالة على المرتفع أو التل الصغير ، وربما كان القرين اسماً يطلق على مرتفع بهيته القريب من قصر السيف ، والذي نشأت حوله ووفقه مدينة الكويت .

**( ب ) اكتب فيما يلي :**

**١ - المراحل التي أدت إلى استقرار الحكم لآل الصباح بعد عملية التأسيس . ( درجتان ويكتفي بنقطتين )**

ص ٧١

- المرحلة الأولى : الهجرة من نجد مع بقية الأسر الكويتية وإقامتهم فيها .
- المرحلة الثانية : التحالف الثلاثي وتوزيع المهام .
- المرحلة الثالثة : اختيار آل الصباح لحكم الكويت وانتهاء التحالف الثلاثي .
- ٢ - حرص حكام الكويت على اتخاذ قرارات ذات أبعاد اقتصادية ساعدت على النمو التجاري والاقتصادي .
- ص ٨٠ ( ٣ درجات ويكتفي بثلاث نقاط )
- قلة الضرائب على البضائع القادمة للكويت .
- تشجيع بناء سفن الغوص وتأمين طرق التجارة المارة عبر أراضيها ، حيث أصبحت الكويت سوقاً رائجا لمكان البداية ووسط نجد .
- اجتذاب الوكالات التجارية التابعة للشركات الأوروبية العاملة في الخليج العربي ، حيث انتقلت الوكالة البريطانية من البصرة إلى الكويت مرتين ، الأولى عام ١٧٩٣م والثانية ١٨٢١م .
- لعب التجار الكويتيون دور الوسيط التجاريين ، مما ساعد على بناء علاقات تجارية بين الكويت ومناطق دول الجوار .
- وبناء على العوامل السابقة ، تعززت نزعة الاستقلال لدى حكام الكويت وتأكيد كيانتهم المستقل ، مستندين في ذلك إلى الاستقرار الأمني والسياسي والاقتصادي ، فضلاً عما عرف عن أهل الكويت من سماحة وصدق وأمانة ، الأمر الذي ساعد على بروز كيانتها واستقبالها للمزيد من الهجرات السكانية .

**( ج ) علل لما يلي :**

**١ - الانهيار التدريجي للاستعمار البرتغالي . ص ٨٦ ( درجتان ويكتفي بنقطتين )**

- المسافة التجارية بينه وبين الهولنديين والإنجليز .
- جهود البعارة في عمان التي ساهمت في تصفية الوجود البرتغالي في الخليج وطردهم من المنطقة .
- وقوع البرتغال نفسها تحت الاحتلال الإسباني .
- ٢ - اختيار الشيخ صباح الأول للحكم في دولة الكويت . ( درجتان ويكتفي بنقطتين ) ص ٧٠
- سماته الشخصية من شجاعة وحكمة .
- أن والده كانت له الزعامة على قومه منذ أن كانوا بنجد .
- أنه كان طوال أيام العام مقيماً بالكويت وعمله في الصحراء .

أ. إيمان السويحل

الموجه العام للاجتماعيات



**السؤال الثالث : ويتكون من ( أ - ب - ج )**

**( أ ) اجب عن الأسئلة التالية :**

١ - ما أهمية الموقع الاستراتيجي لدولة الكويت بين دول العالم . ص ٢٢ ( يكتفي بذكر نقطتين )

- موقعها الذي يمثل النهاية الطبيعية للطريق الملاحي البحري والتجاري ، الواقع على طريق الهند ومنطقة الشرق الأقصى .
  - تمثل دولة الكويت البوابة والمدخل الطبيعي لشمال شرق الجزيرة العربية وتعد مركزاً لتجارة السكان الوافدين عليها من نجد والأحساء وبادية الشام وتصريف بضائعهم منها .
  - شهرتها بأنها منطقة ( ترانزيت ) أو منطقة لتجارة العبور قليلة الضرائب .
  - نشاط دولة الكويت البحري والتجاري ، فهي أحد أهم الموانئ في شمال إقليم الأحساء ، خاصة مع ظهورها البري وملحقتها من الجزر .
  - تميز الكويتيين بالمهارة في نقل التجارة بين موانئ الخليج وسواحل الهند والشرق الأفريقي .
  - كان بالإضافة لسماته الشخصية من شجاعة وحكمة أن والده كانت له الزعامة على قومه منذ أن كانوا بنجد ، وأنه كان طوال أيام العام مقيماً بالكويت وعمله في الصحراء ، خلافاً للبقية الذين كانوا يعملون في البحر .
- ٢ - اذكر أسماء الجزر الكويتية . ص ٢٨ ( درجتان ويكتفي بنقطتين )  
بوبيان - ورية - عوثة - فيلكا - أم النمل - كبر - قاروة - أم المرادم - الشويخ .
- ( ب ) فرق بين كلا من : ( ٤ درجات )**

رياح السموم ص ٣٤	الرياح الجنوبية الشرقية ( الكوس ) ص ٣٤
هي رياح جافة جداً تهب في الظهيرة ، حيث تنخفض معها الرطوبة النسبية ، وهذه الرياح ذات درجات حرارة عالية تهب من الشمال أو من الشمال الشرقي في فصل الصيف ، مما يجعل درجات الحرارة ترتفع إلى مستوى عال جداً ، وإذا كانت الرياح نشطة فإنها تثير الأتربة والرمال .	تمتاز بكونها رطبة دافئة تهب من الجنوب الشرقي ، تتأثر في المنخفض السوداني. وتتسبب هذه الرياح في رفع درجة الحرارة وتزيد من نسبة الرطوبة في فصل الصيف ، ولكن في فصل الشتاء يعتدل الجو بها وتحمل معها المطر
فصل الخريف في دولة الكويت ص ٣٠	فصل الربيع في دولة الكويت ص ٣٠
ترتفع فيه نسبة الرطوبة وتقل فيه درجة الحرارة نسبياً عن الصيف.	يمتاز بأنه قصير معتدل

( ج ) حدد أسس علاقة الكويت بالدولة العثمانية التي حددها الفرمان العثماني . ص ٩٠ ( درجتان ويكتفي بنقطتين )

- شيخ الكويت مستقل في شئونه الداخلية .
- منح شيخ الكويت لقب قائم مقام .
- أهالي الكويت ، لا يلتزمون بدفع رسوم أو ضرائب إلى الباب العالي .
- إلزام السفن الكويتية برفع العلم العثماني ، مع إعفائها من دفع الرسوم .

انتهت الأسئلة





وزارة التربية

التوجيه الفني العام للاجتماعيات

امتحان نهاية الفترة الدراسية الأولى

مقرر / تاريخ دولة الكويت

للفصل العاشر

العام الدراسي : ٢٠٢٠/٢٠١٩

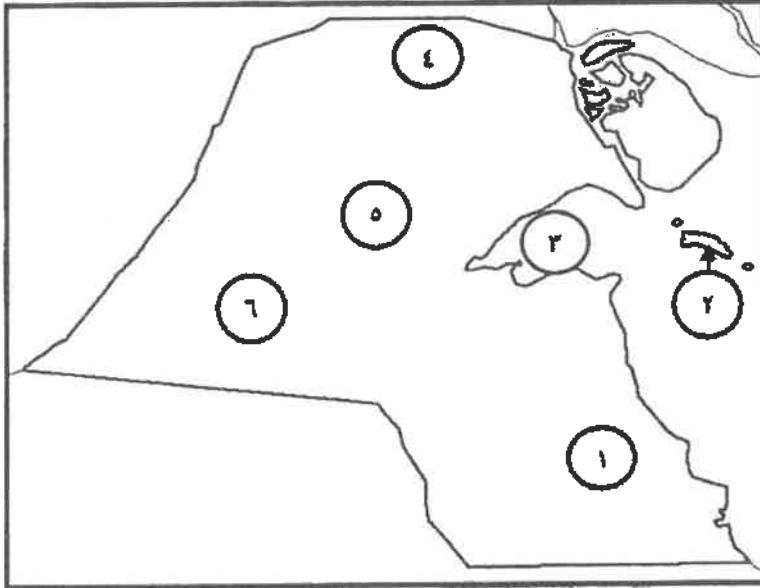
الزمن : ساعتان وربع

عدد الصفحات : ( ٥ )

احب عن ( ثلاثة ) أسئلة فقط على أن يكون السؤال الأول منها ( احبارياً )

السؤال الأول الموضوعي ( إجباري ) ويتكون من ( أ - ب - ج - د ) : ( ½ نصف درجة × ١٦ = ٨ درجة )

( أ ) أمامك خريطة دولة الكويت الصماء ، أكتب الرقم الدال على كل مما يلي :



١. سهل الدببة على الخريطة بطله الرقم ... ٦ .. ص ٢٥
٢. كراع المرو على الخريطة بطله الرقم ... ٥ .. ص ٢٥
٣. منطقة العبدلي بطلها على الخريطة الرقم ... ٤ .. ص ٢٥
٤. جون الكويت بطله على الخريطة الرقم ... ٣ .. ص ٢٥



( ب ) اختر للمجموعة ( أ ) ما يناسبها من المجموعة ( ب ) بكتابة الرقم المناسب :

الرقم	المجموعة ( أ )	الرقم المناسب	المجموعة ( ب )
١	وقعت في عهده معركة الصريف . ص ١٠٦	( ٤ )	الشيخ صباح الأول بن جابر
٢	كان حليماً كريماً يضرب بكرمه المثل . ص ٧٦	( ٣ )	الشيخ عبدالله الأول بن صباح
٣	ازدهرت الإمارة في أيامه وامتدت تجارتها إلى الهند واليمن وشرق أفريقيا والعراق . ص ٧٣	( ١ )	الشيخ مبارك الصباح
٤	البداية الحقيقية لظهور الكويت كياناً سياسياً منظماً ص ٧٣	( ٢ )	الشيخ جابر الأول بن عبدالله الصباح
		( - )	الشيخ محمد بن صباح

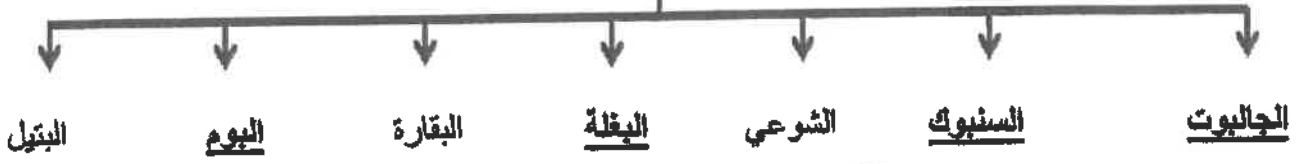


وزارة التربية

التوجيه الفني العام للاجتماعيات


( ج ) أكمل المخطط السهمي التالي :-

أنواع السفن في دولة الكويت قديماً ص ٤٤



( د ) أكمل العبارات التالية فيما درست :

١ - الصورة المقابلة تمثل الجزيرة الكويتية التي عثر فيها على الآثار اسمها ..... فيلكا ... ص ٥٩



٢ - الصورة المقابلة تمثل أحد العائضين في حرفه الغرض يسمى ... الغيص ... ص ٤٨



٣ - الصورة المقابلة تمثل إحدى الحرف في دولة الكويت قديماً

تسمى .. القفاص .. ص ٥٥



٤ - الخريطة المقابلة تمثل معركة بحرية بين دولة الكويت وبنو كعب اسمها .. الرقة .. ص ٧٤



وزارة التربية

التوجيه الفني العام للإجتماعيات

**السؤال الثاني (اختياري) ويتكون من ( أ - ب - ج ) :-**

**( أ ) اقرأ الفقرة التالية ثم أجب عما يليها من أسئلة :**

بعد أن استقر العتوب وأسبوا وطنهم الجديد بالكويت تشكلت واكتملت الهوية الجامعة لهذه القبائل والأسر المهاجرة ومن تبعها من السكان الجدد ، وبعد عملية التأسيس ، كان حتماً على الجميع الانضواء تحت السلطة التي تدير شؤون البلدة . ص ٧٠

١ . عرف ما تحته خط :

( درجة )

هم مجموعة من العشائر أو الأسر التي تنتمي إلى عدة قبائل من أبرزها قبيلة عنزة . ص ٦٩

٢ . اذكر تقسيم المهام بين أسرتي آل الصباح وآل الخليفة بعد استقرار العتوب في موطنهم الأصلي دولة الكويت ص ٧١

( درجتان )

آل الصباح ( الحكم ) وآل الخليفة ( شؤون التجارة ) .

٣ . استقر الحكم لآل الصباح بعد عملية التأسيس التي مرت بثلاث مراحل ،،، اذكر المرحلتين الثانية والثالثة منها ص ٧١

( درجتان )

المرحلة الأولى : الهجرة من نجد مع بقية الأسر الكويتية وإقامتهم فيها .

المرحلة الثانية : التحالف الثاني وتوزيع المهام .

المرحلة الثالثة : اختيار آل الصباح لحكم الكويت وانتهاء التحالف الثاني .

**( ب ) قارن بين كلاً من :**

( ٣ درجات )



أوجه المقارنة	الرياح الشمالية الغربية ص ٣٤	العواصف الترابية ( السرايات ) ص ٣٤
الفترة الزمنية	تهب معظم أيام السنة ( نصف درجة )	تهب في أواخر الربيع وأوائل الصيف ( نصف درجة )
المميزات	رياح جافة بفعل المرتفع السيبيري المتمركز في شمال القارة الآسيوية ولها أثر واضح في خفض درجة الحرارة خاصة في فصل الصيف ، لكنه يصبح فارس البرودة في فصل الشتاء . ( درجة )	رياح تثير الغبار مصحوبة بعواصف مصحوبة عادة بعواصف رديئة يسقط بسببها المطر الشديد في أواخر الربيع وأوائل الصيف ، ويطلق عليها السرايات . ( درجة )

**( ج ) علل لما يلي :**

( درجتان )

١ . نقل مركز البريد والتجارة البريطاني من البصرة إلى الكويت عام ١٧٧٥ م . ص ٨٩

بسبب تأثر المركز البريطاني بالصراع القائم بين القوتين في المنطقة بين الدولة الفارسية والدولة العثمانية ما بين ( ١٧٧٥ م - ١٧٧٩ م ) الذي نتج عنه الحصار الفارسي للبصرة عام ١٧٧٥ م .

٢ . كساد تجارة الفوص عن اللؤلؤ في دولة الكويت . ص ٤٦

بسبب انهيار سوق اللؤلؤ العالمي عام ١٩٢٨ م .



التوجيه الفني العام للإجتماعيات

**السؤال الثالث ( اختياري ) ويتكون من ( أ - ب - ج ) :**  
**( أ ) فرق بين كلاً من :**

( ٤ درجات )

مفهوم الإغلاق ( موسم السفر ) ص ٤٩	مفهوم الدشة ( موسم السفر ) ص ٤٩
نهاية موسم السفر وتعني بإغلاق موسم السفر وتكون نهاية شهر ( مايو ) .	بداية موسم السفر وتعني دخول البحر وبداية الدشة تكون في الشهر الثامن ( أغسطس ) .
وظيفة المجدمي ص ٤٧	وظيفة النوخة ص ٤٧
هو لقب كان يطلق على رئيس البحارة والمسئول عن إدارة السفينة من الداخل .	قائد السفينة وربانها والمسئول عنها من طاقمها والمسئول عن تحديد أماكن الغوص والبحث عن جزارع اللؤلؤ ( الهيرات ) ، ويجب أن تتوافر في النوخة القدرة على معرفة المسالك والطرق ، والإلمام بالاتجاهات البحرية ، وعليه تتجمع القدرات ، وهو صاحب الحق في إعطاء إذن للبحارة بمغادرة السفينة ، وضمان سلامة طاقمها .

( ب ) عدد ثلاث أنواع فقط من المحاصيل التي يزرعها الكويتيون في دولة الكويت . ص ٥٢ ( ٣ درجات )  
الخضراوات بجميع أنواعها - الحبوب كالقمح والشعير - والأعلاف كالبرسيم ( الجت ) وغيرها - أشجار الأثل - أشجار السدر

( ج ) أذكر ثلاث عوامل ساعدت على ازدهار صناعة السفن في دولة الكويت قديماً . ص ٤٣

( ٣ درجات )

( يكتب بنكر ٣ نقاط )

- هبوب الرياح الموسمية على منطقة الخليج العربي والتي ساعدت على دفع السفن نحو شواطئ الهند وشرق آسيا .
- توفر الأيدي العاملة لصناعة السفن .
- تمتع الكويت بواجهة بحرية طويلة تمتد من شمالها إلى جنوبها ويتخللها العديد من الترعجات ، فضلاً عن وجود جون الكويت شمالاً ، وانتشار العديد من الجزر في مياها الإقليمية ووجود النقع والعمائر الساحلية التي توفرت المواد المستخدمة في صناعة السفن ) .
- براعة الأساتذة والقلاليف ، فالأستاذ هو الذي يقوم بتصميم السفينة ويأتي القلاف في المرتبة الثانية وهو الذي يقوم بعملية إعداد المواد اللازمة للصناعة ثم عملية بناء السفينة نفسها .
- توفر مصادر المواد المستخدمة في صناعة السفن .
- الموقع الجغرافي لدولة الكويت .





تابع / نموذج الإجابة لامتحان مقرر تاريخ دولة الكويت - للصف العاشر - نهاية الفترة الدراسية الأولى - للعام الدراسي

السؤال الرابع (اختياري) ويتكون من ( أ - ب - ج ) :  
( أ ) دلل على صدق العبارات التالية :

١ . تطور التعليم والصحة في عهد الشيخ مبارك الصباح . ص ٩٦  
التعليم : أنشئت المدرسة المباركية عام ١٩١١م وكانت أول المدارس النظامية الأهلية .  
الصحة : وافق على تأسيس أول مستشفى عام ١٩١١م والذي أطلق عليه المستشفى الأمريكي .

٢ . حرص حكام الكويت على اتخاذ قرارات ذات أبعاد اقتصادية ساعدت على النمو التجاري والاقتصادي للكويت . ص ٨٠  
( ٣ درجات )  
يكتفي بذكر ٣ نقاط )

- قلة الضرائب على البضائع القادمة للكويت .
- تشجيع بناء سفن الجوص وتأمين طرق التجارة المارة عبر أراضيها ، حيث أصبحت الكويت سوقاً رائجاً لسكان البادية ووسط نجد .
- اجتذاب الوكالات التجارية التابعة للشركات الأوروبية العاملة في الخليج العربي ، حيث انتقلت الوكالة البريطانية من البصرة إلى الكويت مرتين الأولى عام ١٧٩٣م والثانية ١٨٢١م .
- لعب التجار الكويتيون دور الوسيط التجاري ، مما ساعد على بناء علاقات تجارية بين الكويت ومناطق دول الجوار .
- تعززت نزعة الاستقلال لدى حكام الكويت وتأكيد عليهم المستقل مستندين في ذلك إلى الاستقرار الأمني والسياسي والاقتصادي ، فضلاً عما عرف عن أهل الكويت من سماحة وصدق وأمانة الأمر الذي ساعد على بروز كيانها واستقبالها للمزيد من الهجرات والسكان .

( ب ) اكتب عن أهم أعمال الحاكم الثالث الشيخ جابر الأول بن عبدالله الصباح ( ١٨١٤ - ١٨٥٩م ) .

- ص ٧٦  
( ٣ درجات )
- بناء السور الثاني عام ١٨١٤م . - رفض رفع الكويت للرؤية الإنجليزية وإقامة بعض المباني على أراضيها .
  - ساعد العثمانيين على إعادة البصرة بعد قيام بعض القبائل فيها بالخروج على السلطة العثمانية .
  - رفض عرض مقدم من شركة الهند الشرقية الإنجليزية لإقامة محطة فحم لذئبة الكويت عام ١٨٤١م .
- ( ج ) لاحظ الدائرة البيانية التي أسنلتها : ص ٣٧



نسبة السكان في دولة الكويت عام ١٩٩٠م

- ١- استخرج حقيقة من الرسم البياني المقابل .  
عدد الوافدين أكبر من عدد المواطنين  
( أي حقيقة يراها المصحح مناسبة )

( درجة واحدة )

- ٢- علل - قلة عدد السكان " الوافدين " في دولة الكويت خلال عام ١٩٩٠م .  
بسبب العدوان والاحتلال العراقي على دولة الكويت وما تبع ذلك من عودة كبيرة للوافدين من العرب وغيرهم إلى أوطانهم .

( درجة واحدة )



انتهت الأسئلة

وزارة التربية

التوجيه الفني العام للإجتماعيات

العام الدراسي ( ٢٠١٨ / ٢٠١٩ م )

الزمن : ساعتان وربع

عدد الأوراق : (٥)

امتحان نهاية الفترة الدراسية الأولى

لمقرر / تاريخ دولة الكويت

( للصف العاشر )

نموذج الإجابة



وزارة التربية

التوجيه الفني العام للاجتماعيات

\*\*\*\*\*

أجب عن ( ثلاثة أسئلة ) فقط على أن يكون السؤال الأول منها ( إجبارياً ) :

السؤال الأول / الموضوعي ( إجباري ) ويتكون من ( أ - ب - ج - د ) : ( لكل سؤال نصف درجة = ٨ درجات )

( أ ) أكمل العبارات التالية بما يناسبها فيما درست :



١- الجزء المظلل على الخريطة المقابلة يمثل وادياً يحده دولة الكويت غرباً اسمه وادي الباطن  
ص ٢٥



٢- الجزيرة الكويتية التي توجد بها الآثار القديمة في الصورة المقابلة تسمى فيلكا  
ص ٥٩



٣- السفينة الموجودة في شعار دولة الكويت الذي أمامك تسمى سفينة اليوم  
ص ٤٥



٤- المهنة التي يمتنها العامل في الصورة المقابلة تسمى الغصص  
ص ٤٧

( ب ) أكتب المفاهيم أو المصطلحات الدالة على العبارات التالية :

١- ( الهيرات ) منابت المحار المحتوي على اللؤلؤ .  
ص ٤٦

٢- ( العدول - العدل ) ما يوضع على ظهر الدابة وتوضع فيه حاجات الراكب .  
ص ٥٥

٣- ( القمبار ) الصيد بالإضاءة حيث يتجمع السمك حول سراج يحمله الصياد فيقوم بضربة بالة حادة كالسيف  
أو عصا في نهايتها حربة .  
ص ٤٣

٤- ( السرايات أو ) رياح تهب على دولة الكويت في أواخر الربيع وأوائل الصيف فتثير الغبار مضمحوبة عادة .  
العواصف الترابية بعواصف رعدية يسقط بسببها المطر الشديد .  
ص ٣٤



تابع / السؤال الأول ( إجباري ) :

(ج) ضع خطأ تحت الخيار الصحيح من بين الخيارات التي تلي كل عبارة :

١- المنطقة التي وقعت فيها معركة ذات السلاسل بين المسلمين والفرس عام ١٢ هجرية : ص ٦٠

كاظمة	- الصبية	- أم العيش	- الجهراء
-------	----------	------------	-----------

٢- العامل الذي يقوم بتنجيد وصناعة المساند والفرش مستخدماً القطن : ص ٥٥

الصفار	- الحداد	- <u>النداف</u>	- النجار
--------	----------	-----------------	----------

٣- العام الذي أجري فيه أول تعداد رسمي موثق لسكان دولة الكويت : ص ٣٦

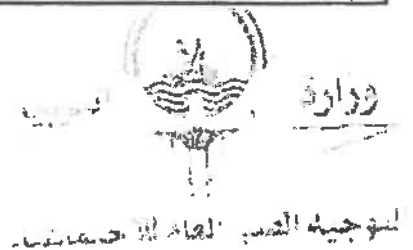
١٩٥٥ م	- ١٩٥٦ م	- <u>١٩٥٧ م</u>	- ١٩٥٨ م
--------	----------	-----------------	----------

٤- أكبر الجزر الكويتية والتي تمثل ٥% من المساحة الإجمالية لدولة الكويت : ص ٢٨

بويان	- عوّه	- وربة	- فيلكا
-------	--------	--------	---------

( د ) اختر للمجموعة (أ) ما يرتبط بها من المجموعة (ب) بوضع الرقم المناسب :

م	المجموعة ( أ )	الرقم المناسب	المجموعة ( ب )
١	تقدمت التجارة في عهده بشكل كبير وألغى الرسوم احتراماً لرغبة أبناء شعبه . ص ٧٧	(٤)	الشيخ مبارك الصباح
٢	ساعد العثمانيين في حملة "منحت باشا" على إقليم الإحساء عام ١٨٧١ م . ص ٧٧	( - )	الشيخ جابر الأول
٣	وقعت معركة الرقة في عهده عام ١٧٨٣ م . ص ٧٢	(١)	الشيخ صباح الثاني بن جابر
٤	دعم الأمير "عبد العزيز آل سعود" عسكرياً وسانده في معاركه لاستعادة ملك أبنائه . ص ١٠٥	(٢)	الشيخ عبدالله بن صباح الثاني
		(٣)	الشيخ عبد الله الأول



**السؤال الثاني (اختياري) ويتكون من ( أ - ب - ج ) :**

**( أ ) فرق بين كل مما يلي :** ( درجتين )

الغلاف	ص ٤٣	الأستاذ	ص ٤٣
هو الذي يقوم بعملية إعداد المواد اللازمة لصناعة السفينة ثم عملية بناء السفينة.		هو الذي يقوم بتصميم السفينة.	

**( ب ) نل على صحة العبارات التالية :**

١- لمنطقة الصبية قيمة وأهمية أثرية كبيرة . ص ٥٨ ( درجتين ويكتفى بنقطتين )

- إذ أنها تحتضن مئات المواقع الأثرية التي برهنت على وجود حضارة العبيد القديمة / والعتور على أقدم القرى السكنية في بحرة وطبيح شمال الصبية / وأبار المياه القديمة في المنطقة والعتور على جرافخارية / والعتور على الرحي الحجرية التي تستخدم في طحن الغلال / وأدوات الغزل وحياسة القماش / ومساكن بيضارية الشكل / العتور على المدافن الركامية ذات الأشكال المختلفة للدائرية والمستطيلة .

٢- تطور ( التطعيم والصحة ) في الكويت في عهد الشيخ مبارك الصباح . ص ٩٦ ( درجتين )

- التعليم :** أنشئت المدرسة المباركية في عهده عام ١٩١١ م وكانت أول المدارس النظامية الأهلية .
- الصحة :** وافق على تأسيس أول مستشفى عام ١٩١١ م والذي أطلق عليها المستشفى الأمريكي .

**( ج ) أجب عن الأسئلة التالية :**

١- عتد العوامل التي ساعدت على نمو وازدهار دولة الكويت تحت حكم آل الصباح . ص ٨١ ( درجتين ويكتفى بنقطتين )

- موقع الكويت الاستراتيجي على الجزء الغربي من الخليج العربي والجزء الشمالي الشرقي لشبه الجزيرة العربية .
- طبيعة نظام الحكم المعتمد على العدل والشورى والأمن وهو أمر هام لنهضة وتطور البلاد .
- وجود علاقات متوازنة مع القوى المجاورة .
- التسهيلات التي كانت تمنح لتجار البادية ( تجارة المسابرة ) مما جعل الكويت المقر الرئيسي للبضائع داخل الجزيرة العربية .

- النظام الاقتصادي وتوزيع المهام ما بين الغوص ونقل التمور وتجارة البادية .
- والأمانة التي كان يتحلى بها التجار والعاملون .

- الصفات التي تميز أهل الكويت من التسامح والانفتاح على الآخرين .

٢- عتد - أهمية الموقع الاستراتيجي لدولة الكويت بين دول العالم . ص ٢٢ ( درجتين ويكذ )

- موقعها الذي يمثل النهاية الطبيعية للطريق الملاحي البحري والتجاري ، الواقع على طريق الهند ومنطقة الشرق الأقصى .

- تمثل دولة الكويت البوابة والمدخل الطبيعي لشمال شرق الجزيرة العربية ، وتعد مركزاً لتجارة السكان الوافدين عليها من نجد والإحساء وبادية الشام ، وتصريف بضائعهم منها .

- شهرتها بأنها منطقة ( ترانزيت ) ، او منطقة لتجارة العبور قليلة الضرائب .

- نشاط دولة الكويت البحري والتجاري ، فهي أحد أهم الموانئ في شمال إقليم الأحساء خاصة مع ظهورها كمين ومخفتها من الجزر .

- تميز الكويتيون بالمهارة في نقل التجارة بين موانئ الخليج وسواحل الهند والشرق الأخرى .

وزارة



السؤال الثالث (اختياري) ويتكون من ( أ - ب - ج ) :

ص ٥٢

( أ ) اقرأ الفقرة التالية ثم أجب عما يليها من أسئلة :

"الكويت بلد صحراوي يعاني من شح المياه وارتفاع درجة الحرارة أغلب أيام السنة إلى جانب عدم خصوبة التربة ، لكن على الرغم من تلك الصعوبات فقد تكيف الكويتيون قديماً مع البيئة المحيطة بهم وتغلبوا عليها"

درجة واحدة

- ١- ضع عنواناً للفقرة .  
( أي عنوان مناسب لموضوع الفقرة )
- ٢- دلل على صحة ما تحته خط .  
احترف الكويتيون مهنة الزراعة بقصد الرياح واكتساب الرزق / قاموا بزراعة النباتات التي تتلاءم مع البيئة .  
استغلوا مياه الأمطار القليلة / استخدموا مياه الآبار السطحية المتوفرة / قاموا بزراعة بعض الخضراوات مثل الطماطم والبطاطس وغيرها .
- ٣- عدد أهم المناطق الزراعية في دولة الكويت قديماً .  
الدمنة ( السالمية ) / الفحيحيل / المنقف / الفنتاس / أبو حليفة / الشعبية / الجهراء .

درجة ( ويكتفى بمنطقتين )

درجتين ( يكتفى بنقطة واحدة )


( ب ) أكتب النتائج المترتبة على كل من :

١- ارتباط الكويت بنفوذ بني خالد . ص ٧٢	- استطاعت الكويت أن تتمتع بمزيد من الأمن والرخاء / وأن تنجو من كثير من التهديدات والأخطار لمختلف القوى الإقليمية التي كانت موجودة آنذاك .
٢- أثر احتلال العدوان العراقي لدولة الكويت عام ١٩٩٠م على عدد السكان . ص ٣٧	- تعرض وضع السكان لتغيرات كبيرة وعودة كبيرة للوافدين من العرب وغيرهم إلى أوطانهم .



( ج ) علل لما يلي :

- ١- الإتهار التدريجي للاستعمار البرتغالي في منطقة الخليج العربي . ص ٨٦  
- بسبب المنافسة التجارية بينه وبين الهولنديين والإنجليز .  
- جهود البعارة في عمان ، التي ساهمت في تصفية الوجود البرتغالي في الخليج وطردهم من المنطقة .  
- وقوع البرتغال نفسها تحت الاحتلال الإسباني .
- ٢- اختيار الشيخ صباح الأول حاكماً لدولة الكويت . ص ٧٠  
سماته الشخصية من شجاعة وحكمة / كان لوالده الزعامة على قومه منذ أن كانوا في نجد .  
كان مقيماً طوال أيام العام في الكويت / عمله في الصحراء خلافاً للبقية الذين كانوا يعملون في البحر .
- ٣- حرب بريطانيا على إبقاء اتفاقية الحماية للكويت عام ١٨٩٩م سرية . ص ١٠٢  
سبب من بينها في إثارة الدولة العثمانية ، أو خلق توتر جديد بينها وبين القوى الأوروبية .



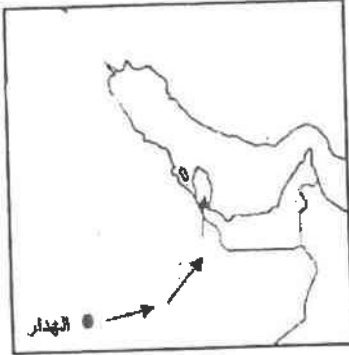
**السؤال الرابع (اختياري) ويتكون من ( أ - ب - ج ) :**

**( أ ) قارن بين كل من: ( ٤ درجات )**

ص ٣٤

أوجه المقارنة	الرياح الجنوبية الشرقية ( الكوس )	رياح السموم
مميزاتها المناخية	رياح رطبة دافئة تهب من الجنوب الشرقي وتتاثر في المنخفض السوداني .	رياح جافة جداً تهب في الظهيرة وتخفض معها الرطوبة النسبية ودرجة حرارتها عالية..
أثرها في فصل الصيف	تسبب في رفع درجة الحرارة وتزيد من نسبة الرطوبة في فصل الصيف .	ترفع درجات الحرارة إلى مستوى عالٍ جداً في فصل الصيف وإذا كانت هذه الرياح نشطة فإنها تثير الأتربة والرمال.

**( ب ) لاحظ الخريطة التي أمامك ثم أجب عما يليها من أسئلة : ص ٦٩**



١- أرسم أسهم على الخريطة المقابلة توضح ( خط سير هجرة العتوب ) من موطنهم الأصلي ( الهدار ) إلى محطة الاستقرار الأولى ( قطر )

( درجة واحدة )

٢- عرّف العتوب :

مجموعة من العشائر أو الأسر التي تنتمي إلى عدة قبائل من أبرزها قبيلة عنزة ، تلك القبيلة العربية الكبرى التي كانت تستوطن منطقة نجد بشبه الجزيرة العربية .

( درجة واحدة )

**( ج ) عدد كل مما يلي :**

١- الأسس التي حددها (الفرمان العثماني) حول علاقة الكويت بالدولة العثمانية . ص ٩٠

درجتين ( ويكتفى بنقطتين فقط )

- شيخ الكويت مستقل في شؤونه الداخلية .
- منح شيخ الكويت لقب قائم مقام .
- أهالي الكويت لا يلتزمون بدفع رسوم أو ضرائب للباب العالي .
- إلزام السفن الكويتية برفع العلم العثماني مع إعفاء السفن الكويتية من دفع أي رسوم .

٢- العوامل التي ساعدت على ازدهار صناعة السفن في دولة الكويت . ص ٤٣

درجتين ( ويكتفى بنقطتين فقط )

- هبوب الرياح الموسمية على منطقة الخليج العربي ، والتي ساعدت على دفع السفن نحو شواطئ الهند وشرق آسيا .
- توفر الأيدي العاملة لصناعة السفن .
- تمتع الكويت بواجهة بحرية طويلة ويتخللها العديد من التعرجات ، فضلاً عن وجود جون الكويت شمالاً .
- وانتشار العجود من الجزر في مياهها الإقليمية ، ووجود النقع والعمائر الساحلية .
- توافر مصادر المواد المستخدمة في صناعة السفن .

وزارة

التوجيه الفني العام للأجتماعيات





وزارة التربية  
التوجيه الفني العام للاجتماعيات

## نموذج إجابة

العام الدراسي  
2017 / 2018 م  
الزمن / ساعتان وربع  
عدد الصفحات ( 5 )

امتحان نهاية الفترة الدراسية الأولى  
مادة / تاريخ الكويت  
الصف العاشر



• اجب عن ثلاث أسئلة مما يلي على أن يكون السؤال الأول منها ( إجباري ) :

السؤال الأول ( إجباري ) ويتكون من ( أ - ب - ج - د ) ( لكل نقطة نصف درجة )

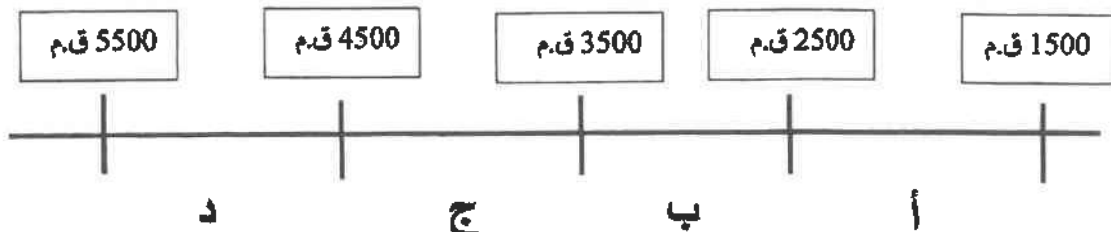
( أ ) أكمل العبارات التالية بما يناسبها فيما درست :

1. الشيخ الذي تم في عهده أول تعداد للسكان في دولة الكويت يسمى عبد الله السالم الصباح . ص 24
2. المعركة التي وقعت بين المسلمين والفرس عام 12 هجرية على أرض الكويت تسمى ذات السلاسل / كاظمة ص 37

3. نسبة المساحة التي تشغلها جزيرة بوبيان من إجمالي مساحة الكويت تبلغ 5 % ص 21
4. العام الذي وقعت دولة الكويت إتفاقية حماية مع بريطانيا 1899م ص 60

( ب ) ضع خطا تحت الخيار الصحيح من بين الخيارات التي تلي كل عبارة :

1. سهل يمتد من جون الكويت باتجاه الجنوب موازيا لخط الساحل : ص 21  
( الندببه - واره - الروضتين - برقان )
2. طريق الحرير أحد أهم طرق التجارة الدولية في العالم القديم ويبدأ من دولة : ص 26  
( الصين - الهند - اندونيسيا - عمان )
3. الشهر الذي يبدأ به موسم المطر في دولة الكويت : ص 31  
( سبتمبر - أكتوبر - نوفمبر - ديسمبر )
4. حضارة العبيد على المخطط السهمي يمثلها الحرف : ص 35

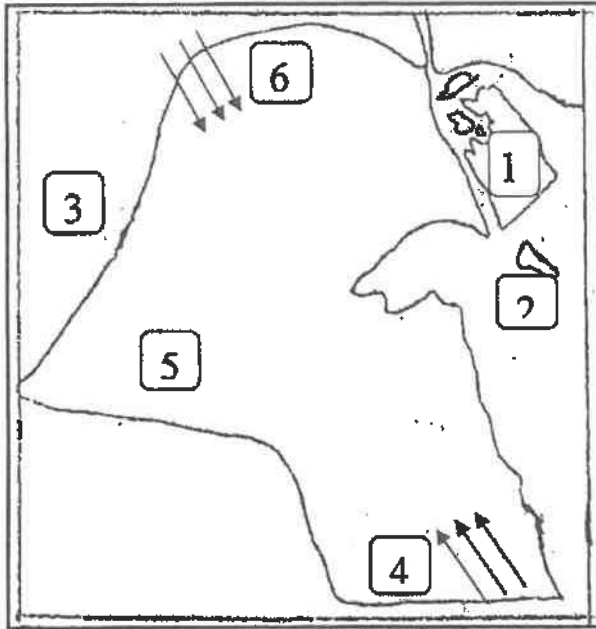


تابع / السؤال الأول الاجباري :

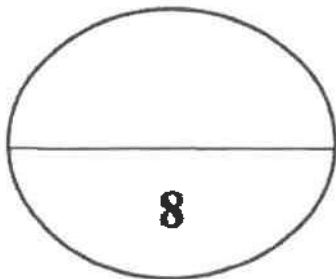
( ج ) أكتب المفاهيم أو المصطلحات الدالة على العبارات التالية :

- 1- ( السموم ) رياح جافة جدا تهب من الشمال أو الشمال الشرقي في فصل الصيف .ص23
- 2- ( القلاف ) يقوم بعملية إعداد المواد اللازمة للصناعة ثم عملية بناء السفينة نفسها .ص27
- 3- ( العدل ) أكياس كبيرة لحفظ بعض أنواع الطعام توضع في ظهر الدابة . ص34
- 4- ( الصخين ) أداة تستخدم للحفر والجدوم والهبب والمنقاش والسكاكين والسلاسل والدوه . ص33

( د ) أمامك خريطة دولة الكويت الصماء أكتب الرقم الدال على العبارات التالية :



- 1- دولة العراق يمثلها الرقم ( 3 ) ص 19
- 2- الجزيرة الكويتية التي كانت مأهولة بالسكان قبل عام 1990 يمثلها الرقم ( 2 ) ص 22
- 3- سهل الدبدبة يمثلها الرقم ( 5 ) ص 21
- 4- رياح الكوس يمثلها الرقم ( 4 ) ص 23



السؤال الثاني ( اختياري ) ويتكون من ( أ - ب - ج )



4 درجات

( أ ) علل لما يلي :

- 1- اختيار الشيخ صباح بن جابر للحكم . ص 46
  - سماته الشخصية من شجاعة و حكمة .
  - كانت الزعامة لوالده على قومه منذ أن كانوا بنجد .
  - طوال أيام العام مقيما بالكويت وعمله في البر خلافا للبقية كانوا يعملون في البحر .
- 2- تعرض التواجد البرتغالي في منطقة الخليج العربية للانتهيار التدريجي . ص 58
  - المنافسة التجارية بينه وبين الهولنديون والانجليز .
  - جهود البحار في عمان التي ساهمت في تصفية الوجود البرتغالي وطردهم من المنطقة .
  - وقوع البرتغال نفسها تحت الاحتلال الاسباني .

4 درجات

( ب ) فرق بين كل مما يلي :

القفال 29	الدشة ص 29
إنهاء موسم الغوص	دخول البحر
القفاص ص 33	النداف ص 33
يستخدم العاملین بها جريد النخيل حيث يشبك ببعض وذلك بثقبه وإدخال أطرافه في الثقوب وحيث يقوم العامل بهذه الحرفة يصنع أشكال مختلفة من الأقفاص والمنز بالإضافة إلى الأسرة للكبار و الرك	يقوم النداف بتجيد وصناعة المساند والفرش مستخدما القطن



درجتان

( ج ) فند العبارات التالية :

- 1- استمر وضع السكان في الكويت دون تغير عام 1990 م . ص 24
  - تعرض وضع السكان لتغيرات كبيرة نتيجة للاحتلال العراقي للكويت وما تبع ذلك من عودة الوافدين إلى أوطانهم .
- 2- استمر التفوق الهولندي في منطقة الخليج العربية طويلا . ص 58
  - لم يستمر طويلا بسبب التنافس الانجليزي الهولندي الذي قضى على آمالهم في النهاية .

السؤال الثالث ( اختياري ) ويتكون من ( أ - ب - ج )

درجتان

( أ ) عرف المفاهيم التالية :

1. ترانزيت : إعادة تصدير الواردات . ص 30

2. سرايات : أمطار شديدة تسقط في أواخر الربيع وبداية الصيف . ص 23

6 درجات

( ب ) نفذ المطلوب ما بين القوسين :

1- ازدهار صناعة السفن في الكويت قديما . ( العوامل ) يكتفى بنقطتين ص 27

- هبوب الرياح الموسمية على منطقة الخليج العربي ساعدت على دفع السفن نحو شواطئ الهند وشرق آسيا .

- توفر الأيدي العاملة لصناعة السفن .

- تمتع الكويت بواجهة بحرية طويلة يتخللها العديد من التعرجات ووجود الذ الساحلية ( مخازن المواد المستخدمة في صناعة السفن ) .

- براعة الأساتذة والقلاليف .

- توفر مصادر المواد المستخدمة في صناعة السفن

2- عهد الشيخ عبد الله الأول . ( الأحداث ) يكتفى بنقطتين ص 49

- معركة الرقة بين الكويت وبنو كعب 1783 م .

- بناء سور الكويت الأول عام 1811 م .

3- النمو التجاري والاقتصادي للكويت تحت حكم آل صباح . ( القرارات ) يكتفى بنقطتين ص 52

- قلة الضرائب على البضائع القادمة للكويت .

- تشجيع بناء سفن الغوص وتأمين طرق التجارة المارة عبر أراضيها .

- اجتذاب الوكالات التجارية فانتقلت الوكالة البريطانية للكويت مرتين عامي 1793م / 1821م .

- لعب التجار الكويتيون دور الوسيط التجاريين مما ساعد على بناء علاقات تجارية مع دول الجوار .

( ج ) أكتب فقرة مترابطة من ثلاث أسطر مستعينا بالكلمات التالية : ص 61 درجتان

( الكويت - دولة عثمانية - مدحت باشا - الإحصاء ) ( مايراه المصحح صحيح )

كانت العلاقة الكويتية - العثمانية علاقة اسمية قائمة على الولاء الديني لأن الدولة العثمانية هي

دولة الخلافة و ساعدت الكويت للدولة العثمانية في حملته مدحت باشا عام ١٨٧١م لإعادة

سيطرتها على إقليم الإحصاء كانت سبباً لتلطيف الأجواء بينهما .



السؤال الرابع ( اختياري ) ويتكون من ( أ - ب - ج )

( أ ) أقرأ الفقرة التالية ثم أجب عما يليها من أسئلة :

سكن الكويت قبل نزول العتوب قليل من البدو وصيادي الأسماك ومارسوا مجموعة من الأنشطة البحرية مثل صيد الأسماك وصناعة السفن والغوص على اللؤلؤة التجارة .

1- عرف ما تحته خط ص 46 درجة واحدة

العتوب : أسر ترجع في أصولها إلى عدة قبائل أبرزها قبيلة عنزة وموطنهم الأصلي نجد من منطقة الهدار

2- علل تسمية الكويت بهذا الاسم . ص 46 درجة واحدة

- تصغير لكلمة " كوت " والكلمة تعني القلعة أو الحصن

2- عدد الأنشطة البحرية في الكويت قديما ص 26 درجة واحدة

\*صيد السمك \* الغوص عن اللؤلؤ \* صناعة السفن \* التجارة البحرية

( ب ) برهن على صحة العبارات التالية : 4 درجات

1- تتعد مظاهر اعتزاز الكويت بتراثها البحري . ص 28

- اتخذت صورة سفينة اليوم الكويتي لتكون شعارا للدولة وكذلك العملة الوطنية .

- غالبا ما تزين المؤسسات بصور ومشاهد تعبر عن عمق ارتباط الكويت بتراثها البحري .

2- نجاح الكويتيين في التكيف مع البيئة قديما وامتھان الزراعة . ص 31

- زراعة النباتات التي تتلاءم مع البيئة .

- استغلوا مياه الأمطار القليلة .

- استخدموا مياه الآبار السطحية المتوفرة .

- قاموا بزراعة بعض الخضروات مثل الطماطم والبطاطس وغيرهما .

( ج ) علل لما يلي : 3 درجات

1- اشتهر الشيخ جابر الأول بجابر العيش . ص 50

- لكرمه و لكثرة ما يتصدق به على الفقراء .

2- تراجع الشيخ صباح الثاني عن قرار فرض الضرائب . ص 50

- رفض التجار و احتراماً لرغبة أبناء شعبه .

3- اختفاء مهنة الغوص عن اللؤلؤ . ص 29

- بسبب ظهور اللؤلؤ الصناعي علم 1928 م بالإضافة لظهور النفط .

انتهت الاجابة ،،،





وزارة التربية  
التوجيه الفني العام للاجتماعيات

نموذج الإجابة  
امتحان نهاية الفترة الدراسية الأولى  
الصف العاشر  
تاريخ الكويت

للعام الدراسي ٢٠١٦ / ٢٠١٧ م  
الزمن : (ساعتان وربع)  
الأوراق : (٥)

السؤال الأول : ( إجباري ) يتكون من ( أ - ب - ج - د ) :- ( لكل نقطة نصف درجة )

( أ ) ضع خطاً تحت الخيار الصحيح من بين الخيارات التي تلي كل عبارة :-

ص ٢٤

- أول تعداد سكاني لدولة الكويت عام :

- ١٩٥٩ م

- ١٩٥٨ م

- ١٩٥٧ م

- ١٩٥٦ م

ص ٢٠

- تلال على شكل قباب تقع في جنوب دولة الكويت :

- وإره

- اللياح

- كراع المرو

- جال الزور

- قائل هذه المقولة " لو كانت تحت يدي ثروة طائلة لقمّت بحاجة الفقراء والمحتاجين منها إلي أن يموتوا " الشيخ : ص ٥٠

- محمد بن صباح

- عبد الله بن صباح

- صباح الثاني

- جابر الأول

ص ٢٢

- الجزيرة الوحيدة المأهولة بالسكان بدولة الكويت :

- وربة

- عوهه

- فيلكا

- بوبيان



( ب ) رتب الأحداث التاريخية التالية من الأقدم إلى الأحدث :-

الأحداث التاريخية	م
معركة ذات السلاسل ص ٣٧	١
تأسيس شركة الهند الشرقية البريطانية ص ٥٩	٢
حملة مدحت باشا ص ٥٠	٣
اتفاقية الحماية ص ٦٠	٤

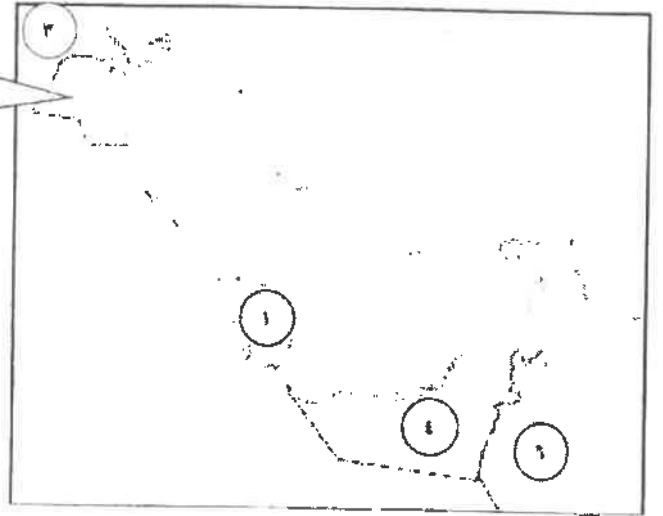
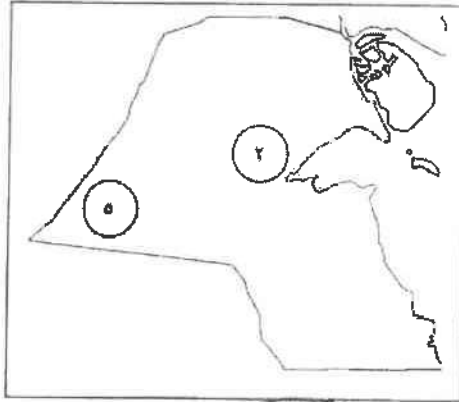
تابع / السؤال الأول :-



( ج ) اكتب المفاهيم أو المصطلحات الدالة على العبارات التالية :-

- ( الصفار ) حرفة يدوية يقوم العاملون بها بصنع وتلميع القدور المستخدمة في المطبخ . ص ٣
- ( الهيرات ) الأماكن التي تكثر فيها منابت المحار المحتوي على اللؤلؤ. ص ٢٩
- ( الترانزيت ) إعادة تصدير الواردات . ص ٣٠
- ( طريق الحرير ) أحد أهم الطرق التجارية الدولية في العالم القديم يبدأ من الصين . ص ٢٦

( د ) أمامك خريطة دول الخليج العربي ودولة الكويت اكتب الرقم الدال على العبارات التي تليها :-



- ص ٤٦ - محطة الاستقرار الأولى لهجرة العتوب يمثلها الرقم ( ١ )
- ص ٥٨ - قوى قامت بتصفية الاستعمار البرتغالي يمثلها الرقم ( ٦ )
- ص ٣٢ - منطقة زراعية قديمة في دولة الكويت يمثلها الرقم ( ٢ )
- ص ٢٤ - دولة قامت بالاعتداء على دولة الكويت عام ١٩٩٠م يمثلها الرقم ( ٣ )

السؤال الثاني : ( اختياري ) يتكون من ( أ - ب - ج )

( أ ) عرف المفاهيم التالية :- ( لكل نقطة درجة )

- القلاف : يقوم بإعداد المواد اللازمة للصناعة السفن ومن ثم عملية البناء نفسها ص ٢٧
- العدول : أكياس كبيرة لحفظ بعض أنواع الطعام توضع على ظهر الدابة وبها حاجات الراكب أيضا . ص ٣٤

( ب ) نفذ المطلوب منك ما بين القوسين :- ( لكل نقطة درجة ) يكتفي بنقطتين

- اعتراز دولة الكويت بتراتها البحري . ( أدلة ) ص ٢٨
- اتخذت صورة سفينة اليوم الكويتي لتكون شعارا للدولة .
- شعار للعملة الوطنية .
- تزين المؤسسات بصور ومشاهدة سفينة اليوم التي تعبر عن عمق ارتباط الكويت وشعبها بتراتها البحري .

- البرتغال من أسوأ النظم الاستعمارية في الخليج العربي . ( الأسباب ) ص ٥٨
- تدمير البرتغاليين القاعدة الاقتصادية لمنطقة الخليج ودولتها .
- احتلال المدن والقرى بطريقة وحشية .

- حرفة الغوص في دولة الكويت . ( تأثيرها على أهل الكويت ) ص ٢٩
- تقوية العلاقات بين السكان وتواصل قيم الصدق والأمانة .
- الاحترام المتبادل وتكوين الأسرة الواحدة .
- التعاون والتعاقد بالمجتمع .
- الالتزام والطاعة .



( ج ) : فرق بين كل مما يلي حسب الجدول التالي :- ( لكل نقطة نصف درجة )

الأعمال والأحداث التاريخية في عهد الشيخ عبد الله الأول	الأعمال والأحداث التاريخية في عهد الشيخ صباح الأول
<ul style="list-style-type: none"> <li>- ازدهرت الإمارة في عهدة حيث امتدت إلى الهند واليمن وشرق أفريقيا والعراق .</li> <li>- معركة الرقة عام ١٧٨٣م</li> <li>- بناء سور الكويت الأول عام ١٨١١م</li> </ul> <p>ص ٤٩</p> <p>( يكتفي بنقطتين )</p>	<ul style="list-style-type: none"> <li>- عمل على توطيد الأمن ونشر العدل وتنظيم أمور السكان</li> <li>- ترسيخ أنشطة الكويت التجارية .</li> <li>- اجتذاب الكثير من المهاجرين الذي وجدوا فيها موطن استقرار ونظام حكم قائم على الشورى .</li> </ul> <p>ص ٤٩</p> <p>( يكتفي بنقطتين )</p>

**السؤال الثالث : ( اختياري ) يتكون من ( أ - ب - ج )**  
**( أ ) علل لما يلي :-**

- ص ٢٧
- ازدهار صناعة السفن في دولة الكويت قديما . ( لكل نقطة درجة ) يكتفي بنقطين
  - هبوب الرياح الموسمية على منطقة الخليج العربي التي ساعدت على دفع السفن نحو شواطئ الهند وشرق آسيا
  - توفر الأيدي العاملة لصناعه السفن
  - تمتع الكويت بواجهة بحرية طويلة تمتد من شمالها إلى جنوبها ويتخللها العديد من التعرجات فضلا عن جون الكويت شمالا وانتشار العديد من الجزر في مياهها الإقليمية ووجود النقع والعمائر الساحلية .
  - براعة الأساكة والقلاليف .

ص ٢٤



ص ٢٦

- توفر مصادر المواد المستخدمة لصناعة السفن .
- قلة الوافدين في دولة الكويت في أعقاب عام ١٩٩٠ م .
- نتيجة للعدوان واحتلال العراقي البائد لدولة الكويت .
- تبع ذلك هجرة كبيرة للوافدين من العرب وغيرهم إلى أوطانهم .
- اتجاه معظم الكويتيين قديما إلى العمل في النشاط البحري .
- تقع الكويت في منطقة صحراوية قليلة الموارد شحيحة الأمطار .
- أرضها غير صالحة للزراعة .

**( ب ) : فرق بين كل مما يلي حسب الجدول التالي :- ( لكل نقطة نصف درجة )**

القفال ص ٢٩	الدشة ص ٢٩
انتهاء موسم الغوص .	بداية دخول الغواصين على اللؤلؤ إلى البحر .
الندافة ص ٣٣	الحياكة ص ٣٣
تنجيد وصناعة المساند والفرش مستخدما القطن .	خياطة الملابس كالبنشوت .

**( ج ) : لاحظ الصورة المقابلة جيدا ثم أجب عن الأسئلة التالية :-**



- ص ٣٦ - ما اسم الحضارة التي تنسب لها الصورة المقابلة ؟
- الحضارة الدلمونية
- ص ٣٦ - اكتب استخدامات ما تجسده الصورة .
- تعويذة .
- ختم تجاري .
- هوية لحاملها .

**السؤال الرابع : ( اختياري ) يتكون من ( أ - ب - ج ) .**

**أ) علل لما يلي : ( لكل نقطة درجة ) يكتفى بنقطتين**

- اتجه البرتغاليون للسيطرة على الخليج العربي في مطلع ق ١٦ م .
- النهضة الملاحية التي شهدتها أوروبا في هذه الفترة وإدراكهم للأهمية الاقتصادية التي من الممكن الاستفادة منها إذا ما سيطروا على هذا الممر المائي المهم .
- سرعة توجه الكشوف الجغرافية والاستعمارية بدافع العامل السياسي والديني على منطقة الخليج العربي حيث كان هناك صراع بينهم وبين العثمانيين .
- اختيار الشيخ صباح الأول للحكم .
- لسماته الشخصية من شجاعة وحكمة .
- كان والده له الزعامة على قومه منذ كانوا في نجد .
- كان مقيماً طوال أيام العام بالكويت .
- عملة في البر خلافاً للبقية الذين كانوا يعملون في البحر .
- الأهمية الاقتصادية للخليج العربي قديماً .
- يقع في موقع متوسط من قارات العالم القديم الثلاث .
- وجود مضيق هرمز الذي يربط بين خليج عمان والخليج العربي .
- توفر الموارد الطبيعية البرية والبحرية ( التمر - اللؤلؤ ) .
- توفر وسائل النقل التجارية ( برا وبحرا ) .

ص ٥٧ -

ص ٤٦

ص ٢٥



**ب) نفذ المطلوب منك بين القوسين : (درجتان لكل نقطة نصف درجة)**

- انهيار الاستعمار الهولندي .
- وضع البريطانيون أيديهم على ممتلكات هولندا في الهند واستولوا على ( سيلان ) ثم على المواقع التجارية الهولندية في ( الخليج العربي ) .
- قيام شاة فارس بمنح البريطانيين بعض الامتيازات .
- ظهرت للبريطانيين الأهمية الإستراتيجية الكبرى لمنطقة الخليج العربي حيث اعتبرته طريق حيوي لحماية إمبراطوريتهم في الهند وحماية مصالحهم هناك .
- قامت بريطانيا بتوسيع وجودها السياسي وتعزيز وجودها العسكري بشكل يضمن لها تحقيق الانفراد في الخليج العربي بشكل كامل وظهرت النوايا والأهداف السياسية الجديدة لبريطانيا التي تهدف إلى تدعيم نفوذها في المنطقة دون منافس في المنطقة .
- كانت العلاقة الكويتية العثمانية علاقة اسمية فلما على الولاء الديني فقط . ( أدلة ) ص ٦١
- عدم وجود أي سلطة عثمانية ( إدارية - سياسية - عسكرية ) فمن أدار شؤون الكويت الداخلية حكامها من آل صباح وأهلها .
- استصدار مدحت باشا الفرمان العثماني الذي حدد فيه علاقة الكويت بالدولة العثمانية والتي تؤكد أن شيخ الكويت مستقل في شؤونه وكما سمح للكويت من ممارسة قضاءها الخاص المستقل عن الدولة العثمانية ولم يتضمن الفرمان وجود قوات عسكرية تابعة للدولة العثمانية ولم يتدخل في فرض الحكام واختيارهم .

**ج) فند لم يتخذ حكام الكويت قديماً أي قرارات تساعد على النمو التجاري والاقتصادي . ( درجتان لكل نقطة درجة )**

- بل اتخذ حكام الكويت العديد من القرارات ذات أبعاد اقتصادية ساعدت على النمو التجاري والاقتصادي للكويت .
- قلة الضرائب على البضائع القادمة للكويت .
- تشجيع بناء السفن الغوص وتأمين طرق التجارة المارة عبر أراضيها حيث أصبحت الكويت سوقاً لسكان البادية ووسط نجد .
- اجتذاب الوكالات التجارية التابعة للشركات الأوروبية للعامة في الخليج العربي حيث انتقلت الوكالة البريطانية للكويت مرتين ( الأولى ١٧٩٣ م والثانية عام ١٨٢١ م ) . \* لا يحاسب الطالب على ذكر السنوات ص ٥٢