

تم تحميل هذا الملف من موقع المناهج الكويتية



منطقة الجهراء التعليمية

الملف نموذج إجابة منطقة الجهراء

موقع المناهج ⇌ المناهج الكويتية ⇌ الصف الثامن ⇌ اجتماعيات ⇌ الفصل الأول

روابط مواقع التواصل الاجتماعي بحسب الصف الثامن



روابط مواد الصف الثامن على تلغرام

[الرياضيات](#)

[اللغة الانجليزية](#)

[اللغة العربية](#)

[التربية الاسلامية](#)

المزيد من الملفات بحسب الصف الثامن والمادة اجتماعيات في الفصل الأول

مسودة كتاب الطالب في مادة الاجتماعيات لعام 2018	1
خطة توزيع منهج العام الجديد في مادة الاجتماعيات	2
حل الوحدة الاولى في مادة الاجتماعيات	3
ورقة عمل في مادة الاجتماعيات	4
ورقة عمل في مادة الاجتماعيات	5



أولاً: الأسئلة الموضوعية وتتكون من (أ ، ب ، ج ، د ، هـ - و - ي):

أ) ضع علامة (✓) أمام العبارة الصحيحة وعلامة (×) أمام العبارات الخاطئة: (٥=٥×١)

- ١- الجهة المسؤولة عن الوقف في دولة الكويت هي وزارة الشؤون الاجتماعية . ص ٢٩ (×)
- ٢- الشيخ الذي افتتح في عهده المسجد الكبير هو الشيخ جابر الأحمد الصباح. ص ٣١ (✓)
- ٣- الهضبة التي تعتبر من اكبر هضاب العالم هي هضبة نجد. ص ٥٧ (×)
- ٤- يعتبر المسجد الأقصى أول القبلتين في الإسلام. ص ٣٣ (✓)
- ٥- برع المسلمين في شق القنوات ومد المجاري الجوفية تحت الأرض. ص ٤٣ (✓)

ب) ضع خطاً تحت الخيار المناسب من بين الخيارات التي تلي كل عبارة : (٥=٥×١)

- ١- العام الذي أصدرت فيه الأمم المتحدة قراراً بإدخال اللغة العربية ضمن اللغات الرسمية فيها : ص ٢١
١٩٧٠ م - ١٩٧١ م - ١٩٧٢ م - ١٩٧٣ م
- ٢- حاكم دولة الكويت الذي لقب بـ قائد العمل الإنساني: ص ٢٤
- الشيخ جابر الأحمد - الشيخ سعد العبدالله - الشيخ صباح الأحمد - الشيخ نواف الأحمد
- ٣- القصر الذي يعتبر نموذجاً مميزاً للعمارة الإسلامية : ص ٣٥
- قصر عمرة - قصر الحمراء - قصر الخضراء - قصر الرصافة
- ٤- أكبر الدول الإسلامية من حيث المساحة : ص ٥٢
- السعودية - مصر - إيران - كازاخستان
- ٥- تقع دولة الكويت ضمن الإقليم المناخي : ص ٦٣
- المداري - الصحراوي - الاستوائي - الموسمي الحار

ج) رتب ترتيباً تنازلياً للخلفاء الراشدين من حيث توليهم للخلافة : (٤=٤×١) ص ٢٦

- عثمان بن عفان - أبو بكر الصديق - علي بن أبي طالب - عمر بن الخطاب

أبو بكر الصديق	عمر بن الخطاب	عثمان بن عفان	علي بن أبي طالب
----------------	---------------	---------------	-----------------

(د) أكمل العبارات التالية بما يناسبها من الكلمات: (١×٤=٤)

- ١- الخليفة الراشد الذي استحدث منصب المحتسب اسمه عمر بن الخطاب . ص ٢٥
- ٢- أصغر دول العالم الإسلامي من حيث المساحة تسمى المالديف . ص ٥٢
- ٣- العالم الإسلامي الذي كان يؤمن بكروية الأرض اسمه الشريف الإدريسي . ص ٤٢
- ٤- المدينة التي أنشأ فيها المسلمون ديوان الماء تسمى مدينة مرو . ص ٢٧

(هـ) أكتب المصطلح الدال على العبارات التالية: (١×٢=٢)

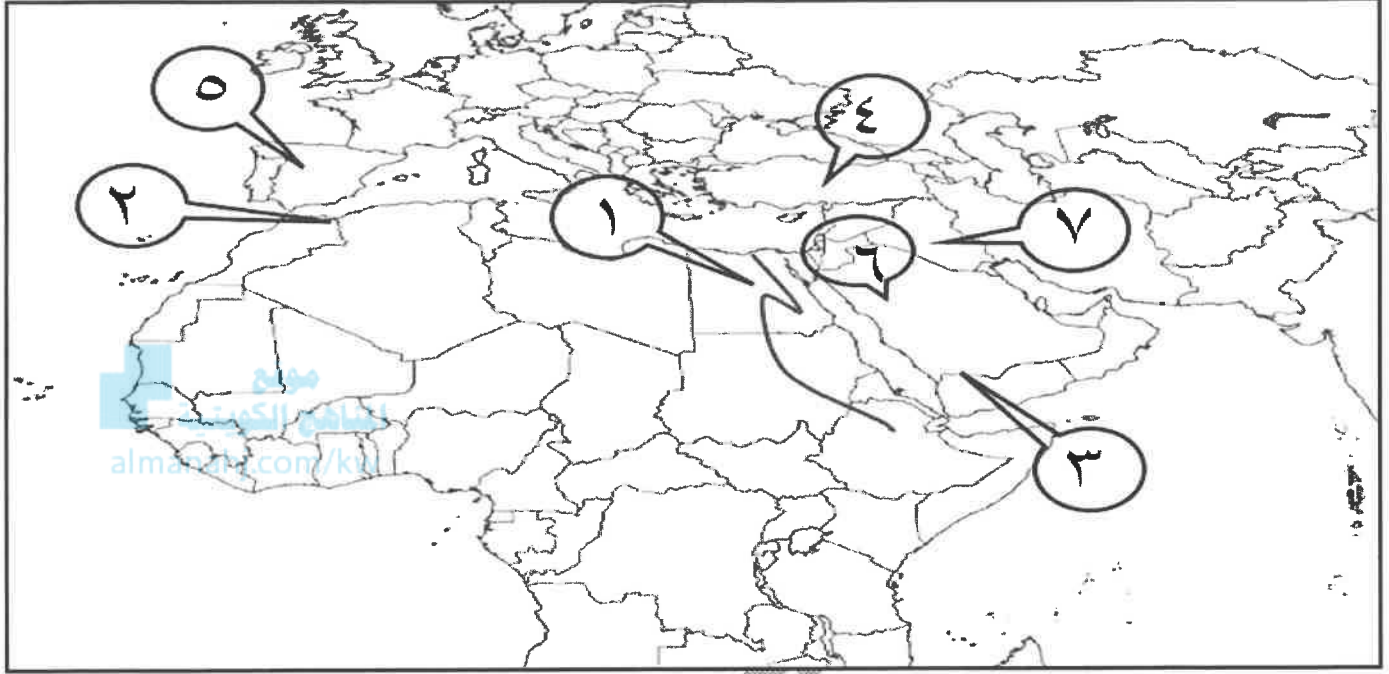
١. (أهل الذمة) هم النصارى واليهود الذين ظلوا على دينهم مع دفع الجزية. ص ٣٦
٢. (اقليم مناخي) هي مساحة من الأرض تتصف بعناصر مناخية متشابهة. ص ٦٥

(و) اختر للمجموعة (أ) ما يرتبط بها من المجموعة (ب) بوضع الرقم في المكان المناسب: (١×٤=٤)

الرقم	المجموعة (أ)	المكان المناسب	المجموعة (ب)
١	الجبر والمقابلة ص ٣٩	٣	الجاحظ
٢	الحاوي في الطب ص ٤٠		البكري
٣	كتاب الحيوان ص ٤٠	٤	البيروني
٤	الصيدلة في الطب ص ١٨-١٩	١	الخوارزمي
		٢	أبو بكر الرازي

تابع السؤال الأول:

ي) أمامك خريطة العالم الإسلامي نفذ المطلوب مما يليها : (٦=٦×١)



١- اكتب الرقم الدال على العبارات التالية:

- جبال أطلس يمثلها على الخريطة الرقم (٢) . ص ٥٤
- بلاد الأندلس يمثلها الخريطة على الرقم (٥) . ص ٤١
- هضبة الأناضول يمثلها الخريطة على الرقم (٤) . ص ٥٦
- المدينة المنورة يمثلها الخريطة على الرقم (٦) . ص ١٧
- مركز بيت الحكمة يمثلها الخريطة على الرقم (٧) . ص ٣٨
- سهول وادي النيل يمثلها على الخريطة الرقم (١) . ص ٥٩

أ- أجب عن الأسئلة التالية: (٤ درجات لكل سؤال درجتين)

١- عدد العوامل التي ساهمت في نقل الحضارة الإسلامية. ص ٢٤
- حركة الترجمة - العلاقات التجارية .

٢- عدد جهود المسلمين في الزراعة. ص ٢٦ (يكتفى بنقطتين)
- شق القنوات المائية والترع . - إقامة السدود . - تنظيم وسائل الري .

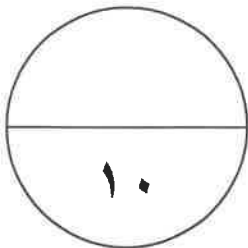
ب - برهن على صحة العبارات التالية: (٤ درجات لكل سؤال درجتين)

١- انعكس أثر الحضارة الإسلامية على دولة الكويت. ص ٢٤ (يكتفى بنقطتين)
- نشأ الشعب الكويتي على الحب والتراحم والعدل والمساواة ومد يد العون سواء للمسلمين أو غير المسلمين - العمل على فعل الخير من خلال تأسيس المؤسسات الهيئات والجمعيات الخيرية مثل بيت الزكاة الكويتي والهيئة الخيرية الإسلامية - برز فيها العديد من الشخصيات في مجال العمل الخيري والإنساني معاً وعلى قمة هذه الشخصيات الشيخ صباح الأحمد الصباح (رحمه الله) والذي لقب في سبتمبر من عام ٢٠١٤م من قبل الأمم المتحدة بقائد العمل الإنساني ويأتي من بعده الداعية الدكتور عبدالرحمن السميّط (رحمه الله).

٢- تعتبر الحضارة الإسلامية حضارة إنسانية . ص ٢٣
- تميزت الحضارة الإسلامية باحترامها للأديان - ساوت بين الشعوب كافة من دون النظر إلى العرق أو اللون أو الدين.

ج - علل لما يلي: (درجتان)

١- تنوع المناخ في دول العالم الإسلامي. ص ٦٣ (درجتان ويكتفى بنقطتين)
- امتداد دول العالم الإسلامي على مساحة شاسعة . - الموقع بالنسبة لدوائر العرض
- الإطلالة على عدة مسطحات مائية في معظم أجزائه - التنوع في التضاريس من جبال وهضبات وسهول ووديان .



تابع / نموذج الاجابة لامتحان مقرر دولة الكويت والعالم الإسلامي - الصف الثامن - الفترة الأولى - العام الدراسي ٢٠٢٢ - ٢٠٢٣ م
تابع : الأسئلة المقالية :
السؤال الثالث يتكون من (١ - ب - ج) :

أ- عرف ما يلي : (٤ درجات لكل سؤال درجة)

١- التضاريس: أشكال سطح الأرض . ص ٥٣

٢- الوادي : حوض أو منخفض طبيعي على سطح الأرض. ص ٥٣

٣- احتياطي النفط: كمية النفط المخزونة في باطن الأرض ولم تستخرج بعد . ص ٦٨

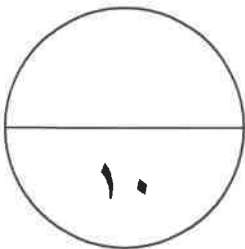
٤- الغلات النقدية: المحاصيل التي تزرع من أجل التصدير مثل القطن والجوت والمطاط الطبيعي . ص ٧٣

ب - فرق بين كل مما يلي: (٤ درجات لكل سؤال درجتين)

الخراج ص ٢٨	الجزية ص ٢٩
ضريبة الأرض الزراعية التي تخرج مبلغاً مالياً معيناً من ناتج المحصول الزراعي .	مبلغ مالي يدفع الرجال غير المسلمين من (أهل الذمة) ممن هم قادرون على حمل السلاح نظير حماية الدولة لهم.
الطقس ص ٦٤	المناخ ص ٦٤
هو حالة الجو في مكان لمدة قصيرة تتراوح بين يوم أو عدة أيام من حيث درجة الحرارة والرطوبة والأمطار والضغط الجوي.	هو حالة الجو خلال فترة زمنية طويلة من حيث (عناصره) وهي درجة الحرارة والرطوبة والأمطار والضغط الجوي.

ج - دلل على صحة العبارة التالية : (درجتان لكل نقطة درجة) ص ٥٨

١ - للسهول أهمية كبيرة في حياتنا.
- استخدامها كموانئ طبيعية . - تشييد المدن - تركيز السكان فيها لسهولة النقل



السؤال الرابع يتكون من (١ - ب - ج) :

أ - اقرا الفقرة التالية ثم أجب عما يليها من أسئلة: (درجتان لكل سؤال درجة) ص ٢٧

(اهتمت الدولة الإسلامية بالصناعة اهتماما كبيراً من أجل استثمار الموارد الطبيعية المتوفرة بها
فظهرت صناعات متعددة ومتنوعة منها صناعة السفن وصناعة الأسلحة وصناعة الورق وصناعة
المنسوجات وصناعة الخزف والمعادن وكذلك برزت الصناعات الخشبية مثل صناعة الارابيسك) .

١ - عدد الصناعات التي ظهرت بالدولة الإسلامية ؟

- صناعة السفن وصناعة الأسلحة وصناعة الورق وصناعة المنسوجات وصناعة الخزف والمعادن
والصناعات الخشبية مثل صناعة الارابيسك .

٢ - علل تسمية الارابيسك بهذا الاسم ؟

-نسبة إلى العرب .



ب - فسر لما يلي: (٤ درجات لكل سؤال درجتين)

١ - لقيت التجارة تشجيعاً كبيراً في الحضارة الإسلامية . ص ٢٨ (درجتان)

- دورها في التبادل التجاري مع المناطق المجاورة . - أسهمت في نشر الدين الإسلامي .

٢ - أذكر سبب قلة السكان في المناطق الجبلية في دول العالم الإسلامي . ص ٥٥ (درجتان يكتفى

بنقطتين)

- شدة انحدارها - قلة وجود الأوكسجين - صعوبة التنقل - ندرة المياه .

ج - تفذ المطلوب ما بين الأقواس: (٤ درجات لكل سؤال درجتين)

١ - ازدهار العلم وظهور العلماء في العالم الإسلامي . ص ٣٧ (العوامل) (درجتان ويكتفى بنقطتين)

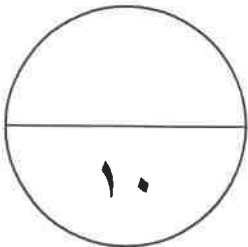
- تشجيع العلماء ورعاية وتمويل القيادات السياسية لهم من خلفاء وملوك وسلطين وأمراء .

- التنافس العلمي بين الدول الإسلامية . - حركة التعريب (الترجمة) للكتب القديمة اليونانية والهندية

والفارسية وغيرها . - الرخاء الاقتصادي .

٢ - الحضارة الإسلامية . ص ٢٠ (الأسس) (درجتان ويكتفى بنقطتين)

- الدين الإسلامي - اللغة العربية - الحضارات الأخرى .



انتهت الأسئلة ،،،،