

تم تحميل هذا الملف من موقع المناهج الكويتية



منطقة الفروانية التعليمية

الملف نموذج إجابة منطقة الفروانية التعليمية

موقع المناهج ← المناهج الكويتية ← الصف السابع ← اجتماعيات ← الفصل الثاني

روابط مواقع التواصل الاجتماعي بحسب الصف السابع



روابط مواد الصف السابع على تلغرام

[الرياضيات](#)

[اللغة الانجليزية](#)

[اللغة العربية](#)

[التربية الاسلامية](#)

المزيد من الملفات بحسب الصف السابع والمادة اجتماعيات في الفصل الثاني

مذكرة موضوعية محلولة	1
حل الكتاب	2
حل الوحدة الرابعة في مادة الاجتماعيات	3
بنك اسئلة التربية سابع	4
مراجعات الصف السابع	5



وزارة التربية
الإدارة العامة لمنطقة الفروانية التعليمية
التوجيه الفني للاجتماعيات

العام الدراسي ٢٠٢٤ / ٢٠٢٥ م
الزمن: ساعة وخمس وأربعون
عدد الأوراق: (٦)

امتحان نهاية الفترة الدراسية الثانية
لمقرر/ الكويت والوطن العربي
الصف السابع

نموذج الإجابة

السؤال الأول (موضوعي) ويتكون من (أ - ب - ج - د - هـ - و) : (لكل إجابة درجة)

(أ) ظلل الخيار الصحيح من بين الخيارات التي تلي كل عبارة:

ص ١١٤

١- الدولة العربية التي تحتل المركز الأول في إنتاج البن :

الجزائر	المغرب	اليمن	عمان
---------	--------	-------	------

almanahj.com/kw

ص ٩٩

٢ - يبلغ عدد دول الوطن العربي :

٢٢ دولة	٢٣ دولة	٢٤ دولة	٢٥ دولة
---------	---------	---------	---------

ص ١٦٨

٣ - الطبقة التي تحمي الأرض من الأشعة فوق البنفسجية الضارة :

الأوزون	النيتروجين	ثاني أكسيد الكربون	الأكسجين
---------	------------	--------------------	----------

ص ١٨٤

٤- تأسس الصندوق الكويتي للتنمية الاقتصادية العربية في عهد الشيخ :

سالم المبارك الصباح	أحمد الجابر الصباح	عبدالله السالم الصباح	صباح السالم الصباح
---------------------	--------------------	-----------------------	--------------------

ص ١١٣

(ب) صنّف المحاصيل الزراعية حسب نوعها في الجدول التالي :

[البن - الأرز - العنب - الذرة - الزيتون - الحمضيات]

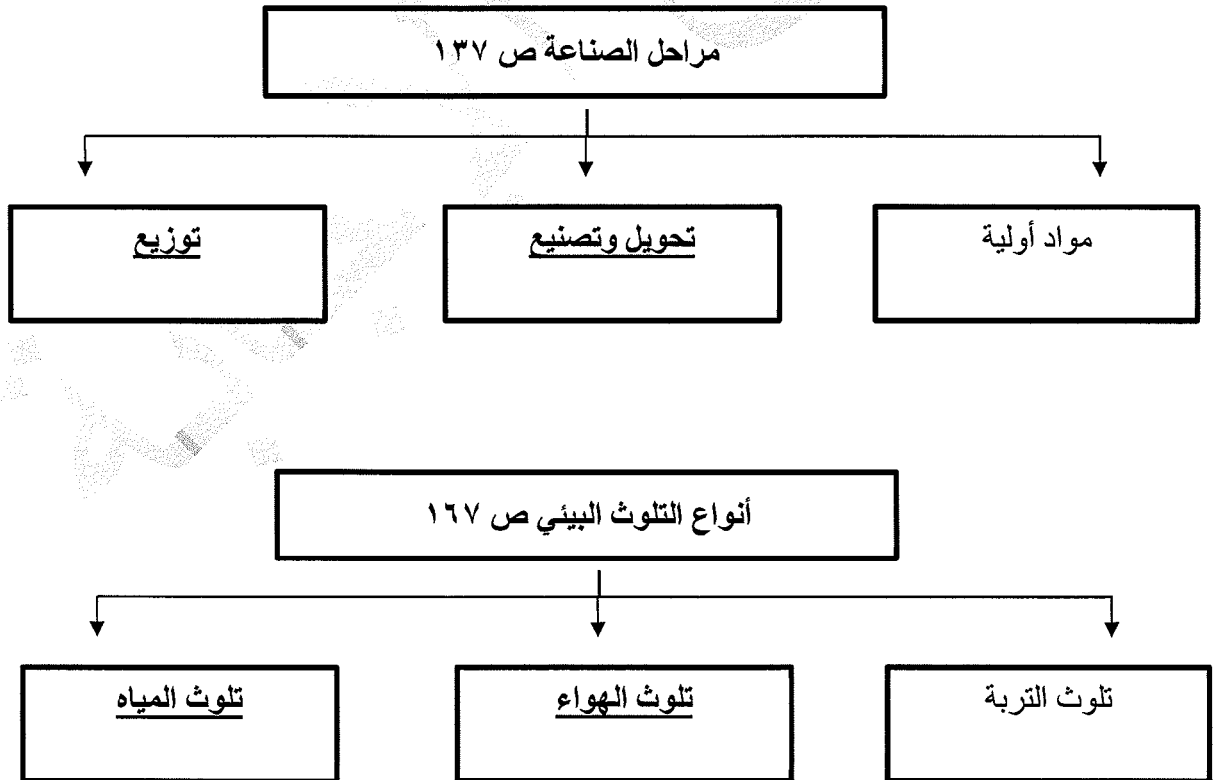
الحبوب الغذائية	الغلات الصناعية والتجارية	الفواكه والخضار
الذرة - الأرز	البن - الزيتون	العنب - الحمضيات

تابع السؤال الأول (الموضوعي) :

ج) أكمل العبارات التالية بما يناسبها :

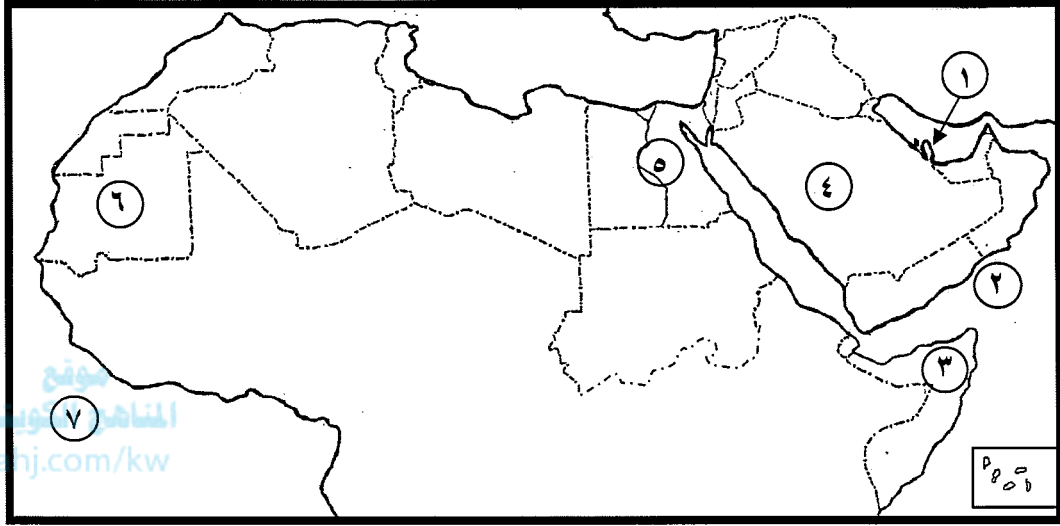
- ١- الغلات التي تدخل في الصناعة وتزرع بغرض التجارة والحصول على نقد تسمى الغلات النقدية ص ١١٣
- ٢- الزيادة السكانية التي يكون فيها الفرق بين معدل المواليد ومعدل الوفيات تسمى زيادة طبيعية ص ١٠٦
- ٣- العام الذي تم فيه إنشاء الصندوق الكويتي للتنمية الاقتصادية العربية ١٩٦١م ص ١٧٩
- ٤- أكثر أنواع ملوثات البيئة إنتشاراً في الوطن العربي يسمى التلوث الكيميائي ص ١٦٦
- ٥- الدولة العربية التي تحتل المركز الأول من حيث إنتاج النفط الخام تسمى السعودية ص ١٢٩
- ٦- صناعة تقوم على عملية تركيب وجمع المواد المصنعة كي نحصل على سلع متنوعة تسمى التجميعية ص ١٤٣

د) أكمل المخططات السهمية التالية :



تابع السؤال الأول (الموضوعي) :

هـ) لاحظ خريطة الوطن العربي ثم أكتب مدلولات الأرقام التالية :



- الدولة العربية الأولى في إنتاج الحديد يمثلها على الخريطة الرقم ٦ ص ١٣٢
- الدولة العربية الأولى في إنتاج الغاز الطبيعي يمثلها على الخريطة الرقم ١ ص ١٢٩
- نهر النيل يمثله على الخريطة الرقم ٥ ص ١٤٩
- بحر العرب يمثله على الخريطة الرقم ٣ ص ١٣٣
- المحيط الأطلسي يمثله على الخريطة الرقم ٧ ص ١٣٣

و) اكتب المفهوم أو المصطلح الدال على العبارات التالية :

- ١- (الموارد الطبيعية) الثروات التي منحها الله لإقليم من دون أن يكون للإنسان أي دور في وجودها . ص ١٠٩
٢- (الإحصاء الحيوي) تسجيل المواليد والوفيات وحالات الزواج والطلاق من واقع السجلات الرسمية للدولة . ص ٩٩
٣- (التنمية) تعني التطور والتطوير وهي عملية تتطلب التخطيط والمشاركة من الجميع . ص ١٧٢
٤- (النمو السكاني) تزايد عدد السكان من عام لآخر نتيجة للزيادة الطبيعية للسكان . ص ١٠٦
٥- (التصحر) زحف رمال الصحراء على المناطق الجافة وشبه الجافة . ص ١٦٢

السؤال الثاني (المقالى) يتكون من : [أ ، ب ، ج]

(أ) قارن بين كل من : (٤ درجات)

أوجه المقارنة	منظمة الأوبك ص ١٣٤	منظمة الأوبك ص ١٣٥
تاريخ التأسيس	١٩٦٠م	١٩٦٨م
مقر المنظمة الحالي	فيينا	الكويت

ب (عدد لكل مما يلي :

١- طرق الحفاظ على ثروة المياه . يكتفى بنقطتين (درجتان) ص ١٦٥

- ترشيد استخدام المياه والحد من التبذير في المنازل .
- الحد من هدر المياه في عمليات الري، وذلك باستخدام الوسائل الحديثة كالرش بالتنقيط والمحوري .
- تنظيم عملية الاستفادة من المياه الجوفية ومنع تسرب الأملاح الملوثة إليها واستثمارها على الوجه الأمثل .
- تطوير استعمال مياه الصرف الصحي المعالجة في الزراعة و التنظيف .
- إقامة البحيرات والسدود لتجميع مياه الأمطار والسيول للاستفادة منها في فصل الجفاف .
- توقيع اتفاقيات مع الدول المشاركة ودول المنبع لتحقيق مصالح الدول العربية المعنية .

٢- المشكلات التي تواجه التنمية البشرية. يكتفى بنقطتين (درجتان) ص ١٧٥

- ضعف الاستفادة من القدرات البشرية في المنطقة العربية .
- مشكلة الأمية . - نقص ومحدودية مشاركة المرأة في المنظمات السياسية .
- الاختلاف الكبير في مستويات المعيشة بين دولة وأخرى وفي داخل الدولة الواحدة .


ج) أكتب أهداف الصناعات البتروكيميائية . (يكتفى بنقطتين - درجتان) ص ١٤٥

- تنويع مصادر الدخل للدولة المنتجة .
- توفير المواد الأولية للصناعات التحويلية لتأمين حاجات القطاعات الاستهلاكية (خاصة مجال البناء)
- تطوير الصناعات البتروكيميائية إلى تقنيات متخصصة وعالية .

السؤال الثالث (المقالى) ويتكون من : [أ ، ب ، ج]

(٤ درجات) (١٨٦ ص) أ) لاحظ الصورة التي أمامك ثم أجب عما يلي:

١- اكتب - اسم المؤتمر الذي استضافته دولة الكويت في الفترة ما بين (١٩-٢٠ يناير) ٢٠٠٩ م (درجة)
- القمة العربية الاقتصادية التنموية و الاجتماعية .



٢- اكتب - اسم صاحب مبادرة عقد المؤتمر . (درجة)
- الشيخ صباح الأحمد الصباح رحمه الله .

٣ - عدد - أهم أهداف هذا المؤتمر . (درجتان ويكتفى بنقطتين)
- إنشاء بنك عربي لتمويل شتى المشاريع التنموية للتقليل من معدلات الفقر
- القضاء على البطالة و الفقر بتوفير فرص العمل .
- الاستثمار الاقتصادي بين الدول العربية وتقوية التبادل التجاري .
- الاعتناء بالعنصر البشري و التنمية المستدامة .

ب) علل لما يلي :

١- تحتل الأغنام العربية مكاناً مهماً ضمن الثروة الرعوية . (درجتان - يكتفى بنقطتين) ص ١١٨
- الأكثر انتشاراً في المراعي العربية .
- أكثر الحيوانات المستأنسة والملائمة لمراعي الوطن العربي لتحملها للجفاف والانتقال .
- أهمية منتجاتها بالنسبة للسكان .
- مصدر أساسي من مصادر الثروة القومية .

٢- تدني وفرة المياه في الوطن العربي . (درجتان - يكتفى بنقطتين) ص ١٦٤
- النمو السريع للسكان .
- ٥٠٪ من الموارد المائية في العالم العربي تأتي من خارج حدوده .
- استخدام الطرق التقليدية في استغلال المياه (مثل الري بالغمر) .
- الشبكات المؤهلة لنقل المياه شبكات قديمة .
- افتقار الدول العربية إلى برامج لإدارة المياه و لاستخدام الأدوات الاقتصادية لترشيد استهلاك المياه .

ج) عرّف مايلي : (لكل إجابة درجة)

١- الكثافة السكانية : نسبة عدد السكان الكلي في دولة ما أو منطقة ما إلى المساحة الكلية لهذه الدولة أو المنطقة .

ص ١٠٢

٢- الغاز الطبيعي : غاز مصاحب للنفط الخام أو يوجد منفرداً تتم اسالته لاستخدامات عديدة . ص ١٢٥

السؤال الرابع (المقالى) ويتكون من : [أ ، ب ، ج]
(أ) إقرأ الفقرة التالية ثم أجب عما يليها من أسئلة :

ترتفع الكثافة السكانية في المناطق التي تتمتع بمقومات طبيعية ملائمة ، لذلك تقسم مناطق الوطن العربي لمناطق مرتفعة الكثافة ومتوسطة الكثافة ومنخفضة الكثافة وأخرى شبه خالية من السكان .
فرغم الصعوبات التي تواجه السكان في بعض أنواع التضاريس استطاع الإنسان التغلب عليها .

- ١- استخرج من الفقرة السابقة أقسام مناطق الوطن العربي من حيث الكثافة السكانية . (درجتان - يكتفى بنقطتين) ص ١٠٣
- المناهج الكويتية
almanahj.com/kw
- مناطق مرتفعة الكثافة
 - مناطق متوسطة الكثافة
 - مناطق منخفضة الكثافة
 - مناطق شبه خالية من السكان .
- ٢- اقترح - حلولاً للتغلب على الصعوبات التي تواجه الإنسان في العيش في المناطق الجبلية .
- تحويل الجبال إلى مدرجات وزراعتها .
 - شق العديد من الطرقات .
- (درجتان - يكتفى بنقطتين) حسب ما يراه المصحح ص ١٠٥

(ب) فرّق بين كل مما يلي : (٤ درجات / لكل نقطة درجة)

هجرة خارجية ص ١٠٦	هجرة داخلية ص ١٠٦
- الهجرة من دولة إلى دولة أخرى .	- الهجرة من القرى إلى المدن .
التجارة البينية ص ١٥٢	التبادل التجاري ص ١٥١
- التبادل التجاري بين الدول العربية	- عمليتا التصدير و الاستيراد بين الدول

- (ج) اكتب نتائج السياسات التنموية للدول العربية في معالجة مشكلة التصحر . (درجتان - يكتفى بنقطتين) ص ١٦٣
- زيادة الإنتاج عن طريق الأساليب العلمية .
 - زيادة المساحات المزروعة .
 - إقامة مشروعات الري .

انتهت الإجابة