



وزارة التربية

الإدارة العامة لمنطقة مبارك الكبير التعليمية

التوجيه الفني للاجتماعيات

العام الدراسي: ٢٠٢٤/٢٠٢٥

الزمن: ساعة و ٤٥ دقيقة

عدد الأوراق: (٥)

امتحان الفترة الدراسية الثانية
لمقرر الكويت ودول الخليج العربية
للفص السادس



السؤال الأول: (موضوعي) يتكون من (أ - ب - ج):

(أ) ضع خطأ تحت الخيار الصحيح من بين الخيارات التي تلي كل عبارة :

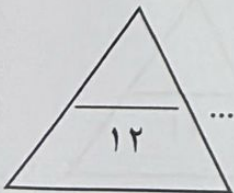
- ١- الدولة التي لها تجربة رائدة في إنتاج محصول القمح :
أ- المملكة العربية السعودية ب- دولة قطر ج- مملكة البحرين د- دولة الكويت
- ٢- ترجع أصول السلالات السكانية في منطقة الخليج العربية إلى جنس البحر المتوسط وشرق :
أ- آسيا ب- أوروبا ج- استراليا د- أفريقيا
- ٣- الديسيل وحدة تستخدم لقياس شدة :
أ- الحرارة ب- الرطوبة ج- الضوضاء د- الرياح
- ٤- عدد الأبار النفطية الكويتية التي تم إحراقها من قبل العدوان العراقي :
أ- ٥٣٧ ب- ٦٣٧ ج- ٧٣٧ د- ٨٣٧

(ب) صح ما تحته خط في العبارات التالية وذلك بكتابة الإجابة الصحيحة في مكانها المناسب حسب الجدول:

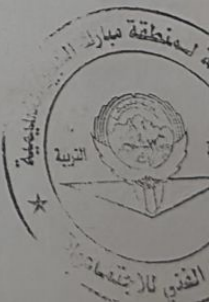
م	العبارة	التصويب
١	تحويل المواد الخام إلى مواد يمكن الاستفادة منها اسمها <u>الزراعة</u>
٢	تقع منطقة الخليج العربية ضمن <u>الاقليم الاستوائي</u>
٣	المدينة التي تم فيها الإعلان عن قيام السوق الخليجية المشتركة اسمها <u>المنامة</u>
٤	العام الذي تعرضت فيه دولة الكويت للغزو العراقي الغاشم ١٩٩٥ م.

(ج) اكتب المفاهيم أو المصطلحات الدالة على العبارات التالية :

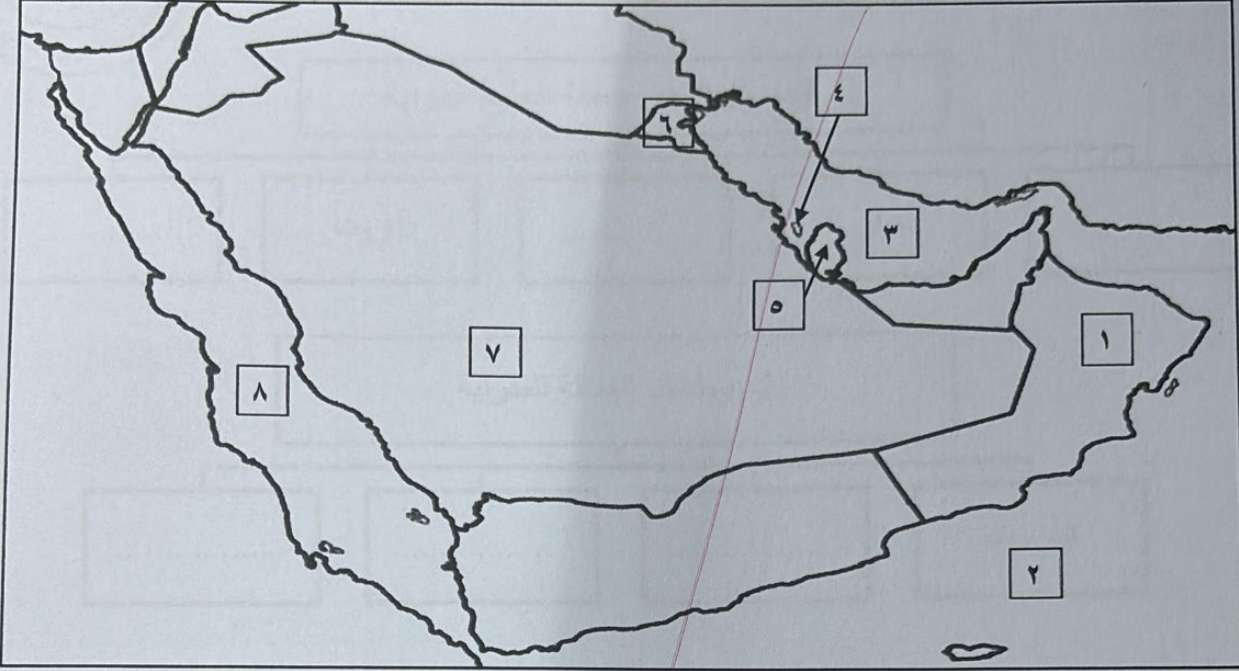
م	المفهوم أو المصطلح	التعريف
١	إعادة تصدير البضائع المستوردة.
٢	عدد السكان في الكيلو متر المربع وتقاس بقسمة عدد السكان على مساحة الدولة.
٣	الضرر الذي يصيب عناصر البيئة الأساسية فتتحول من عناصر مفيدة إلى عناصر ضارة.
٤	السلوك العدواني الموجه ضد الغير والذي يتسم بالتخريب والتدمير سواء كان ذلك السلوك أفعالاً أو أفعالاً.



مجموع الدرجات بالحروف



السؤال الثاني: (موضوعي) يتكون من (أ- ب):
(أ) لاحظ خريطة دول الخليج العربية التي أمامك ثم اكتب الرقم الدال على العبارات التالية:



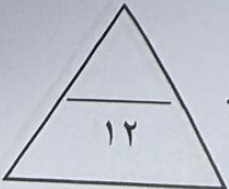
- ١: الدولة التي يوجد فيها حقل برقان يمثلها على الخريطة الرقم
- ٢: حقل دخان النفطي يمثلها على الخريطة الرقم
- ٣: الخليج العربي يمثلها على الخريطة الرقم
- ٤: الدولة التي يقع فيها سهل الباطنة يمثلها على الخريطة الرقم
- ٥: منطقة نجد يمثلها على الخريطة الرقم
- ٦: المنطقة التي هاجر إليها آل خليفة يمثلها على الخريطة الرقم

ب) صنف الكلمات التالية حسب مكانها الصحيح في الجدول الذي يليها:
(بني ياس - المعاصيد - آل صباح)

منطقة الاستقرار	الكويت	قطر	أبو ظبي
الهجرة

(سيارات - براكين - حرق النفايات)

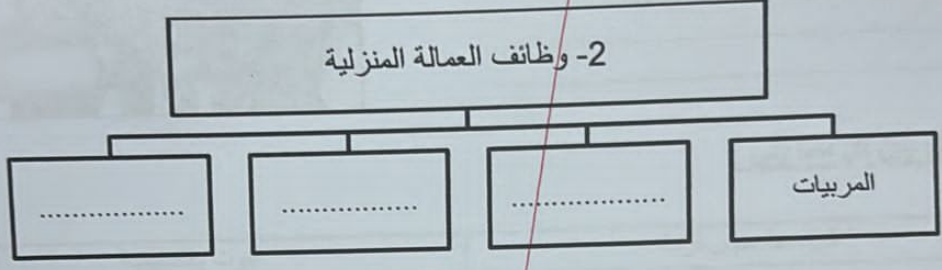
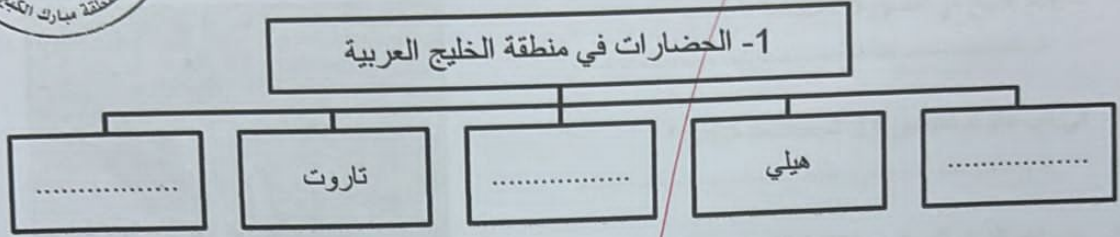
مصادر تلوث الهواء	
طبيعية	غير طبيعية
.....
.....





تابع/ امتحان الفترة الدراسية الثانية / لمقرر الكويت ودول الخليج العربية / الصف السادس / العام الدراسي ٢٠٢٤ - ٢٠٢٥

السؤال الثالث: (موضوعي) يتكون من (أ - ب - ج):
(أ) أكمل المخططات السهمية التالية:

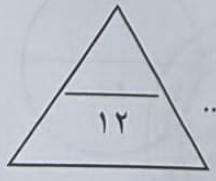


(ب) اختر من المجموعة (أ) ما يناسبها للمجموعة (ب) بوضع الرقم الصحيح في المكان المناسب:

المجموعة (أ)	الرقم الصحيح	المجموعة (ب)	م
مجالات التعاون بين دول مجلس التعاون الخليجي	مظاهر التعاون بين دول مجلس التعاون الخليجي	٤
التعاون العسكري	توحيد المناهج التعليمية وتطويرها.	١
التعاون الاقتصادي	إدانة احتلال الجزر الإماراتية الثلاث.	٢
التعاون الثقافي	انشاء قوة مشتركة تضم جميع دول مجلس التعاون الخليجي (درع الجزيرة)	٣
.....	زيادة التبادل التجاري

(ج) أكمل العبارات التالية بما يناسبها:

- ١- الدولة الخليجية التي تحتل المركز السادس في عدد السكان اسمها
- ٢- المدينة التي يقع فيها مقر مكتب التربية العربي اسمها
- ٣- طبقة في الغلاف الجوي تعتبر الدرع الواقي للأحياء ضد خطر الأشعة فوق البنفسجية الضارة اسمها



مجموع الدرجات بالحروف



السؤال الرابع: المعقالي ويتكون من (أ - ب - ج) :

(أ) لاحظ الصورة التي أمامك ثم أجب عن الأسئلة التالية:

١- ما اسم الشيخ في الصورة المعقالية ؟



٢- في أي علم تم تصدير أول شحنة نפט كويتي ؟

٣- عدد أهم الدول المستوردة للنפט الكويتي.

(ب) فرق بين كل مما يلي :

بيوت بلاستيكية	الزراعة بدون تربة
الواردات	الصادرات
الزيادة الغير طبيعية	الزيادة الطبيعية

(ج) علل لما يلي :

١- إقامة العديد من الموانئ النفطية في دول الخليج العربية .

٢- حدوث التلوث الأرضي (التربة).

مجموع الدرجات بالحروف



السؤال الخامس : المقالى ويتكون من (أ - ب - ج) :

(أ) اقرأ الفقرة التالية ثم أجب عما يليها من أسئلة :

" يتشابه سكان دول الخليج العربية تشابهاً ثقافياً كبيراً، وهذا التشابه كان نتيجة الروابط المشتركة بين أبناء دول الخليج العربية. حيث تربطهم وحدة الأصل والعادات والتقاليد المشتركة والدين الإسلامي واللغة العربية. وبذلك أصبحت دول الخليج العربية كالجسد الواحد في السراء والضراء طوال تاريخهم. "

١ - عرف - الثقافة.

٢ - عدد - الروابط المشتركة التي تربط بين أبناء دول الخليج العربية.

(ب) عرّف المفاهيم أو المصطلحات التالية :

١ - إنتاج النفط:

٢ - تلوث التربة (الأرضي):

(ج) عدد اثنين لكل مما يلي :

١ - أنواع الهجرات في شبه الجزيرة العربية.

٢ - أسباب التلوث المائي.

٣ - الحلول المقترحة لمعالجة مشكلة العنف.

مجموع الدرجات بالحروف

انتهت الأسئلة

