

تم تحميل هذا الملف من موقع ملفات الكويت التعليمية



[com.kwedufiles.www//:https](https://www.kwedufiles.com)

*للحصول على أوراق عمل لجميع الصفوف وجميع المواد اضغط هنا

* للحصول على أوراق عمل لجميع مواد الصف السادس اضغط هنا

<https://kwedufiles.com/6>

* للحصول على جميع أوراق الصف السادس في مادة رياضيات وجميع الفصول, اضغط هنا

<https://kwedufiles.com/6math>

* للحصول على أوراق عمل لجميع مواد الصف السادس في مادة رياضيات الخاصة بـ الفصل الأول اضغط هنا

<https://www.kwedufiles.com/6math1>

* لتحميل كتب جميع المواد في جميع الفصول للـ الصف السادس اضغط هنا

<https://www.kwedufiles.com/grade6>

[bot_kwlinks/me.t//:https](https://t.me/bot_kwlinks)

للحصول على جميع روابط الصفوف على تلغرام وفيسبوك من قنوات وصفحات: اضغط هنا

الروابط التالية هي روابط الصف السادس على مواقع التواصل الاجتماعي

مجموعة الفيسبوك

صفحة الفيسبوك

مجموعة التلغرام

بوت التلغرام

قناة التلغرام

رياضيات على التلغرام



imtiaz

منصة إمتياز التعليمية

الاختبار التقييمي الأول

الصف السادس

(٣-٣)، (٧-٢)، (٦-٢)، (٥-١)، (٣-١)



أوجد المتوسط الحسابي والوسيط والمنوال والمدى للبيانات التالية

٥ ، ٣ ، ١٢ ، ٧ ، ٣

..... = المدى

..... = المنوال

..... = الوسيط

..... = المتوسط الحسابي

أوجد المتوسط الحسابي والوسيط والمنوال والمدى للبيانات التالية

٩ ، ٨ ، ١ ، ١٢ ، ١٢ ، ٧ ، ٧ ، ٨ ، ٨

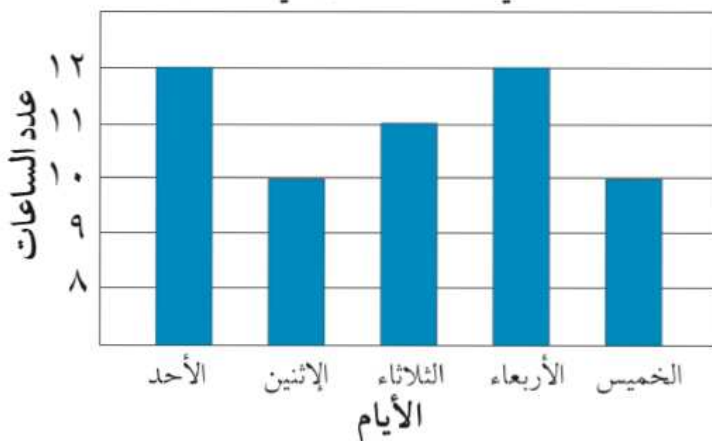
..... = المدى

..... = المنوال

..... = الوسيط

..... = المتوسط الحسابي

عدد الساعات التي يقضيها ناصر في تدريب الخيول



من التمثيل البياني المقابل أوجد:

..... = المدى

..... = الوسيط

..... = المنوال

..... = المتوسط الحسابي

أوجد المتوسط الحسابي والوسيط والمنوال والمدى للبيانات التالية

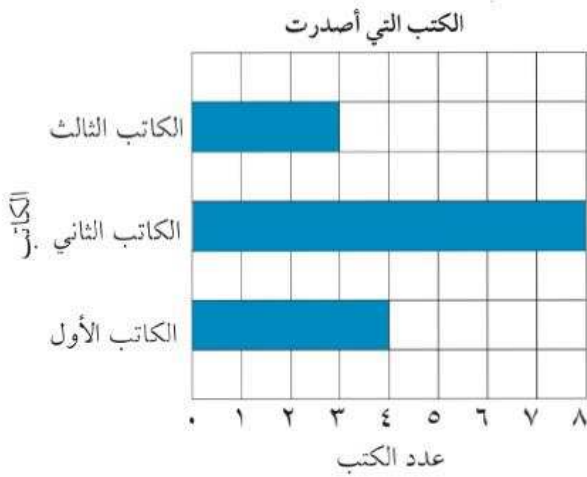
١٢، ٩، ٧، ٢، ٥، ٦، ٤، ٣

المدى =

المنوال =

الوسيط =

المتوسط الحسابي =



استخدم التمثيل بالأعمدة المبيّن أدناه لتحلّ التمارين من ١ إلى ٣.

١ أي كاتب أصدر أكبر عدد من الكتب؟

ب أي كاتب أصدر أصغر عدد من الكتب؟

٢ بكم يزيد عدد الكتب التي أصدرها الكاتب الثاني عن عدد تلك التي أصدرها الكاتب الثالث؟

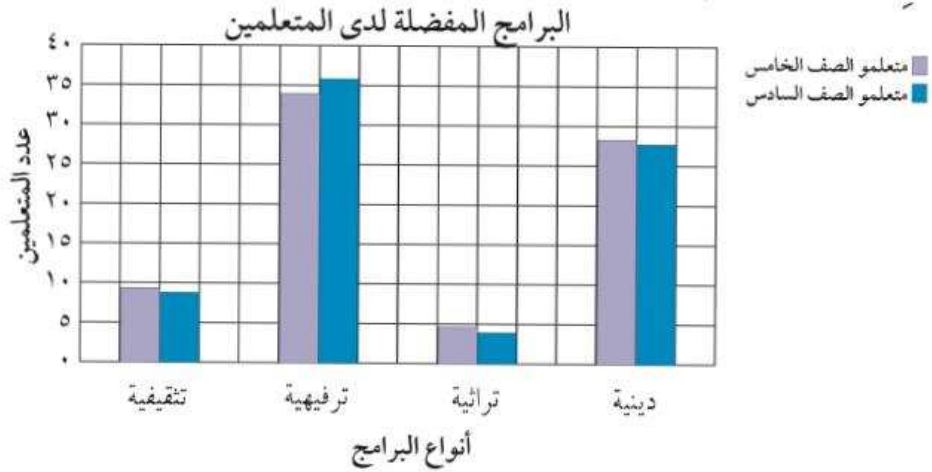
٣ ما المتوسط الحسابي لعدد الكتب التي أصدرها الكتاب الثلاثة؟



imtiaz

منصة إمتياز التعليمية

اِسْتَحْدِمِ التَّمْثِيلَ الْبَيَانِيَّ بِالْأَعْمَدَةِ الْمُزْدَوِجَةِ أَذْنَاهُ لِتَحُلِّ التَّمَارِينِ مِنْ ٤ إِلَى ٦ .



٤ ما نوع البرامج الأكثر تفضيلاً لدى متعلمي الصفين الخامس والسادس؟

٥ كَمْ يَزِيدُ عَدَدُ مُتَعَلِّمِي الصَّفِّ الْخَامِسِ الَّذِينَ يُفَضِّلُونَ الْبَرَامِجَ الدِّيَنِيَّةَ عَنْ عَدَدِ

متعلمي الصف السادس الذين يُفضلون هذا النوع من البرامج؟

٦ ما نوع البرامج الذي يُفضّله العدد نفسه تقريباً من متعلمي الصّفين؟

(استخدم البيانات في الجدول أدناه ثم اصنع تمثيلا بيانيا بالاعمدة

اليوم	عدد زوار المركز العلمي
الخميس	٦٠٠
الجمعة	٥٠٠
السبت	٧٠٠
الأحد	٣٠٠

[illegible]

اِسْتَحْدِمِ الْجَدْوَلَ اَذْنَاهُ لِصَنْعِ تَمْثِيلٍ بَيَانِيٍّ بِالْأَعْمَدَةِ الْمُزْدَوِجَةِ.

[illegible]

أَوْجِدْ نَاتِجَ الْجَمْعِ:

$$A \ 472 + 71.30 \quad | \quad 187 + 78 + 020. \quad | \quad 1280 + 0712$$

$$٠,٠٥ + ٩٨$$

$$٧١,٨ + ٥,٣٤٧$$

$$١ + ٠,٩٨ + ١٦,٧$$

$$١٠,٠٣ + ٤,٢٥٣$$

$$٤١,٠٣ + ٦٥,٤١٢$$

عَمِلْتُ جَمَاعَةً عَلَى رُصْفِ طَرِيقٍ، فَرَصَفْتُ فِي الْيَوْمِ الْأَوَّلِ ١٢٧,٣ م^٢ وَفِي الْيَوْمِ
الثَّانِي ٢٣٨ م^٢ وَفِي الْيَوْمِ الثَّالِثِ ٣٧٢,٤٧ م^٢.
أَوْجَدُ مَا رُصِفَ فِي الْأَيَّامِ الثَّلَاثَةِ.

أوجد ناتج الطرح:

$\begin{array}{r} 158200 \\ 119678 - \\ \hline \end{array}$	$544 - 17487$	$23523 - 35243$
$\begin{array}{r} 100000 \\ 49696 - \\ \hline \end{array}$		
$5,063 - 129$	$2,48 - 24,8$	$6,56 - 7,84$

مع فاطمة ٤٥ دينار صرفت منها ١٩,٨٥ دينار فكم ديناراً بقي معها ؟

أوجد الناتج:

$$٠,٤ \times ٢$$

$$٠,٠٧ \times ٦$$

$$٠,٠٠٧ \times ٠,٠٨$$

$$٥,٧ \times ٩$$

أوجد الناتج:

$$٠,٠٣ \times ٦,٢١$$

$$٢١ \times ٤٢,٧$$

$$٤,٢ \times ٢٣$$

$$٠,٠٣٢ \times ٠,٢٦١$$

إذا كان سعر متر من القماش هو ١٠,٥ دينار فكم يكون سعر ٧,٥ متر من نفس القماش ؟