

تم تحميل هذا الملف من موقع المناهج الكويتية



الملف نموذج إجابة منطقة الأحمدية

[موقع المناهج](#) ⇌ [المناهج الكويتية](#) ⇌ [الصف السادس](#) ⇌ [لغة انجليزية](#) ⇌ [الفصل الأول](#)

روابط مواقع التواصل الاجتماعي بحسب الصف السادس



روابط مواد الصف السادس على تلغرام

الرياضيات	اللغة الانجليزية	اللغة العربية	التربية الاسلامية
---------------------------	----------------------------------	-------------------------------	-----------------------------------

المزيد من الملفات بحسب الصف السادس والمادة لغة انجليزية في الفصل الأول

مذكرة رائعة للكورس الأول في مادة اللغة الانكليزية	1
مذكرة رائعة ومفيدة في مادة اللغة الانكليزية	2
حل كتاب الطالب لعام 2018 كامل	3
حل كتاب التدريبات كامل لعام 2018	4
معاني كلمات الصف السادس لعام 2018	5

الإجابة في 6 صفحات

دولة الكويت
وزارة التربية

نموذج الإجابة

الإدارة العامة لمنطقة الأحمدى التعليمية
التوجيه الفني للغة الانجليزية

امتحان الصف السادس / نهاية الفترة الدراسية الاولى 2022/2021
المجال الدراسي: اللغة الإنجليزية
المفردات - الاستيعاب المقروء - القواعد - التعبير الكتابي - التهجئة

ykuwait_3

Total Mark (60 Marks)

I. Reading (30 MARKS)

A- Vocabulary (14 Marks)

a) Choose the best answer from a, b, c and d: (4 x 2 = 8 Marks)

1. These lovely paintings life in old Kuwait.

a. feed b. melt c. sink d. show

2. My dad was really ; he drove for more than six hours.

a. exhausted b. poisonous c. tasty d. expensive

3. I enjoy watching the colourful fish swimming in the

a. furniture b. factory c. aquarium d. model

4. The National team trained hard and..... they got the cup .

a. finally b. carefully c. suddenly d. slowly

b) Fill in the spaces with the correct words from the list: (4 x 1.5 = 6 Marks)

(desalination plants / exciting / medal / coral reefs / rough)

5. Fahd Al Dihani won a gold **medal** for Kuwait in 1992.

6. The film was so **exciting**; I saw it twice in the cinema.

7. Kuwait is going to build new **desalination plants** to get more fresh water.

8. I wanted to go swimming yesterday but my father said that the sea was **rough**.



B- Reading Comprehension (16 Marks)

Read the following passage, then answer the questions below:

There are different types of birds in this world, small and big, the ones which can fly and the ones that cannot. For example, the ostrich is the largest of the living birds, but it cannot fly. There are also some birds that can talk. The parrot is the most famous one that can talk. Birds' eggs are of different sizes. The size of a bird's egg does not always depend on the size of the bird. It really depends on the food they have. You may think of birds as animals which fly in the air and build nests in trees. But one type of these birds is a bird which spends much of its time in the water and even under water. It is the penguin. It can swim well but it cannot fly.

All of the different kinds of penguins live in the coldest areas of the world. Birds that fly have large feathers on the back of their arms. These make big wings ready for flying. Penguins don't have these flight feathers, so they can't fly.

a) Choose the correct answer from a, b, c and d: (6 X 2 = 12 Marks)

9. The best **title** for the passage is:

- | | |
|-----------------|------------|
| a. Food | b. Water |
| c. Birds | d. Animals |

10. The underlined word "**types**" in **paragraph 1** means:

- | | |
|-----------------|--------------|
| a. kinds | b. coins |
| c. patterns | d. treasures |

11. The underlined pronoun "**they**" in **paragraph 2** refers to:

- | | |
|----------|--------------------|
| a. wings | b. feathers |
| c. arms | d. penguins |

12. The size of birds' eggs depends on:

- | | |
|-------------------------------|------------------------------|
| a. the place where birds live | b. the food birds eat |
| c. the hot weather | d. the feathers birds have |

13. According to the passage, all the following statements are **TRUE** except:

- | | |
|---------------------------------|--------------------------------------------|
| a. No birds can talk. | b. Wings help birds to fly. |
| c. Penguins can swim very well. | d. The ostrich is the largest living bird. |

14. The purpose of the writer is to:

- a. compare between animals and birds
b. tell us about eggs
c. focus on where birds live
d. inform us about birds

b) Answer the following questions: (2 x 2 = 4 Marks)

15. Where do penguins live?

They live in the coldest areas of the world. / They can live in or under water.

16. Why can't penguins fly?

They don't have flight feathers.



Any reasonable answer related to the passage is accepted

II. Writing (30 MARKS)

A) Grammar (12 Marks)

a) Choose the correct answer from a, b, c and d: (4 x 2 = 8 Marks)

17. If you train hard, you the final game next week.

- a. win b. wins c. will win d. won

18. My uncle Salem lives in London is coming back soon.

- a. who b. which c. where d. when

19. I English when my father asked me to come for lunch.

- a. study b. studied c. studies d. was studying

20. I like visiting Khiran Resort it has beautiful sandy beaches.

- a. because b. so c. but d. and

b) Do as shown between brackets: (2 x 2 = 4 Marks)

21. My son used to watch cartoons when he was young.

(Make negative)

My son didn't use to watch cartoons when he was young.

22. My brother (go) to school by bus last week.

(Correct the verb)


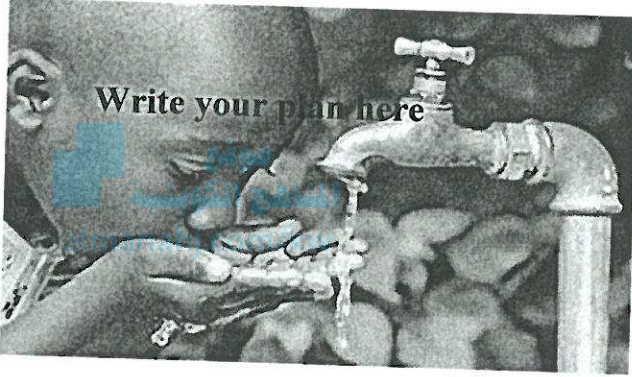
My brother went to school by bus last week.

B) Writing (14 Marks)

Nobody can live without water, so we have to save it.

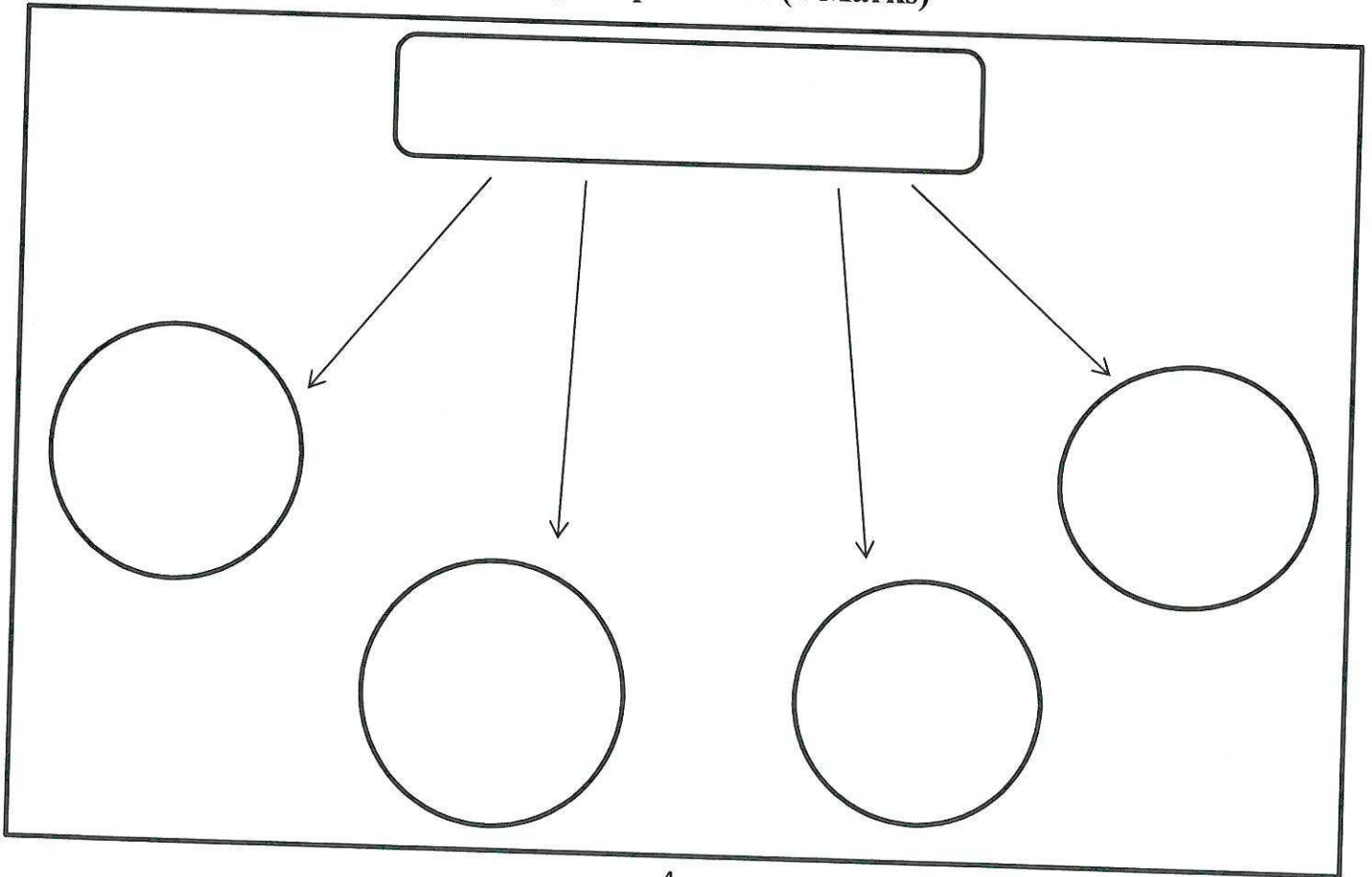
Plan and write **one paragraph** (not less than 6 sentences) about "Water".

The following guide words and pictures might help you:



(important – seas and rivers - washing - drinking - save – waste)

Write your plan here (2 Marks)



Write your topic here (12 Marks)

موقع
المنهج الكويتية
almanahj.com/kw

Planning	Exposition of ideas and coherence	number of sentences	Grammar	spelling	Handwriting	punctuation	Total Mark
2	6	1	1	2	1	1	14

- 1 mark to be deducted from the total mark for changing the format.
- Off point topics receive **Zero**.

C) Spelling (4 Marks)

Rewrite the underlined words correctly: (4 x 1 = 4 Marks)

23. My friend was very sad because his grandfather psasde away.
passed away

24. I like reading Al-Watan nwespaep every morning.
newspaper

25. I wish to be a bussinseman when I grow up.
businessman

26. The wahel came suddenly and ate the small fish.
whale

امتحان نهاية الفصل الدراسي الأول في مادة العلوم للصف السابع المتوسط للعام الدراسي ٢٠٢١ - ٢٠٢٢ م

السؤال الأول:- اختر الإجابة الصحيحة علمياً لكل من العبارات التالية، وضع علامة (√) في المربع المقابل لها :
(٨×٢= ١٦ درجة)

١٦

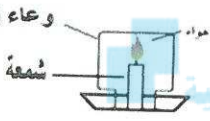
١- جميع المواد التالية عازلة لا تسمح بانتقال الشحنات الكهربائية عدا: ص ١٦

☐ البلاستيك ☒ الحديد ☐ البالون ☐ الورق

٢- ظاهرة تحدث بين السحب والمباني العالية عن سطح الأرض نتيجة اختلاف في الشحنة الكهربائية تسمى: ص ٢٠

☒ الصاعقة ☐ الرعد ☐ البرق ☐ الصدى

٣- تنطفئ الشمعة المشتعلة الموضوعة أسفل وعاء مغلق بعد ثواني قليلة لاستهلاك غاز: ص ٤٧

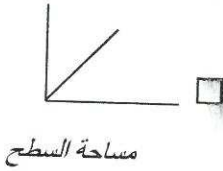


موقع
المنهج الكويتي
almanahj.com/kw

☐ ثاني أكسيد الكربون ☒ الأكسجين ☐ النيتروجين ☐ الهيدروجين

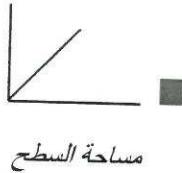
٤- العلاقة بين مقاومة الهواء لجسم يسقط من أعلى ومساحة السطح: ص ٥٧ :

مقاومة الهواء



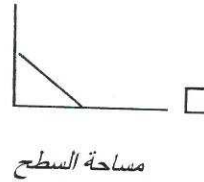
مساحة السطح

مقاومة الهواء



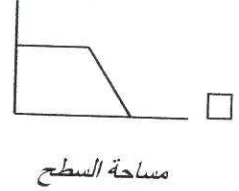
مساحة السطح

مقاومة الهواء



مساحة السطح

مقاومة الهواء



مساحة السطح

٥- تتحول الطاقة الضوئية في ورقة النبات إلى طاقة: ص ٨٧

☒ كيميائية ☐ حرارية ☐ حركية ☐ صوتية

٦- تحتوي بعض اوراق النباتات صبغة اخضر مصفر بسبب وجود : ص ١٠١

☐ كلورفيل أ ☒ كلورفيل ب ☐ كاروتين ☐ الزانثوفيل

٧- مغذيات حيوية تنظم نمو الخلايا والأنسجة هي : ص ١١٨

☒ الكربوهيدرات ☐ الدهون ☐ البروتينات ☒ الفيتامينات

٨- فيتامينات تعزز صحة العظام والأسنان : ص ١٢٦

☐ K,E,D ☐ C,B,A ☐ K,A,E ☒ A,D,C

٨

السؤال الثاني:- اكتب بين القوسين كلمة (صحيحة) للعبارة الصحيحة، وكلمة (خطأ) للعبارة غير

الصحيحة في كل مما يلي :- (٤×٢=٨ درجات)

- ١- يؤثر الهواء على الأجسام من جهة واحدة فقط . ص ٤٣
- ٢- يحتوي نسيج الخشب على أنابيب ذات قطر كبير . ص ٩٥
- ٣- تكثر الثغور على سطح ورقة النبات السفلي. ص ٩٨
- ٤- حفظ الطعام يساعد على الاستفادة من الطعام لأطول فترة ممكنة. ص ١٣٧

السؤال الثالث : في الجدول التالي اختر العبارة من المجموعة (ب) واكتب رقمها أمام ما يناسبها من عبارات

almanahj.com/kw

المجموعة (أ) :- (٦×٢=١٢ درجات)

الرقم	المجموعة (أ)	المجموعة (ب)
٣	جهاز يتم تحويل الطاقة الكيميائية إلى طاقة كهربائية. ص ٣٠	١- المولد الكهربائي
١	جهاز يتم تحويل الطاقة الحركية إلى طاقة كهربائية. ص ٣٢	٢- المغناطيس الكهربائي
		٣- الأعمدة الكهروكيميائية
٥	غاز يساعد على الاشتعال. ص ٤٨	٤- النيتروجين
٦	غاز يستخدم لإطفاء الحريق.	٥- الأكسجين
		٦- ثاني أكسيد الكربون
٧	المواد الداخلة في معادلة البناء الضوئي. ص ٨٩	٧- الماء وغاز ثاني أكسيد لكاربون
٩	المواد الناتجة في معادلة البناء الضوئي.	٨- الأكسجين والماء
		٩- الأكسجين والغذاء

١٢

٤

السؤال الرابع (أ) : ماذا يحدث في كل من الحالات التالية: (٢×٢ = ٤ درجات)

١- عند وضع قطعة توست من غير حفظ . ص ١٣٥

الحدث :.....تفسد.....(درجة)

السبب: توفر العوامل الرطوبة ومكان مظلم ودافئ لنمو العفن.... (درجة)

٢- عند وضع زهرة بيضاء في كأس به ماء لونه أحمر . ص ٩٣

الحدث :.....تتلون الزهرة بالون الماء.أحمر..... (درجة)

السبب:- ...الساق ينقل الماء الملون إلى الزهرة.... (درجة)

السؤال الرابع (ب) قارن بين كل مما يلي كما هو موضح في الجدول التالي : (٢×٢ = ٤ درجة)

وجه المقارنة	مصاييح موصلة على التوالي ص ٢٥	مصاييح موصلة على التوازي
عند تلف أحد المصاييح	..تتطفئ باقي المصاييح...	..لا تتأثر باقي المصاييح..

وجه المقارنة	البازلاء ص ١٣٧	المخللات
طرق حفظ الأطعمةتجميد او تعليب أو تجفيف.... تمليح.....

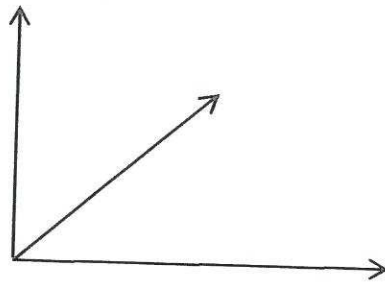
السؤال الرابع (ج) : ادرس الرسوم البيانية التالية ثم اجب عن المطلوب (٢×٢ = ٤ درجات)

- حدد على الرسم البياني نوع العلاقة بين الضغط والحرارة. ص ٦٩

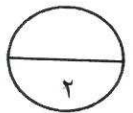
- نوع العلاقة.....طردية....

- ارسم العلاقة.

الحرارة




الضغط



٢- من الرسم البياني المقابل رتب تصاعديا العوامل التي تساعد على عملية النتج

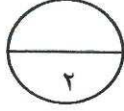
بحسب كمية الماء المتبخر بدءا بالرطوبة : ص ٩٧

٢ -الضوء..... ٣ -الرياح.....



فقدان الماء المتبخر بالمليتر

١٢



السؤال الخامس (أ) أي مما يلي لا ينتمي للمجموعة مع نكرالسبب (٢×٢ = ٤ درجة)

١- من دراستك لموضوع الدارة الكهربائية ص١٨-٢٣

(سلك كهربائي - عمود جاف - كشاف كهربائي - مصباح)

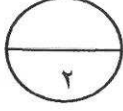
السبب لأنه ..يكشف عن الشحنات .. والباقي من مكونات دارة الكهربائية....

٢- من دراستك لموضوع للمغذيات ص١٢٥

(حليب - ليمون - بيض - فول)

السبب لأنه فيتامين والباقي . من مجموعة البروتينات.

٤

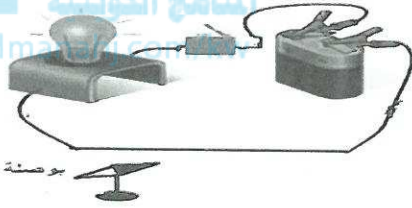


السؤال الخامس (ب) : التجارب التالية أجريت في المختبر ادرسها ثم اجب عن المطلوب (٢×٢ = ٤ درجات) :

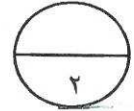
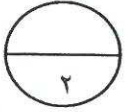
١- عند تقريب البوصلة من سلك يمر به تيار كهربائي ص٣١

الملاحظة :....تتحرك ابرة البوصلة.....

الاستنتاج: ينشأ مجال مغناطيسي عند مرور تيار كهربائي بسلك..



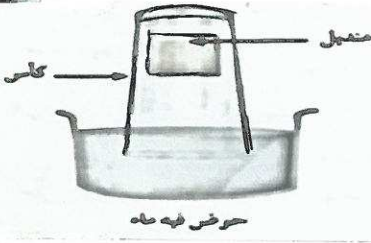
بوصلة



٣- قام جاسم بوضع منديل في قاع الكأس كما في الشكل ثم غمره بالماء عموديا. ص٤٣

الملاحظة: لا يبتل المنديل.....

الاستنتاج: الهواء يشغل حيزا في الكأس او الهواء يملأ الكأس فلا يحل الماء مكانه.

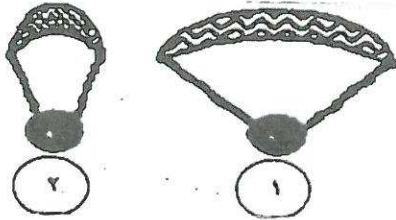


حوض فيه ماء

السؤال الخامس (ج) : ادرس الرسم جيدا ثم اجب عن المطلوب:

- المظلة التي تستخدم للهبوط بأمان إلى الأرض رقم (١) . ص٥٦


السبب ؟. كلما زادت مساحة السطح المعرض للهواء زادت المقاومة.



٢- الشكل المقابل يوضح البلاستيكة الخضراء. ص٨٩

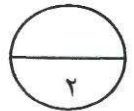
- تحدث التفاعلات اللاضوئية عند الرقم (٢٠).

- السهم الذي يشير إلى الثايلاكويد يمثل رقم (١)



(١)

(٢)



دعأونا لكم بالتوفيق والنجاح