

تم تحميل هذا الملف من موقع المناهج الكويتية



عيدة الشمري

الملف نموذج 3 للاختبار التحصيلي الأول

[موقع المناهج](#) ⇌ [المناهج الكويتية](#) ⇌ [الصف الثاني](#) ⇌ [رياضيات](#) ⇌ [الفصل الثاني](#)

روابط مواقع التواصل الاجتماعي بحسب الصف الثاني



روابط مواد الصف الثاني على تلغرام

[الرياضيات](#)


[اللغة الانجليزية](#)

[اللغة العربية](#)

[التربية الاسلامية](#)

المزيد من الملفات بحسب الصف الثاني والمادة رياضيات في الفصل الثاني

تدريبات	1
وسائل الوحدة الحادية عشر	2
مذكرة	3
مذكرة مهمة	4
مذكرة مهمة	5



الاختبار التحصيلي الاول للصف الثاني

الفصل الدراسي الثاني للعام 2024-2025





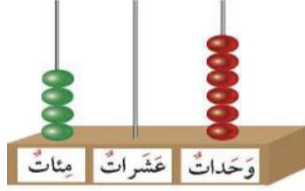
نموذج (٣) اختبار تحصيلي (١)
في مادة الرياضيات
للعام الدراسي (٢٠٢٤ - ٢٠٢٥)




وزارة التربية
الإدارة العامة لمنطقة حولي التعليمية
التوجيه الفني للرياضيات

السؤال الأول : (أ) اكتب رمز العدد:

٥ مئات



(ب) اكتب الوقت الذي تدل عليه كل ساعة:




الساعة -----



الساعة -----

(ج) ارسم عقري الساعة اللذين يدلان على الوقت :



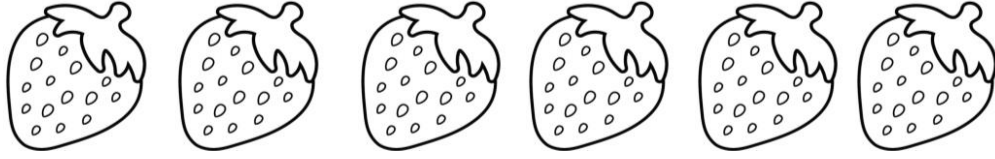
السؤال الثاني:

(أ) لون ما يمثل النصف .




(ب) لون ما يمثل الربع .


(ج) لون ما يمثل الثالث .



(د) اكتب عبارتي القسمة المناسبين :




_____ = _____ ÷ _____




_____ = _____ ÷ _____

السؤال الثالث : (أ) لون الإجابة الصحيحة :



• عدد أيام الأسبوع



• $3 = 2 \div \square$



• القيمة المكانية للرقم ٩ في العدد ٥٩١

(ب) صل كل شكل بالكلمة المناسبة :


نصف




ربع



ثالث







إجابة نموذج (٣) اختبار تحصيلي (١)
في مادة الرياضيات
للعام الدراسي (٢٠٢٤ - ٢٠٢٥)

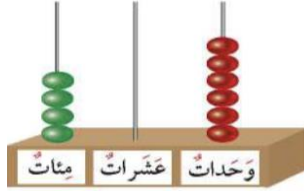


وزارة التربية
الإدارة العامة لمنطقة حولي التعليمية
التوجيه الفني للرياضيات


السؤال الأول : (أ) اكتب رمز العدد:

٥ مئات

٥٠٠

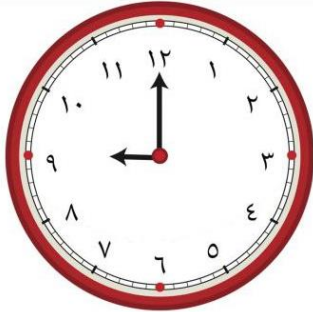


٤٠٦



٤٢٣

(ب) اكتب الوقت الذي تدل عليه كل ساعة:

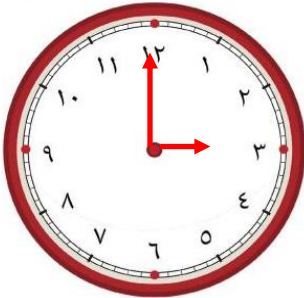


الساعة التاسعة



الساعة الرابعة

(ج) ارسم عقري الساعة اللذين يدلان على الوقت :



٣ : ٠٠

السؤال الثاني:

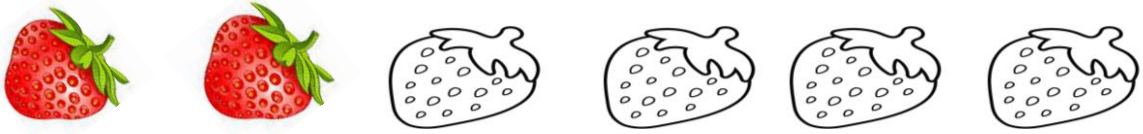
(أ) لون ما يمثل النصف .




(ب) لون ما يمثل الربع .





(ج) لون ما يمثل الثالث :



(د) اكتب عبارتي قسمة مناسبتين:

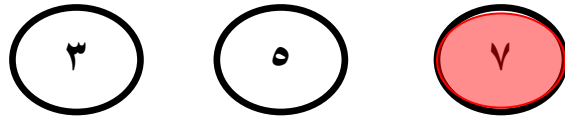


$$3 = 2 \div 6$$

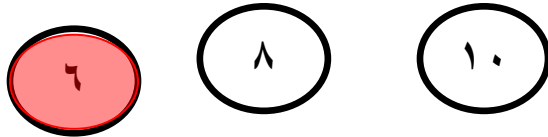


$$2 = 3 \div 6$$

السؤال الثالث : (أ) لون الإجابة الصحيحة :



• عدد أيام الأسبوع



$$3 = 2 \div \square$$



• القيمة المكانية للرقم ٩ في العدد ٥٩١

(ب) صل كل شكل بالكلمة المناسبة :

نصف

ربع

ثلث

