

تم تحميل هذا الملف من موقع المناهج الكويتية



مدرسة التميز النموذجية

الملف أوراق عمل مهمة

[موقع المناهج](#) ← [ملفات الكويت التعليمية](#) ← [الصف الثاني](#) ← [اجتماعيات](#) ← [الفصل الأول](#)

روابط مواقع التواصل الاجتماعي بحسب الصف الثاني



روابط مواد الصف الثاني على تلغرام

[الرياضيات](#)

[اللغة الانجليزية](#)

[اللغة العربية](#)

[التربية الاسلامية](#)

المزيد من الملفات بحسب الصف الثاني والمادة اجتماعيات في الفصل الأول

توزيع خطة المنهج	1
تحميل كتاب الطالب للمنهج الجديد	2
تحميل حل كتاب الطالب للمنهج الجديد	3
نماذج اختبارات تجريبية	4

أوراق عمل الوحدة الثانية (الدرس الثالث والرابع) والثالثة

مادة الاجتماعيات

موقع
المناهج الكويتية
almanahj.com/kw

الفصل الدراسي الأول 2025 – 2026 م

للمصف (الثاني)

مدرسة التميز النموذجية

(ابتدائي - متوسط - ثانوي)



إعداد
قسم الاجتماعيات



التميز

مدرسة التميز النموذجية بنين (ابتدائي - متوسط - ثانوي) خيطان - قطعة (٤) - شارع (١٠٠)

اجب عن الأسئلة التالية

(1) ضع علامة (✓) إذا كانت العبارة الصحيحة وعلامة (x) إذا كانت العبارة خاطئة في كل مما يلي:

م	العبارة	العلامة
1	يجب الترشيد في استهلاك الكهرباء والماء.	
2	وزارة الكهرباء والماء بالكويت تحرص على توفير خدماتها بجودة عالية.	
3	لا يوجد دول مجاورة لوطني الكويت.	
4	دولة الكويت لها موقع مميز.	
5	ولد الشيخ مشعل الأحمد الصباح عام 1945م	
6	تولى الشيخ مشعل الأحمد الحكم عام 2023م.	
7	نلبس الزي الوطني في المناسبات المختلفة.	
8	بدر المطوع مثل الكويت في مجال السباحة.	
9	الدكتور سعد عبدالهادي الدوسري حقق انجازاً طبياً غير مسبوق عالمياً	
10	أول كويتية تنال لقب "القيادية الإلكترونية" من الأمم المتحدة هي المهندسة منار فهد الحشاش	

(2) صنف المفاهيم التالية في مكانها الصحيح:

(الإسراف / ترشيد الاستهلاك / إعادة التدوير / التنمية المستدامة / حاكم الدولة / الهوية الوطنية)

م	المفهوم	العبارة
1		نأخذ الأشياء القديمة ونحولها إلى أشياء جديدة نستفيد منها.
2		الشخص الذي يقود الدولة.
3		استخدام الكهرباء والماء أكثر من الحاجة.
4		الشعور بالانتماء إلى الوطن واحترام القوانين.
5		استخدام الكهرباء والماء بطريقة صحيحة دون تبذير
6		نستخدم ما نحتاجه فقط من الطبيعة دون أن نؤذيها.



(3) ظل الخيار الصحيح من بين الخيارات التي تلي كل عبارة مما يلي:

1- استخدام الكهرباء والماء أكثر من الحاجة يسمى:

الإسراف	ترشيد الاستهلاك	إعادة التدوير	التنمية
---------	-----------------	---------------	---------

2- تطل دولة الكويت على مسطح مائي اسمه:

البحر المتوسط	البحر الأحمر	الخليج العربي	خليج عمان
---------------	--------------	---------------	-----------

3- الدولتان المجاورتان للكويت هما السعودية و:

قطر	العراق	الإمارات	عمان
-----	--------	----------	------

4- تولى الشيخ مشعل الأحمد مقاليد الحكم عام:

2021م	2022م	2023م	2024م
-------	-------	-------	-------

5- الدكتور "سعد عبد الهادي الدوسري" حقق انجازاً عالمياً في مجال:

الرياضة	الهندسة	المحاماة	الطب
---------	---------	----------	------

6- بدر المطوع مثل دولة الكويت في مجال:

الشعر	كرة القدم	السباحة	كرة السلة
-------	-----------	---------	-----------

7- منار الحشاش مثلت جيل الشباب في مجال:

تكنولوجيا المعلومات	الفنون	علم الرياضيات	الطب
---------------------	--------	---------------	------

8- تحويل الأشياء القديمة كالورق والبلاستيك وغيرها إلى أشياء جديدة نستفيد منها يسمى:

ترشيد الاستهلاك	الإسراف	إعادة التدوير	التلوث
-----------------	---------	---------------	--------



(4) صل بين الصور التالية في المجموعة (أ) وما يعبر عنها ويناسبها من المجموعة (ب):

المجموعة (ب)	المجموعة (أ)	م
خريطة الكويت		1
الدين الإسلامي		2
شعار وزارة الكهرباء والماء		3
إعادة التدوير		4
اللغة العربية		5
الزي الوطني		6
العادات والتقاليد والقيم		7

(5) ظلل الحرف (أ) إذا كان السلوك صحيح والحرف (ب) إذا كان السلوك خاطئ:

م	السلوك	أ	ب
1	أطفئ الأنوار عند خروجي من الصف.		
2	اترك صنبور الماء مفتوح عند تنظيف أسناني.		
3	أشارك في المحافظة على البيئة.		
4	أضع النفايات في صندوق إعادة التدوير المخصص لها.		
5	النباتات غير مهمة وليس من الضروري الحفاظ عليها.		
6	أحب وطني الكويت اعتز به واحافظ عليه.		
7	لا التزم بالعادات والتقاليد والقيم.		
8	أتمسك بتعاليم الدين الإسلامي.		
9	أحترم القوانين وأعمل من أجل رفعة وطني.		
10	أفخر والافتداء بإنجازات الفرد الكويتي.		

مدرسة التميز النموذجية
(ابتدائي - متوسط - ثانوي)



اجابة الأسئلة

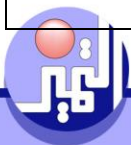
(1) ضع علامة (✓) إذا كانت العبارة الصحيحة وعلامة (x) إذا كانت العبارة خاطئة في كل مما يلي:

م	العبارة	العلامة
1	يجب الترشيد في استهلاك الكهرباء والماء.	✓
2	وزارة الكهرباء والماء بالكويت تحرص على توفير خدماتها بجودة عالية.	✓
3	لا يوجد دول مجاورة لوطني الكويت.	x
4	دولة الكويت لها موقع مميز.	✓
5	ولد الشيخ مشعل الأحمد الصباح عام 1945م	x
6	تولى الشيخ مشعل الأحمد الحكم عام 2023م.	✓
7	نلبس الزي الوطني في المناسبات المختلفة.	✓
8	بدر المطوع مثل الكويت في مجال السباحة.	x
9	الدكتور سعد عبدالهادي الدوسري حقق انجازاً طبياً غير مسبوق عالمياً	✓
10	أول كويتية تنال لقب "القيادية الإلكترونية" من الأمم المتحدة هي المهندسة منار فهد الحشاش	✓

(2) صنف المفاهيم التالية في مكانها الصحيح:

(الإسراف / ترشيد الاستهلاك / إعادة التدوير / التنمية المستدامة / حاكم الدولة / الهوية الوطنية)

م	المفهوم	العبارة
1	إعادة التدوير	نأخذ الأشياء القديمة ونحولها إلى أشياء جديدة نستفيد منها.
2	حاكم الدولة	الشخص الذي يقود الدولة.
3	الإسراف	استخدام الكهرباء والماء أكثر من الحاجة.
4	الهوية الوطنية	الشعور بالانتماء إلى الوطن واحترام القوانين.
5	ترشيد الاستهلاك	استخدام الكهرباء والماء بطريقة صحيحة دون تبذير
6	التنمية المستدامة	نستخدم ما نحتاجه فقط من الطبيعة دون أن نؤذيها.



(3) ظل الخيار الصحيح من بين الخيارات التي تلي كل عبارة مما يلي:

1- استخدام الكهرباء والماء أكثر من الحاجة يسمى:

الإسراف	ترشيد الاستهلاك	إعادة التدوير	التنمية
---------	-----------------	---------------	---------

2- تطل دولة الكويت على مسطح مائي اسمه:

البحر المتوسط	البحر الأحمر	الخليج العربي	خليج عمان
---------------	--------------	---------------	-----------

3- الدولتان المجاورتان للكويت هما السعودية و:

قطر	العراق	الإمارات	عمان
-----	--------	----------	------

4- تولى الشيخ مشعل الأحمد مقاليد الحكم عام:

2021م	2022م	2023م	2024م
-------	-------	-------	-------

5- الدكتور "سعد عبد الهادي الدوسري" حقق انجازاً عالمياً في مجال:

الرياضة	الهندسة	المحاماة	الطب
---------	---------	----------	------

6- بدر المطوع مثل دولة الكويت في مجال:

الشعر	كرة القدم	السباحة	كرة السلة
-------	-----------	---------	-----------

7- منار الحشاش مثلت جيل الشباب في مجال:







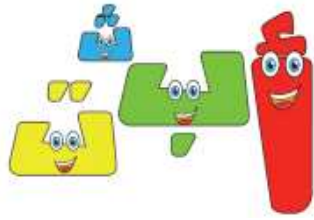
تكنولوجيا المعلومات	الفنون	علم الرياضيات	الطب
---------------------	--------	---------------	------

8- تحويل الأشياء القديمة كالورق والبلاستيك وغيرها إلى أشياء جديدة نستفيد منها يسمى:

ترشيد الاستهلاك	الإسراف	إعادة التدوير	التلوث
-----------------	---------	---------------	--------



(4) صل بين الصور التالية في المجموعة (أ) وما يعبر عنها ويناسبها من المجموعة (ب):

المجموعة (ب)	المجموعة (أ)	م
خريطة الكويت		1
الدين الإسلامي		2
شعار وزارة الكهرباء والماء		3
إعادة التدوير		4
اللغة العربية		5
الزي الوطني		6
العادات والتقاليد والقيم		7

(5) ظلل الحرف (أ) إذا كان السلوك صحيح والحرف (ب) إذا كان السلوك خاطئ:

م	السلوك	أ	ب
1	أطفئ الأنوار عند خروجي من الصف.		
2	اترك صنبور الماء مفتوح عند تنظيف أسناني.		
3	أشارك في المحافظة على البيئة.		
4	أضع النفايات في صندوق إعادة التدوير المخصص لها.		
5	النباتات غير مهمة وليس من الضروري الحفاظ عليها.		
6	أحب وطني الكويت اعتز به وأحافظ عليه.		
7	لا التزم بالعادات والتقاليد والقيم.		
8	أتمسك بتعاليم الدين الإسلامي.		
9	أحترم القوانين وأعمل من أجل رفعة وطني.		
10	أفخر والافتداء بإنجازات الفرد الكويتي.		

مدرسة التميز النموذجية
(ابتدائي - متوسط - ثانوي)

