

تم تحميل هذا الملف من موقع المناهج الكويتية



مدرسة الصفوة النموذجية

الملف ورقة عمل تحصيلي 1

[موقع المناهج](#) ⇨ [المناهج الكويتية](#) ⇨ [الصف الأول](#) ⇨ [رياضيات](#) ⇨ [الفصل الثاني](#)

روابط مواقع التواصل الاجتماعي بحسب الصف الأول



روابط مواد الصف الأول على تلغرام

[الرياضيات](#)


[اللغة الانجليزية](#)

[اللغة العربية](#)

[التربية الاسلامية](#)

المزيد من الملفات بحسب الصف الأول والمادة رياضيات في الفصل الثاني

<a href="#">اوراق عمل</a>	1
<a href="#">مذكرة الوحدة السابعة</a>	2
<a href="#">توزيع مقترح لمنهج الرياضيات</a>	3
<a href="#">اوراق عمل</a>	4
<a href="#">نموذج اختبار أول</a>	5



ورقه عمل تحصيلي (١)

للفص الاول الابتدائي

للعام الدراسي ٢٠٢٤/٢٠٢٥

الادارة العامة للتعليم الخاص

مدرسة الصفوة النموذجية بنين

قسم الرياضيات

الصف: ١/

الاسم :

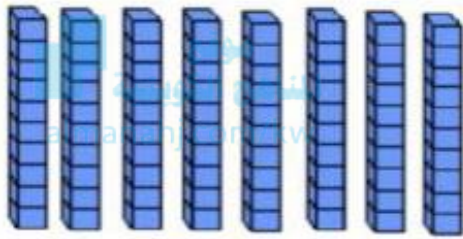
### السؤال الأول :

(أ) اكتب الوقت.



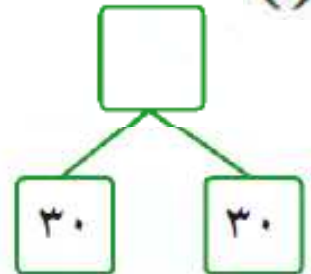
:

(ب) اكتب رمز العدد.



### السؤال الثاني :

(أ) اكمل.



(ب) حل المسائل .

١٧ طائر منها ٥ على الشجرة .  
كم بقي على الشجرة ؟

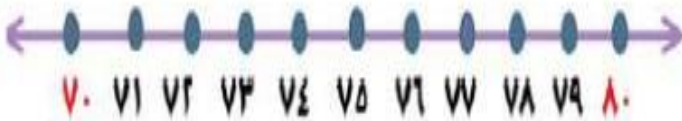
=

### السؤال الثالث :

(أ) رتب الاعداد التالية من الأكبر الى الاصغر



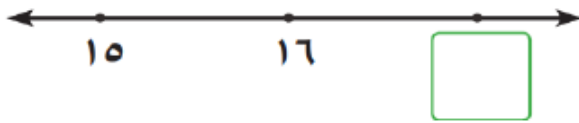
(ب) اكمل (بإمكانيك استخدام خط الأعداد)



العدد ٧٨ أقرب الى العدد

## السؤال الرابع :

(١) العدد الذي يأتي بعد العدد مباشرةً



٢٠

١٧

١٩

(٢) لون الشهر الأول من السنة الهجرية

موقع  
المنهج الكويتية  
almanahj.com/kw

محرم

رمضان

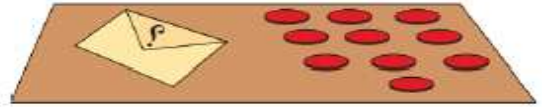
(٣) صل بالعدد المجهول

٣

٦

٤

$$١٦ = \square + ١٠$$



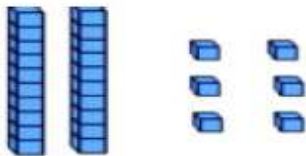
(٤) حوط التقدير المناسب



أكثر من ١٠ تقريباً

أقل من ١٠ تقريباً

(٥) حوط رمز العدد



٦٢

٦٢