

تم تحميل هذا الملف من موقع المناهج الكويتية



منطقة العاصمة التعليمية

الملف نموذج إجابة منطقة العاصمة التعليمية

[موقع المناهج](#) ⇨ [المناهج الكويتية](#) ⇨ [الصف السادس](#) ⇨ [اجتماعيات](#) ⇨ [الفصل الثاني](#)

روابط مواقع التواصل الاجتماعي بحسب الصف السادس




روابط مواد الصف السادس على تلغرام

| | | | |
|---------------------------|----------------------------------|-------------------------------|-----------------------------------|
| الرياضيات | اللغة الانجليزية | اللغة العربية | التربية الاسلامية |
|---------------------------|----------------------------------|-------------------------------|-----------------------------------|

المزيد من الملفات بحسب الصف السادس والمادة اجتماعيات في الفصل الثاني

| | |
|--|---|
| مراجعة | 1 |
| مراجعة | 2 |
| مراجعة | 3 |
| مذكرة في مادة الاجتماعيات | 4 |
| مراجعة محلولة ومفيدة في مادة الاجتماعيات | 5 |



منطقة العاصمة التعليمية

تم التحميل من شبكة ياكويت التعليمية



Telegram:
ykuwait_net_home

الاجابة النموذجية



وزارة التربية

الإدارة العامة لمنطقة العاصمة التعليمية

التوجيه الفني للاجتماعيات

نموذج الإجابة

العام الدراسي ٢٠٢٢ / ٢٠٢٣ م

الزمن : ساعة و خمس و اربعون دقيقة

عدد الصفحات : (٥)

امتحان نهاية الفترة الدراسية الثانية

لمقرر الكويت ودول الخليج العربية

الصف السادس المتوسط

اجب عن جميع الاسئلة التالية

السؤال الأول ويتكون من (أ - ب - ج - د - هـ - و - ي) : (درجة لكل إجابة = ٣٦ درجة)

(أ) أكمل العبارات التالية بما يناسبها :

- ١ - الدولة العربية الخليجية التي ظهرت فيها حضارة أم النار اسمها قطر . ص ١٠٥
- ٢ - الحقل الذي اكتشف فيه كميات ضخمة من النفط في دولة الكويت يسمى برقان . ص ٨٧
- ٣ - المحصول الزراعي الذي كان للمملكة العربية السعودية تجربة رائدة في إنتاجه هو القمح ص ٩٢
- ٤ - الهجرة العربية التي استقرت في مدينة أبوظبي اسمها بنى ياس . ص ١٠٨
- ٥ - العام الذي تم فيه تصدير أول شحنة من النفط الكويتي ١٩٤٦ م . ص ٩٠
- ٦ - مجموعة من الناس تشترك فيما بينها في الصفات الجسمانية الرئيسية كلون الجلد وشكل الأنف وما إليها يطلق عليهم اسم السلالة . ص ١٠٦

(ب) ضع خطأ تحت الخيار الصحيح من بين البدائل التي تلي كل عبارة مما يلي :

١ - الدولة الخليجية الأعلى في نسبة الوافدين اسمها : ص ١١٢

| | | | |
|-------------|------------|--------------------------|--------------------------|
| دولة الكويت | سلطنة عمان | الإمارات العربية المتحدة | المملكة العربية السعودية |
|-------------|------------|--------------------------|--------------------------|

٢ - الحاكم الذي تم في عهده تصدير أول شحنة من النفط الكويتي هو الشيخ : ص ٩٠

| | | | |
|--------------------|----------------------|--------------------|--------------------|
| جابر الأحمد الصباح | سعد العبدالله الصباح | صباح الأحمد الصباح | أحمد الجابر الصباح |
|--------------------|----------------------|--------------------|--------------------|

٣ - عدد الآبار النفطية الكويتية التي أحرقتها النظام العراقي البائد أثناء الغزو على دولة الكويت يبلغ : ص ١٣٩

| | | | |
|---------|---------|---------|---------|
| ٧٣٥ بئر | ٧٣٦ بئر | ٧٣٧ بئر | ٧٣٨ بئر |
|---------|---------|---------|---------|

٤ - عملية تحويل المواد الخام إلى مواد يمكن الاستفادة منها تعرف باسم : ص ٩٥

| | | | |
|---------|---------|---------|---------|
| الصناعة | التعدين | التصدير | الإنتاج |
|---------|---------|---------|---------|

٥ - أصغر دول الخليج العربية من حيث المساحة دولة اسمها : ص ١١٤

| | | | |
|--------------------------|---------------|--------------------------|----------|
| المملكة العربية السعودية | مملكة البحرين | الإمارات العربية المتحدة | دولة قطر |
|--------------------------|---------------|--------------------------|----------|

(ج) صنف أسماء المناطق الخليجية التالية حسب مكانها الصحيح في الجدول أدناه :

(امسيعيد — العبدلي — شمال سترة — الهفوف — جبل علي — سهل الباطنة) ص ٩٦+٩٢

| مناطق زراعية | مناطق صناعية |
|--------------------------------|-------------------------------|
| العبدلي / الهفوف / سهل الباطنة | امسيعيد / شمال سترة / جبل علي |

تابع / السؤال الأول :


د) اختر من القائمة التالية الاسم المناسب لصور أنواع التلوث ثم سجله أسفل الصورة: ص ١٣٣
(تلوث هوائي - تلوث تربة - تلوث إشعاعي - تلوث مائي - تلوث ضوضائي)



تلوث هوائي



تلوث تربة



تلوث ضوضائي



تلوث مائي

موقع
المنهج الكويتية
almanahi.com/kw

هـ) أكمل المخططات السهمية التالية :

١- الروابط التي تربط بين دول الخليج العربية . ص ١١٨ - ١٢٠



٢- مجالات التعاون بين دول مجلس التعاون الخليجية . ص ١٢٩ - ١٣٠

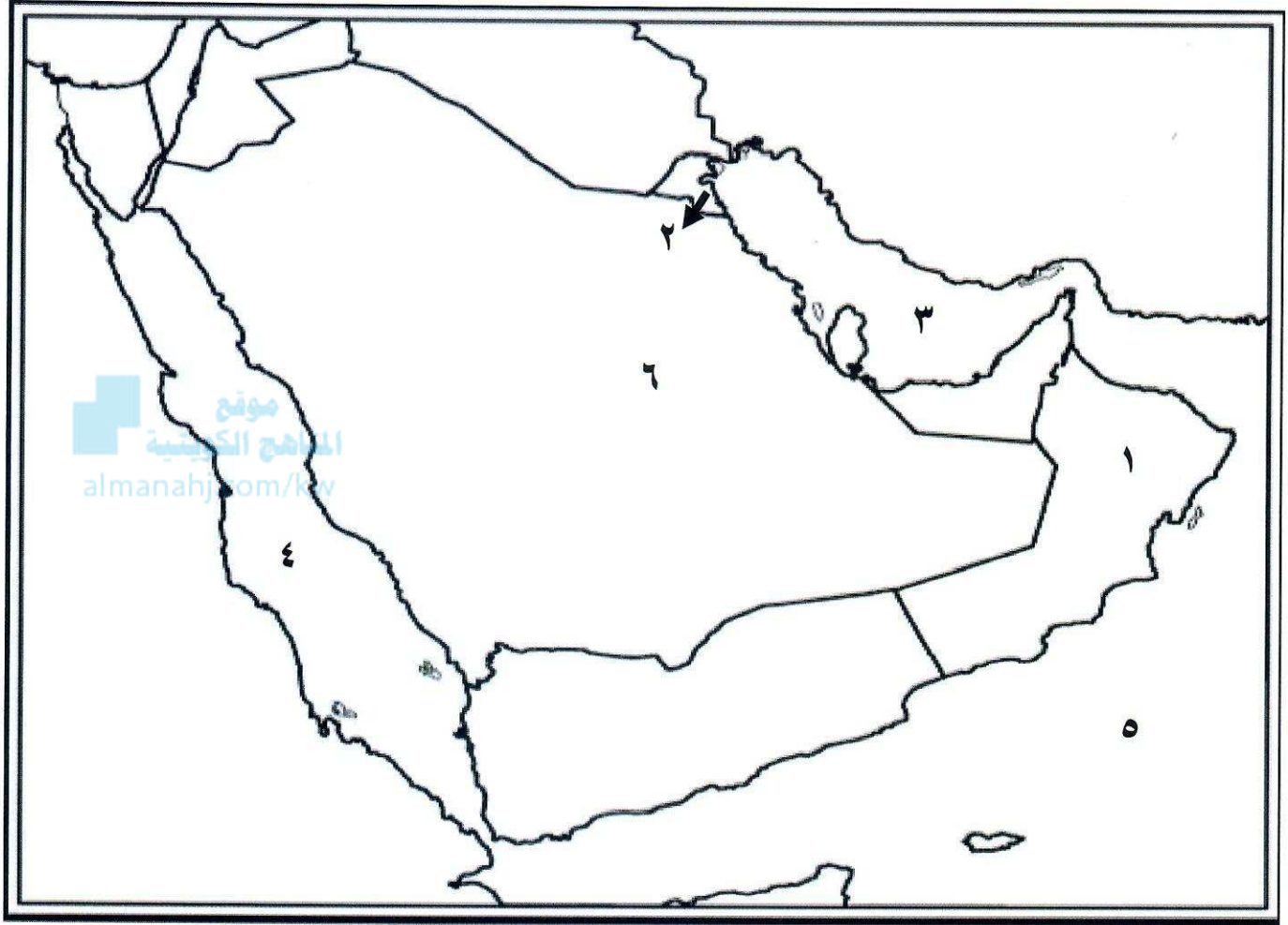


و) اكتب المفهوم أو المصطلح الدال على كل عبارة مما يلي :

| المفهوم / المصطلح | العبارات |
|---------------------|--|
| العنف ص ١٤٤ | السلوك العدواني الموجه ضد الغير والذي يتسم بالتخريب والتدمير سواء كان السلوك أقوالاً أو أفعالاً . |
| التلوث ص ١٣٣ | الضرر الذي يصيب عناصر البيئة الأساسية (هواء - ماء - تربة) فتتحول من عناصر مفيدة إلى عناصر ضارة . |
| طبقة الأوزون ص ١٣٥ | درع واق للأحياء ضد خطر الأشعة فوق البنفسجية الضارة . |
| بيوت بلاستيكية ص ٩٤ | يزرع فيها الخضراوات في غير مواسمها وتقوم بحماية المحاصيل من تقلبات الطقس . |
| النمو السكاني ص ١١١ | التغيير الذي يحدث لعدد السكان نتيجة للزيادة الطبيعية وغير الطبيعية . |

تابع / السؤال الأول

ي (لاحظ خريطة دول الخليج العربية التي أمامك ثم استعن بالأرقام التي عليها لإكمال العبارات التالية:



- الخليج العربي يمثل على الخريطة الرقم ٣ ص ٩١
- يوجد ميناء الفحل النفطي في دولة خليجية تحمل على الخريطة الرقم ١ ص ٩٧
- بحر العرب يمثل على الخريطة الرقم ٥ ص ٩٢
- دولة خليجية لم تتعرض للاستعمار الأجنبي تحمل على الخريطة الرقم ٦ ص ١٢٠
- توجد منطقة الشعبية الصناعية في دولة خليجية تحمل الرقم ٢ ص ٩٦.

السؤال الثاني ويتكون من (أ - ب - ج) :

أ) عرف ما يلي : (٤ درجات)

- ١- الثقافة : مجموعة من العادات والتقاليد والقيم في مجتمع من المجتمعات . ص ١١٨
- ٢- الدخل القومي : مجموع الدخل التي تحصل عليها الدولة خلال عام . ص ٩٥
- ٣- ترانزيت: إعادة تصدير البضائع المستوردة. ص ٩٩
- ٤- الكثافة السكانية : عدد السكان في الكيلو متر المربع ، وتقاس بقسمة عدد السكان على مساحة الدولة . ص ١١٤

ب) قارن بين كل مما يلي حسب المطلوب في الجدول التالي :- (٤ درجات)

| أوجه المقارنة | التلوث البحري (المائي) ص ١٣٦ | التلوث الهوائي ص ١٣٤ |
|---------------|--|---|
| التعريف | إحداث إفساد لنوعية المياه من خلال إدخال مواد ضارة بها من قبل الإنسان مما يؤدي إلى حدوث خلل في النظام المائي ص ١٣٦ | تعرض الغلاف الجوي لمواد تسبب الضرر للإنسان والكائنات الحية الأخرى وتؤدي إلى الإضرار بالبيئة الطبيعية . ص ١٣٤ |
| أسباب التلوث | مخلفات المصانع / مياه الصرف الصحي غير المعالجة / مياه الصرف الزراعي / النفط ومشتقاته / النفايات الخطرة / الأمطار الحمضية . (يكتفى بنقطة) ص ١٣٦ | أول أكسيد الكربون / إشعاعات نووية ثاني أكسيد النيتروجين + سيارات وطائرات براكين / عواصف ترابية / الصناعة / حرق النفايات / مبيدات حشرية. (يكتفى بنقطة) ص ١٣٨ |

ج) علل ما يلي : (٤ درجات) (يكتفى بنقطتين)

- ١- شهدت منطقة الخليج العربي بعد اكتشاف النفط نمواً سكانياً فجائياً . ص ١١٠ - ١١١
 - * ارتفاع دخل الفرد
 - * توفر فرص العمل
 - * توفر الرعاية الصحية
 - * زيادة عدد المواليد .
 - * الأمن والأمان
 - * ارتفاع الأجور
 - * السماح للوافدين باصطحاب عائلاتهم

٢- وجود مشكلة العنف عند المتعلمين . ص ١٤٩

- * أسباب أسرية
- * أسباب نفسية
- * أسباب بيئية عامة .

تم التحميل من شبكة ياكويت التعليمية



Telegram:
ykuwait_net_home

السؤال الثالث : ويتكون من (أ - ب - ج) :-

أ) اكتب فيما يلي : (٤ درجات) (يكتفى بنقطتين)

١ - أنواع الصناعات القائمة على النفط بدول مجلس التعاون الخليجي . ص ٩٧

* البتروكيماويات * الغاز * تكرير النفط / حديد / نحاس / ألومنيوم.

٢ - مظاهر التعاون العسكري بين دول مجلس التعاون الخليجي. ص ١٢٩

* المناورات (التدريبات) العسكرية المختلفة

* إنشاء قوة مشتركة تضم جميع دول مجلس التعاون الخليجي (درع الجزيرة)

* قبول أبناء دول مجلس التعاون في الكليات العسكرية .

ب) فرق بين كل مما يلي من حيث (التعريف) : (٤ درجات)

| الواردات ص ٩٩ | الصادرات ص ٩٩ |
|---|---|
| البضائع والسلع التي تشتريها دولنا من الخارج | السلع والمنتجات التي تبيعها دولنا في الخارج |
| احتياطي النفط ص ٨٨ | إنتاج النفط ص ٨٨ |
| كميات النفط المخزونة في باطن الأرض . | كميات النفط التي يتم استخراجها للاستفادة منها . |

ج) اذكر (اثنين) لكل مما يلي : (٤ درجات) (يكتفى بنقطتين)

١ - الدول المستوردة للنفط الكويتي . ص ٩٠

- اليابان

* الولايات المتحدة الأمريكية - هولندا

٢ - حلول لمشكلة العمالة المنزلية . ص ١٥٠

* الاهتمام الجاد بالقرآن الكريم والسنة النبوية * يتحمل كل فرد في الأسرة مسؤوليته والقيام بدوره خير قيام

* جعل مهمة الخادم مقتصرة على ممارسة دوره الأساسي في المساهمة في تحمل أعباء المنزل لا غير

انتهت الأسئلة ،،