

تم تحميل هذا الملف من موقع المناهج الكويتية



مدرسة التميز النموذجية

الملف أوراق عمل على الوحدة الأولى والثانية

[موقع المناهج](#) ← [ملفات الكويت التعليمية](#) ← [الصف الأول](#) ← [اجتماعيات](#) ← [الفصل الأول](#)

روابط مواقع التواصل الاجتماعي بحسب الصف الأول



روابط مواد الصف الأول على تلغرام

[الرياضيات](#)

[اللغة الانجليزية](#)

[اللغة العربية](#)

[التربية الاسلامية](#)

المزيد من الملفات بحسب الصف الأول والمادة اجتماعيات في الفصل الأول

[توزيع خطة المنهج](#)

1

[تحميل كتاب الطالب للمنهج الجديد](#)

2

[تحميل حل كتاب الطالب للمنهج الجديد](#)

3

أوراق عمل الوحدة الأولى والثانية (الدرس الأول والثاني)

مادة الاجتماعيات

موقع
المناهج الكويتية
almanahj.com/kw

الفصل الدراسي الأول 2025 – 2026 م

للمصف (الأول)

مدرسة التميز النموذجية

(ابتدائي - متوسط - ثانوي)



إعداد
قسم الاجتماعيات



التميز

مدرسة التميز النموذجية بنين (ابتدائي - متوسط - ثانوي) خيطان - قطعة (٤) - شارع (١٠٠)

اجب عن الأسئلة التالية

(1) ضع علامة (✓) إذا كانت العبارة الصحيحة وعلامة (✗) إذا كانت العبارة خاطئة في كل مما يلي:

م	العبارة	العلامة
1	البطاقة المدنية وثيقة الهوية الكويتية.	
2	الدشاشة من ملابس الفتاة.	
3	يلون الماء على الخريطة باللون الأصفر.	
4	الشيخ مشغل الأحمد هو الحاكم السابع عشر لدولة الكويت.	
5	تولى الشيخ مشعل الأحمد حكم الكويت عام 2024م	
6	كل منطقة سكنية في وطني الكويت بها خدمات عديدة.	
7	علم وطني الكويت يتكون من خمس ألوان.	
8	علم وطني يعد رمزاً للكويت ويعبر عن استقلالها.	
9	لكل دولة نشيدها الوطني الخاص.	
10	نحبي العلم بفخر واعتزاز.	

(2) ظلل الحرف (أ) إذا كان السلوك صحيح والحرف (ب) إذا كان السلوك خاطئ:

م	السلوك	أ	ب
1	الافتخار بأمير وطني والاعتداء به.		
2	أذاكر دروسي في بيتي.		
3	أترك الماء يفيض من الحنفية.		
4	مضايقة الجار.		
5	أحترم علم وطني وأقف له باقتدار		
6	نقف باستقامة احتراماً للعلم.		



(3) ظل الخيار الصحيح من بين الخيارات التي تلي كل عبارة مما يلي:

1- تستخدم البطاقة المدنية عند الذهاب إلى:

الجمعية	المستوصف	المسجد	الحديقة
---------	----------	--------	---------

2- يعتبر من ملابس الفتاة:

الثوب	الغتره	العقال	الدشداشة
-------	--------	--------	----------

3- عاصمة وطني الكويت هي:

الرياض	الكويت	الدوحة	أبوظبي
--------	--------	--------	--------

4- يلون اليابس على الخريطة باللون:

الأزرق	الأخضر	الأصفر	الأسود
--------	--------	--------	--------

5- الشيخ مشعل الأحمد الصباح هو حاكم الكويت:

14	15	16	17
----	----	----	----

6- تولى الشيخ مشعل الأحمد الصباح حكم الكويت عام:

2021م	2022م	2023م	2024م
-------	-------	-------	-------

7- من إنجازات الشيخ مشعل افتتاح كأس الخليج (26) في المجال:

الرياضي	التعليمي	الصحي	الاقتصادي
---------	----------	-------	-----------

8- علم وطني الكويت يتكون من 4 ألوان هم الأخضر والأبيض والاحمر و:

الاصفر	الازرق	الاسود	البنفسجي
--------	--------	--------	----------

(4) صنف إنجازات الشيخ مشعل الأحمد في مكانها المناسب في الجدول التالي:

(التعليمي / الصحي / الرياضي / الاقتصادي)

م	المجال	الانجازات
1		التشغيل الكامل لمصفاة الزور
2		افتتاح جامعة عبدالله السالم
3		افتتاح كأس الخليج 26
4		افتتاح مستشفى الصباح الجديد



(5) صل بين الصور التالية في المجموعة (أ) وما يعبر عنها ويناسبها من المجموعة (ب):

المجموعة (ب)	المجموعة (أ)	م
البخنق		1
مساعدة الجار		2
أسرة كويتية		3
علم وطني الكويت		4
الصندوق المبيت		5
أمير وطني الشيخ مشعل الأحمد		6
خريطة وطني الكويت		7

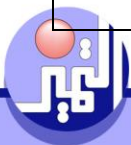
اجابة الأسئلة

(1) ضع علامة (✓) إذا كانت العبارة الصحيحة وعلامة (✗) إذا كانت العبارة خاطئة في كل مما يلي:

م	العبارة	العلامة
1	البطاقة المدنية وثيقة الهوية الكويتية.	✓
2	الدشداشة من ملابس الفتاة.	✗
3	يلون الماء على الخريطة باللون الأصفر.	✗
4	الشيخ مشغل الأحمد هو الحاكم السابع عشر لدولة الكويت.	✓
5	تولى الشيخ مشعل الأحمد حكم الكويت عام 2024م	✗
6	كل منطقة سكنية في وطني الكويت بها خدمات عديدة.	✓
7	علم وطني الكويت يتكون من خمس ألوان.	✗
8	علم وطني يعد رمزاً للكويت ويعبر عن استقلالها.	✓
9	لكل دولة نشيدها الوطني الخاص.	✓
10	نحيي العلم بفخر واعتزاز.	✓

(2) ظلل الحرف (أ) إذا كان السلوك صحيح والحرف (ب) إذا كان السلوك خاطئ:

م	السلوك	أ	ب
1	الافتخار بأمير وطني والافتداء به.	✓	
2	أذاكر دروسي في بيتي.	✓	
3	أترك الماء يفيض من الحنفية.		✗
4	مضايقة الجار.		✗
5	أحترم علم وطني وأقف له باقتنار	✓	
6	نقف باستقامة احتراماً للعلم.	✓	



(3) ظلل الخيار الصحيح من بين الخيارات التي تلي كل عبارة مما يلي:

1- تستخدم البطاقة المدنية عند الذهاب إلى:

الجمعية	المستوصف	المسجد	الحديقة
---------	----------	--------	---------

2- يعتبر من ملابس الفتاة:

الثوب	العقال	الغتره	الدشداشة
-------	--------	--------	----------

3- عاصمة وطني الكويت هي:

الرياض	الكويت	الدوحة	أبوظبي
--------	--------	--------	--------

4- يلون اليايس على الخريطة باللون:

الأزرق	الأخضر	الأصفر	الأسود
--------	--------	--------	--------

5- الشيخ مشعل الأحمد الصباح هو حاكم الكويت:

14	15	16	17
----	----	----	----

6- تولى الشيخ مشعل الأحمد الصباح حكم الكويت عام:

2021م	2022م	2023م	2024م
-------	-------	-------	-------

7- من إنجازات الشيخ مشعل افتتاح كأس الخليج (26) في المجال:

الرياضي	التعليمي	الصحي	الاقتصادي
---------	----------	-------	-----------

8- علم وطني الكويت يتكون من 4 ألوان هم الأخضر والأبيض والاحمر و:

الاصفر	الازرق	الاسود	البنفسجي
--------	--------	--------	----------







(4) صنف إنجازات الشيخ مشعل الأحمد في مكانها المناسب في الجدول التالي:

(التعليمي / الصحي / الرياضي / الاقتصادي)

م	المجال	الانجازات
1	الاقتصادي	التشغيل الكامل لمصفاة الزور
2	التعليمي	افتتاح جامعة عبدالله السالم
3	الرياضي	افتتاح كأس الخليج 26
4	الصحي	افتتاح مستشفى الصباح الجديد



(5) صل بين الصور التالية في المجموعة (أ) وما يعبر عنها ويناسبها من المجموعة (ب):

المجموعة (ب)	المجموعة (أ)	م
البخنق		1
مساعدة الجار		2
أسرة كويتية		3
علم وطني الكويت		4
الصندوق المبيت		5
أمير وطني الشيخ مشعل الأحمد		6
خريطة وطني الكويت		7

