

تم تحميل هذا الملف من موقع المناهج الكويتية




سعود المونس

الملف التاريخ الإسلامي

موقع المناهج ← ملفات الكويت التعليمية ← الصف الحادي عشر الأدبي ← تاريخ ← الفصل الثاني

روابط مواقع التواصل الاجتماعي بحسب الصف الحادي عشر الأدبي



روابط مواد الصف الحادي عشر الأدبي على تلغرام

[الرياضيات](#)

[اللغة الانجليزية](#)

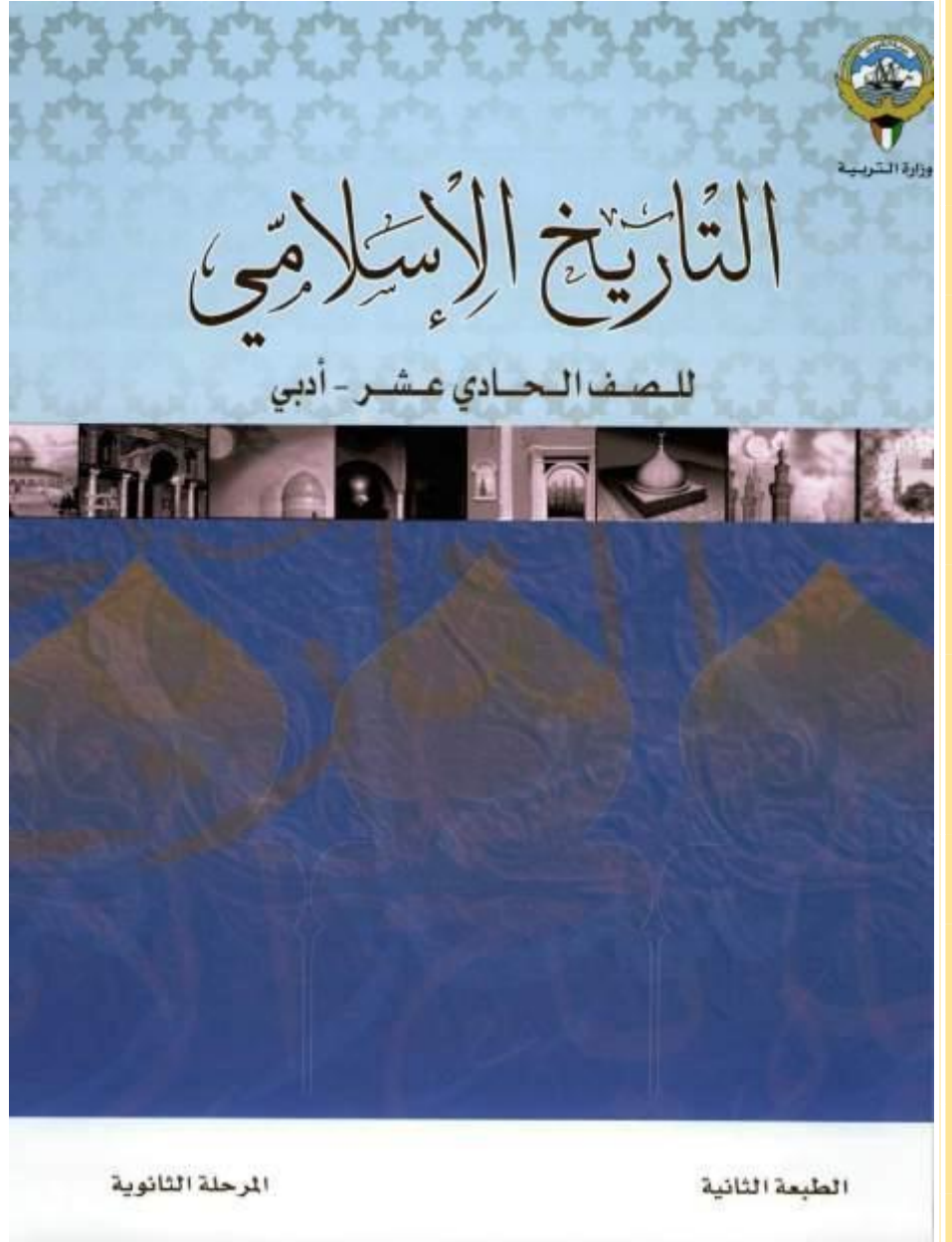
[اللغة العربية](#)

[التربية الاسلامية](#)

المزيد من الملفات بحسب الصف الحادي عشر الأدبي والمادة تاريخ في الفصل الثاني

مراجعة التاريخ الاسلامي	1
بنك اسئلة للفصل الثاني	2
مراجعة التاريخ الاسلامي	3
مذكرة تاريخ	4
مراجعة	5

اعداد وتنسيق
أ. سعود المونس
رئيس قسم الاجتماعيات



[دليل الأسئلة لمادة التاريخ الاسلامي-للفصل الحادي عشر أدبي]

الفصل الدراسي الثاني

الاهداء

بفضل الله وتوفيقه نضع بين أيديكم دليل الأسئلة وأوراق العمل ضمن سلسلة الاجتماعيات الإلكترونية وهو إهداء إلى إخواننا الطلبة والمعلمين وأولياء الأمور ويساعد المعلمين في تحضير الدروس وإعداد أوراق العمل والامتحانات والتحضير وتحديد الأهداف وعمل الباوربوينت، ويساعد الطلاب في استذكار الدروس والمراجعة ومعرفة طرق صياغة الأسئلة والتدريب عليها، وتتناول هذه الأدلة الدروس منفصلة ونوه أن هذه البنوك لا تغني عن الكتاب المدرسي المرجع الأول في الدراسة. وهذه البنوك خالصة لوجه الله ومجانية ويمنع نسخها وبيعها فجميع الحقوق محفوظة وفق الجهات الرسمية مع اعتمادها ونسأل الله القبول والتوفيق للجميع.

اعداد وتنسيق اخوكم/

أ/ سعود المونس

رئيس قسم الاجتماعيات



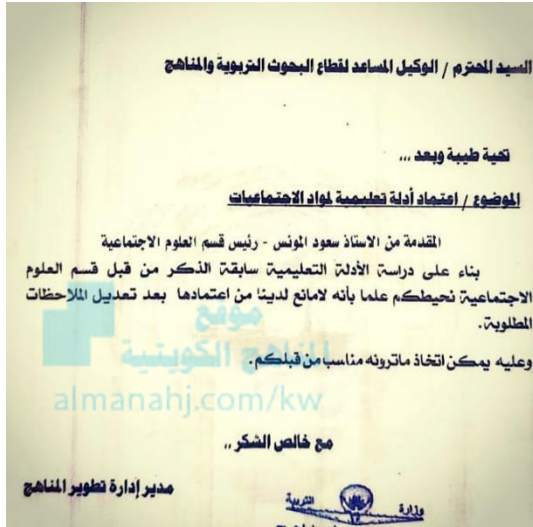
@q84skw



@Social_ar



@Social_ar

الاعتماد

عصر الدولة الأموية (٤١ - ١٣٢ هـ / ٦٦١ - ٧٥٠ م) || الدرس صفحة ٩١

س١/ علل لما يلي:

- أ- فضل الحسن بن علي توقيع الصلح مع معاوية بن أبي سفيان وتجنب الحرب عام ٤١ هـ.
بسبب كرهه للحرب وحرصه على حقن دماء المسلمين وتجنب الفتنة.
- ب- تسمية العام ٤١ هـ بعام الجماعة.

اجتماع المسلمين على اختيار معاوية بن أبي سفيان خليفة للمسلمين، بعد تنازل الحسن بن علي ٣.

س٢/ عرف عام الجماعة: العام الذي اجتمع فيه المسلمين على اختيار معاوية بن أبي سفيان خليفة لهم عام ٤١ هـ.

س٣/ فرق بين: أسس اختيار الخليفة في عهد الخلفاء الراشدين وفي عهد الدولة الأموية.

في عهد الخلفاء الراشدين	في عهد الدولة الأموية
الشورى والانتخاب والبيعة	الوراثة وولاية العهد

س٤/ علل: اهتم الأمويون اهتماماً كبيراً بحركة الفتوحات الإسلامية.

لتعويض فترات التوقف نظراً للمشكلات التي مرت بها الدولة الأموية.

س٥/ أكمل العبارات التالية بما يناسبها:

- ١- مؤسس الدولة الأموية يسمى معاوية بن أبي سفيان ٣.
- ٢- الخليفة الذي بايعه أهل الشام بعد مقتل علي بن أبي طالب يسمى معاوية بن أبي سفيان ٣.
- ٣- الخليفة الذي بايعه أهل العراق بعد مقتل علي بن أبي طالب يسمى الحسن بن علي ٣.
- ٤- المدينة التي وقع فيها الصلح بين الحسن بن علي ومعاوية بن أبي سفيان ٣ في مدينة تسمى الكوفة.
- ٥- المدينة التي عاد لها الحسن بن علي ٣ بعد تنازله عن الخلافة عام ٤١ هـ تسمى المدينة المنورة.
- ٦- بلغت الدولة الإسلامية أقصى اتساع لها في عهد دولة تسمى الدولة الأموية.
- ٧- وصل اتساع الدولة الأموية شرقاً إلى دولة تسمى الصين.
- ٨- وصل اتساع الدولة الأموية غرباً حتى جنوب غرب فرنسا.
- ٩- المدينة التي اتخذها معاوية بن أبي سفيان عاصمة لدولته تسمى دمشق.
- ١٠- العام الذي بويع فيه معاوية بن أبي سفيان ٣ في دمشق خليفةً للمسلمين ٤١ هـ.
- ١١- الفترة التي حكم فيها الأمويون الدولة الإسلامية ٩٠ عاماً.
- ١٢- بلغ عدد خلفاء الدولة الأموية وتعاقب على حكمها ١٤ خليفة.
- ١٣- الفترة الزمنية لامتداد الدولة الأموية وفقاً للشكل التالي يمثلته الحرف (ب) . من ٤١ هـ إلى ١٣٢ هـ



(ج)

(ب)

(أ)



أولاً: الفتوحات شرقاً في عصر الدولة الأموية || **الدرس صفحة ٩٢ الي ٩٣**

س١/ عرف: بلاد ما وراء النهر: المناطق الواقعة شرق نهر جيحون وتضم بخاري وسمرقند وبيكند وغيرها من المدن.
س٢/ قارن بين: قادة مراحل فتح بلاد ما وراء النهر وفقاً للجدول التالي. (اذكر أعمال وإسهامات الشخصيات التالية).

وجه المقارنة	العام	المناطق التي تم فتحها
المهلب بن أبي صفرة	٧٨ هـ	١- قام بفتوح واسعة فيما وراء بلاد النهر. ٢- فتح إقليم الصغد - خوارزم - جرجان - طبرستان
قتيبة بن مسلم الباهلي	٨٦ هـ	*فتحت: طخرستان - بخاري - بيكند - تومشكت - سمرقند - فرغانة - كاشغر
محمد بن القاسم الثقفي	٨٩ هـ	فتحت: مكران - الديبل

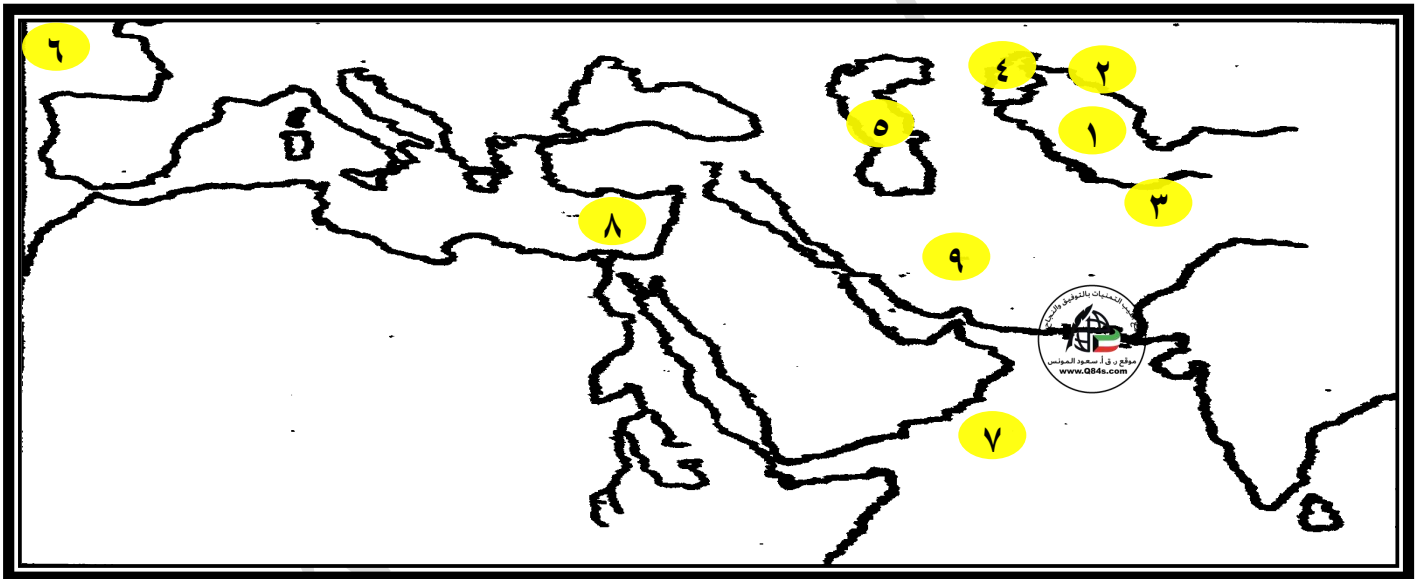
س٣/ **فند العبارة التالية:** " لم يكن لفتوحات بلاد ما وراء النهر أثر في اثناء الحضارة الإسلامية " كان لها أكبر الأثر في اثناء الحضارة الإسلامية وقد برز من تلك المناطق علماء ومفكرون أمثال الخوارزمي والبخاري.
س٤/ **اذكر:** خطة قتيبة بن مسلم الباهلي في الفتوحات.
١- توجيه الضربات السريعة على الأعداء.
٢- اهتمامه بنشر الإسلام.

س٥/ **دلل على صحة العبارات التالية:**

- أ- " لعب قتيبة بن مسلم الباهلي دوراً هاماً في نشر الإسلام في بلاد ما وراء النهر ".
١- اعتمد حركة عمران كبيرة شملت بناء المساجد لتكون مركز إشعاع حضاري وديني.
٢- وزع الفقهاء المسلمون على المناطق لدعوة الناس للدين الإسلامي.
ب- " اهتمام محمد بن القاسم الثقفي بنشر الإسلام في بلاد السند ".
تمكن من فتح مدينة الديبل (كراتشي الحالية) وبني بها العديد من المساجد وأسكنها عدد من المسلمين.

س٦/ أكمل العبارات التالية بما يناسبها:

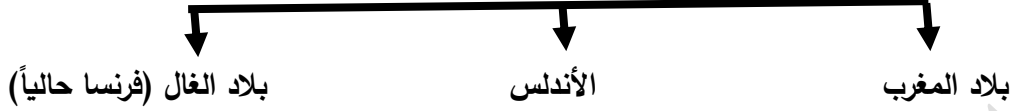
- ١- الخليفة الأموي الذي تمت الفتوحات في عهده شرقاً يسمى عبد الملك بن مروان وابنه الوليد بن عبد الملك.
 - ٢- والي العراق والمشرق الذي تم في عهده فتح بلاد ما وراء النهر يسمى الحجاج بن يوسف الثقفي.
 - ٣- المدينة التي تعتبر آخر ما وصلت له الجيوش الإسلامية في آسيا شرقاً تسمى كاشغر.
 - ٤- الآلة العسكرية التي استخدمها محمد بن القاسم في حصار حصن الديبل تسمى المنجنيق (العروس).
 - ٥- ملك السند الذي قتله محمد بن القاسم الثقفي في معركة قند يسمى داهر.
 - ٦- القاعدة الإسلامية التي اتخذها قتيبة بن مسلم الباهلي تسمى كاشغر.
 - ٧- المدينة التي حاصرها محمد بن القاسم الثقفي وفتحها بعد قتال عنيف تسمى الديبل.
 - ٨- تعرف حالياً مدينة الديبل باسم كراتشي.
 - ٩- البلدة الصغيرة التي دارت فيها معركة حامية بين محمد بن القاسم الثقفي وداهر ملك السند تسمى قند.
- س٧/ لا حظ الخريطة جيداً ثم أجب عما يلي:



- ❖ بلاد ما وراء النهر على الخريطة يمثلها الرقم (١).
- ❖ نهر سيحون على الخريطة يمثلها الرقم (٢).
- ❖ نهر جيحون على الخريطة يمثلها الرقم (٣).
- ❖ بحر خوارزم على الخريطة يمثلها الرقم (٤).
- ❖ بحر الخزر على الخريطة يمثلها الرقم (٥).
- ❖ بحر الظلمات على الخريطة يمثلها الرقم (٦).
- ❖ بحر الروم على الخريطة يمثلها الرقم (٨).
- ❖ مدينة خراسان على الخريطة يمثلها الرقم (٩).

ثانياً: الفتوحات غرباً في عصر الدولة الأموية || الدرس صفحة ٩٤ إلى ٩٥

س١/ ارسم: مخطط سهمي للفتوحات الأموية غرباً:



س٢/ عرف ما يلي:

أ- بلاد المغرب: منطقة شمال أفريقيا من ليبيا حتى المحيط الأطلسي وكان يسكنها البربر.

ب- البربر: القبائل التي سكنت شمال أفريقيا حتى المحيط الأطلسي.

س٣/ علل: تسمية البربر بهذا الاسم.

لأنهم كانوا يتقوهون بكلمات غير مفهومة للعرب.

س٤/ قارن بين: مراحل فتح بلاد المغرب من حيث القائد والعام وأهم الإنجازات.

وجه المقارنة	القائد	العام	أهم الإنجازات (أعماله وإسهاماته)
المرحلة الأولى	معاوية بن حديج	٤٥ هـ / ٦٦٥ م	١- فتح قرطاجنة وبنزرت. ٢- اشتبك مع القوات البيزنطية وهزمها. ٣- عاد لمصر ليتولى ولايتها.
المرحلة الثانية	عقبة بن نافع الفهري	٤٩ هـ / ٦٦٩ م	١- فتح أفريقيا الغربية مرة أخرى. ٢- بناء مدينة القيروان عام ٥٠ هـ وجعلها قاعدة إسلامية.
المرحلة الثالثة	أبي المهاجر دينار	٥٥ هـ / ٦٧٤ م	١- استطاع أن يستولي على مدينة تلمسان. ٢- قضى على الكثير من مواقع الروم. ٣- الصلح مع القبائل البربرية وقائدها كسيلة.
المرحلة الرابعة	عقبة بن نافع الفهري	٦٢ هـ / ٦٨٠ م	١- الوصول إلى مدينة طنجة. ٢- اشتبك مع البربر، واستشهد عند مدينة تهوده عام ٦٤ هـ.
المرحلة الخامسة	زهير بن قيس	٦٤ هـ / ٦٨٣ م	١- استطاع استرجاع القيروان. ٢- قتل قائد البربر كسيلة.
المرحلة السادسة	حسان بن النعمان	٧٤ هـ / ٦٩٣ م	١- أعاد سيطرة المسلمين على المغرب. ٢- قتل زعيمة البربر الكاهنة. ٣- أسس مدينة تونس والمسجد الجامع. ٤- اهتم بنشر الإسلام واللغة العربية بين القبائل البربرية. ٥- وزع الفقهاء المسلمين في أنحاء المغرب لتعليم قواعد الدين.
المرحلة السابعة	موسى بن نصير	٨٥ هـ / ٩٢ م	١- فتح المغرب كله ما عدا سبته. ٢- اقام قائده طارق بن زياد على حامية طنجة.

تابع الدرس صفحة ٩٤ إلى ٩٦**س ٥/ نفذ كما هو مطلوب منك بين الأقواس:**

أ- إنشاء عقبة بن نافع قاعدة عربية إسلامية في أفريقيا وتحديدًا مدينة القيروان عام ٥٠ هـ. (فسر)
لأنه أدرك بخبرته أن أهل أفريقيا من البربر يدخلون في طاعة المسلمين طالما بقي المسلمون في بلادهم.

ب- تأخر عملية فتح بلاد المغرب.
١- قوة بأس تلك القبائل البربرية. (علل)

٢- مساعدة الدولة البيزنطية في محاربة المسلمين وقطع الطريق عليها.

٣- وعورة تضاريس بلاد المغرب.

**س ٦/ أكمل العبارات التالية بما يناسبها:**

١- المدينة التي أنشأها عقبة بن نافع وجعلها قاعدة إسلامية في أفريقيا تسمى القيروان.

٢- المدينة التي استولى عليها أبو المهاجر دينار خلال المرحلة الثالثة من مراحل فتح بلاد المغرب تسمى تمسان.

٣- القائد البربري الذي أسلم وقومه بعد مصالحة أبي المهاجر دينار يسمى كسيلة.

٤- المدينة التي وصل إليها عقبة بن نافع على المحيط الأطلسي تسمى طنجة.

٥- المدينة التي استشهد عندها عقبة بن نافع عام ٦٤ هـ تسمى تهود.

٦- قائد البربر الذي قتل علي يد زهير بن قيس البلوي يسمى كسيلة.

٧- زعيمة البربر التي قتلت على يد حسان بن النعمان عام ٧٤ هـ تسمى الكاهنة.

٨- المدينة التي أسسها حسان بن النعمان تسمى تونس.

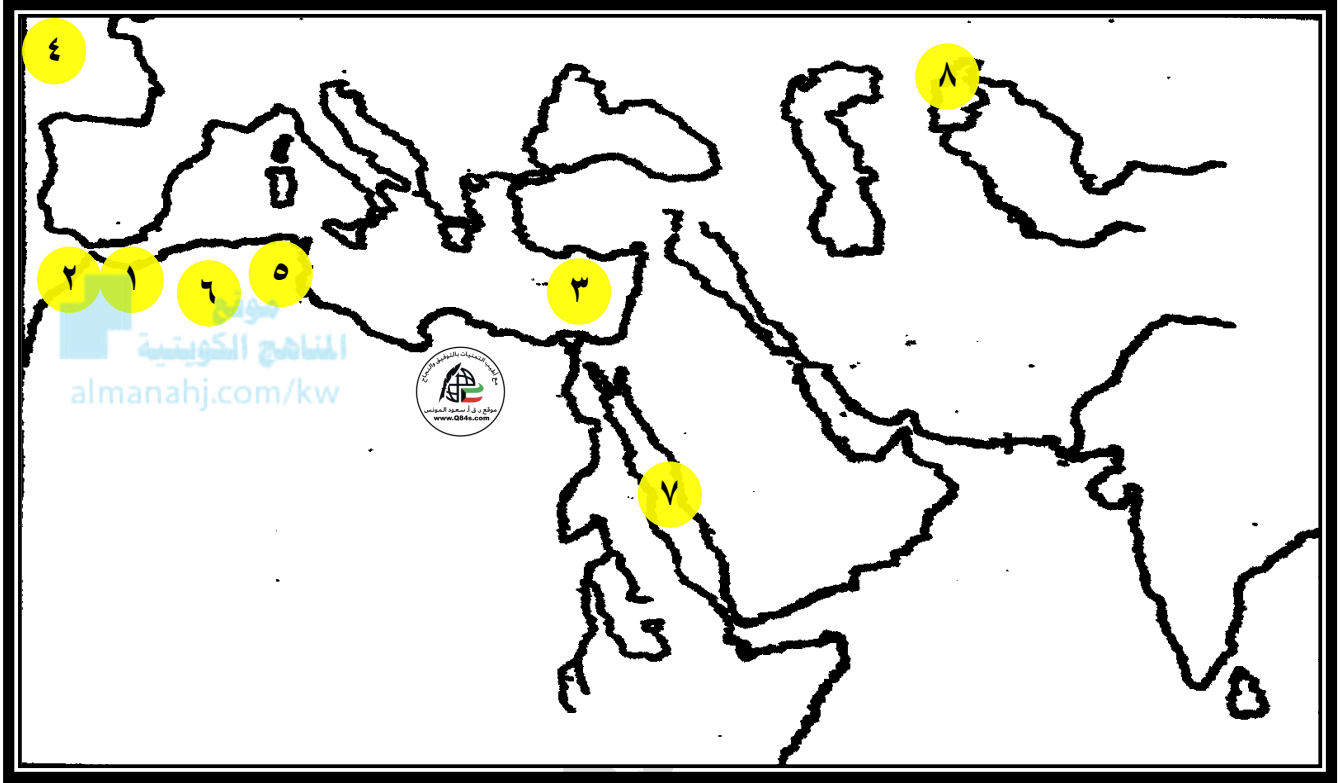
٩- المسجد الذي أسسه حسان بن النعمان يسمى الجامع.

١٠- المدينة التي لم يستطع موسى بن نصير فتحها تسمى سبته.

١١- المدة الزمنية التي دامت فيها فتوح بلاد المغرب ٧٠ عام.

تابع الدرس صفحة ٩٤ إلى ٩٦

س٧/ لا حظ الخريطة جيداً ثم أجب عما يلي:



- ❖ المدينة التي لم يستطع موسى بن نصير فتحها على الخريطة يمثلها الرقم (١ سيته).
- ❖ المدينة التي وصلها عقبة بن نافع في أقصى المغرب على المحيط الأطلسي يمثلها على الخريطة الرقم (٢ طنجه).
- ❖ بحر الروم على الخريطة يمثله الرقم (٣).
- ❖ بحر الظلمات على الخريطة يمثله الرقم (٤).
- ❖ مدينة اختطها عقبة بن نافع عام ٥٠٠هـ كقاعدة عربية إسلامية في أفريقيا على الخريطة يمثلها الرقم (٥ القبروان).
- ❖ مدينة استولى عليها أبي المهاجر دينار على الخريطة يمثلها الرقم (٦ تلمسان).

ثالثاً: فتح بلاد الأندلس || الدرس صفحة ٩٦ إلى ٩٧

س١/ علل: فتح الأندلس تاجاً لفتوح المسلمين في الغرب.

١- لأنه كان فتحاً رائعاً من الناحية العسكرية.

٢- امتد به الإسلام داخل القارة الأوروبية.

س٢/ اذكر دور طريف بن مالك في فتح بلاد الأندلس.

عبر المضيق ونزل جزيرة لاس بالوس ثم المدينة التي سميت باسمه مدينة طريف ٩١هـ.

س٣/ قارن بين: مراحل فتح بلاد الأندلس من حيث القائد والعام وأهم الأحداث.

وجه المقارنة	القائد	العام	أهم الأحداث
مرحلة الاستكشاف	طريف بن مالك	٩١ هـ / ٧١٠ م	عبر المضيق ونزل جزيرة لاس بالوس ثم المدينة التي سميت باسمه مدينة طريف ٩١هـ.
مرحلة الفتح	طارق بن زياد	٩٢ هـ / ٧١١ م	١- تقابل مع ملك القوط لذريك في معركة شنونة (معركة وادي لكّة) وقتل لذريك. ٢- انتصر المسلمون واستولوا على عاصمة القوط (طليطلة).
استكمال الفتح	موسى بن نصير	٩٥ هـ / ٧١٤ م	١- عبر موسى بن نصير من المغرب إلى الأندلس عام ٩٥هـ لاستكمال الفتوحات بجيش ضم ١٨ ألف. ٢- التقى موسى بن نصير بقائده طارق بن زياد ثم عادا إلى دمشق بعد استدعاء الخليفة الوليد بن عبد الملك لهم فولى موسى ابنه عبد العزيز والي على الأندلس عام ٩٥م.

س٤/ أكمل العبارات التالية بما يناسبها:

١- القائد الذي أرسله موسى بن نصير لاختبار بلاد الأندلس بالسرايا عام ٩١هـ يسمى طريف بن مالك.

٢- الجزيرة التي نزل بها طريف بن مالك في الأندلس عام ٩١هـ / ٧١٠م تسمى لاس بالوس.

٣- القائد الذي أرسله موسى بن نصير لفتح بلاد الأندلس عام ٩٢هـ يسمى طارق بن زياد.

٤- القائد المسلم الذي استولى على مدينة قرطاجنة الإسبانية والجزيرة الخضراء عام ٩٢هـ يسمى طارق بن زياد.

٥- عرفت معركة شنونة عام ٩٢هـ باسم آخر لها هو وادي لكّة.

٦- عاصمة القوط التي فتحها طارق بن زياد بعد معركة شنونة عام ٩٣هـ تسمى طليطلة.

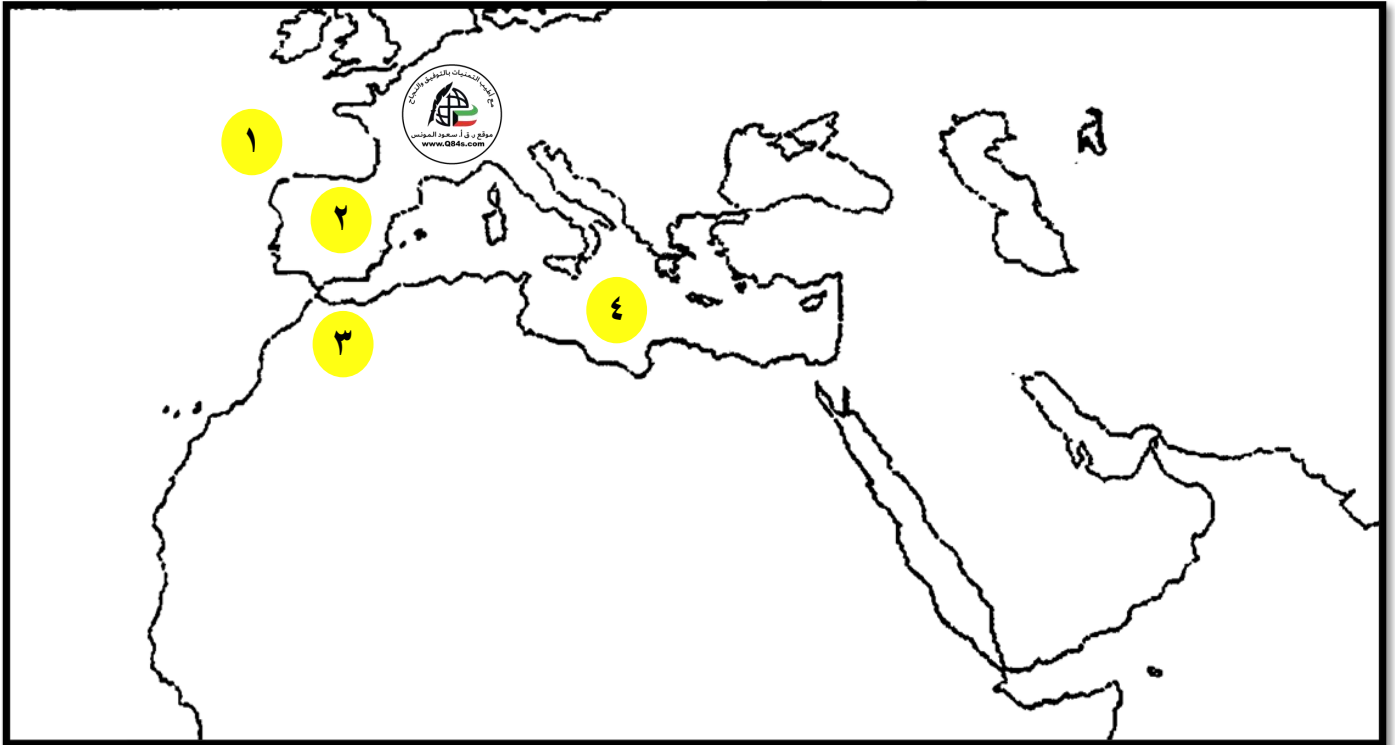
٧- المدينة التي تقابل فيها موسى بن نصير مع قائده طارق بن زياد تسمى طليطلة.

س ٥/ أكمل الناقص حول معركة شذونة (وادي لكة) وفقاً للجدول التالي.

المعركة	شذونة (وادي لكة)
عام	٩٢ هـ
الأطراف والقادة	المسلمين: طارق بن زياد × القوط: لذريك
الأسباب	استيلاء طارق بن زياد على مدينة قرطاجنة الأسبانية والمدينة الخضراء.
النتائج	١- انتصار المسلمين. ٢- قتل لذريك في المعركة. ٣- سقوط طليطلة عاصمة القوط عام ٩٣ هـ/ ٧١٢ م.

موقع
المناهج الكويتية
almanahj.com/kw

س ٦/ لا حظ الخريطة جيداً ثم أجب عما يلي:



❖ بحر الظلمات على الخريطة يمثل الرقم (١).

❖ عاصمة القوط التي اسقطها طارق بن زياد عام ٩٣ هـ على الخريطة يمثلها الرقم (٢ طليطلة)

رابعاً: محاولات فتح المسلمين في غالة (جنوب فرنسا) - الدرس صفحة ٩٨ إلى ١٠٠س١/ عرف بلاد الغال: هي فرنسا الحالية التي تقع شرق جبال البرانس.س٢/ أكمل الناقص حول معركة بلاط الشهداء وفقاً للجدول التالي.

المعركة	بلاط الشهداء
العام	١١٤ هـ / ٧٣٢ م
الأطراف والقادة	المسلمون: عبد الرحمن الغافقي X الفرنجة: شارل مارتل
النتائج	توقف حركة محاولات الفتح إلى غالة تماماً.

س٣/ عدد العوامل التي أدت إلى انهيار الدولة الأموية.

- ١- تعصب الأمويين للعنصر العربي مما أدى لخروج الموالي على الدولة الأموية.
- ٢- انصراف بعض خلفاء بني أمية عن شؤون الحكم حتى ضعفت هيبة الخلافة.
- ٣- تولية العهد لأكثر من واحد مما سبب الانقسام بين أفراد البيت الأموي.
- ٤- ظهور روح العصبية القبلية بين القبائل العربية القيسية واليمانية خاصة بعد وفاة الخليفة عمر بن عبد العزيز.
- ٥- عجز الخليفة الأموي مروان بن محمد عن اخماد ثورة العباسيين.

س٤/ ما النتائج المترتبة على:

- ١- تعصب الأمويين للعنصر العربي.
- أدى لخروج الموالي على الدولة الأموية.
- ٢- تولية العهد لأكثر من واحد في الدولة الأموية.
- الانقسام بين أفراد البيت الأموي.

س٥/ علل: خروج الموالي على الدولة الأموية.

تعصب الأمويين للعنصر العربي.

س٦/ عرف الموالي: المسلمون من غير العرب الذين دخلوا في الإسلام عقب الفتح العربي في فارس ومصر والمغرب وغيرها من الأمصار.س٧/ أكمل العبارات التالية بما يناسبها:

- ١- الجبال التي تخطتها الجيوش الإسلامية من أجل فتح بلاد غالة تسمى جبال البرت (البرانس).
- ٢- تعرف بلاد غالة حالياً باسم فرنسا.
- ٣- القائد المسلم الذي قاد أهم الحملات العسكرية عام ١١٤ هـ على بلاد غالة يسمى عبد الرحمن الغافقي.
- ٤- عرفت معركة تور بواتيه عام ١١٤ هـ عند المسلمين باسم بلاط الشهداء.
- ٥- الخليفة الأموي الذي ظهرت بعد وفاته العصبية القبلية بين القيسية واليمانية يسمى عمر بن عبد العزيز.
- ٦- آخر خلفاء الدولة الأموية، الذي هزم في معركة الزاب يسمى مروان بن محمد.

قيام الدولة العباسية - الدرس صفحة ١٠١

س١/ دلل على صحة العبارة التالية: "يمكن اعتبار عهد الخليفة الأموي مروان بن محمد آخر الخلفاء الأمويين بدء

سقوط الدولة الأموية وانهارها والتمهيد لقيام الدولة العباسية"

١- انتشرت الثورات ضد الحكم الأموي في أنحاء الشام.

٢- دبت الفوضى في العراق والجزيرة العربية.

٣- ظهور فتنة الخوارج.

س٢/ أكمل الناقص في الجدول التالي: حول معركة الزاب.

المعركة	الزاب
عام	١٣٢هـ / ٧٥٠م
الأطراف والقادة	الدولة الأموية: مروان بن محمد X الدولة العباسية: عبد الله بن علي
النتائج	١- هزيمة مروان بن محمد. ٢- القضاء على مروان بن محمد في بلدة بوضير. ٣- انتهاء حكم الأمويين وقيام الدولة العباسية.

س٣/ من القائل (أنا السفاح المبيح).

*القائل: أبو العباس السفاح.

*المناسبة: عندما اعتلى عرش الخلافة العباسية.

س٤/ أكمل العبارات التالية بما يناسبها:

١- آخر خلفاء الدولة الأموية، هزم في معركة الزاب يسمى مروان بن محمد.

٢- المعركة التي انتهت الدولة الأموية عام ١٣٢هـ تسمى الزاب.

٣- أعظم الفتن التي تعرضت لها الدولة الأموية تسمى فتنة الخوارج.

٤- مركز التحرك العسكري للجيوش العباسية ضد الدولة الأموية عام ١٣٢هـ مدينة تسمى خرسان.

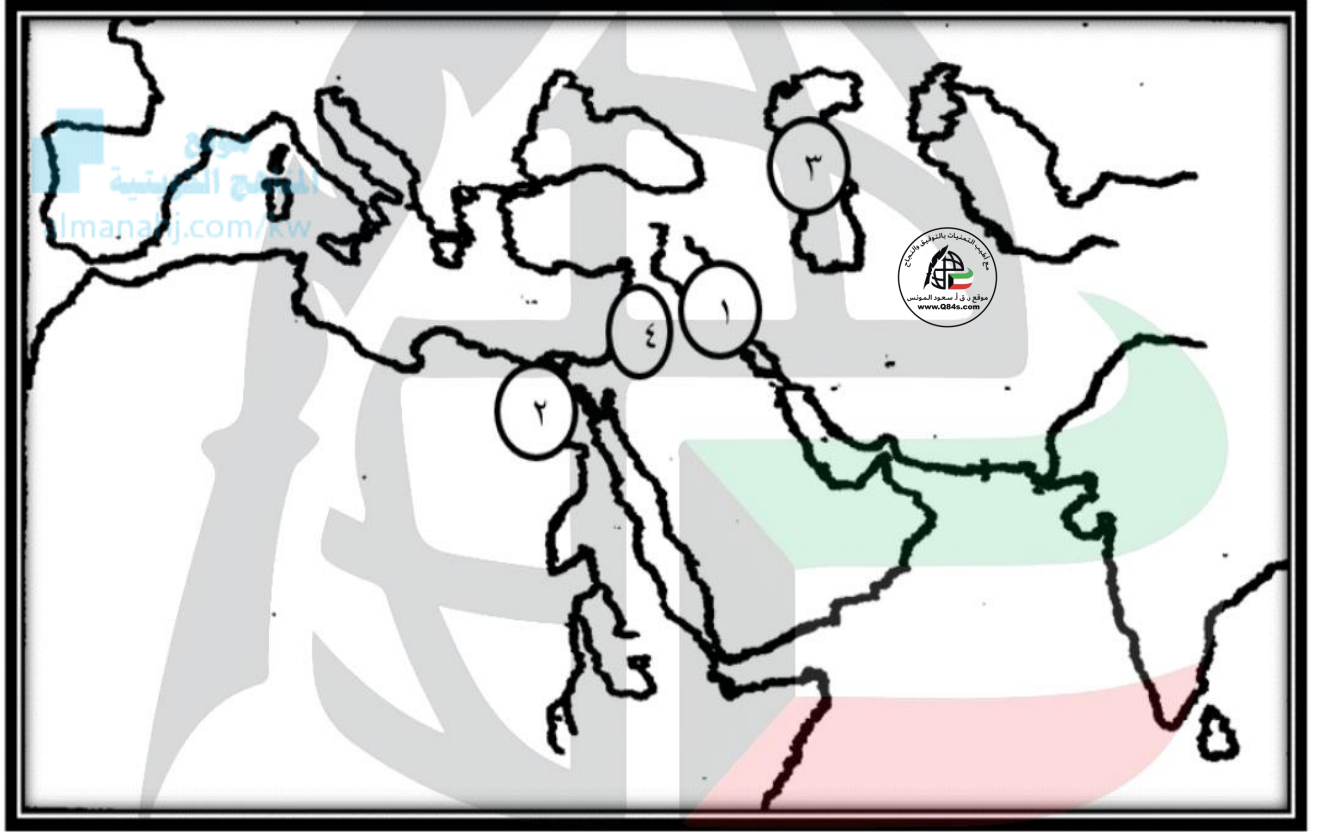
٥- البلدة التي قُتل فيها مروان بن محمد آخر خلفاء الدولة الأموية تسمى بوضير.

٦- حكمت الدولة العباسية العالم الإسلامي حوالي خمسة قرون وربع.

٧- امتد حكم الدولة العباسية للعالم الإسلامي خلال الفترة من عام ١٣٢هـ حتى عام ٦٥٦هـ.

٨- اللقب الذي أطلق على أول خلفاء الدولة العباسية هو السفاح.

س ٥ / لاحظ الخريطة جيداً ثم أجب عما يلي:



❖ عاصمة الخلافة العباسية على الخريطة يمثلها الرقم (١ بغداد)

❖ مدينة القسطنطينية على الخريطة يمثلها الرقم (٢)

❖ بحر الخزر على الخريطة يمثلها الرقم (٣)

❖ مدينة دمشق على الخريطة يمثلها الرقم (٤)

الدرس صفحة ١٠٢

س١/قارن بين: العصر العباسي الأول والعصر العباسي الثاني وفقاً للجدول التالي.

وجه المقارنة	العصر العباسي الأول	العصر العباسي الثاني
الفترة الزمنية	(١٣٢-٢٣٢هـ) (٧٥٠ - ٨٦١م)	(٢٣٢-٦٥٦هـ) (٨٦١ - ١٢٥٨م)
المميزات	<p>١- يعتبر العصر الذهبي للدولة العباسية من حيث المنعة والقوة والقدرة على صد أي اعتداء.</p> <p>٢- انتقل مقر الحكم إلى بغداد.</p> <p>٣- التصدي لهجات الدولة البيزنطية والثغور الإسلامية.</p> <p>٤- تركيز العباسيين جهودهم على الجانب الحضاري بشكل كبير.</p>	<p>١- يضم ٢٧ خليفة واستمر ٤ قرون.</p> <p>٢- لم يتم العباسيون بجهود تذكر في مجال الفتوحات.</p> <p>٣- أصابها ضعف واضمحلال حتى سقطت على يد المغول عام ٦٥٦هـ/١٢٥٨م.</p>

س٢/علل: عدم إسهام الدولة العباسية في الفتوحات الإسلامية.

- ١- التصدي لهجات الدولة البيزنطية والثغور الإسلامية.
- ٢- تركيز الدولة على الجانب الحضاري بشكل كبير.

س٣/ماذا يحدث لو لم: يصيب الدولة العباسية الضعف خلال العصر العباسي الثاني.

- ١- لقاموا في مجال الفتوحات والتوسع.
- ٢- لحافظوا على وحدة كيان الدولة.
- ٣- لما سقطت دولتهم على يد المغول.

س٤/ أكمل العبارات التالية بما يناسبها:

- ١- القوة التي اسقطت الدولة العباسية في عام ٦٥٦هـ/ ١٢٥٨م تسمى المغول.
- ٢- الفترة الزمنية التي شغلها العصر العباسي الأول مائة عام.
- ٣- المدينة التي اتخذها العباسيون مقراً جديداً لحكمهم تسمى بغداد.
- ٤- الخليفة العباسي الذي بنيت في عهده مدينة بغداد يسمى أبو جعفر المنصور.
- ٥- بلغ عدد الخلفاء العباسيين خلال العصر العباسي الثاني ٢٧ خليفة.
- ٦- سقطت الخلافة العباسية على يد المغول عام ٦٥٦هـ / ١٢٥٨م.

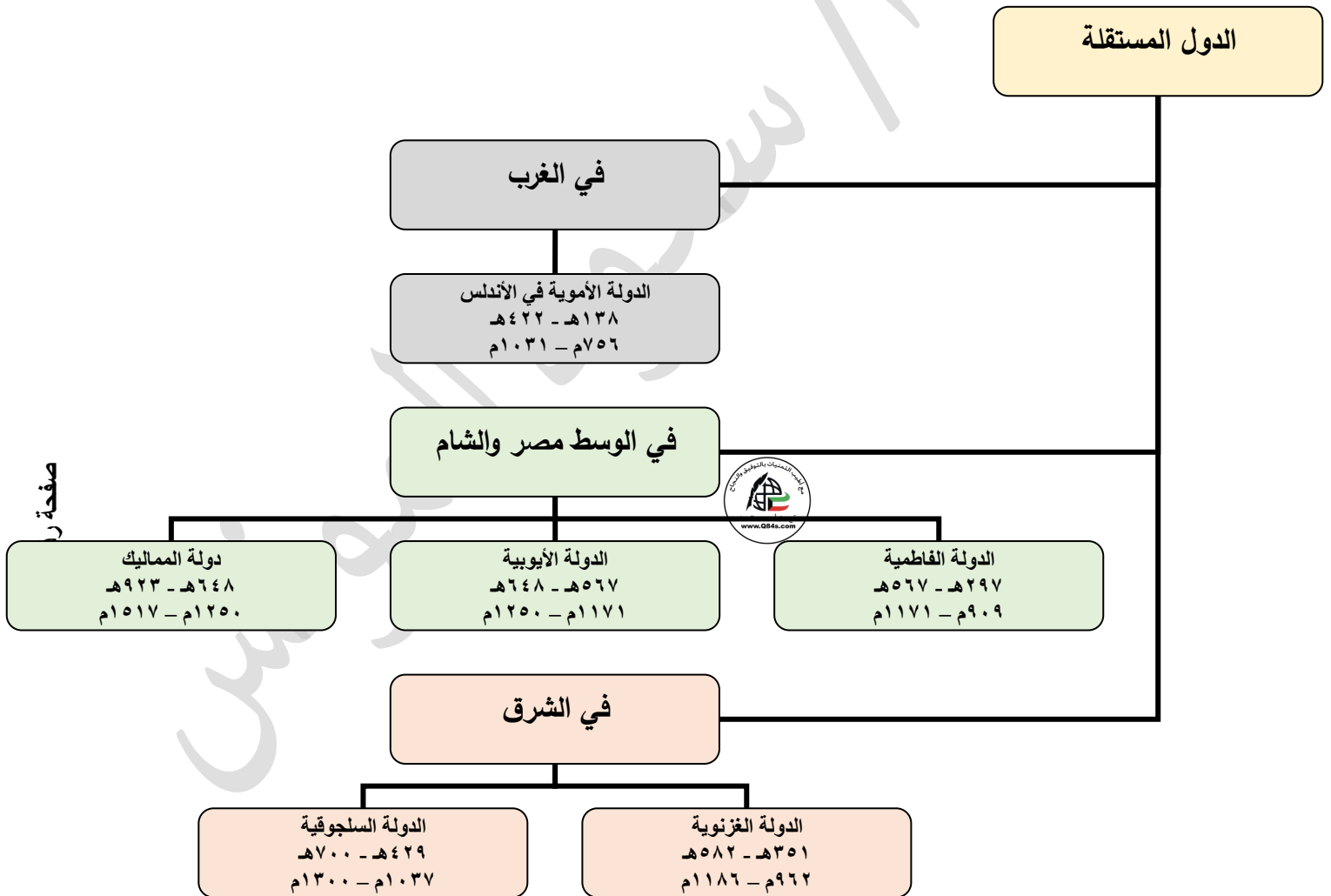
الدرس صفحة ١٠٥

س١/ فرق بين: الدول المستقلة استقلالاً تاماً والمستقلة استقلالاً جزئياً في الخلافة العباسية مع ذكر مثال.

الدول المستقلة استقلالاً تاماً	الدول المستقلة استقلالاً جزئياً
هي الدول التي نافست الدولة العباسية على تولي الخلافة.	الدول التابعة للخلافة العباسية اسما فقط، حيث يذكر الخليفة العباسي على ويصك اسمه على العملة المنابر وتستخدم عملة الدولة العباسية في تعاملاتها.
*مثال: الأموية بالأندلس والدولة الفاطمية	*مثال: الدولة الغزنوية والسلجوقية والأيوبية والمملوكية.

www.oman.gov.om
المنهج الكويتية

س٢/ ارسم خريطة ذهنية: للدول المستقلة في العصر العباسي حسب جهات امتداد الدولة العباسية.



الدولة الأموية في الأندلس ١٣٨ - ٤٢٢ هـ / ٧٥٦ - ١٠٣١ م - الدرس صفحة ١٠٧

س١/ عدد: مراحل قيام الدولة الأموية في الأندلس.

١- أرسل عبد الرحمن بن معاوية أحد أتباعه للاتصال بالأمويين المواليين له في الأندلس.

٢- اتجه إلى الأندلس بعد أن كون جيشاً كبيراً من المواليين له.

٣- عبر مضيق جبل طارق ودخل الأندلس وسيطر على البلاد الأندلسية الجنوبية بدون مقاومة.

٤- قاتل والي العباسي يوسف الفهري في معركة المسارة أو مصاره، وانتصر عليه.

٥- استولى على قرطبة وأعلن نفسه أميراً.

س٣/ عرف بلاد الأندلس: هي شبه الجزيرة الأيبيرية (أسبانيا والبرتغال حالياً).

س٤/ علل: تسمية بلاد الأندلس بهذا الاسم.

نسبة إلى قبائل الوندال.

س٥/ أكمل الناقص في الجدول التالي: حول معركة المصارة (المسارة).

المعركة	المصارة (المسارة)
عام	١٣٨ هـ / ٧٥٦ م
الأطراف	عبد الرحمن بن معاوية X يوسف الفهري
النتائج	١- انتصار عبد الرحمن بن معاوية على يوسف الفهري. ٢- استولى على قرطبة وأعلن نفسه أميراً. ٣- قامت الدولة الأموية في الأندلس التي انفصلت عن الخلافة العباسية انفصلاً تاماً.

س٦/ أكمل العبارات التالية بما يناسبها:

١- مؤسس الدولة الأموية في الأندلس عام ١٣٨ هـ الذي نجاه الله من قبضة العباسيين يسمى عبد الرحمن بن معاوية.

٢- لجأ عبد الرحمن بن معاوية بعد هروبه إلى المغرب عند أخواله من قبيلة تسمى نفاذ البربرية.

٣- المدينة التي استعد من خلالها عبد الرحمن بن معاوية لعبور الأندلس تسمى سبتة.

٣- العناصر التي كانت تحكم بلاد الأندلس قبل الفتح الإسلامي تسمى القوط الغربيين.

٤- المعركة التي انتصر فيها عبد الرحمن بن معاوية على يوسف الفهري تسمى المصارة أو المسارة.

٥- المدينة التي أعلن فيها عبد الرحمن بن معاوية نفسه أميراً فيها واتخذها عاصمة تسمى قرطبة.

٦- الألقاب التي أطلقت على عبد الرحمن بن معاوية بعد قيام الدولة الأموية في الأندلس هي الداخل و ابن الخلائف.

الدرس صفحة ١٠٨

س١/ **فند ما يلي:** " لم يواجه عبد الرحمن بن معاوية أية عقبات من أجل توطيد دولته في الأندلس".
ارسال الخليفة العباسي أبو جعفر المنصور جيش بقيادة العلاء بن المغيث لإعادة الأندلس فهزمه عبد الرحمن وقتله.

س٢/ **دلل على صحة العبارة التالية:** " لعبد الرحمن الداخل دور حضاري كبير أثناء فترة حكمه بالأندلس"

١- اتخذ من قرطبة عاصمة له.

٢- شيد في قرطبة العديد من المباني والقصور مثل مسجد قرطبة وقصر الرصافة.

٣- اهتم بالزراعة فشق الترغ وأنشأ الطرق واهتم بالعلم وأنشأ المدارس.



س٣/ **من قائل العبارة وما المناسبة:** " الحمد لله الذي جعل بيننا وبين هذا الشيطان بجرأ "

*القائل: الخليفة العباسي أبو جعفر المنصور.

*المناسبة: انتصار عبد الرحمن بن معاوية على أبو العلاء بن المغيث وقتله.

س٤/ **أكمل العبارات التالية بما يناسبها:**

١- الفترة الزمنية التي حكم فيها عبد الرحمن بن معاوية الدولة الأموية في الأندلس **٣٣ عاماً**.

٢- الخليفة العباسي الذي حاول إعادة بلاد الأندلس إلى الدولة العباسية يسمى **أبو جعفر المنصور**.

٣- القائد العباسي الذي أرسله أبو جعفر المنصور لإعادة الأندلس يسمى **العلاء بن المغيث**.

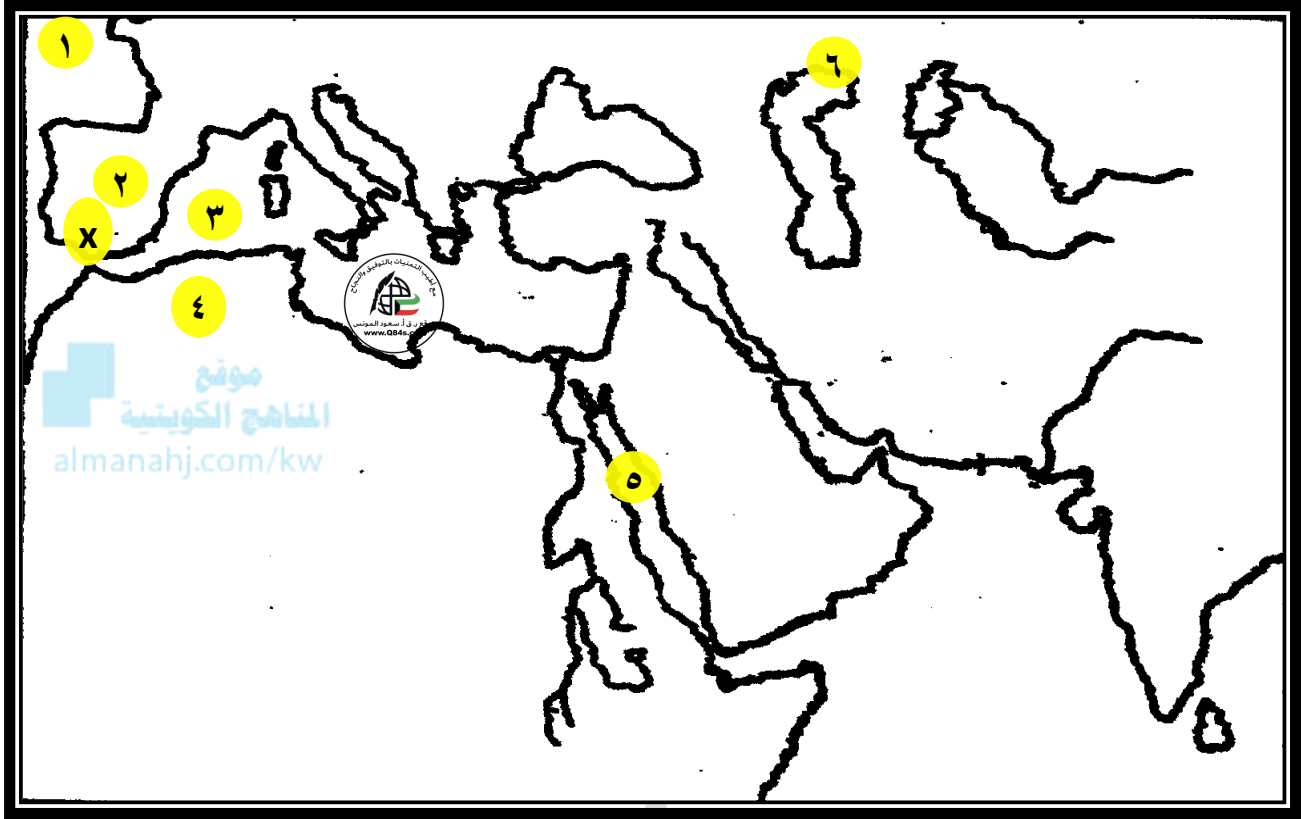
٤- الأمير الأموي الذي حمل لقب الخليفة في بلاد الأندلس يسمى **عبد الرحمن الثالث**.

٥- سقطت الخلافة الأموية في الأندلس عام **٤٢٢ هـ - ١٠٣١ م**.

٦- الحاجب الذي استولى على الحكم حتى سقطت الخلافة الأموية بالأندلس يسمى **المنصور بن أبي عامر**.

٧- تفككت الأندلس إلى دويلات مستقلة عُرفت باسم **ملوك الطوائف**.

س ٥/ لاحظ الخريطة جيداً ثم أجب عما يلي:



- ❖ بحر الظلمات على الخريطة يمثلها الرقم (١)
- ❖ مدينة قرطبة على الخريطة يمثلها الرقم (٢)
- ❖ بحر الروم على الخريطة يمثلها الرقم (٣)

❖ عين على الخريطة ما يلي:* المعركة التي فتحت من خلالها الأندلس عام ٩٢ هـ. يوضع الرمز Xشذونة - وداي لكة - طارق بن زياد) راجع الكتاب ص ٩٧

الدولة الغزنوية ٣٥١ - ٥٨٢ هـ / ٩٦٢ - ١١٨٦ م - الدرس صفحة ١١٠ إلى ١١١

س١/ عدد ما يلي:

أ- الألقاب التي حصل عليها محمود الغزنوي من الخليفة العباسي.

١- يمين الدولة ٢- وأمين الملة ٣- الغازي ٤- السلطان

ب- أعمال محمود الغزنوي.

١- تثبيت أركان دولته وتوسيع رقعتها.

٢- غزا الهند أكثر من اثني عشرة مرة.

٣- استطاع أن يبسط نفوذه إلى ما وراء كشمير والبنجاب وأن يحطم الأصنام.

٤- جعل إقليم البنجاب ولاية إسلامية قاعدتها مدينة لاهور.

س٢/ علل: غزا محمود الغزنوي الهند أكثر من اثني عشرة مرة.

١- مدفوع بعامل الجهاد الديني.

٢- الرغبة في نشر الإسلام بين الهنود والوثنيين.

س٣/ دلل على صحة العبارة التالية: اكتسب محمود الغزنوي مكانة في التاريخ.

١- فتوحاته وجهوده الحضارية فقد ظهر الكثير من العلماء والأدباء في عهده.

٢- ظهرت في الهند لغة الأوردو.

س٤/ أكمل الجدول المقابل:

حول معركة داندنقان.

المعركة	داندنقان
العام	٤٣٢ هـ / ١٠٤٠ م
الأطراف	الغزنويين: مسعود بن محمود الغزنوي X السلاجقة
النتائج	١- هزيمة الدولة الغزنوية. ٢- أحكم السلاجقة سيطرتهم على خراسان وما وراء النهر. ٣- اعتراف الخليفة العباسي بالسلاجقة وقيام دولتهم.

س٥/ أكمل العبارات التالية بما يناسبها:

١- مؤسس الدولة الغزنوية يسمى الأمير ألب تكين.٢- الدولة التي ولت الأمير ألب تكين على غزنه تسمى السمانية.٣- الشخصية التي آلت إليها الأمور في الدولة الغزنوية بعد وفاة ألب تكين تسمى ناصر الدين سيكتكين.٤- السلطان الذي بلغت الدولة الغزنوية ذروة ازدهارها في عهده يسمى محمود الغزنوي.٥- الخليفة العباسي الذي خطب له السلطان محمود الغزنوي يسمى القادر بالله.٦- الإقليم الذي جعله محمود الغزنوي ولاية إسلامية يسمى إقليم البنجاب.٧- المدينة التي جعلها السلطان محمود الغزنوي قاعدة إسلامية في إقليم البنجاب تسمى لاهور.٨- اللغة التي ظهرت في عهد محمود الغزنوي تسمى الأوردو.٩- المعركة التي هزمت فيها الدولة الغزنوية على يد السلاجقة تسمى داندنقان.١٠- السلطان الغزنوي الذي هزم في معركة داندنقان يسمى مسعود بن محمود الغزنوي.١١- الدولة التي سقطت الدولة الغزنوية تسمى الدولة الغورية والدولة السلجوقية.

الدولة الفاطمية - الدرس صفحة ١١٢ إلى ص ١١٣

س ١/علل: تسمية الفاطميين بهذا الاسم.

نسبة الي فاطمة بنت الرسول محمد ﷺ

س ٢/اذكر دور الشخصيات التالية:

أ- عبيد الله المهدي:

١- مؤسس الدولة الفاطمية وأول خلفائها.

٢- أنهى حكم بني الأغلب.

٣- بنى المهديّة واتخذها عاصمة له.

ب- أبو عبد الله الشيعي:

- ساهم بنشر الدعوة الفاطمية في بلاد المغرب.

س ٣/عرف الأغلبية: أسرة حكمت إفريقية (تونس حالياً) طوال القرن التاسع الميلادي أسسها إبراهيم بن الأغلب.

س ٤/أكمل العبارات التالية بما يناسبها:

١- المؤسس الحقيقي للدولة الفاطمية يسمى عبيد الله المهدي.

٢- الدولة التي نجح الفاطميون في القضاء عليها تسمى دولة الأغلبية.

٣- الداعية الذي اعتمد عليه عبيد الله المهدي في نشر الدعوة في بلاد المغرب يسمى أبو عبد الله الشيعي.

٤- مؤسس دولة الأغلبية يسمى إبراهيم بن الأغلب.

٥- الخليفة الذي ثبت مؤسس دولة الأغلبية في الحكم يسمى هارون الرشيد.

٦- الجزيرة التي فتحها الأغلبية في البحر المتوسط تسمى صقلية.

٧- العاصمة الأولى للفاطميين في تونس تسمى المهديّة.

الدرس صفحة ١١٣

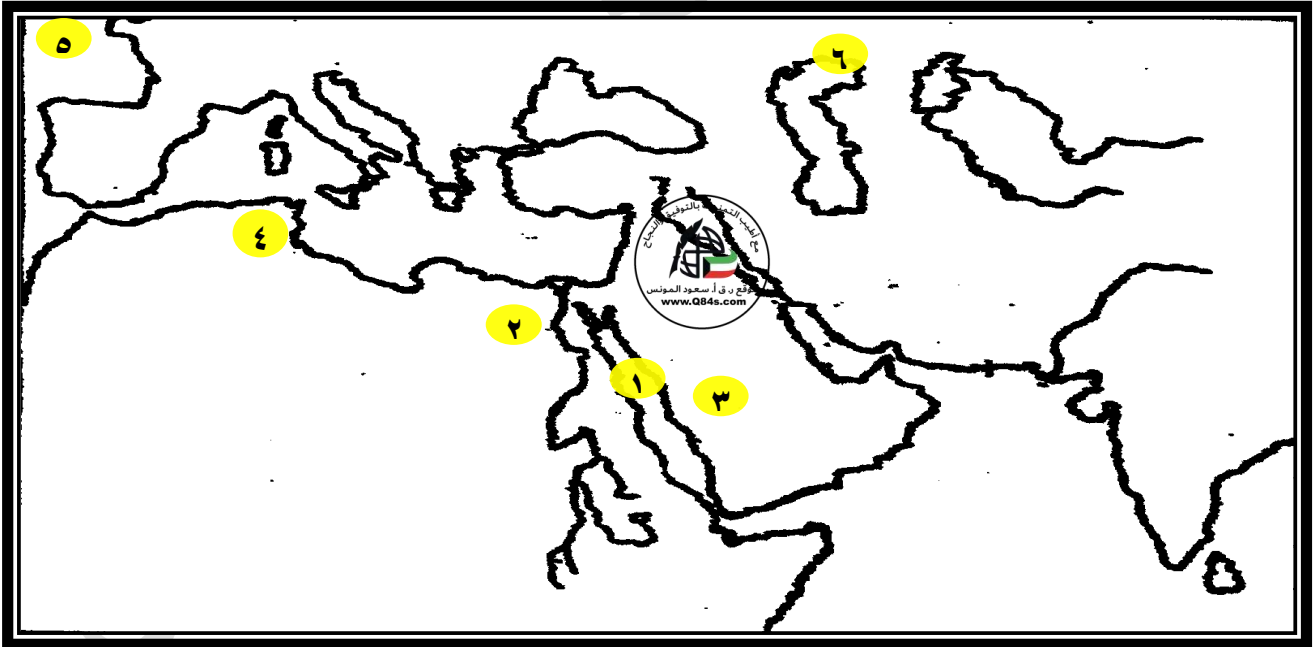
س١/اذكر دور وأعمال الشخصيات التالية:

- أ- المعز لدين الله:
- ١- دانت له قبائل البربر وقبائل المغرب.
 - ٢- فتح فاس وسجلماسة.
- ب- جوهر الصقلي:
- ١- احتل الفسطاط وأسس القاهرة.
 - ٢- استولى على طرابلس وبيروت.
 - ٣- هزم الامبراطور البيزنطي.
 - ٤- شجع العلماء وأنشأ الجامع الأزهر.

س٢/ أكمل العبارات التالية بما يناسبها:

- ١- تقلصت حدود الدولة الفاطمية بعد ضعفها إلى دولة واحدة تسمى مصر.
- ٢- آخر الخلفاء الفاطميين يسمى العاقد.
- ٣- القائد الفاطمي الذي احتل الفسطاط وأسس القاهرة في عهد الخليفة المعز لدين الله يسمى جوهر الصقلي.
- ٤- آخر خلفاء الدولة الفاطمية الذي خضعت الدولة في عهده لسيطرة القادة الأيوبيين يسمى العاقد.
- ٥- القائد الذي أسقط الدولة الفاطمية يسمى صلاح الدين الأيوبي.
- ٦- سقطت الدولة الفاطمية عام ٥٦٧ هـ - ١١٧١ م.

س٣/لاحظ الخريطة جيداً ثم أجب عما يلي:



- ❖ بحر القلزم على الخريطة يمثل الرقم (١).
- ❖ عاصمة الفاطميين التي أسسها جوهر الصقلي على الخريطة يمثلها الرقم (٢ القاهرة).
- ❖ الامتداد الذي سيطر عليه الفاطميين في شبه الجزيرة العربية يمثلها على الخريطة الرقم (٣ بلاد الحجاز مكة المكرمة والمدينة المنورة).

الدولة الأيوبية ٥٦٧ - ٦٤٨ هـ / ١١٧١ - ١٢٥٠ م - الدرس صفحة ١١٥ إلى ١١٧

س١/الذكر: أعمال صلاح الدين الأيوبي بعد تثبيت الأوضاع في مصر.

١- عام ٥٧٢هـ / ١١٧٧م اتجه" صلاح الدين" إلى بلاد الشام ومد نفوذه بعد وفاة " نور الدين محمود".

٢- امتد نفوذه إلى بلاد الحجاز وأمن الطريق للحجاج إلى مكة المكرمة والمدينة المنورة وضم اليمن.

س٢/علل لما يلي:

أ- عقد صلاح الدين الأيوبي هدنة مع الصليبيين مدتها أربع سنوات.

حتى يتمكن من تنظيم دولته وترتيب أوضاعه الداخلية.

ب- تسمية الصليبيين بهذا الاسم.

نسبة إلى الصليب الذي وضعوه على ملابسهم.

س٣/عرف الصليبيون: مسيحيو أوروبا شنوا عدة حملات ضد المسلمين.

س٤/عدد: دوافع الحملات الصليبية.

١- تخليص قبر المسيح من المسلمين.

٢- طمع النبلاء في تأسيس الإمارات والتوسع.

٣- حب المغامرة والبحث عن الفرص في مناطق جديدة.

س٥/ أكمل العبارات التالية بما يناسبها:

١- اللقب الذي أطلق على صلاح الدين الأيوبي بعد قيام الدولة الأيوبية هو **الناصر**.

٢- أول مواجهة كبيرة بين صلاح الدين الأيوبي مع الصليبيين عام ٥٨٣هـ تسمى **معركة حطين**.

٣- الدولة التي انتهت الدولة الأيوبية عام ٦٤٨هـ / ١٢٥٠م تسمى **دولة المماليك**.

٤- المدة الزمنية للهدنة التي عقدها صلاح الدين الأيوبي مع الصليبيين **٤ سنوات**.

٥- الأمير الصليبي الذي نقض العهد مع صلاح الدين الأيوبي وأراد غزو مكة المكرمة والمدينة المنورة يسمى **أورناط**.

٦- المدينة التي حكمها الأمير الصليبي أورناط تسمى **الكرك**.

٧- ملك بيت المقدس الذي حاول تدارك الموقف ضد أفعال أورناط ونقضه العهد مع الأيوبيين يسمى **بلدوين الرابع**.

٨- بابا أوروبا الذي خطب لقيام الحملات الصليبية يسمى **أربان الثاني**.

٩- خطب البابا أربان الثاني لقيام الحملات الصليبية عام ١٠٩٥م في مجمع يسمى **كلرمونت**.

١٠- عدد الحملات الصليبية **٨ حملات**.

١١- الأمير الصليبي الذي أقسم صلاح الدين الأيوبي على قتله يسمى **أورناط**.

الدرس صفحة ١١٨ إلى ١١٩

س٦/ارسم: خريطة ذهنية لآراء الصليبيون حول معركة حطين.

أ- الفريق الأول:ضرورة الزحف إلى
بحيرة طبرية.ب- الفريق الثاني:خطورة العمل لصعوبة
الطريق وقلّة الماء.

س٧/أكمل الجدول التالي: حول معركة حطين.

النتائج	الأطراف والقادة	العام	أسباب المعركة
١- سيطرت قوات صلاح الدين على المدن الساحلية ودخل بيت المقدس. ٢- فقد الصليبيون كثيراً من فرسانهم في المعركة. ٣- أصبحت فلسطين في قبضة صلاح الدين الأيوبي وتوجه لتحرير بيت المقدس. ٤- تجهيز الحملة الصليبية الثالثة.	الأيوبيون صلاح الدين × الصليبيين بلدوين الثالث	١١٨٧م	١- عمل صلاح الدين على إحياء الدولة الإسلامية. ٢- نقض أورناط للهدنة والاعتداء على المقدسات الإسلامية. 

س٨/ما النتائج المترتبة على: استرداد صلاح الدين الأيوبي لبيت المقدس.

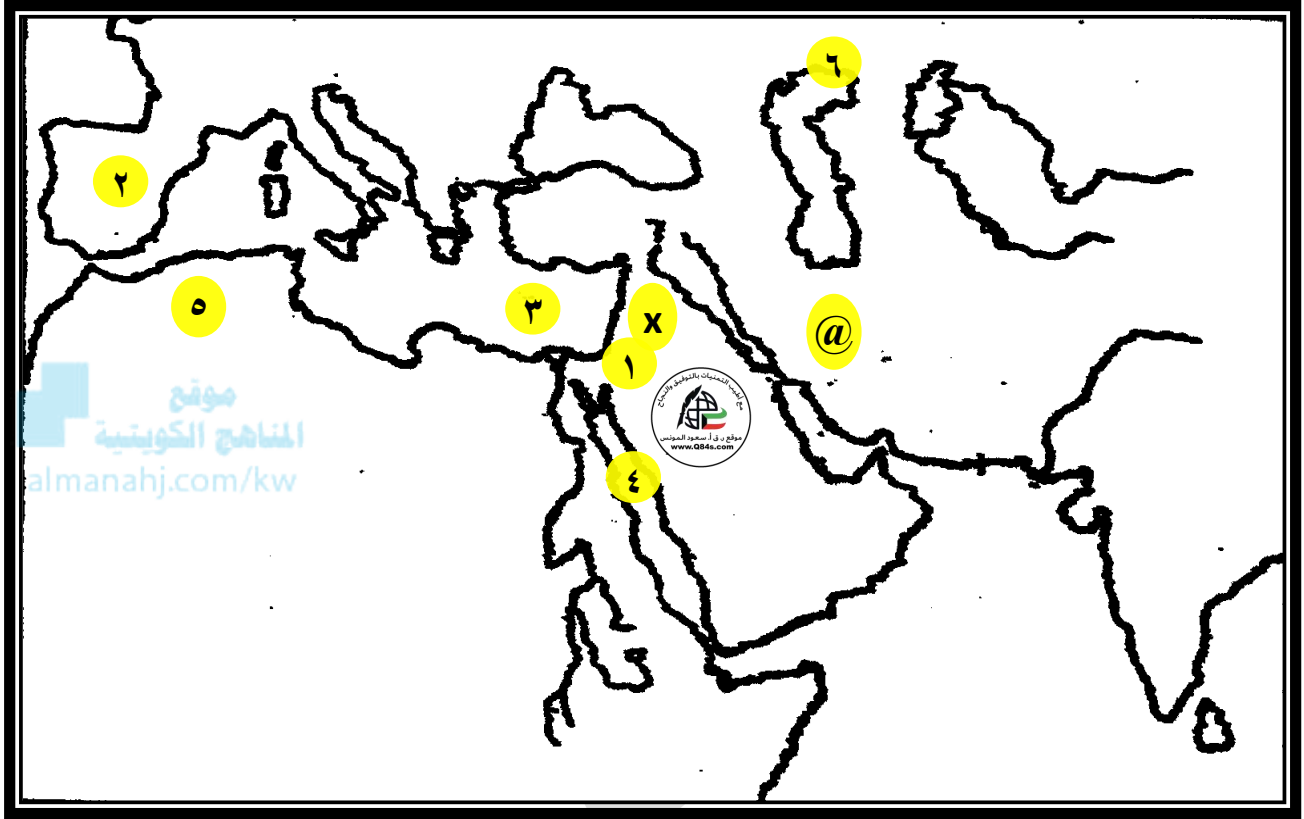
تجهيز الحملة الصليبية الثالثة وإرسالها إلى بلاد الشام.

س٩/ماذا يحدث لو لم: يجبر صلاح الدين الأيوبي الصليبيين على المسير إليه.

١- لتعب جيش المسلمين قبل المواجهة.

٢- لعانوا من حرارة الشمس ووعورة الطريق وقلّة الماء.

س/ لاحظ الخريطة جيداً ثم أجب عما يلي: ص ١١٧



❖ المعركة التي انتصر فيها المسلمون على الصليبيين بقيادة صلاح الدين الأيوبي على الخريطة يمثلها الرمز (X حطين).

❖ المدينة المقدسة التي تمكن صلاح الدين من تحريرها على الخريطة يمثلها الرقم (١ القدس).

❖ بحر الروم على الخريطة يمثلها الرقم (٢).

❖ بحر القلزم على الخريطة يمثلها الرقم (٤).

دولة المماليك ٦٤٨ - ٩٢٣ هـ / ١٢٥٠ - ١٥١٧ م - الدرس صفحة ١٢٠

س١/ عرف المماليك: خليط من الأتراك والروم والأوروبيين والشراكسة جلبهم الحكام الأيوبيون إلى مصر خلال القرن السادس حتى منتصف القرن السابع.

س٢/ علل: عزل المماليك عن العالم الخارجي.

حتى يضمن الأيوبيون ولأهم التام ليستعينوا بهم.

س٣/ ما النتائج المترتبة على: الاستقرار السياسي لدولة المماليك.

١- التصدي للغزو المغولي على بلاد الشام ومصر.

٢- مواجهة الإمارات الصليبية في الشام، لتخليصها من سيطرة الصليبيين.

س٤/ أكمل العبارات التالية بما يناسبها:

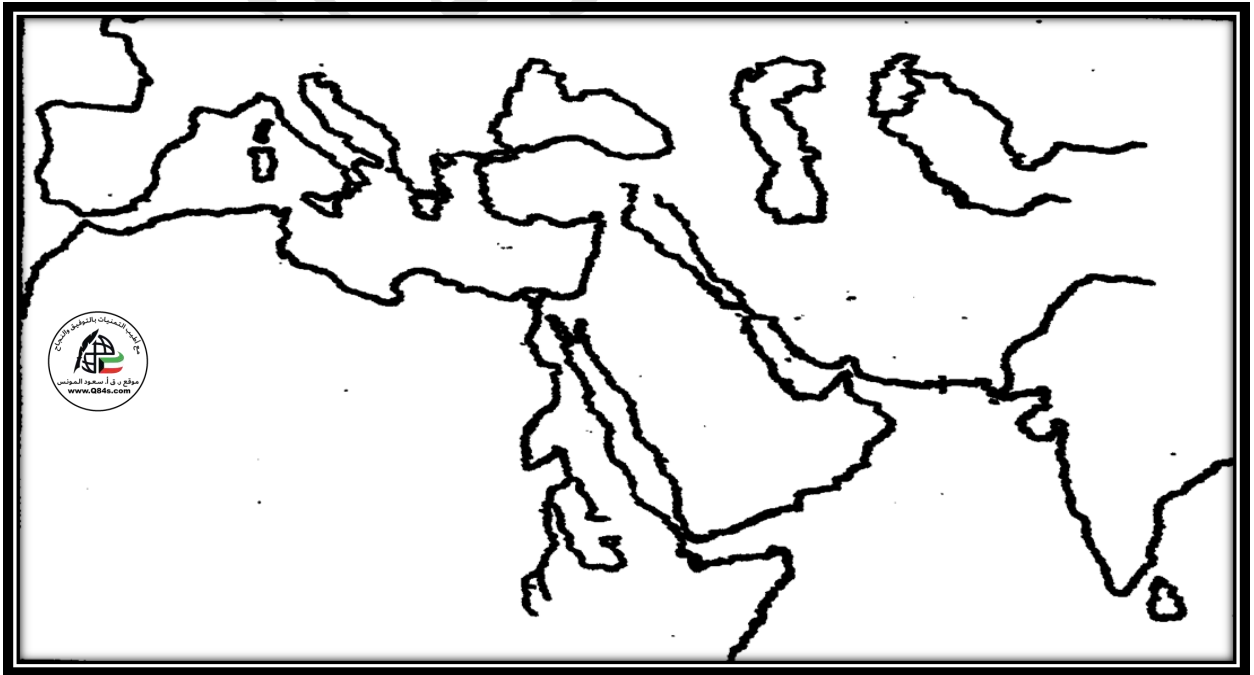
١- القائد المملوكي الذي نشأت الدولة المملوكية على يده عام ٦٤٨ هـ / ١٢٥٠ م يسمى عز الدين أيبك.

٣- آخر سلاطين الدولة الأيوبية الذي قُتل على يد المماليك يسمى توران شاه.

س٥/ عرف المغول: جماعات رعوية سكنوا هضبة منغوليا في وسط قارة آسيا وظهروا كقوة على يد زعيمهم جنكيز خان.

ص ١٢٠

س٦/ حدد على الخريطة الصماء: امتداد دولة المماليك بوضع الرمز //



الدرس صفحة ١٢١ إلى ١٢٢

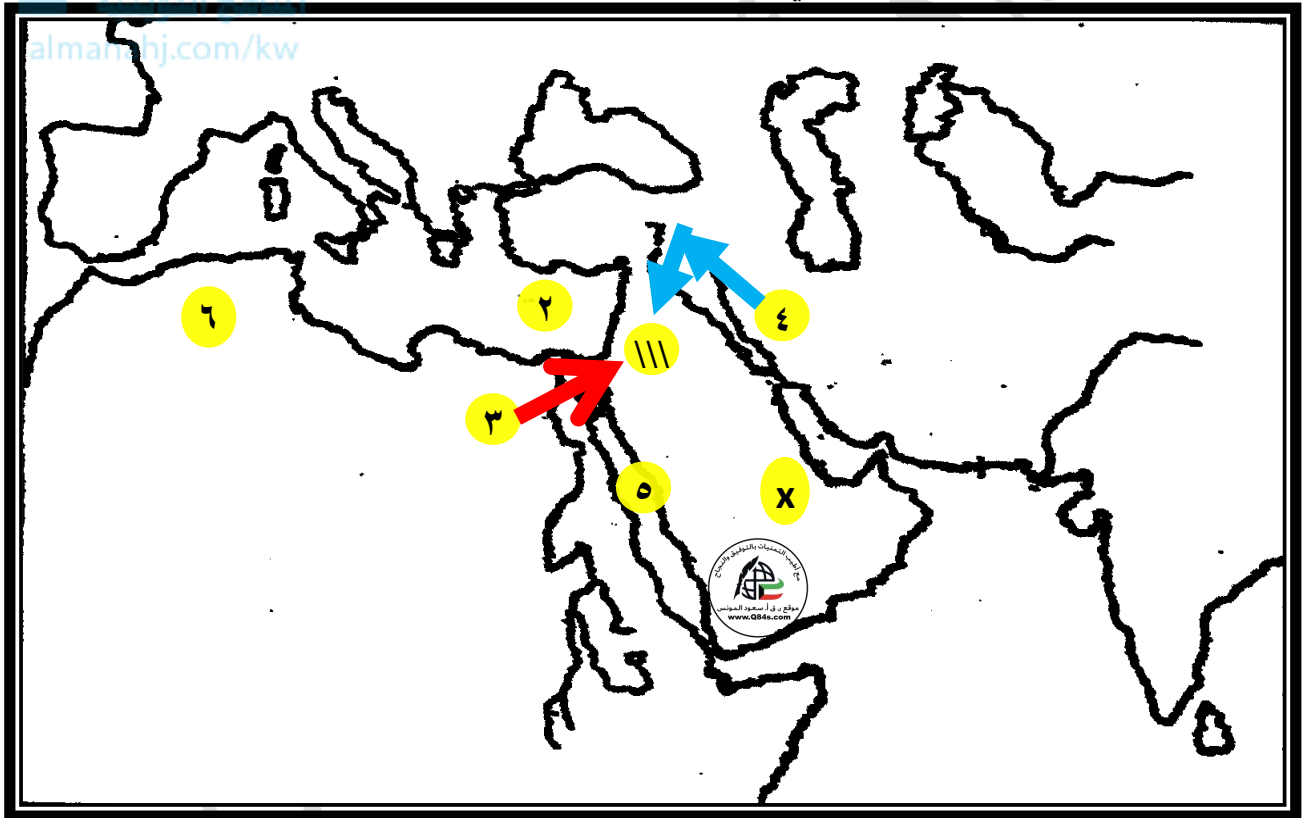
س١/علل: عملت جماعات المغول على التوسع والغزو.

بسبب تضاؤل المراعي والجفاف الذي تعرضت له مناطقهم.

س٢/ من قائل العبارة وما المناسبة: "من ملك الملوك شرقاً وغرباً إنا نحن جند الله في الأرض خلقنا من سخطه وسلطانا على من حل به غضبه فنحن لا نرحم من بكى ولا نرق لمن شكا فمالكم من سيوفنا خلاص".
*القائل: هولاكو.

*المناسبة: تهديد المماليك وقائدهم قطز لعدم مواجهة المغول والحرب.

س٣/ لاحظ الخريطة جيداً ثم أجب عما يلي: ص ١٢٢



❖ المعركة التي استطاع فيها المماليك إيقاف الاجتياح المغولي على الخريطة يمثلها الرمز (/// عين جالوت)

❖ بحر الروم على الخريطة يمثله الرقم (٢)

❖ موقع انطلاق جيش المماليك بقيادة قطز وبيبرس على الخريطة يمثله الرقم (٣)

❖ الشكل الذي يمثل خط سير المغول على الخريطة

❖ الشكل الذي يمثل خط سير المماليك على الخريطة

الدرس صفحة ١٢٣ إلى ١٢٤

س ١/ علل ما يلي:

أ- بعث قطز بطلائع قواته بقيادة بيبرس.

لمناوشة المغول واختبار قوتهم والحصول على المعلومات عن تنظيمهم وتسليحهم وقيادتهم.

ب- مصالحة قطز للصليبيين قبل معركة عين جالوت.

حتى لا يضطر إلى محاربة خصمين في وقت واحد.

س ٢/ من قائل العبارة وما المناسبة: "وإسلاماه وإسلاماه"

* القائل: السلطان قطز.

* المناسبة: أثناء معركة عين جالوت لرفع الهمم.

س ٣/ عدد: أهم أعمال الظاهر بيبرس.

١- تصدي للمغول والصليبيين.

٢- ضم بلاد النوبة ودنقلة.

٣- نقل الخلافة إلى الديار المصرية.

س ٤/ أكمل النقص في الجدول التالي: حول معركة عين جالوت.

العام	١٢٦٠ هـ / ١٢٦٠ م
الأطراف والقادة	المماليك: قطز × المغول: كتبغا
النتائج	١- انتصار المسلمين، وإعادة الثقة في نفوس المسلمين والقضاء على فكرة بأن المغول لا يهزمون. ٢- ارتفاع مكانة المماليك في العالم الإسلامي وتوحيد مصر وبلاد الشام والتفرغ لمواجهة المماليك. ٣- حماية العالم الإسلامي والحضارة الإنسانية وإيقاف الزحف المغولي. ٤- فرار المغول من دمشق وبقية بلاد الشام إلى ما وراء نهر الفرات.

س ٥/ أكمل العبارات التالية بما يناسبها:

١- القائد المغولي الذي وحد القبائل تحت زعامته يسمى جنكيز خان.٢- عاصمة المغول تسمى قراة قورم.٣- اجتاحت المغول الدولة الخوارزمية ودولة أخرى تسمى العباسية.٤- المدينة الصليبية التي عبر من خلالها قطز لمحاربة المغول تسمى عكا.٥- القائد الذي ارسله قطز لمناوشة طلائع جيش المغول يسمى بيبرس.٦- المدينة التي استقبل أهلها القائد قطز بالفرح والابتهاج تسمى دمشق.٧- المدينة التي أصبحت المركز الرئيسي للتبادل التجاري بين الشرق والغرب في عهد دولة المماليك تسمى القاهرة.

دولة السلاجقة ٤٢٩ - ٥٧٠٠ هـ / ١٠٣٧ - ١٣٠٠ م - الدرس صفحة ١٢٥ إلى ١٢٦

س١/علل: الدولة السلجوقية من أهم الدول الإسلامية التي ظهرت على مسرح التاريخ.

لأنها واجهت الدولة البيزنطية لحماية الأراضي في الدولة الإسلامية.

س٢/اكتب عن: أصل السلاجقة.

تعود أصول السلاجقة إلى القبائل التركية التي تعرف باسم الغز، يرجع نسبهم إلى سلجوق بن دقاق.

س٣/عدد: أعمال طغرل بيك.



almanahj.com/kw

١- أعلن قيام الدولة السلجوقية ونادي بنفسه سلطانا وتوسع على حساب الدولة الغزنوية.

٢- القضاء على الدولة البويهية.

٣- نشر الإسلام في أرمينيا وآسيا الصغرى.

س٤/عرف الدولة البويهية: دولة فارسية اعتمدت على الجند من الديلم جنوب بحر قزوين ودخلوا في خدمة الخلافة

العباسية.

س٥/ أكمل العبارات التالية بما يناسبها:

١- القبائل التركية التي تعود لها أصول السلاجقة تسمى الغز.

٢- يرجع نسب السلاجقة إلى قائدهم ويسمى سلجوق بن دقاق.

٣- امتدت الإمبراطورية السلجوقية من الصين حتى بحر يسمى البحر الاسود.

٤- القائد الذي أعلن قيام الدولة السلجوقية يسمى طغرل بك.

٥- توسعت الدولة السلجوقية على حساب دولة تسمى الغزنوية.

٦- الخليفة العباسي الذي أعلن أن الولاء لطغرل بك يسمى القائم.

٧- اللقب الذي أطلقه الخليفة القائم على طغرل بك هو ملك المشرق والمغرب.

٨- الملك الذي تولى السلطة السلجوقية بعد وفاة طغرل بك يسمى ألب أرسلان.

س٦/اذكر: أعمال ألب أرسلان.

١- عمل السلطان ألب أرسلان على توطيد أركان الدولة السلجوقية.

٢- سيطرت الجيوش السلجوقية على أرمينيا وحلب والحجاز.

الدرس صفحة ١٢٧

س١/ أكمل الجدول التالي: حول معركة ملاذ كرد.

العام	٤٦٤ هـ / ١٠٧١ م
الأطراف والقادة	السلاجقة: ألب أرسلان X الإمبراطورية البيزنطية: رومانوس ديوجينيس
النتائج	١- أباد معظم الجيش البيزنطي. ٢- أصبحت آسيا الصغرى تحت سيطرته. ٣- تأسست دولة سلاجقة الروم على يد سليمان قتلمش.

س٢/ اذكر أعمال ملكشاه.

- ١- عمل توسيع رقعة الدولة وتثبيت أركانها حتى شملت بلاد الشام وأجزاء من آسيا الصغرى.
- ٢- أصبحت السلطة الفعلية للسلاجقة في بغداد.

س٣/ فند العبارة التالية: لم تنتهي الدولة السلجوقية بعد وفاة ملكشاه.

أو علل: انتهت الدولة السلجوقية بعد وفاة ملكشاه.

- ١- لم تظهر في البيت السلجوقي شخصية تتولى السلطة.
- ٢- أصبحت دولة السلاجقة عدة ممالك وأتابكيات.
- ٣- اندلاع الحروب الداخلية.

س٤/ عرف الأتابكة: هم أشخاص من كبار المماليك أطلق عليهم الأتابكة ليكونوا مربين لأبناء السلاطين في القصر ومنحهم اقطاعيات كبيرة مقابل قيامهم برعاية شؤون هؤلاء الأبناء.

س٥/ أكتب عن دور الشخصية التالية: "نظام الملك"

هو أبو علي حسن بن اسحاق الطوسي المشهور بنظام الملك، تلقى تعليماً طيباً، حيث حفظ القرآن الكريم وتعلم اللغة العربية وتحلى بالعديد من صفات الذكاء والفطنة والحكمة والعقل. بدأ حياته بالعمل مع السلطان ألب أرسلان ثم وصل إلى مرتبة الوزارة في عهد السلطان ملكشاه حيث اهتم بالتعليم وأنشأ العديد من المدارس في بغداد والتي عرفت باسم المدارس النظامية.

س٦/ أكمل العبارات التالية بما يناسبها:

- ١- البحيرة التي حدث الصدام العسكري بالقرب منها في معركة ملاذ كرد تسمى بحيرة فان.
- ٢- مؤسس دولة سلاجقة الروم يسمى سليمان قتلمش.
- ٣- المدينة التي اتخذها السلاجقة عاصمة لهم عام ٤٨٤ هـ تسمى بغداد.
- ٤- أشهر الأتابكات في أوائل القرن السادس الهجري تسمى أتابكية الأمير عماد الدين زنكي.

الدولة العثمانية - الدرس صفحة ١٣١

س١/ عرف العثمانيون: ينسبون إلي عثمان بن أرطغرل بن سليمان شاه، وخرجوا من موطنهم الأصلي في وسط آسيا إلي آسيا الصغرى بسبب الهجوم المغولي.

س٢/ علل ما يلي:

أ- خروج العثمانيون من موطنهم الأصلي في أواسط آسيا إلى آسيا الصغرى (بلاد الأناضول). بسبب الهجوم المغولي.

ب- اتخذ أورخان من بورصة عاصمة لدولته.

١- موقعها الجغرافي الحصين.

٢- وقوعها على الطرق التجارية البري.

س٣/ اذكر: دور الشخصيات التالية في تأسيس الدولة العثمانية.

أ- السلطان العثماني عثمان بن أرطغرل.

١- أعلن استقلاله عن الدولة السلجوقية.

٢- أرسى قواعد الدولة ووسع رقعتها.

٣- حاصر مدينة بورصة في عام ٧١٧ هـ.

ب- أورخان بن عثمان.

١- تمكن من فتح مدينة بورصة وجعلها عاصمة لدولته.

٢- نظم أمور دولته الداخلية.

٣- تمكن من الاستيلاء على غاليبولي مضيق الدردنيل كأول موطن قدم للعثمانيين في أوروبا.

س٤/ أكمل العبارات التالية بما يناسبها:

١- السلطان السلجوقي الذي أعطى العثمانيين قطعة من الأرض في شمال غرب بلاد الأناضول يسمى علاء الدين

كيقباد.

٢- اللقب الذي أطلقه السلطان السلجوقي علاء الدين كيقباد على عثمان بن أرطغرل هو أمير (بك).

٣- أعلن عثمان بن أرطغرل عن قيام الدولة العثمانية عام ٦٩٩هـ - ١٢٩٩م

٤- السلطان السلجوقي الذي أعلن عن قيام الدولة العثمانية بعد وفاته يسمى علاء الدين كيقباد.

٥- المدينة التي حاصرها عثمان بن أرطغرل عام ٧١٧هـ - ١٣٢٧م تسمى بورصة.

٦- أول موطن قدم للعثمانيين في أوروبا يسمى غاليبولي - مضيق الدردنيل.

٧- المدينة التي فتحها أورخان بن عثمان واتخذها عاصمة لدولته تسمى بورصة.

تابع الدرس صفحة ١٣١ إلى ١٣٢

س١/ فرق بين: أعمال السلطان مراد الأول وبايزيد الأول.

بايزيد الأول	مراد الأول
١- ضم بلاد الأناضول للمرة الأولى تحت حكم العثمانيين. ٢- انتصر على ملك المجر في معركة نيكوبوليس. ٣- هزم على يد المغول في معركة أنقرة.	١- فتح مدينة أنقرة وأدرنة. ٢- اتخذ من أدرنة عاصمة لدولته. ٣- توسعت الدولة في عهده توسعا ملحوظا في أوروبا.

س٢/ قارن بين: معركة سهل قوصوه (كوسوفو) ونيكوبولس وأنقرة وفارنا وليبانتة وفقاً للجدول التالي.

النتائج	الأطراف	العام	وجه المقارنة
١- انتصار العثمانيين. ٢- استشهاد مراد الأول.	مراد الأول X لازار ملك الصرب	٧٩١هـ ١٣٨٩م	سهل قوصوه (كوسوفو)
١- انتصار العثمانيين وهزيمة الأوربيين. ٢- ضم بلاد الأناضول.	بايزيد الأول X سجسموند ملك المجر	٧٩٨هـ ١٣٩٦م	نيكو بولس
١- هزيمة السلطان بايزيد الأول. ٢- أسر تيمور لنك لبايزيد الأول ثم وفاته.	بايزيد الأول X تيمور لنك قائد المغول	٨٠٥هـ ١٤٠٢م	أنقرة
*انتصار السلطان مراد الثاني.	مراد الثاني X لادسلاس ملك المجر	٨٤٨هـ ١٤٤٤م	فارنا

س٣/ أكمل العبارات التالية بما يناسبها:

- ١- المدينة التي اتخذها مراد الأول عاصمة له تسمى أدرنة.
- ٢- السلطان العثماني الذي طعنه جندي صربي وهو يتفقد القتلى في معركة سهل قوصوه (كوسوفو) يسمى مراد الأول.
- ٣- السلطان العثماني الذي أسره القائد المغولي تيمور لنك حتى وفاته يسمى بايزيد الأول.
- ٤- انتهت الحروب الأهلية بين أبناء بايزيد الأول بتولي أحد أبناءه ويسمى محمد جلبي.
- ٥- القائد المغولي الذي أسر بايزيد الأول حتى وفاته يسمى تيمور لنك.

القسطنطينية - الدرس صفحة ١٣٣ إلى ١٣٥

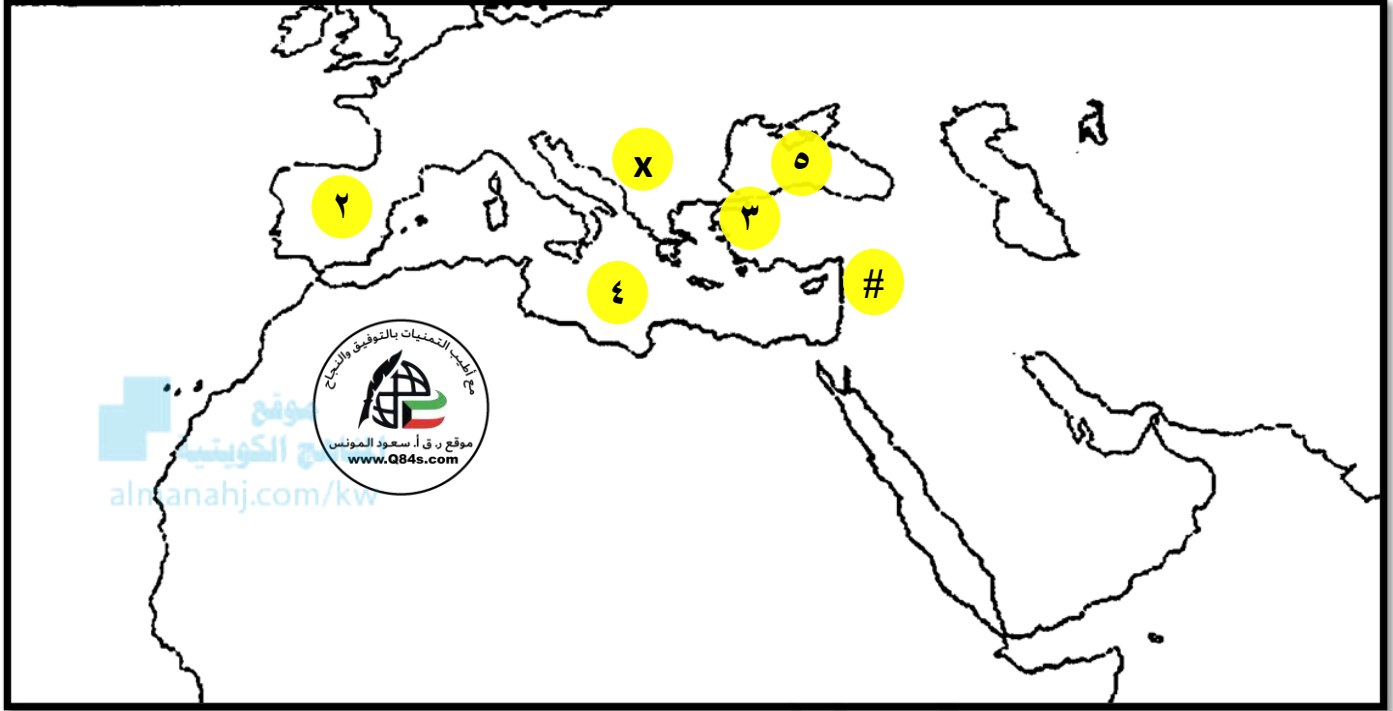
س١/ عدد: استعدادات السلطان محمد الثاني (الفتاح) لفتح القسطنطينية.

- ١- ترك محمد إسحاق باشا أميراً على الأناضول لمراقبة وحفظ المنطقة.
- ٢- تجديد معاهدات السلام التي وقعها والده مراد الثاني مع ملوك أوروبا.
- ٣- شرع في بناء قلعة في أضيق نقطة على مضيق البسفور تعرف حالياً باسم "روميلي حصار".
- ٤- توجه إلى أسوار القسطنطينية ومكث هناك لمدة ثلاثة أيام ليتعرف على تحصينات المدينة.
- ٥- أمر الحاكم العسكري لأوروبا بالهجوم على المدن والقرى البيزنطية.
- ٦- رحب بالمهندس أوربان الذي كان متخصصاً في صناعة المدافع.
- ٧- شرع السلطان في إعداد أسطول وذلك بإصلاح السفن القديمة وبناء عدد من السفن الكبيرة.
- ٨- كلف الوزير زغنوس باشا ببناء جسر خشبي لتسهيل الاتصال ونقل الجنود.

س٢/ علل لما يلي:

- أ- ترك محمد الثاني محمد إسحاق باشا أميراً على الأناضول.
لمراقبة وحفظ المنطقة من أي تمرد أو عصيان.
- ب- قيام السلطان محمد الثاني بتجديد معاهدات السلام التي وقعها والده مع ملوك أوروبا.
لمنع هذه البلاد من مساعدة القسطنطينية.
- ج- بناء السلطان العثماني محمد الثاني "قلعة روميلي حصار" عام ١٤٥٢ م.
١- السيطرة على المعبر المائي.
٢- لضمان مرور القوات العثمانية.
٣- لقطع الاتصالات البيزنطية.
- د- توجه محمد الفاتح إلى أسوار القسطنطينية ومكث هناك لمدة ثلاثة أيام.
ليتعرف على تحصينات المدينة.
- هـ- كلف السلطان محمد الثاني الوزير زغنوس باشا ببناء جسر خشبي على القرن الذهبي.
لتسهيل الاتصال ونقل الجنود بسهولة لأخرى.
- س٣/ **فند العبارة التالية:** "توقف محمد الفاتح عن الفتوحات بعد فتح القسطنطينية" (أعماله).
١- فتح مدينة بوخارست عاصمة الأفلاق رومانيا.
٢- ضم إقليم البوسنة وجعلها ولاية عثمانية.
٣- أسلم العديد من أهلها.

س ٤ / لاحظ الخريطة جيداً ثم أجب عما يلي: ص ١٣٥



- ❖ المدينة التي حوصرت ٥٤ يوماً وفتحها السلطان محمد الفاتح ١٤٥٣م على الخريطة يمثلها الرقم (٣ القسطنطينية)
 - ❖ البحر الأبيض المتوسط على الخريطة يمثلها الرقم (٤)
 - ❖ البحر الأسود على الخريطة يمثلها الرقم (٥)
 - ❖ معركة بين العثمانيين والمجر انتهت بضم بلاد الأناضول على الخريطة يمثلها الرمز (X نيكوبولس) ص ١٣٢
- س ٥ / أكمل العبارات التالية بما يناسبها:

- ١- أول سلطان عثماني قام بمحاصرة مدينة القسطنطينية عام ٧٩٩هـ يسمى بايزيد الأول.
- ٢- تولى السلطان محمد الثاني (الفتح) الحكم عام ٨٥٥هـ / ١٤٥١م.
- ٣- المهندس الذي صنع المدافع التي استخدمت في تحطيم أسوار القسطنطينية يسمى أوربان.
- ٤- الوزير الذي كلفه محمد الثاني ببناء جسر خشبي لنقل الجنود يسمى زغنوش باشا.
- ٥- القلعة التي بناها محمد الثاني على مضيق البسفور تسمى روميلي حصار.
- ٦- أمير الأسطول البحري لفتح مدينة القسطنطينية يسمى بالطه أوغلو.
- ٧- المدة الزمنية لحصار مدينة القسطنطينية من جانب العثمانيين ٥٤ يوم.
- ٨- فتحت مدينة القسطنطينية عام ٨٥٧هـ / ١٤٥٣م.
- ٩- اللقب الذي أطلق على السلطان محمد الثاني بعد فتحه مدينة القسطنطينية هو الفتح.
- ١٠- العاصمة التي اتخذها السلطان محمد الفاتح تسمى القسطنطينية.

الدرس صفحة ١٣٥

س١/ دلل على صدق العبارة التالية: كان السلطان سليم بن بايزيد الثاني أول سلطان عثماني يفكر في ضم المشرق الإسلامي.

١- انتصر على الصفويين في معركة جالديران عام ٩٢٠هـ-١٥١٤م.

٢- انتصر على المماليك في معركة مرج دابق عام ٩٢٢هـ-١٥١٦م.

٣- ضم مصر بعد انتصاره على المماليك في معركة الريدانية عام ٩٢٣هـ-١٥١٧م.

٤- دخول الحجاز واليمن مسلماً للدولة العثمانية في نفس العام.



www.almanahj.com/kw

س٢/ قارن بين: معارك بايزيد الثاني في ضم المشرق الإسلامي للدولة العثمانية وفقاً للجدول التالي.

المعركة	العام	الأطراف	النتائج
جالديران	٩٢٠هـ-١٥١٤م.	الدولة العثمانية X الدولة الصفوية	-انتصار السلطان سليم بن بايزيد الثاني على الصفويين.
مرج دابق	٩٢٢هـ-١٥١٦م.	الدولة العثمانية X دولة المماليك	١- انتصار السلطان سليم بن بايزيد الثاني في بلاد الشام. ٢- سيطر على مدن بلاد الشام.
الريدانية	٩٢٣هـ-١٥١٧م.	الدولة العثمانية X دولة المماليك	١- خضعت له مصر. ٢- أنهت دولة المماليك.

س٣/ أكمل العبارات التالية بما يناسبها:

١- المعركة التي ترتب عليها ضم بلاد الشام إلى الدولة العثمانية عام ١٥١٦م تسمى مرج دابق.

٢- المعركة التي أنهت دولة المماليك عام ١٥١٧م تسمى الريدانية.

الدرس صفحة ١٣٦

س١/ علل لما يلي:

- أ- تسمية السلطان سليمان الأول بالقانوني.
نتيجة للقوانين التي وضعها في كافة فروع الدولة.
ب- رفع السلطان سليمان القانوني الحصار عن مدينة فيينا.
١- لتنفيذ ذخيرة المدافع.
٢- قرب حلول الشتاء.

س٢/ عدد: أعمال الشخصيات التالية.

- أ- السلطان سليمان القانوني:
١- فتح مدينة بلغراد عام ٩٢٨ هـ / ١٥٢٢ م.
٢- فتح جزيرة رودوس ومدينة بودابست عاصمة المجر.
٣- خرج لمحاصرة مدينة فيينا عاصمة النمسا إلا أنه رفع الحصار عنها.
ب- إبراهيم باشا:

- ١- دخل مدينة تبريز.
٢- دخل بغداد دون مقاومة تذكر.
٣- خضعت له البصرة.

س٣/ دلل على صحة العبارة التالية: "بلغت الدولة العثمانية أقصى اتساع لها في عهد السلطان سليمان القانوني".
حيث امتدت حدود الدولة العثمانية من مدينة النمسا شمالاً وحتى اليمن جنوباً، ومن بلاد فارس شرقاً حتى المغرب غرباً.

س٤/ أكمل العبارات التالية بما يناسبها:

- ١- الحاكم العثماني العاشر للدولة العثمانية يسمى سليمان القانوني.
٢- اللقب الذي أطلق على السلطان سليمان الأول هو القانوني.
٣- المدينة التي حاصرها السلطان سليمان القانوني ثم رفع الحصار عنها تسمى فيينا.
٤- عرفت الدولة العثمانية كأكبر امبراطورية عرفها العالم خلال القرن السادس عشر الميلادي.

تابع الدرس صفحة ١٣٦ إلى ١٣٧

س١/ عدد: أعمال السلطان سليم الثاني بن سليمان.

١- فتح جزيرة قبرص.

٢- خاض معركة ليبانته (أوليبانتو) البحرية.

س٢/ أكمل الجدول التالي: حول معركة ليبانته (أوليبانتو) البحرية.

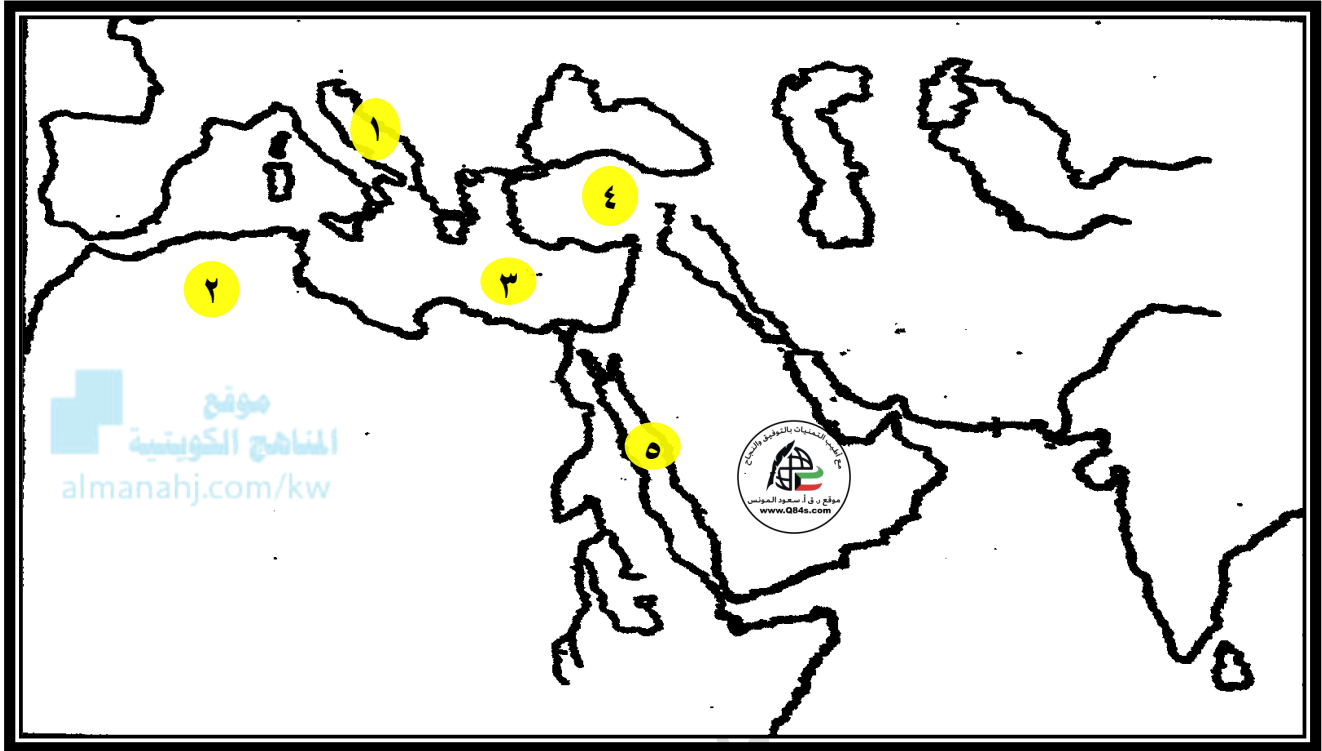
النتائج	الأطراف	العام	المعركة
 almanahj.com/kw خسارة البحرية العثمانية أكثر من نصف الأسطول.	سليم الثاني بن سليمان X الدول الأوروبية المتحالفة البندقية واسبانيا وبابا روما	٩٧٩هـ ١٥٧١م	 ليبانته (أوليبانتو)

س٣/ **فند العبارة التالية:** "جاء بعد السلطان سليم الثاني بن سليمان مجموعة من الحكام الأقوياء الذين نهضوا بالدولة".
 بالعكس فقد جاء بعد السلطان سليم الثاني بن سليمان مجموعة من الحكام الضعاف وبدأت الدولة العثمانية تضعف مع مرور الوقت كما ظهرت دولاً جديدة تناصب العثمانيين العداء مثل روسيا وإنجلترا وفرنسا وعجزت الدولة العثمانية واخذت تفقد أراضيها واستمر انهيار الدولة أمام أطماع الدولة الغربية التي أخذت تتنافس في السيطرة على املاكها.

س٤/ **عرف عصر التنظيمات:** مجموعة من القوانين والأنظمة الجديدة التي أدخلها العديد من السلاطين خلال القرون ١٧ حتى ١٩ الميلادي لإنقاذ الدولة العثمانية.

س٥/ **أكمل العبارات التالية بما يناسبها:**١- المعركة التي هزمت فيها البحرية العثمانية عام ٩٧٩هـ - ١٥٧١م تسمى **ليبانته (أوليبانتو)**.٢- الفترة الزمنية لعصر التنظيمات في الدولة العثمانية من **القرون السابع عشر حتى القرن التاسع عشر**.

س٦/ انظر الخريطة جيداً ثم أجب عما يلي:



❖ ظل المناطق التي كانت تحت الحكم العثماني خلال القرن ١٦هـ - ١٦م، مستعيناً بالخريطة ص ١٣٦.

❖ مدينة القسطنطينية على الخريطة يمثلها الرقم (٤).

الدرس صفحة ١٣٧

س١/علل: فترة حكم السلطان العثماني عبد الحميد الثاني من أخصب فترات التاريخ العثماني-

س٢/عدد: أعمال السلطان عبد الحميد الثاني.

١-الاهتمام بنقل العلوم الحديثة من أوروبا.

٢-شهدت فترة حكمه تطوراً ثقافياً متميزاً.

٣-أنشأ العديد من المدارس في مختلف الولايات العثمانية.

٤-مد خطوط البرق والبريد.



س٣/دلل على صحة العبارة التالية: ضعف الدولة العثمانية في أواخر القرن التاسع عشر الميلادي.

١-تكالب الدول الأوروبية على تفتيت أملاك الدولة العثمانية في أوروبا.

٢-ارغام الدول الأوروبية الدولة العثمانية التنازل عن أجزاء كبيرة من أراضيها.

س٤/فسر العبارات التالية:

أ- تقارب السلطان العثماني عبد الحميد الثاني مع ألمانيا.

١-لاتساع كل من بريطانيا وفرنسا في أراضي الدولة.

٢- ليهدها مصالح تلك الدولتين.

ب- نادى السلطان العثماني عبد الحميد الثاني بسياسة الجامعة أو الرابطة الإسلامية.

لتوحيد كل مسلمي العالم لاسيما في الصين والهند وأواسط آسيا تحت لواء شخص واحد.

س٥/ فرق بين ما يلي:

سياسة التتريك	سياسة العثمنة
فرض اللغة التركية على كل الأقليات في الدولة العثمانية وسيطرة العناصر التركية على المناصب العليا في الدولة.	اعتبار كل من يعيش داخل أراضي الدولة فهو عثماني بغض النظر عن دينه أول جنسه أو لونه وكان الجميع سواسية أمام القانون.

س٦/ برهن على صحة العبارة التالية: للدولة العثمانية دور واضح في حماية العالم الإسلامي.

١- حرصت الدولة العثمانية على توسيع الأراضي الإسلامية إلى مناطق وجبهات جديدة.

٢- عملت على حماية الأراضي الإسلامية من الاخطار الخارجية ولاسيما أطماع الدولة الأوروبية.

س٧/ أكمل العبارات التالية بما يناسبها:

١- الكلمة التي استخدمها الاتراك المثقفين بديلاً لكلمة عثمانى تسمى تركي.

٢- المدينة اليونانية التي نفي إليها السلطان عبد الحميد الثاني عام ١٩٠٨م تسمى سلانيك.

٣- السلطان العثماني الذي عين عام ١٩٠٩م وكان ألعوبة في يد لجنة الاتحاد والترقي يسمى محمد رشاد (الخامس).

٤- إلغيت الدولة العثمانية والخلافة الإسلامية رسمياً عام ١٩٢٣م.

٥- الزعيم التركي الذي أعلن قيام جمهورية تركيا الحديثة يسمى مصطفى كمال أتاتورك.

٦- المدة الزمنية لاستمرار الدولة العثمانية سنة قرون.

الحضارة العربية الإسلامية - الدرس صفحة ١٤١ إلى ١٤٢

س١/ **عرف الحضارة:** جميع مظاهر النشاط البشري في مختلف المجالات السياسية والاقتصادية والثقافية والاجتماعية والفنية.

س٢/ **علل:** تسمية الحضارة العربية الإسلامية بهذا الاسم.

١- تمثل اللغة العربية وسيلة التعبير عنها.

٢- يمثل الإسلام روحها وجوهرها.

س٣/ **فند العبارة التالية:** " لم تستفيد وتتأثر الحضارة العربية الإسلامية بالحضارات الأخرى".

استطاعت الحضارة العربية الإسلامية أن تفيد وتستفيد وتتأثر وتتأثر بكافة الحضارات التي تفاعلت معها، وجاء ذلك كنتيجة حتمية لتفاعل مختلف الأجناس في بناء صرح هذه الحضارات.

س٤/ **عدد:** مجموعة القيم التي تميز الحضارة العربية الإسلامية عن غيرها من الحضارات الأخرى.

١- الإيمان ٦- التسامح

٢- التقدم ٧- الحيوية

٣- المرونة ٨- الانسانية

٤- المحبة ٩- الأمانة

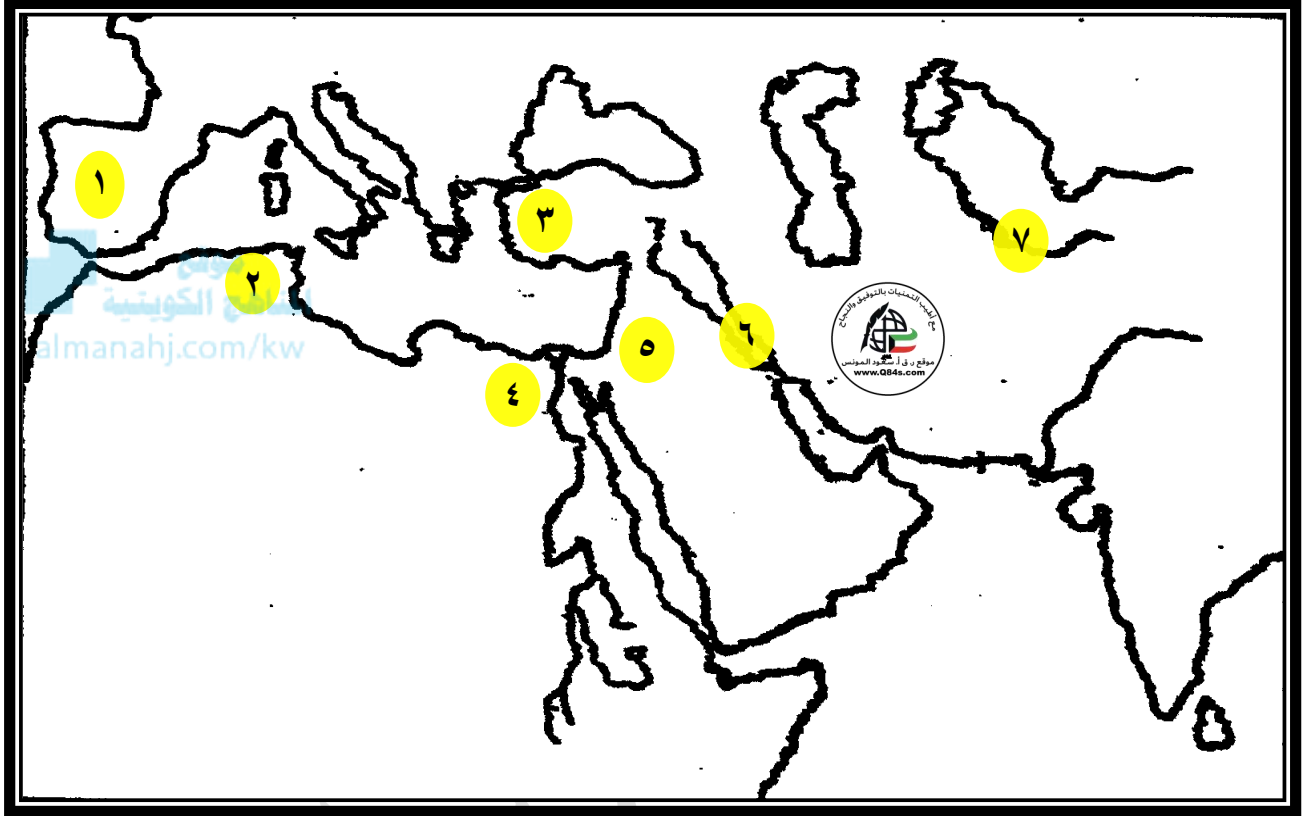
٥- السلام

س٥/ **كون فقرة تاريخية مترابطة مستخدماً الكلمات التالية:**

" مراكز الإشعاع - الحضارة العربية الإسلامية - مساحات كبيرة - الظلمات"

امتدت الحضارة العربية الإسلامية لتشمل مساحات كبيرة من العالم شرقاً وغرباً وشمالاً وجنوباً مما أدى إلى انتشار مراكز الإشعاع الحضاري التي كانت بمثابة النجوم التي تشع الضوء لتتير الظلمات في الكثير من بقاع العالم.

س٦/ لاحظ الخريطة جيداً ثم أجب عما يلي:



*وزع على الخريطة مراكز إشعاع الحضارة العربية الإسلامية التالية:

- ❖ مدينة بخاري على الخريطة يمثلها الرقم (٧)
- ❖ مدينة بغداد على الخريطة يمثلها الرقم (٦)
- ❖ مدينة دمشق على الخريطة يمثلها الرقم (٥)
- ❖ مدينة القاهرة على الخريطة يمثلها الرقم (٤)
- ❖ مدينة القسطنطينية على الخريطة يمثلها الرقم (٣)
- ❖ مدينة القيروان على الخريطة يمثلها الرقم (٢)
- ❖ مدينة قرطبة على الخريطة يمثلها الرقم (١)

أولاً: الجانب السياسي - الدرس صفحة ١٤٣ إلى ١٤٥

س١/ برهن على صحة العبارة التالية: " تطورت السلطة القضائية منذ قيام الدولة الإسلامية في عهد الرسول ﷺ وحتى نمو الدولة واتساعها"

١- كان الرسول ﷺ يختار للقضاء رجالاً من صحابته من أهل الدين والعلم والعدل.

٢- قام الخليفة عمر بن الخطاب ﷺ بفصل سلطة الوالي عن القاضي.

٣- اهتم الأمويون بتدوين الأحكام القضائية.

٤- ظهرت وظيفة قاضي القضاة في عهد الدولة العباسية.

س٢/ علل: اهتم الأمويون بتدوين الأحكام القضائية.

وذلك للرجوع إليها عند الحاجة.

س٣/ اكتب المصطلح الدال على العبارات التالية:

١ - (السلطة الحاكمة) التي كانت تحكم الدولة وتدير شئونها الداخلية والخارجية وتمثلت في الخلفاء والولاة والوزراء والدواوين.

٢ - (المحتسب) مهمته مراقبة الأسواق وفحص الموازين والمكاييل ومتابعة الآداب العامة والمرور في الطرقات وحث الناس على الرفق بالحيوان.

٣ - (العسس) هم رجال الشرطة الذين يعملون ليلاً لحفظ الأمن.

٤ - (صاحب الشرطة) الذي اختص بالنظر في الجرائم ومحاربة كل من يخرج على القانون.

س٤/ نفذ كما هو مطلوب منك بين الأقواس:

أ- اهتمت الدولة الإسلامية بالقوة العسكرية من خلال بناء الجيش والأسطول وفرق الشرطة. (دلل)

١- حماية الدولة الإسلامية.

٢- القيام بالفتوحات الإسلامية.

ب- مهام صاحب الشرطة.

١- اختص بالنظر في الجرائم.

٢- محاربة كل من يخرج على القانون.

(عدد)

س ٥ / أكمل العبارات التالية بما يناسبها:

- ١- الوظيفة الجديدة التي أدخلها الخليفة عمر بن الخطاب τ ولها علاقة بالقضاء تسمى الحسبة.
- ٢- الطريقة التي اعتمد عليها الجيش الإسلامي في قتاله تسمى الصفوف.
- ٣- صاحب وظيفة الحسبة يسمى المحتسب.
- ٤- الخليفة الذي استحدثت وظيفة المحتسب في عهد يسمى عمر بن الخطاب τ .
- ٥- الخليفة الذي تم في عهده بناء أول أسطول إسلامي يسمى عثمان بن عفان τ .
- ٦- الوالي الذي تم في عهد بناء أول أسطول بحري إسلامي شامي يسمى معاوية بن أبي سفيان.
- ٧- القائد المسلم الذي قام ببناء الأسطول البحري المصري يسمى عبد الله بن أبي السرح.
- ٨- النظام الذي أدخله الخليفة عمر بن الخطاب τ لتحقيق الأمن والنظام داخل الدولة يسمى العسس.
- ٩- الوظيفة التي استحدثها الخليفة علي بن أبي طالب τ للنظر في الجرائم ومحاربة كل من يخرج على القانون تسمى صاحب الشرطة.

س ٦ / اكتب مدلولات الصور والاشكال التالية:



-٢



-١

ثانياً: الجانب الاقتصادي - الدرس صفحة ١٤٥ إلى ١٤٧

س١/ دلل على صحة العبارة التالية: "لقيت الزراعة اهتماماً كبيراً من جانب المسلمين".

١- أقاموا المشاريع الزراعية.

٢- نظموا أساليب الري.

٣- بناء القنوات وشق الترع وحفر الآبار والعناية بالعيون.

س٢/ ما النتائج المترتبة على: اهتمام المسلمين بالزراعة.

١- وفرة المياه إلى جانب الأراضي الخصبة.

٢- وفرة المحاصيل الزراعية وتنوعها.

٣- سد احتياجات الدولة الإسلامية من الإنتاج الزراعي.

س٣/ علل ما يلي:

أ- عناية المسلمين بالصناعة.

١- وفرة وتنوع المواد في أقاليم الدولة الإسلامية.

٢- وجود الصناع المهرة في شتى أنواع الصناعات.

ب- ازدهار التجارة بين البلاد الإسلامية ودول العالم المعروفة لهم في عصر الدولة الإسلامية.

١- اهتم المسلمون بتنظيم الرحلات التجارية البرية والبحرية والنهرية.

٢- إقامة الأسواق المتخصصة والعامّة.

٣- استفادوا من موقعهم المميز فأصبحوا يمثلون الوسيط التجاري بين الشرق والغرب.

س٤/ فند العبارة التالية: " لم يهتم الخليفة الأموي عبد الملك بن مروان بضرب الدنانير وظل يستخدم العملة الفارسية

والبيزنطية".

مع اتساع الدولة الإسلامية وازدهار نشاطها التجاري كان على المسلمين أن يفكروا باستحداث عمله خاصة بهم

حيث كانوا يستخدمون الدنانير والدرهم الفارسية والبيزنطية منذ قيام الدولة الإسلامية فأمر الخليفة الأموي عبد الملك بن

مروان عام ٥٧٧هـ - ٦٩٦م بضرب الدنانير الإسلامية.

س٥/ لاحظ الشكل المقابل ثم أجب عما يلي:

١- الخليفة الأموي الذي أمر بضرب الدنانير الإسلامية يسمى عبد الملك بن مروان.

٢- ضربت الدنانير الإسلامية عام ٥٧٧هـ - ٦٩٦م.



ثالثاً: الجانب الثقافي - **الدرس صفحة ١٤٧ إلى ١٥٠**

س١/ **دلل على صحة العبارة التالية:** "تميزت الثقافة العربية الإسلامية بقدرتها على التواصل مع الثقافات الأخرى".

١- اعتمدت على الأخذ والعطاء معها.

٢- تمكنت الثقافة العربية من الإضافة إلى الثقافات الأخرى.

س٢/ **فرق بين:** العلوم العقلية والعلوم النقلية وفقاً للجدول التالي.

العلوم العقلية	العلوم النقلية
علم الفلسفة والطب والصيدلة والنبات والحيوان والفلك والجغرافيا والخرائط والرياضيات والكيمياء والفيزياء والميكانيكا.	علم تفسير القرآن الكريم وعلم الحديث النبوي الشريف وعلم الفقه وعلوم اللغة العربية وعلم التاريخ.

almanahj.com/kw

س٣/ **اذكر ما يأتي:**

أ- دور حركة النقل والترجمة التي نشأت منذ العهد الأموي وحققت الإبداع في العهد العباسي.

١- تعرفوا على الثقافات الفارسية والهندية واليونانية.

٢- لم يقتصر دورهم على النقل بل أضافوا وصححوا.

ب- دور المساجد في الحركة العلمية.

١- مثل المسجد المؤسسة الدينية والتربوية والعلمية للمسلمين.

٢- أصبحت مؤسسات تعليمية متخصصة.

ج- إسهامات المسلمين في مجال الموسيقى العربية.

١- تأليف سلاالم ومقامات موسيقية.

٢- وضع النوتة الموسيقية.

٣- تطوير العديد من الآلات الموسيقية.

س٤/ **برهن على صحة العبارة التالية:** "اتسم الفن الإسلامي بطابع خاص ميزه عن غيره من الفنون التي قدمتها الحضارات الأخرى"

ظهر ذلك بوضوح في كافة الجوانب التي تعكس الإبداع الفني الذي ميز العمارة الإسلامية والمصنوعات بأنواعها والقطع

الفنية الفريدة، فعندما نتأمل المدن الإسلامية القديمة نجدها تمثل لوحة فنية متكاملة.

س٥/ **أكمل العبارات التالية بما يناسبها:**

١- العهد الإسلامي الذي نشأت فيه حركة النقل والترجمة يسمى **العهد الأموي**.

٢- حققت حركة النقل والترجمة الإبداع في عهد يسمى **العهد العباسي**.

٣- العالم المسلم مؤلف كتاب البخلاء والحيوان يسمى **الجاحظ**.

٤- المؤسسة الدينية والتربوية والعلمية للمسلمين والتي ساهمت بدور كبير في الحركة العلمية تسمى **المسجد**.

رابعاً: الجانب الاجتماعي - **الدرس صفحة ١٤٨ إلى ١٥١**

س١/صنف: العادات والتقاليد التي أقرها والتي عارضها الإسلام وفقاً للجدول التالي.

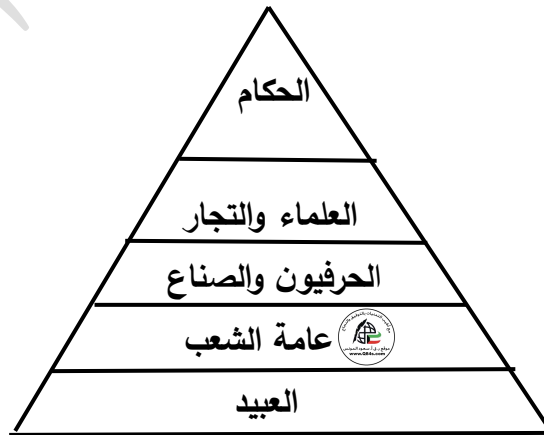
لعب الميسر - التحلي بالشجاعة - التعاون في وقت الشدة - الربا في التجارة - زواج المقت - وأد البنات -
الدفاع عن الوطن - مساعدة المحتاج - إكرام الضيف

عادات عارضها الإسلام	عادات أقرها الإسلام
لعب الميسر	إكرام الضيف
الربا في التجارة	مساعدة المحتاج
زواج المقت	الدفاع عن الوطن
وأد البنات	التعاون في وقت الشدة
	التحلي بالشجاعة

س٢/دلل على صحة العبارة التالية: "أحدث الإسلام تغييراً كبيراً في ملامح المجتمع العربي وأحدث نقلة نوعية في العادات والتقاليد"

- ١- قضي الإسلام على كل ما يتعارض مع مبادئ الإسلام السمحة.
- ٢- ابقى على كل ما يحقق للإنسان الخير والرفق.

س٣/أكمل الناقص في: هرم طبقات المجتمع العربي في ظل الدولة الإسلامية.



تابع الدرس صفحة ١٥١ إلى ١٥٢**س ٤/فرق بين:** طبقات المجتمع العربي قبل الإسلام وفي ظل الدولة الإسلامية.

في ظل الدولة الإسلامية	قبل الإسلام
١- الحكام	١- الأحرار (الصرحاء)
٢- العلماء والتجار	٢- الموالى
٣- الحرفيون والصناع	٣- العبيد
٤- عامة الشعب	
٥- العبيد	

س ٥/فند العبارة التالية: "لم يكرم الإسلام المرأة وقلل من مكانتها في الحياة الاجتماعية"**س ٦/اذكر:** دور المرأة في الإسلام.

١- جعلها الإسلام تشارك في الحياة الاجتماعية بما يتفق مع تعاليم الإسلام.

٢- ساهمت في غزوات الرسول ρ في مداوة الجرحى وتزويد الجنود بالماء والطعام.

٣- أظهرت نبوغاً في فهم وشرح العلوم الدينية والأدب العربي.

الدرس صفحة ١٥٣ إلى ١٥٤

س١/دبل على صحة العبارة التالية: "انطلقت المؤثرات الحضارية العربية والإسلامية لتغذي جسد أوروبا الضعيف عن طريق الحركة التجارية".

لعب المسلمون دور الوسيط التجاري بين آسيا وأوروبا ولكنهم لم ينقلوا البضائع فقط ولكنهم نقلوا إليها ما كانت لديهم من كنوز الفكر والمعرفة والأخلاق.

س٢/عدد: مراكز الحضارة الإسلامية إلى أوروبا.

١- الأندلس.

٢- صقلية وجنوب إيطاليا.

٣- ميدان الحروب الصليبية.

س٣/برهن على صحة العبارات التالية:

أ- للأندلس دور في نقل الحضارة الإسلامية إلى أوروبا.

١- حول المسلمون الأندلس إلى بستان حضاري زاخر بكل العلوم والفنون في مدن (قرطبة، غرناطة، ملقا، طليطلة).

٢- استقبلت طلاب العلم من جميع أنحاء أوروبا وأمدتهم بما يريدون من المخطوطات والمؤلفات لأعظم علماء المسلمين.

٣- أتاحت لهم الفرصة للتعرف على فنون العمارة والصناعة والزراعة.

ب- لجزيرة صقلية وجنوب إيطاليا دور في نقل الحضارة الإسلامية إلى أوروبا.

١- أصبحت صقلية وجنوب إيطاليا قاعدة حضارية استمدت أوروبا من جذورها العريقة.

٢- الإبقاء على الكثير من علماء المسلمين للاستفادة منهم في دولتهم الجديدة.

ج- للحروب الصليبية دور واضح في نقل الحضارة الإسلامية إلى أوروبا.

١- قدم المسلمون أعظم الدروس في الجوانب الحضارية في الروح المعنوية العالية والأخلاق الكريمة والالتزام بالعهد والمواثيق والتسامح.

٢- أتاحت فترات السلم التي تخللت تلك الحروب لأوروبيين للتعرف على كثير من مظاهر الحياة الاجتماعية الإسلامية.

س ٤/فند ما يلي: "كان الفتح الإسلامي لجزيرة صقلية وجنوب إيطاليا فتحاً عسكرياً فقط".

لم يكن الفتح الإسلامي لصقلية وجنوب إيطاليا فتحاً عسكرياً فقط، بل كان بداية لقيام إمارة إسلامية عظيمة أحدثت نقلة كبيرة في مظاهر الحياة بثتى مجالاتها.

س ٥/أكمل العبارات التالية بما يناسبها:



١- القبائل التي استعادت حكم صقلية وجنوب إيطاليا من أيدي المسلمين تسمى **النورمان**.

٢- المدة الزمنية التي استمر فيها حكم المسلمين لصقلية وجنوب إيطاليا بلغت **قرنين**.