



إجابة بنك الأسئلة لقرر

تاريخ العالم الحديث والمعاصر

للف الثاني عشر الأدبي

للعام الدراسي ٢٠٢٤م / ٢٠٢٥م

الفصل الدراسي الأول

اعداد الموجهين الفنيين

أ. مها الحمد

أ. حسين أشكناني أ. العنود الفقعان

أ. صيته الحجرف أ. منى سميران أ. مريم الحربي

نعم

إشراف الموجه الأول الموجه الفني الأول للإجتماعات

أ. محمود التراكمة / محمود عبد الله تراكمه

الموجه الفني العام للإجتماعات بالإجابة

محمد علي العتيبي أ. محمد علي العتيبي

الموجه الفني العام للإجتماعات - بالإجابة



هذا العمل مُهدى لابنائنا المتعلمين

ولا يغني عن دراسة الكتاب المدرسي

يحتوي هذا العمل على التالي

١ - بنك أسئلة تاريخ العالم الحديث والمعاصر

للفصل الدراسي الأول .

٢ - امتحان إلكتروني تجريبي .

ملحق لكم رابط وباركون الامتحان التجريبي

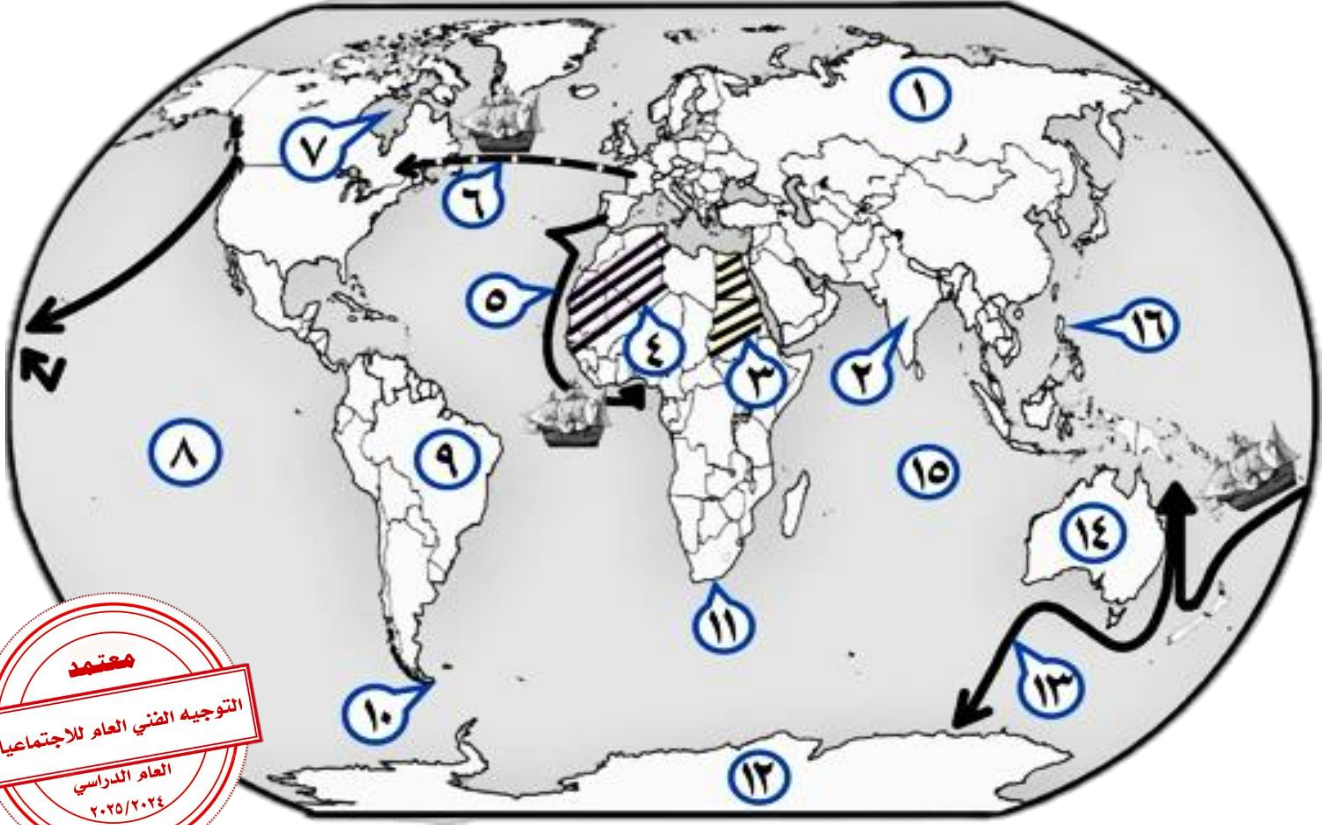
<https://forms.office.com/r/jEAWE9Pn72>





نماذج أسئلة الخريطة

أ) - أمامك خريطة العالم السياسية - اكتب الرقم الدال على العبارات التي تليها :



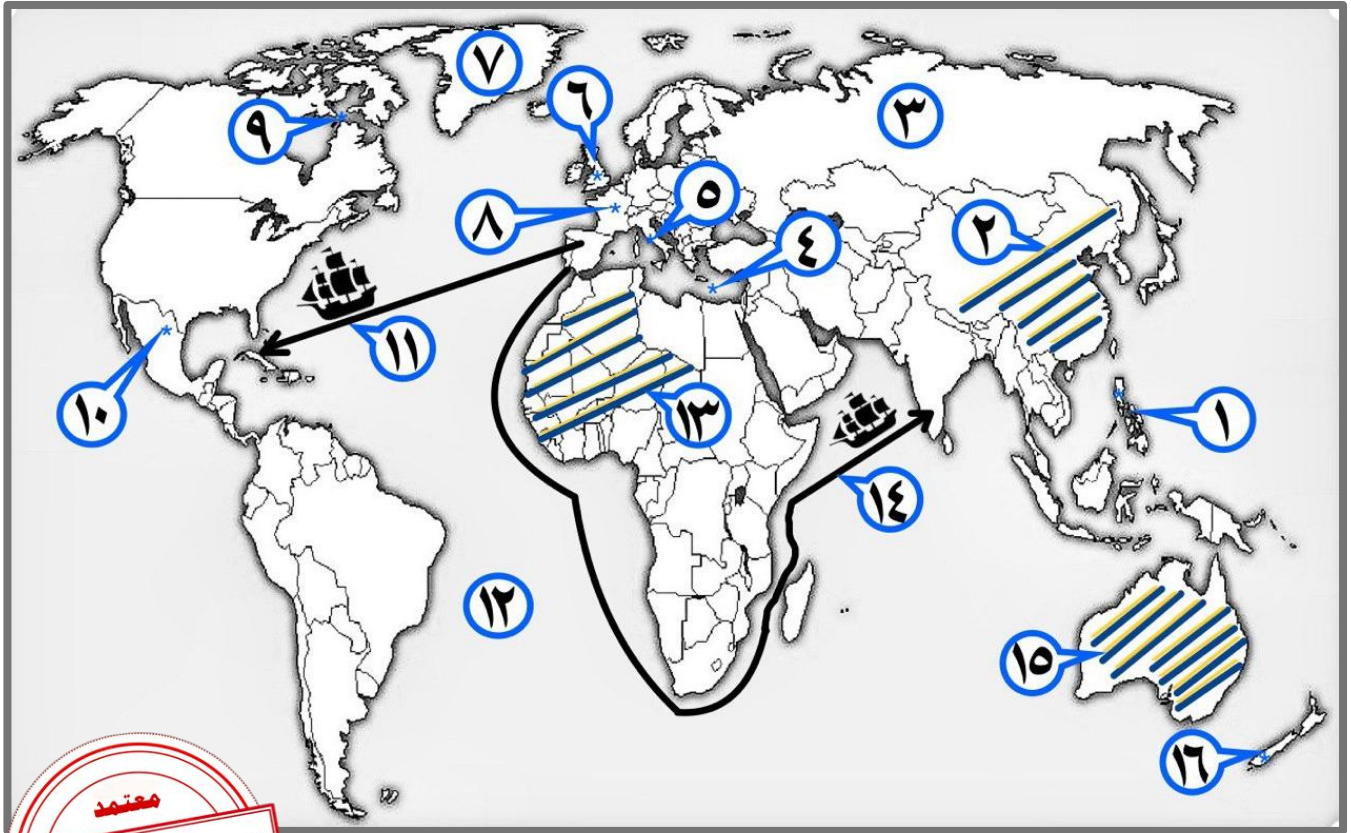
- المنطقة التي وصل إليها الرحالة الجغرافي بارثلميودياز عام ١٤٨٨ م يمثلها على الخريطة الرقم (١١) ص ٢٨
- الجزر التي قتل فيها الرحالة الجغرافي " ماجلان " عام ١٥٢١ م يمثلها على الخريطة الرقم (١٦) ص ٣٥
- القارة التي وصل إليها المستكشف الجغرافي " جيمس كوك " يمثلها على الخريطة الرقم (١٤) ص ٣٩
- الدولة الاستعمارية التي تمكنت من إخضاع سيبيريا يمثلها على الخريطة الرقم (١) ص ٥٦
- خط سير الرحالة الجغرافي " هنري الملاح " يمثلها على الخريطة الرقم (٥) ص ٢٧
- مناطق الاستعمار البريطاني يمثلها الجزء المظلل ///// الذي يحمل على الخريطة الرقم (٣) ص ٥٢



- المحيط الهندي يمثل على الخريطة الرقم (١٥) ص ٣٩
- المنطقة التي وصل إليها المكتشف الجغرافي "أمريكو فسبوتشي" يمثلها على الخريطة الرقم (٩) ص ٣٤
- قارة أنتاركتيكا يمثلها على الخريطة الرقم (١٢) ص ٤٣
- خط سير الرحالة الجغرافي " جيمس كوك " يمثلها على الخريطة الرقم (١٣) ص ٣٩
- مضيق ماجلان يمثل على الخريطة الرقم (١٠) ص ٣٥
- خليج هدسون يمثل على الخريطة الرقم (٧) ص ٣٨
- الدولة التي قامت فيها شركة الهند الشرقية الفرنسية عام ١٦٦٤م يمثلها على الخريطة الرقم (٢) ص ٥٥
- الدولة التي استعمرت معظم الأراضي الواقعة شرق جبال أورال يمثلها على الخريطة الرقم (١) ص ٥٦
- المنطقة التي وصل إليها المكتشف الجغرافي "فاسكو دي جاما" يمثلها على الخريطة الرقم (٢) ص ٢٩
- رأس العواصف يمثل على الخريطة الرقم (١١) ص ٢٨
- خط سير الرحالة جاك كارتيه يمثلها على الخريطة الرقم (٦) ص ٤٠
- المحيط الهادي يمثل على الخريطة الرقم (٨) ص ٣٩
- القارة التي وصل لها المكتشف تشارلز ويلكز عام ١٨٤٠م يمثلها على الخريطة الرقم (١٢) ص ٤٣
- مناطق الاستعمار الفرنسي يمثلها الجزء المظلل ///// الذي يحمل على الخريطة الرقم (٤) ص ٥٢



ب) - أمامك خريطة العالم السياسية - اكتب الرقم الدال على العبارات التي تليها :



- نيوزيلندا يمثلها على الخريطة الرقم (١٦) ص ٣٩
- مضيق هدرن يمثل على الخريطة الرقم (٩) ص ٣٩
- جزر الفلبين يمثلها على الخريطة الرقم (١) ص ٣٥
- مناطق الاستعمار البريطاني (الإنجليزي) بمثلها الجزء المظلل على الخريطة الذي يحمل الرقم (١٥)
- الإمبراطورية الاستعمارية الروسية يمثلها على الخريطة الرقم (٣) ص ٥٢
- المكسيك يمثلها على الخريطة الرقم (١٠) ص ٣٤
- القاعدة التي انطلقت منها الثورة الصناعية يمثلها على الخريطة الرقم (٦) ص ٦٢
- مناطق الاستعمار الفرنسي يمثلها الجزء المظلل على الخريطة الذي يحمل الرقم (١٣) ص ٥٢
- جزيرة "جرينلاند" يمثلها على الخريطة الرقم (٧) ص ٣٨
- خط سير رحلة المكتشف " كريستوفر كولومبس " يمثل على الخريطة الرقم (١١) ص ٣٢
- المسطح المائي الذي قلت أهميته بعد حركة الكشف الجغرافية يمثل على الخريطة الرقم (٤)



● الدولة التي يوجد فيها ميناء بريستول يمثلها على الخريطة الرقم (٦) ص ٣٧

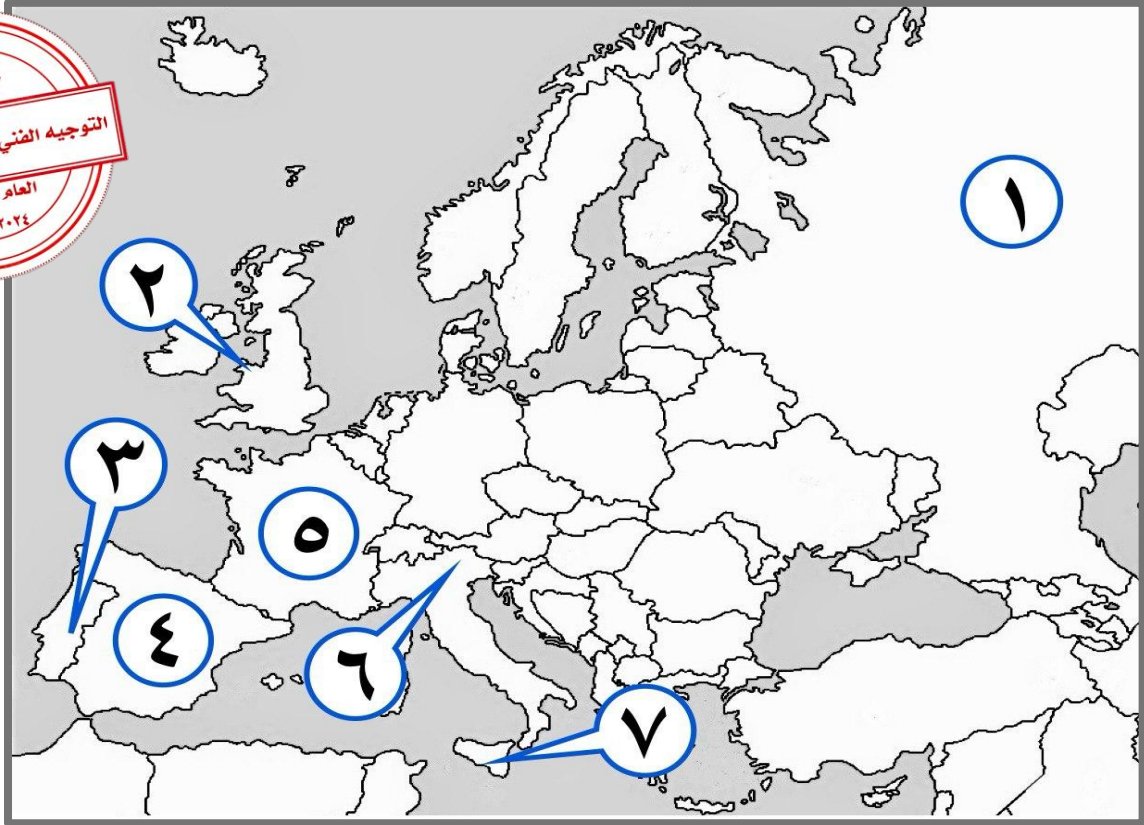
● ميناء سانت مالو يمثل على الخريطة الرقم (٨) ص ٤٠

● خط سير الرحالة الجغرافي " فاسكو دي جاما " يمثلها على الخريطة الرقم (١٤) ص ٢٨

● دولة استعمارية احتلت الجزائر عام ١٨٣٠م يمثلها على الخريطة الرقم (٨) ص ٥٢

● دولة استعمارية احتلت مصر عام ١٨٨٢م يمثلها على الخريطة الرقم (٦) ص ٥٢

(ج) - أمامك خريطة أوروبا السياسية - اكتب الرقم الدال على العبارات التي تليها :



● أول دولة أوروبية قامت بحركة الكشوف الجغرافية يمثلها على الخريطة الرقم (٣) ص ٢٧

● جزيرة "صقلية" يمثلها على الخريطة الرقم (٧) ص ١٦

● ميناء بريستول الذي أبحر منه الرحالة الجغرافي "جون كابوت" يمثل على الخريطة الرقم (٢) ص ٣٧

● الدولة الاستعمارية التي اشتهرت بتجارة الفراء يمثلها على الخريطة الرقم (١) ص ٥٦

● بلاد الأندلس يمثلها على الخريطة الرقم يمثلها على الخريطة الرقم (٤) ص ١٤

● مدينة البندقية يمثلها على الخريطة الرقم (٦) ص ١٦

● الدولة الاستعمارية التي انتدبت سوريا ولبنان يمثلها على الخريطة الرقم (٥) ص ٥١



نماذج أسئلة اختيار من متعدد

أ) ظلل الخيار الصحيح من بين الخيارات التي تلي كل عبارة :

١- سبب رفض الملك الأسباني " فرديناند " و "الملكة إيزابيلا" مشروع كريستوفر كولومبس : ص ٣١

العجز المادي	الحرب مع المسلمين
الحروب الأهلية	عدم القناعة بمشروعه

٢- الجزيرة التي اكتشفها الرحالة " جاك كارتية " : ص ٤٠

هاواي	ماديرا	سانت كروز	أورليانز
-------	--------	-----------	----------

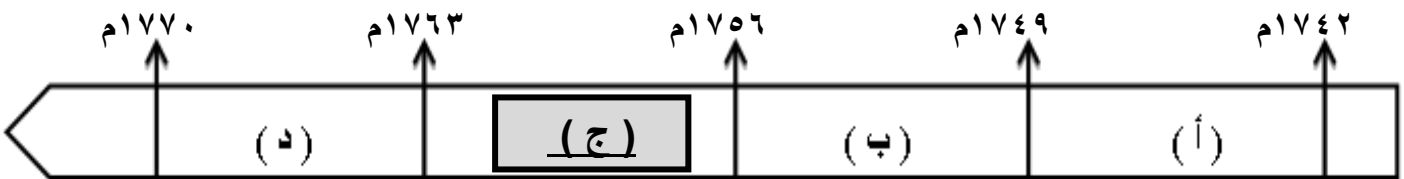
٣- أحد رواد الحركة الفنية بعصر النهضة الأوروبية : ص ١٨

دانتي	ليوناردو دافنشي	مارتن لوتر	أرازاموس
-------	-----------------	------------	----------

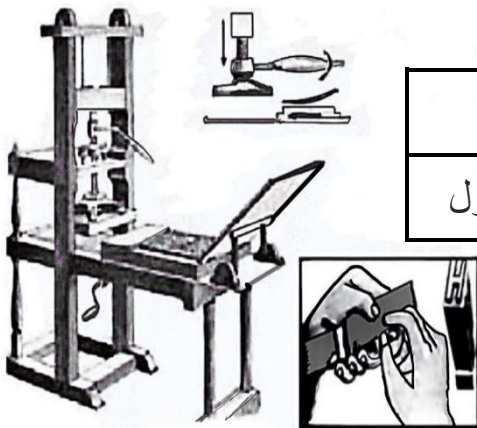
٤- العالم الذي اخترع الهاتف (التليفون) عام ١٨٧٦م : ص ٦٨

صموئيل موريس	جراهام بل	هنري بسمر	جيمس وات
--------------	-----------	-----------	----------

٥- الفترة الزمنية التي حدثت فيها حرب السنين السبع يمثلها على المخطط الزمني الحرف : ص ٥٥



٦- الأثر المترتب على اختراع الآلة التي تمثلها الصورة المقابلة : ص ١٥



إنتاج آلات من الصلب	سهولة طباعة الكتب
استخدام قوة الماء لعملية الغزل	بث الإشارات والأصوات





٧- العامل الاستراتيجي لقيام النظام الاستعماري الأوروبي : ص ٥٠

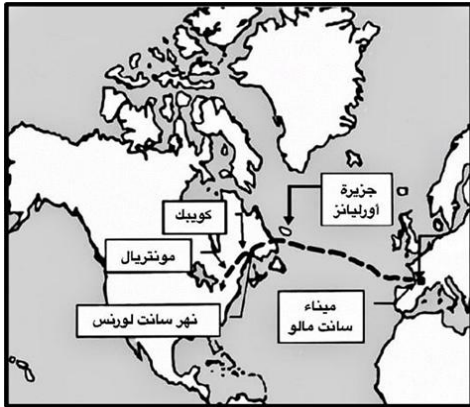
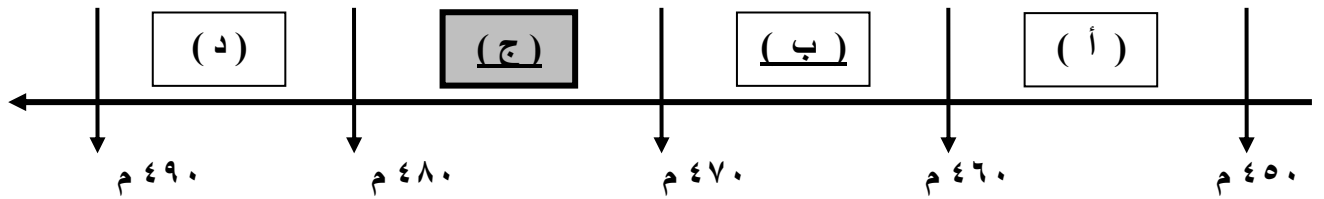
توفير خدمات للسفن التجارية	تصريف المنتجات الصناعية
استثمار أموالهم في المستعمرات	تجنيد سكان المستعمرات



٨- رواد الحركة الفنية في عصر النهضة الأوروبية : ص ١٨

أرازموس - بوكاشيو	رفائيل - مايكل انجلو
ليوناردو دافنشي - بترارك	فيليو برونيلسكي - دانتي

٩- الفترة الزمنية التي يقع فيها سقوط الإمبراطورية الرومانية يمثلها على المخطط الزمني الحرف : ص ١١



٥- المكتشف الذي قام بالرحلة المشار لها على الخريطة المقابلة : ص ٤٠

جون ديفيز	روبرت ماكور
مارتن فروبوشير	جاك كارتية

٦- الأرقام الدالة على رحلات الكشوف الاسبانية يمثلهم في الجدول

المقابل : ص ٣٤ ، ٣٥

م	رحلة المكتشف
١	أمريكو فسبوتشي
٢	فاسكو دي جاما
٣	هنري الملاح
٤	ماجلان

(٢، ١)	(٣، ٢)
(٤، ١)	(٤، ٣)

ب) اختر الإجابة الصحيحة من بين البدائل التي تلي كل عبارة :



١- المنطقة التي تمكن المكتشف "روبرت بيرى" من الوصول إليها عام ١٩٠٩ م : **ص ٤٢**

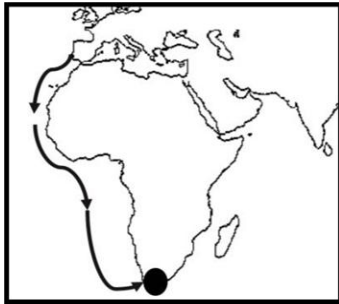
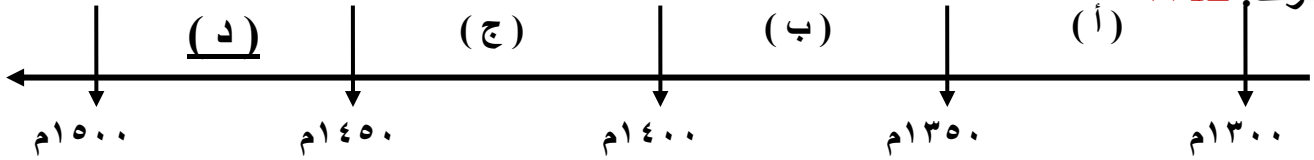
أ- خليج هدسن ب- جزيرة أورليانز ج- بحيرة سليف الكبرى د- القطب الشمالى



٢- من أهم أعمال صاحب الصورة التي أمامك : **ص ٢٠**

أ - رسم لوحة الموناليزا ب - عارض فكرة صكوك الغفران
ج - ألف رواية الحياة الجديدة د - اختراع أحرف الطباعة المعدنية

٣- الفترة الزمنية التي حدث فيها الفتح العثماني لمدينة القسطنطينية يمثلها على المخطط الزمني الحرف: **ص ١٢**



٤- الملاح الذي قام بالرحلة المشار إليها بالخريطة المقابلة : **ص ٢٨**

أ - بارثلميو دياز ب - روبرت ماكلور
ج - جون فرانكلين د - فاسكو دي جاما

د - هندوراس

٥- المستعمرة البرتغالية الوحيدة في أمريكا الجنوبية : **ص ٤٥**

أ - المكسيك ب - جواتيمالا ج - البرازيل

٦- الدولة الاستعمارية التي احتلت مصر عام ١٨٨٢ م يمثلها على الخريطة التي أمامك : **ص ٥١**



ب - (٢)

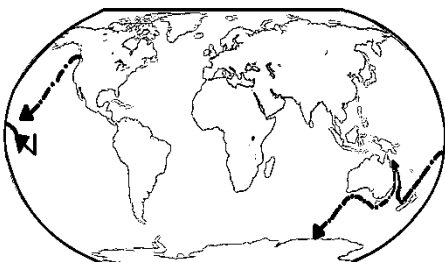
أ - (١)

د - (٤)

ج - (٣)

٧- المكتشف الذي قام بالرحلة المشار لها على الخريطة المقابلة :

ص ٣٩



ب - جون ديفيز

أ - روبرت ماكلور

د - جيمس كوك

ج - جاك كارتنيه



صحح العبارة

(* صوب ما تحته خط في العبارات التالية :

م	العبارة	التصويب
١	القارة التي أثبت المستكشف تشارلز ويلكز انها كتلة ضخمة مغطاة بالثلج هي <u>أمريكا الشمالية</u> .	أنتاركتيكا – القطب المتجمد الجنوبي ص ٤٣
٢	قُتل الرحالة " ماجلان " عام ١٥٢١م في جزر <u>ماديرا</u> .	الفلبين ص ٣٥
٣	نتج عن رحلة فاسكو دي جاما وصول البرتغال إلى <u>استراليا</u> .	الهند ص ٢٩
٤	الرحالة " جون كابوت " ينتمي إلى رحلات <u>الكشوف الأسبانية</u> .	الإنجليزية ص ٣٧
٥	أسهم " الإخوان رايت " في أحداث الثورة الصناعية في مجال <u>التعدين</u> .	الطيران ص ٦٦
٦	استغلال دولة قوية لدولة أخرى ضعيفة بهدف السيطرة على مواردها الاقتصادية تسمى <u>الإمبريالية</u> .	الاستعمار الأوروبي ص ٤٩
٧	اخترع "ديملر وبنز" عام ١٨٨٥م <u>القاطرة البخارية</u> .	سيارة البنزين ص ٦٥
٨	سقوط عاصمة الإمبراطورية الرومانية " روما " على يد القبائل الجرمانية عام ٣٦٧م.	٤٧٦م ص ١١
٩	الميناء الذي ابحر منه المكتشف الجغرافي جون كابوت اسمه <u>سانت مالو</u> .	بريستول ص ٣٧
١٠	العالم الذي اخترع محرك الاحتراق الداخلي عام ١٨٩٢م اسمه <u>روبرت فولتن</u> .	رودلف ديزل ص ٦٥
١١	المحور الأساسي للدخل القومي لمعظم دول أوروبا قبل الثورة الصناعية يسمى <u>التجارة</u> .	الزراعة ص ٦١
١٢	الدولة الأوروبية التي انطلقت منها حركة النهضة الأوروبية ونقلت أوروبا من الظلمات إلى العصور الحديثة <u>أسبانيا</u> .	إيطاليا ص ١٢





أكمل العبارات

(*) أكمل العبارات التالية بما يناسبها فيما درست :

- ١- الدولة الأولى التي قامت بحركة الكشف الجغرافية في نهاية القرن ١٥ م اسمها البرتغال ص ٢٧
- ٢- حاجة الأوروبيين إلى المزيد من الذهب والفضة تسمى مجاعة نقدية ص ٢٥
- ٣- الأسطول الاسباني الذي تحطم على يد الإنجليز عام ١٥٨٨ م اسمه الأرمادا ص ٥٤
- ٤- المستكشف الإنجليزي الذي وصل إلى خط عرض ٧٢ شمالاً اسمه جون ديفيز ص ٣٨
- ٥- النظام الاستعماري الذي أجبر المستعمرات على أن لا تتاجر مع أي دولة إلا البلد المستعمر يسمى الميثاق الاستعماري ص ٥٦
- ٦- المنطقة التي تمكن الرحالة "روبرت بيرى" من الوصول إليها عام ١٩٠٩ م اسمها القطب الشمالي ص ٤٢
- ٧- أطلق المستكشف "كولومبس" على جزر الأنتيل الصغرى والكبرى بعد اكتشافهم عام ١٤٩٢ م اسم سان سلفادور ص ٣٢
- ٨- الاختراع الذي توصل إليه العالم "توماس أديسون" عام ١٨٧٧ م اسمه المصباح الكهربائي ص ٦٧
- ٩- الطبقة التي سيطرت على مقاليد السلطة السياسية في أوروبا بعد الثورة الصناعية اسمها الرأسمالية ص ٦٩
- ١٠- الرحالة الذي تمكن من اكتشاف مضيق هدسن اسمه مارتن فروبشير ص ٣٧
- ١١- الملك الذي أطلق اسم رأس الرجاء الصالح على رأس العواصف اسمه جون الثاني ص ٢٨
- ١٢- مؤلف كتاب الأمير عام ١٥١٣ م أسمه نيقولا ماكيافيللي ص ٢١



التصنيف

(أ) صنف العوامل التالية طبقاً للجدول الذي يليها : ص ١٢ ، ٢٧

- الرغبة في استعادة أمجادها القديمة.
- توافر الأدوات اللازمة.
- استقرار الوضع في بلادهم .
- حلقة اتصال بين الشرق والغرب.

العوامل التي جعلت إيطاليا في مقدمة حركة النهضة الأوروبية	من العوامل التي جعلت البرتغال أول من قامت في حركة الكشوف الجغرافية في أوروبا
<ul style="list-style-type: none">- الرغبة في استعادة أمجادها القديمة.- حلقة اتصال بين الشرق والغرب.	<ul style="list-style-type: none">- استقرار الوضع في بلادهم .- توافر الأدوات اللازمة.



(ب) صنف اسماء الشخصيات التالية طبقاً للجدول الذي يليها :

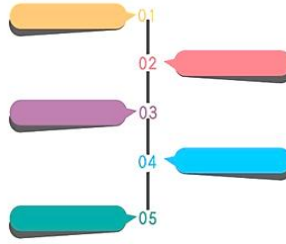
- كريستوفر كولومبس
- جون ديفيز
- جاك كارتية
- فاسكو دي جاما
- بارثلميو دياز
- ألكسندر ماكينزي
- ماجلان
- مارتن فرو بوشير

رحالة الكشوف البرتغالية	رحالة الكشوف الأسبانية	رحالة الكشوف الإنجليزية
<ul style="list-style-type: none">- بارثلميو دياز ص ٢٨- فاسكو دي جاما ص ٢٨	<ul style="list-style-type: none">- كريستوفر كولومبس ص ٣١- ماجلان ص ٣٥	<ul style="list-style-type: none">- جون ديفيز ص ٣٨- مارتن فرو بوشير ص ٣٧

(ج) صنف الأشكال الاستعمارية التالية طبقاً للجدول الذي يليها : ص ٥١

- الاستيطان
- المعاهدات والاتفاقيات الخاصة
- التفويض من المنظمات الدولية
- الغزو العسكري

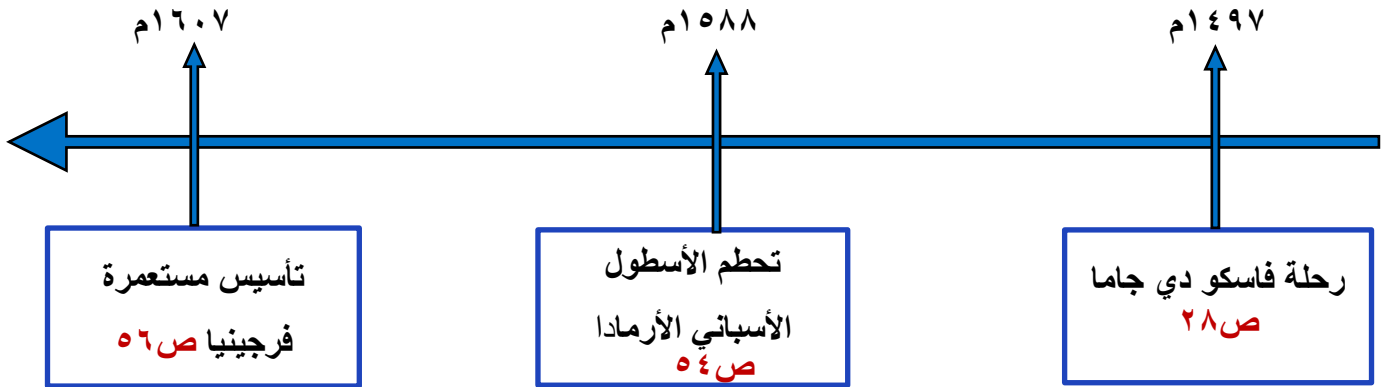
الاستعمار الفرنسي للجزائر	الاستعمار الإنجليزي لمنطقة الخليج	الاستعمار الإيطالي للصومال	الاستعمار الصهيوني لفلسطين
<ul style="list-style-type: none">- الغزو العسكري	<ul style="list-style-type: none">- المعاهدات والاتفاقيات الخاصة	<ul style="list-style-type: none">- التفويض من المنظمات الدولية	<ul style="list-style-type: none">- الاستيطان



الترتيب الزمني

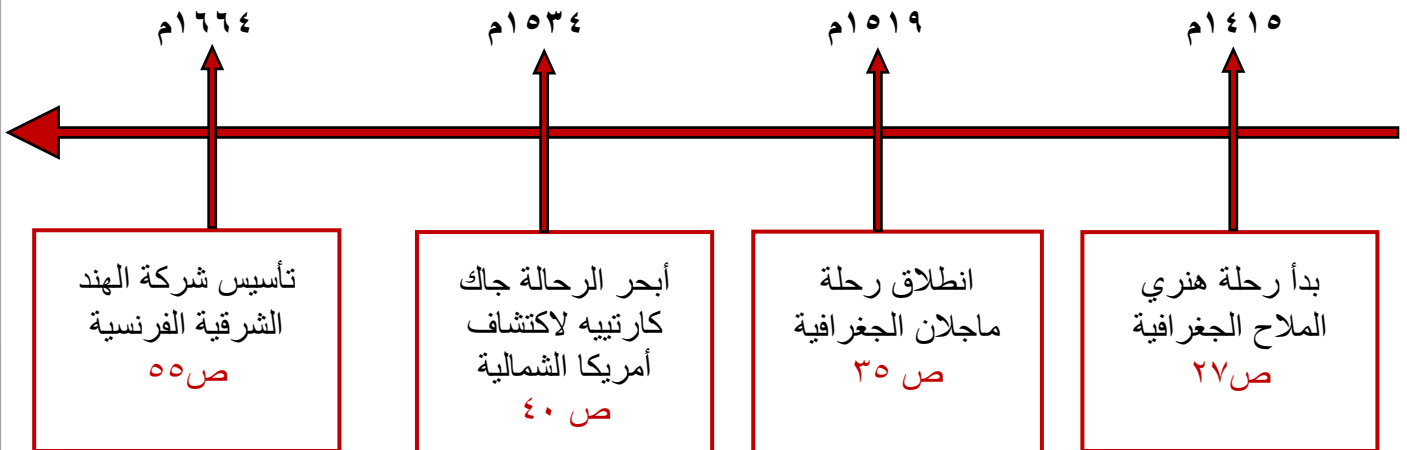
(أ) رتب الأحداث التاريخية التالية وفقاً للمخطط الزمني الذي يليها :

- تأسيس مستعمرة فرجينيا
- رحلة فاسكو دي جاما
- تحطم الأسطول الأسباني الأرمادا



(ب) رتب الأحداث التاريخية التالية وفقاً للمخطط الزمني الذي يليها :

- انطلاق رحلة ماجلان الجغرافية
- تأسيس شركة الهند الشرقية الفرنسية
- أبحر الرحالة جاك كارتية لاكتشاف أمريكا الشمالية
- بدأ رحلة هنري الملاح الجغرافية





علل (ما السبب ؟)

(*) علل لما يلي :



١- قيام حركة الإصلاح الديني . ص ٢٠

- جهود الحركة الإنسانية في التنبيه لأهمية إصلاح الكنيسة .
- الرغبة في تحرير حركة التقدم العلمي من قيود الكنيسة.
- اهتمام أوروبا بجوانب الحياة الدنيوية .
- ظهور كثير من المصلحين الذين نادوا بتخليص الكنيسة من مفسدها .

٢- لم تعمر الإمبراطورية الاستعمارية الهولندية طويلاً . ص ٥٥

- الهولنديون أمة صغيرة غير قادرة على حماية الإمبراطورية التي تَمَّ تأسيسها بشكل كبير تجاوز حدود إمكاناتهم .
- كان اعتمادهم الأول على التجارة مما أدى لإهمال قطاعي الزراعة والصناعة.
- سياساتهم الاستبدادية في المستعمرات .
- منافسة الدول الأوروبية الجديدة لها مثل إنجلترا وفرنسا .

٣- البرتغاليون أول من بدأ حركة الكشف الجغرافية. ص ٢٧

- توفر الأدوات اللازمة من علم وخبرة وسفن متطورة .
- استقرار الوضع في بلادهم لذلك وجهوا اهتمامهم لاكتشاف طريق جديد خارج نطاق البحر المتوسط .

٤- انهيار الإمبراطورية الاستعمارية البرتغالية في الشرق . ص ٥٣

- سوء إدارة المُستعمرات وانتشار الرِّشوة .
- قسوة البرتغاليين في معاملة السكان الأصليين واجبارهم على اعتناق المسيحية.
- السلطة كانت في يد نائب الملك في (جوا) وهو المسؤول أمام الملك دون رقابة ولقصر مدة حكمه كان يقوم بابتزاز الأموال وعدم الاعتناء بالمستعمرة .
- منافسة الهولنديين و الإنجليز للبرتغاليين في مجال الاستعمار.
- فقدت البرتغال استقلالها كدولة و ضُمت للتاج الإسباني في عهد الملك فليپ الثاني عام ١٥٨٠م ولمدة ٦٠ عاماً .



٥- انطلاق شرارة الثورة الصناعية من إنجلترا . ص ٦٢

- الاستقرار الداخلي : أدى نجاح الثورة المجيدة التي قامت في إنجلترا عام ١٦٨٩م إلى وجود الدستور الإنجليزي ونظام الحكم البرلماني الذي اعتبر نموذجاً تسعى إليه الدول الأوروبية مما جعل بريطانيا تشهد استقراراً سياسياً مهد لنجاح الازدهار الاقتصادي .
- وفرة رأس المال : كان للكشوف الجغرافية دور بارز في جعل إنجلترا مركزاً مالياً كبيراً حيث أصبحت المصارف الإنجليزية في لندن تتحكم في تجارة العالم وبالتالي أصبحت تملك ثروات مالية كبيرة مما سهل لها تمويل عمليات الصناعات بأشكالها المختلفة .
- سهولة الحصول على المواد الخام : أدى اتساع المستعمرات إلى سهولة حصول إنجلترا على المواد الخام اللازمة للصناعة.
- وجود القوى المحركة : توفرت لإنجلترا مصادر القوى المحركة التي تمثلت في المساقط المائية والفحم .
- الأيدي العاملة الرخيصة : ساهمت في تشغيل المصانع بتكلفة بسيطة مما ساعد على استخدام رأس المال في تغطية النفقات الأخرى للصناعة .
- تشجيع العلماء والمخترعين : حرصت الحكومة الإنجليزية وأصحاب رؤوس الأموال على دعم جهود العلماء والمخترعين وتوفير الإمكانيات اللازمة لهم لإتمام اختراعاتهم وابتكاراتهم .
- وجود اسطول تجاري كبير : سهل لإنجلترا عملية نقل المواد الخام إلى مصانعها وإعادة تصديرها في شكل صناعات إلى أسواق العالم .

٦- أطلق على أدياء النهضة الأوروبية اسم الإنسانيين . ص ١٧

- لأنهم عبروا في كتاباتهم الأدبية عن صورة الإنسان الذي يتصف بالإبداع والثقة في النفس والمحبة للحياة بجوانبه المشرقة .

٧- رفض الملك الأسباني " فرديناند " و " الملكة إيزابيلا " مشروع كريستوفر كولومبس . ص ٣١

- بحجة انشغالهم بالحرب مع المسلمين في الأندلس .





المقارنات

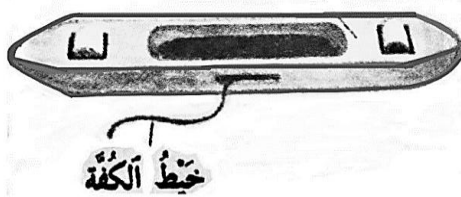
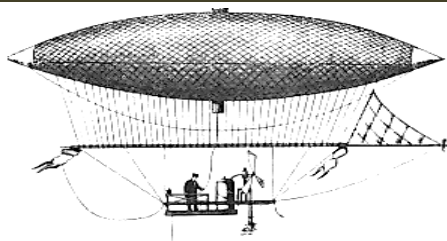
(*) قارن بين كل من:

وجه المقارنة	الاستيطان ص ٥١	التمييز العنصري ص ٥١
التعريف	هجرة مجموعة من سكان دولة أجنبية قوية إلى دولة ضعيفة وتملك الأرض بطرد السكان المحليين، وتكون الهجرة على شكل إرساليات تنصيرية، تجار، سياح.	أسلوب استعماري قائم على التفرقة بين الناس بسبب اللون أو الجنس أو الدين حيث مورست فيه ألوان من القهر والاستعباد.
المثال	- هجرة الأوروبيين لعالم الجديد و طرد الهنود الحمر. / - هجرة الأوروبيين لأستراليا و طرد السكان الأصليين. / - الغزو الصهيوني في فلسطين.	- جنوب أفريقيا . - فلسطين وممارسات الصهاينة .



وجه المقارنة	الانتداب ص ٥١	الوصاية ص ٥١
التعريف	ظهر إثر انتهاء الحرب العالمية الأولى عام ١٩١٩م حيث انتدبت الدول المنتصرة لإدارة شؤون الأقطار التي تحكمها الدولة العثمانية أو ألمانيا لهزيمتهما بالحرب بحجة الأخذ بيدها نحو التطور والاستقلال .	ظهر في أعقاب الحرب العالمية الثانية عام ١٩٤٥م حيث فقد وضعت المناطق التي كانت تحت النفوذ الألماني والإيطالي والياباني تحت وصاية دولة من اختيار الأمم المتحدة.
المثال	- سوريا ولبنان تحت الانتداب الفرنسي . - فلسطين والأردن تحت الانتداب البريطاني .	- الصومال تحت الوصاية الإيطالية . . - إقليم ناميبيا تحت وصاية اتحاد جنوب أفريقيا .






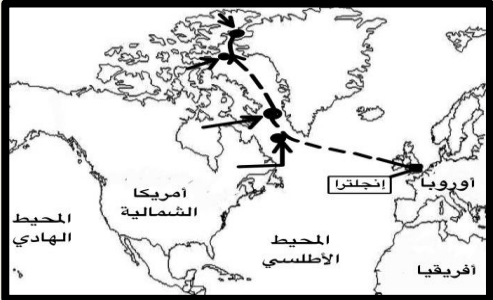
وجه المقارنة	الإمبراطورية البرتغالية	الإمبراطورية الإسبانية
اتجاه رحلات الكشف	جهة الشرق ص ٣١	جهة الغرب ص ٣١
المناطق التي احتلت بعد رحلات الكشف	البرازيل - مراكز تجارية على السواحل الأفريقية - خارجية سواحل الهند - سواحل الخليج العربي. ص ٤٥	أمريكا الوسطى - أجزاء مهمة من أمريكا الجنوبية - جزر الفلبين. ص ٤٥

وجه المقارنة		
الاختراع	المكوك الطائر ص ٦٣	المنطاد ص ٦٦
أسم المخترع	جون كي	العالم بلانشارد
أثر الاختراع	زيادة سرعة النسيج	عبور القنال الإنجليزي



وجه المقارنة		
الاختراع	سيارة البنزين ص ٦٥	الهاتف (التليفون) ص ٦٨
أسم المخترع	ديلمر روبنز	جراهام بيل
أثر الاختراع	إنتاج سيارات البنزين الأولى	الاتصالات الهاتفية (التليفونية)

		وجه المقارنة
العالم مايكل فاراداي ص ٦٧	العالم هنري بسمر ص ٦٤	أسم المخترع
الدينمو	تحضير الفولاذ من الحديد	الاختراع
استخدام الطاقة الميكانيكية لتوليد طاقة كهربائية	انتاج آلات من الصلب .	أثر الاختراع

		وجه المقارنة
جاك كارتيه ص ٤٠	جون ديفيز ص ٣٨	أسم الرحالة
كندا - نهر سانت لورنس جزيرة أورليانز - مونتريال أسس مدينة كوبيك	جرينلاند - مضيق جلبرت مضيق ديفيز - شمال مضيق كمبرلند وصل إلى خط عرض ٧٢ شمالاً	المناطق المكتشفة



		وجه المقارنة
كريستوفر كولومبس ص ٣٢	الأمير هنري الملاح ص ٢٧	أسم الرحالة
جزر الأنثيل الكبرى والصغرى وأطلق عليها اسم "سان سلفادور" - وصل إلى كوبا - جزيرة هايتي - جزر الدومينيكا - جزر سانت كروز - جزر بورتوريكو - أبحر إلى الساحل الجنوبي "لكوبا" - الساحل الشمالي "الجاميكا" - جزيرة ترينداد - ساحل فينزويلا - وصل إلى ساحل أمريكا الوسطى .	الرأس الأخضر - توقف إلى ساحل غانا اكتشاف جزر ماديرا - جزر أزور رأس بوجادور - ساحل جامبيا والسنغال	المناطق المكتشفة



فرق

أ) فرق بين كل مما يلي

الكشوف الجغرافية للرحالة ألكسندر ماكينزي	الكشوف الجغرافية للرحالة مارتن فروبشير
- اكتشاف نهر "ماكينزي" - ونهر "بيس"	- وصل إلى "جزيرة شتلند" - "جزيرة جرينلند"
- "بحيرة سليف الكبرى". ص ٤٢	- تمكن من اكتشاف "مضيق هُسن". ص ٣٧
العامل الاستراتيجي لقيام النظام الاستعماري الأوروبي	العامل السكاني لقيام النظام الاستعماري الأوروبي
- استغلال المواقع الاستراتيجية لإقامة المحطات التجارية والقواعد العسكرية .	- الثورة الصناعية ساعدت على الزيادة السكانية لدول أوروبا.
- حماية خطوط المواصلات البحرية	- تحسين الخدمات الطبية ساعد على الزيادة السكانية الطبيعية في أوروبا.
- توفير خدمات للسفن التجارية . ص ٥٠	- زيادة عدد السكان في أوروبا أدى إلى اتباع سياسة التهجير لأعداد كثيرة من سكان أوروبا إلى الأقاليم المستعمرة.
	- العمل على تجنيد سكان المستعمرات لصالح القوة العسكرية للدول الاستعمارية. ص ٥٠
المعاهدات والاتفاقيات الخاصة	الغزو العسكري
عقد معاهدة حماية بين دولة أوروبية (المستعمرة) والدولة الضعيفة تحت ستار من الحُجج والأسباب. ص ٥١	الاحتلال بالقوة العسكرية . ص ٥١

ب) فرق بين إنجازات كل من :

ديلمر وبنز ص ٦٥	روبرت فولتن ص ٦٥
سيارة البنزين .	السفن البخارية .
صمويل موريس ص ٦٨	أليساندر فولتا ص ٦٧
التلغراف الكهربائي .	البطارية الكهربائية .

ج) فرق بين النتائج السياسية للكشوف الجغرافية على كل من :

نظرية كوبرنيكوس ص ٤٦	نظرية بطليموس ص ٤٦
أن الشمس محور الكون وأن الكواكب الأخرى بما فيها الأرض تسير في مدارات حول الشمس	بنى نظريته على أن الأرض محور الكون و أن الشمس والقمر والكواكب الأخرى تدور حول الأرض .



ما أوجه الاختلاف / الشبه

(أ) ما أوجه الاختلاف بين كُل من :

- ١- رحلة المكتشف الجغرافيا فاسكو دي جاما ورحلة المكتشف كريستوفر كولومبوس . ص ٢٨ و ٣١
- عمل فاسكو دي جاما في خلال رحلاته الجغرافية لصالح دولة البرتغال أما كريستوفر كولومبس ابخره في كشوفه الجغرافية لصالح دولة أسبانيا.
- اتجه فاسكو دي جاما من جهة الشرق وذلك بالالتفاف حول قارة أفريقيا للوصول إلى الهند أما كريستوفر كولومبس اتجه من جهة الغرب وذلك للوصول إلى الهند رغم أنه وصل و إلى جزر وسواحل أمريكا الوسطى .

- ٢- اكتشافات الرحالة الجغرافي أموندسون في القطب الشمالي والقطب الجنوبي . ص ٤٢ و ٤٣
- في القطب الشمالي أبحر من خلال متاهة الجزر ووصل إلى المحيط الهادي.
- في القطب الجنوبي وصل إلى القطب الجنوبي ذاته.



(ب) ما أوجه الشبه بين كُل من :

- ١- انهيار الإمبراطوريتين الاستعماريتين البرتغالية والأسبانية . ص ٥٣ و ٥٤
- سوء إدارة المستعمرات - استغلال المستعمرات .
- المعاملة السيئة والقاسية مع السكان الأصليين .
- تنافس الدول الاستعمارية حول المستعمرات (منافسة الهولنديين و الإنجليز للبرتغاليين - منافسة القراصنة الإنجليز و الهولنديين والفرنسيين للأسبان) مما أدى إلى إضعاف قواهم .
- ٢- الاستعمار الفرنسي والاستعمار الإنجليزي . ص ٥٥ و ٥٦ و ٥١
- كلا الدولتين الاستعماريتين استعمروا دولة الهند صاروا المناطق في قارة أمريكا الشمالية.
- كلا الدولتين الاستعماريتين مارسوا النظام الاستعماري العسكري حيث سيطرت فرنسا استخدام الغزو العسكري على الجزائر عام ١٨٣٠م أما إنجلترا سيطرت على مصر عام ١٨٨٢م .
- دخلت الدولتين حرب السنين السبع بسبب الصراع حول المستعمرات .
- استعمروا الدول من خلال التفويض من المنظمات الدولية حيث انتدبت فرنسا كل من سوريا ولبنان و انتدبت بريطانيا كل من فلسطين والأردن .

* لاحظ الصور المقابلة ثم أجب عن الأسئلة التابعة لها :



١- ما اسم صاحب الصورة التي أمامك ؟ ص ٢١

– نيقولا مكيافلي

٢- عدد آرائه السياسية .

– تأييد نظام الحكم المطلق القائم على نظرية "التفويض الإلهي" التي تقول إن الملوك يمثلون الله على الأرض, وأنهم يستمدون سلطتهم منه وليس من الشعوب التي يجب عليها الخضوع التام للملوك.

– إقرار مبدأ (أن الغاية تبرر الوسيلة) بمعنى أن من حق

الحاكم اتخاذ كل وسيلة تحقق استقرار حكمه مما كانت متعارضة

مع الدين أو الأخلاق وأن يعتمد على الحزم ليكون مرهوباً وأن يقيم المشروعات المفيدة للشعب ليكون محبوباً.



١ - ما اسم الحركة التي يدعوا لها صاحب الصورة التي أمامك ؟

– حركة الإصلاح الديني . ص ٢٠

٢- عدد أسباب قيام الحركة التي يدعو لها صاحب الصورة ؟

– جهود الحركة الإنسانية في التنبيه لأهمية إصلاح الكنيسة .

– الرغبة في تحرير حركة التقدم العلمي من قيود الكنيسة.

– اهتمام أوروبا بجوانب الحياة الدنيوية .

– ظهور كثير من المصلحين الذين نادوا بتخليص الكنيسة من مفسدها .



١- ما اسم صاحب الصورة التي أمامك ؟ ص ١٥

– حنا جوتنبرج .

٢- اكتب دورة في قيام النهضة الأوروبية .

– اخترع أحرف الطباعة المعدنية مما أدى إلى سهولة طباعة الكتب

وتداولها ومساهمته في نشر جهود العلماء في مختلف المجالات.



١- ما اسم المستكشف الجغرافي الذي تمثله الصورة التي أمامك ؟

- فاسكو دي جاما

٢- عدد النتائج المترتبة على رحلته الكشفية . ص ٢٩

- حقق أمل البرتغال في كشف طريق مباشر في الوصول إلى الهند خارج ديار المسلمين وكانت أكبر ضربة اقتصادية وجهت للعالم الإسلامي .

- أصبحت البرتغال في مركز متقدم في منطقة المحيط الهندي التجاري




١- ما اسم الفنان الذي رسمهم الصورة التي أمامك ؟ ص ١٩

- ليوناردو دافنشي

٢- عدد الأعمال الأخرى التي قام فيها الفنان الذي رسم الصورة المقابلة.

- رسم لوحة العشاء الأخير كما أطلق عليه عبقرى النهضة وبرع في النحت - العمارة - الهندسة - الرياضيات - العمارة - الأدب والموسيقى والشعر وعلم التشريح.



١- ما اسم الاختراع الذي تمثله الصورة التي أمامك ؟

- آلة يدوية للغزل . ص ٦٣

٢- أكتب الأثر المترتب على الاختراع .

- غزل ثمانية خيوط .



عَرِّف المفاهيم والمصطلحات التالية:

النهضة الأوروبية	حركة التي انطلقت من إيطاليا ثم انتقلت إلى كافة أنحاء أوروبا بهدف إعادة اكتشاف الذات و إعادة إحياء الأمجاد اليونانية والرومانية القديمة في كافة مجالات العلوم والآداب والفنون . ص ١٢
كومونات	تحالف المدن الصغيرة مما يمنحها الاستقلال والقوة السياسية . ص ١٦
الإنسانيين	أدباء عبروا في كتاباتهم الأدبية عن صور الإنسان الذي يتصف بالإبداع والثقة في النفس والمحبة للحياة بجوانبها المشرقة . ص ١٧
الكشوف الجغرافية	الحركة التي قام بها الأوروبيون تعرفوا بها على أراضٍ جديدة لم تكن معروفة لهم من قبل خلال القرنين الخامس عشر والسادس عشر الميلاديين . ص ٢٥
مراجعة نقدية	حاجة الأوروبيين إلى المزيد من الذهب والفضة . ص ٢٥
التفويض الإلهي	نظرية كانت سائدة في أوروبا بالعصور الوسطى وتعني إنّ الملوك يمثلون الله على الأرض . ص ٢١
الكرافيل	سفن عملاقة تميزت بكبر حمولتها واستعمالها لعدد أكبر من الأشرعة وازدياد القدرة على المغامرة وسط المحيطات . ص ٢٦
الاستعمار	سيطرة دولة ما بالاتفاقيات السياسية أو القوة العسكرية أو القوة الاقتصادية أو المال أو التفوق التكنولوجي والعلمي على دولة أو عدة دول وتستغل مواردها وثرواتها لصالحها . ص ٤٩
الاستعمار الأوروبي	استغلال دولة قوية لدولة أخرى ضعيفة بهدف السيطرة على مواردها الاقتصادية أو الانتفاع من موقعها الاستراتيجي أو من قوة الأيدي العاملة . ص ٤٩
الميثاق الاستعماري	نظام وضعته الدول الاستعمارية على المستعمرات فالمستعمرة يجب عليها ألاّ تتاجر مع أي دولة إلاّ البلد المستعمر حيث تدخر له المحاصيل وأن لا تنشئ صناعات منافسة لها وأن تؤمن للمستعمر ما هو ضروري للصناعة كما يفرض النظام على المستعمرات البيع بسعر رخيص . ص ٥٦
الثورة	تغير كبير وسريع في المجتمع كله أو في جانب معين منه . ص ٦١
الثورة الصناعية	عملية تغيير شامل في أدوات الإنتاج ووسائله وحجمه وعلاقاته ومستواه وتبدل كامل في أساليب التمويل والتسويق والتوزيع . ص ٦١





فند أي (خطأ العبارة بالحجة والدليل) :

العبارة خاطئة والدليل على ذلك

- ١- لم يكن للكشوف الجغرافية دوافع اقتصادية. **ص ٢٥**
 - البحث عن التوابل .
 - محاولة تخطي الوساطة التجارية الإسلامية وسيطرتها على طرق التجارة في الوصول إلى منابع التجارة الآسيوية والأفريقية.
 - حاجة الأوروبيون إلى المزيد من الذهب والفضة (مجاعة نقدية) إلى خروج الأوروبيين للبحث مباشرة عن مناجم الذهب والفضة نتيجة الحروب التي عانت منها أوربا في آخر القرن الخامس عشر وترتب عليها حدوث أزمة اقتصادية في أوروبا .
- ٢- لم يكن للثورة الصناعية أي اختراع في مجال الكهرباء . **ص ٦٧**
 - اختراع البطارية الكهربائية . - اختراع الدينامو - اختراع المصباح الكهربائي .
- ٣- اكتفى الإنجليز بإرسال رحلتين للكشوف الجغرافية وهما رحلة هنري هيدسون ورحلة جيمس كوك.
 لم يكتف الإنجليز برحلتين بل أرسلوا عدة رحلات وهي: **ص ٣٧ ، ٣٨**
 ■ الرحلة الأولى : رحلة جون كابوت التي انطلقت من ميناء بريستول وعبر المحيط الأطلسي حتى وصل إلى ساحل أمريكا الشمالية واكتشف جزيرة " نيوفاوند لاند " و " شبه جزيرة " لبرا دور " وصل أيضاً إلى الشاطئ الشرقي لأمريكا الشمالية حتى " فلوريدا " .
 ■ الرحلة الثانية : مارتن فرو بوشير وصل إلى جزيرة " شتلند " ومنها إلى جزيرة " جرينلند " وتمكن من اكتشاف " مضيق هدسن " .
 ■ الرحلة الثالثة : جون ديفيز اتجه إلى جرينلند ووصل إلى " مضيق جلبرت " وأبحر شمال غرب إلى " مضيق ديفز " ثم اتجه شمال " مضيق كمبرلاند " ووصل إلى خط عرض ٧٢ شمالاً .
- ٤- للاستعمار الأوروبي آثار إيجابية فقط على الدول المستعمرة . **ص ٥٧**
 - قامت الدول الاستعمارية باستغلال مستعمراتها واستفادة منها اقتصادياً .
 - ألزام المستعمرات بإنتاج المواد الخام وشراء معظم السلع المصنعة من الدول الحاكمة .
 - فقدت الشعوب المستعمرة القدرة على التحكم في مقدراتها الاقتصادية .
 - فرض الاستعمار ثقافتهم على الشعوب المستعمرة .
- ٤- اقتصر مواهب ليوناردو دافنشي في مجال الرسم . **ص ١٩**
 - النحت - العمارة - الهندسة - الرياضيات - العمارة - الأدب
 - الموسيقى - الشعر - علم التشريح .





دل من التاريخ

١- ساهم المفكرون الأوروبيون في احياء الدراسات اليونانية القديمة . ص ١٥

- تبادل علماء القسطنطينية وإيطاليا الزيارات العلمية بحثاً عن العلوم والفنون الإغريقية والإيطالية .
- تنافس الأمراء والأثرياء في إنشاء المكتبات مما أدى إلى ازدهار مكتبات البندقية وفلورنسا إلى جانب مكتبة الفاتيكان .

- ظهور الأكاديميات العلمية في إيطاليا مما ساعد على إثراء الحركة العلمية .
- جهود أسرة آل مديتشي في فلورنسا وأسرة سوفرزا في ميلانو لرعاية الحركة العلمية والأدبية والفنية
- اختراع أحرف الطباعة المعدنية على يد الألماني "حناجوتنبرج" ١٣٩٦ - ١٤٦٨م أدى إلى سهولة طباعة الكتب وتداولها مما ساهم في نشر جهود العلماء وفي مختلف المجالات .

٢- للاستعمار الأوروبي آثار إيجابية على المستعمرات . ص ٥٧

- حقق المستعمرون شيئاً من التنمية الاقتصادية للمستعمرات . - ادخلوا إليها طرق الزراعة والصناعة والعلوم الطبية الغربية . - ربط المستعمرات بالنظام الاقتصادي الدولي . - أدخلت النظام الديمقراطي بالحكم في هذه المستعمرات .

٣- لعب الأمير هنري الملاح دوراً كبيراً في قيام حركة الكشوف الجغرافية قبل رحلته الكشفية. ص ٢٧

- أنشأ مدرسة بحرية التي اهتمت بتطوير الأدوات التي استخدمت في عملية الكشوف الجغرافية
كالاهتمام برسم الخرائط . - أنشأ مرصداً بحرياً في الطرف الجنوبي لشاطئ البرتغال .
- جلب علماء الرياضيات ورسامي الخرائط و الفلكيين من إيطاليا وصقلية .
- استعان بالمسلمين الذين كان لهم دراية في المجال البحري .



٤- حققت نتائج رحلة فاسكو دي جاما بتحقيق آمال البرتغاليين . ص ٢٩

- حقق أمل البرتغال في كشف طريق مباشر في الوصول إلى الهند خارج ديار المسلمين وكانت أكبر ضربة اقتصادية وجهت للعالم الإسلامي .
- أصبحت البرتغال في مركز متقدم في منطقة المحيط الهندي التجاري .

٥- للكشوف الجغرافية دور في تكوين دول وإمبراطوريات كبرى استعمارية وتأسيس مراكز تجارية ساحلية . ص ٤٥

- أسبانيا : احتلت أمريكا الوسطى وأجزاء مهمة من أمريكا الجنوبية وجزر الفلبين .
- البرتغال : احتلت البرازيل ومراكز تجارية على السواحل الأفريقية وسواحل الهند والخليج العربي .

٦- عانت شعوب أوروبا من الركود والتخلف خلال فترة العصور الوسطى . ص ١١

- هيمنة الكنيسة الكاثوليكية على الناحيتين الروحية والثقافية .
- ظهور النظام الإقطاعي الذي تسبب في تقسيم المجتمع الأوروبي إلى مجتمع طبقي كان على قمته رجال الكنيسة والإقطاعيين والنبلاء والفرسان وفي أسفله كانت طبقة عبيد الأرض التي حرمت من أي حقوق على الرغم من تحملها الكثير من الأعباء والواجبات .
- الصراع الدائم بين البابوية والإمبراطورية خلال تلك الفترة .
- عاش الناس في جهل وتخلف وحرمو من حرية التفكير والبحث العلمي .

٧- ساعدت أوضاع دول الشرق البرتغاليين في تأسيس إمبراطوريتهم واحتكار التجارة . ص ٥٣

- انشغال الدولة العثمانية بحربها مع الصفويين .
- عدم توحيد القوى الإسلامية الكبرى (الدولة العثمانية - الصفوية - المملوكية) .
- تفكك بلاد الهند .
- استخدم البرتغاليون قوة السلاح والبارود والأساطيل الضخمة حيث لم تكن متوفرة لدى شعوب الشرق .

٨- تركت الكشف الجغرافية نتائج عظيمة على الاقتصاد العالمي . ص ٤٥

- تحول طرق التجارة العالمية بين أوروبا وآسيا فقد ضعفت مكانة البحر المتوسط تجارياً.
- تدفقت الثروات من البضائع ومن المعادن الثمينة (الذهب والفضة) على أوروبا مما أدى إلى ارتفاع كبير في أسعار المواد الغذائية فتضررت الفئات العامة والفلاحون بشكل كبير طيلة القرن السادس عشر الميلادي بفعل عدم التوازن ما بين العرض والطلب، واغتنى كبار التجار وازدادت أهمية البنوك ونمت طبقة البرجوازية التجارية.
- نتيجة لتوفير البضائع والمال وازدياد النشاط التجاري الاقتصادي، قامت صناعات جديدة، مما أدى إلى زيادة رؤوس الأموال، ومن هنا ظهرت الحاجة إلى الحصول على مستعمرات لتصريف صناعات الدولة، والحصول على المعادن والمواد الأولية اللازمة للصناعة.
- ظهور البورصات المالية على نطاق عالمي وازدياد نشاط دور المصارف .



١- مراحل نمو المدن الأوروبية . ص ١٦

- تحالف المدن الصغيرة في شكل كومونات Commune مما منحها الاستقلال والقوة السياسية .
- ظهور الطبقة (البرجوازية) الوسطى التي تحالفت مع الملوك لتحطيم النظام الاقطاعي مما أحدث تغييراً كبيراً في ملامح المدن الأوروبية سياسياً واقتصادياً واجتماعياً .
- قيام ثورة ثقافية من خلال إنشاء المدارس في المدن بعيداً عن سيطرة الأديرة .

٢- العوامل الاقتصادية لقيام النظام الاستعماري الأوروبي . ص ٥٠

- رغبة الدول الأوروبية الاستعمارية في الحصول على المواد الأولية والأيدي العاملة الرخيصة لتشغيل المصانع بعد قيام الثورة الصناعية .
- تصريف المنتجات الصناعية الأوروبية في أسواق المستعمرات .
- العمل على استثمار أموالهم في المستعمرات .

٣- العوامل التي ساعدت البرتغاليين في تأسيس الإمبراطورية واحتكار تجارة الشرق . ص ٥٣

- انشغال الدولة العثمانية بحربها مع الصفويين .
- عدم توحيد القوى الإسلامية الكبرى (الدولة العثمانية - الصفوية - المملوكية) .
- تفكك بلاد الهند . / - استخدام البرتغاليون قوة السلاح والبارود والأساطيل الضخمة حيث لم تكن متوفرة لدى شعوب الشرق .

٤- مظاهر الحركة الفنية في عصر النهضة الأوروبية . ص ١٨

- تفجير الطاقات الفنية لدى الفنانين مما جعل الفنون من أبرز معالم الحياة في أوروبا .
- حرص الفنانين على محاكاة الفنون القديمة في الروح والتعبير مع كل تجديد والابتكار والإبداع . / - أصبح الإنسان المحور الرئيسي الذي تدور حوله الأعمال الفنية لتعبر عن قدراته وتقدمه في صورة جميلة مشرقة محبا للحياة قادرا على العطاء والإنتاج في شتى مجالات الحياة .
- وجد الفنانون التشجيع والدعم الفني والمعنوي فأنتجوا أعظم أعمالهم الفنية .
- حُولت المدن الأوروبية إلى متاحف فنية زاخرة بشتى أنواع الإنتاج الفني في مجالات العمارة والنحت والتصوير .

٥- الأسباب الدينية لقيام حركة الكشف الجغرافية . ص ٢٦

- رغبة الدول الأوروبية بنشر المسيحية في المناطق المكتشفة .
- محاولة تطويق العالم الإسلامي . - تقوية الممالك المسيحية .

٦- سمات الاقتصاد الأوروبي قبل قيام الثورة الصناعية . ص ٦١

- كانت الزراعة هي المحور الأساسي للدخل القومي لمعظم دول أوروبا .
- الحركة التجارية مفككة ومحدودة حيث تفتقر الشرايين التي تربطها وسائل المواصلات





أكتب دور الشخصيات

أكتب دور كل من الشخصيات التاريخية التالية مما درست :

حنا جوتنبرج

قام في اكتشاف أحرف الطباعة المعدنية . ص ١٥

مارتن لوثر

قام في حركة الإصلاح الديني حيث علق على باب كنيسة ويتنبرج في ألمانيا ٩٥ حجة ضد أوضاع الكنيسة ومن أبرزه (معارضة فكرة صكوك الغفران / رفض احتكار البابا تفسير الكتاب المقدس ، طلب إنقاص عدد الأديرة / عارض الحج إلى روما / المطالبة بالسماح بزواج الرجال الدين) ص ١٥

نيقولا ماكيافلي

كتب كتابه المشهور باسم الأمير وشرح فيه أصول الحكم وفن السياسة . اشتهر بأرائه السياسية وهي : (- تأييد نظام الحكم المطلق القائم على نظرية التفويض الإلهي / - إقرار مبدأ الغاية تبرر الوسيلة) ص ٢١

الملكة إيزابيلا

وافقت على تمويل مشروع كريستوفر كولومبوس بالذهاب إلى الهند عن طريق الغرب . ص ٣١

تشارلز ويلكز

قطع خلال رحلته مسافة طويلة على طول ساحل قارة أنتاركتيكا وأثبت أنها كتلة ضخمة مقطاة بالثلج ص ٤٣

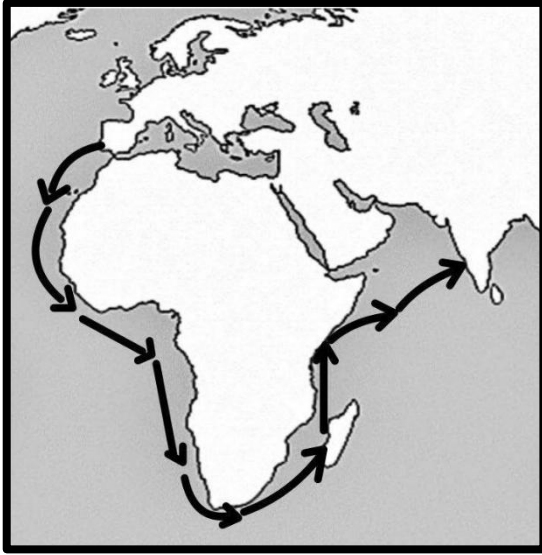
الإخوان رايت

قاموا في تطوير عالم الطيران عن طريق اكتشاف طائرة ذات محرك بنزيني . ص ٦٦



لاحظ الخريطة ثم أجب

أ (لاحظ الخريطة المقابلة ثم أجب عن الأسئلة التالية : ص ٢٩

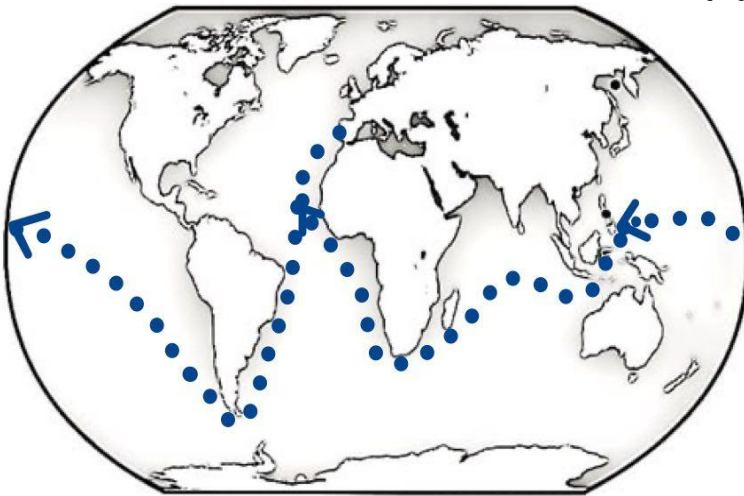


١- أرسم خط سير رحلة " فاسكو دي جاما " على الخريطة المقابلة باستخدام الرمز ←

- ٢- دلل على أهمية رحلة " فاسكو دي جاما " للبرتغال .
- حقق أمل البرتغال في كشف طريق مباشر في الوصول إلى الهند خارج ديار المسلمين وكانت أكبر ضربة اقتصادية وجهت للعالم الإسلامي .
- أصبحت البرتغال في مركز متقدم في منطقة المحيط الهندي التجاري .



ب (لاحظ الخريطة المقابلة ثم أجب عن الأسئلة التالية : ص ٣٥ و ٤٥



١- أرسم خط سير رحلة الكشف الجغرافية الأسبانية الثالثة " ماجلان " على الخريطة المقابلة باستخدام الرمز ←

- ٢- دلل على دور الكشف الجغرافية في نشأت الإمبراطورية الاستعمارية الأسبانية .
احتلت أسبانيا كل من :
- أمريكا الوسطى
- أجزاء مهمة من أمريكا الجنوبية
- جزر الفلبين .