

تم تحميل هذا الملف من موقع ملفات الكويت التعليمية



[com.kwedufiles.www//:https](https://www.kwedufiles.com)

*للحصول على أوراق عمل لجميع الصفوف وجميع المواد اضغط هنا

* للحصول على أوراق عمل لجميع مواد الصف الثامن اضغط هنا

<https://kwedufiles.com/8>

* للحصول على جميع أوراق الصف الثامن في مادة اجتماعيات وجميع الفصول, اضغط هنا

<https://kwedufiles.com/8social>

* للحصول على أوراق عمل لجميع مواد الصف الثامن في مادة اجتماعيات الخاصة بـ الفصل الأول اضغط هنا

<https://www.kwedufiles.com/8social1>

* لتحميل كتب جميع المواد في جميع الفصول للـ الصف الثامن اضغط هنا

<https://www.kwedufiles.com/grade8>

* لتحميل جميع ملفات المدرس منطقة الفروانية التعليمية اضغط هنا

[bot_kwlinks/me.t//:https](https://t.me/bot_kwlinks)

للحصول على جميع روابط الصفوف على تلغرام وفيسبوك من قنوات وصفحات: اضغط هنا

الروابط التالية هي روابط الصف الثامن على مواقع التواصل الاجتماعي

مجموعة الفيسبوك

صفحة الفيسبوك

مجموعة التلغرام

بوت التلغرام

قناة التلغرام

رياضيات على التلغرام





وزارة التربية
الإدارة العامة لمنطقة الفروانية التعليمية
التوجيه الفني للاجتماعيات
إجابة امتحان نهاية الفترة الدراسية الأولى
للف الصف الثامن
الزمن : ساعه ونصف
المجال : دولة الكويت والعالم الاسلامي
العام الدراسي ٢٠١٨ - ٢٠١٩ م
عدد الاوراق : ٦

أجب عن جميع الأسئلة التالية :

السؤال الأول يتكون من (أ - ب - ج - د - هـ) :- (لكل نقطة درجة)

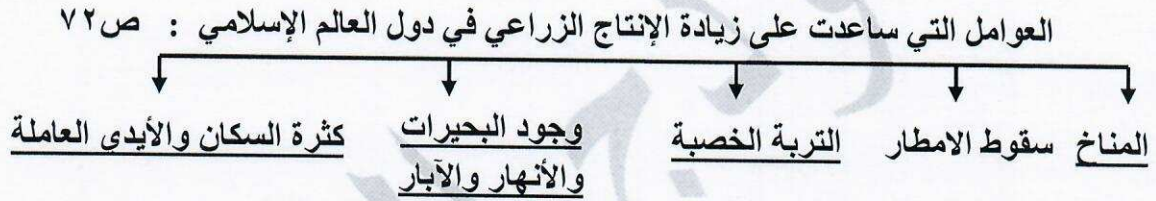
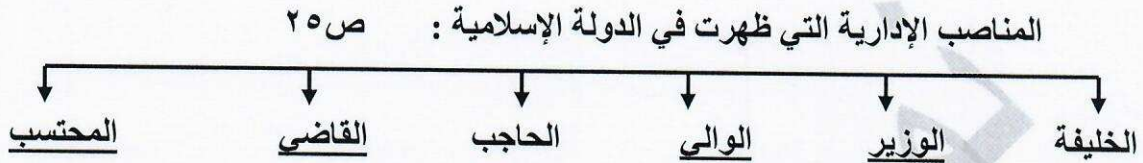
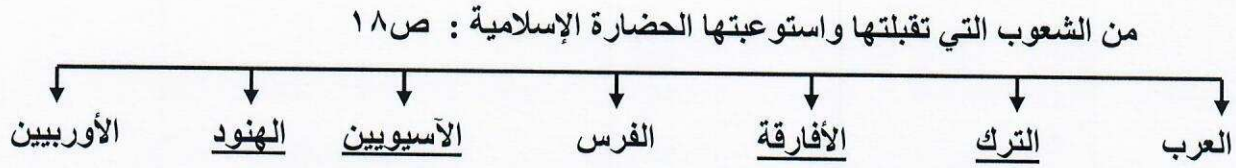
أ- أكمل العبارات التالية بما يناسبها :

- ١- العالم المسلم الذي ألف كتاب (الصيدلة في الطب) اسمه البيروني ص ١٨
- ٢- العام الذي حصل فيه سمو أمير البلاد الشيخ صباح الأحمد الجابر الصباح على لقب قائد العمل الانساني ٢٠١٤ م. ص ٢٤
- ٣- أحد أكبر المساجد في العالم وأولى القبلتين في الإسلام يسمى المسجد الأقصى . ص ٣٣
- ٤- يطلق على النصارى واليهود الذين ظلوا على دينهم مع دفع الجزية اسم أهل الذمة . ص ٣٦
- ٥- مظهر تضاريسي يشبه الجبل ولكن ارتفاعه أقل من ١٠٠٠ متر يسمى التل . ص ٥٣
- ٦- المحاصيل التي تزرع من أجل التصدير تسمى الغلات النقدية . ص ٧٣

ب- اختر من المجموعة (أ) ما يناسبها من المجموعة (ب) وذلك بوضع الرقم المناسب في المكان المناسب:

م	المجموعة (أ)	الرقم المناسب	المجموعة (ب)
١	بيت الحكمة ص ٣٨	<u>٣</u>	تونس
٢	قصر الخضراء ص ٣٤	<u>٤</u>	اسطنبول
٣	جامعة الزيتونة ص ٣٣	<u>١</u>	بغداد
٤	مسجد السلطان أحمد ص ٣٣		عدن
		<u>٢</u>	دمشق

ج- أكمل المخططات السهمية التالية :



د- أختار الإجابة الصحيحة من بين البدائل التي تلي كل عبارة :

١- أول الخلفاء الراشدين : ص ٢٦

أ- علي بن أبي طالب ب- عثمان بن عفان ج- أبو بكر الصديق د- عمر بن الخطاب

٢- يقع مجمع (باي كاليان) أحد المراكز العلمية للحضارة الإسلامية في مدينة: ص ٣٨

أ- بغداد ب- بخارى ج- دمشق د- مراغة

٣- يبلغ عدد الدول الإسلامية في قارة آسيا : ص ٥١

أ- ٢٥ دولة ب- ٢٦ دولة ج- ٢٧ دولة د- ٢٨ دولة

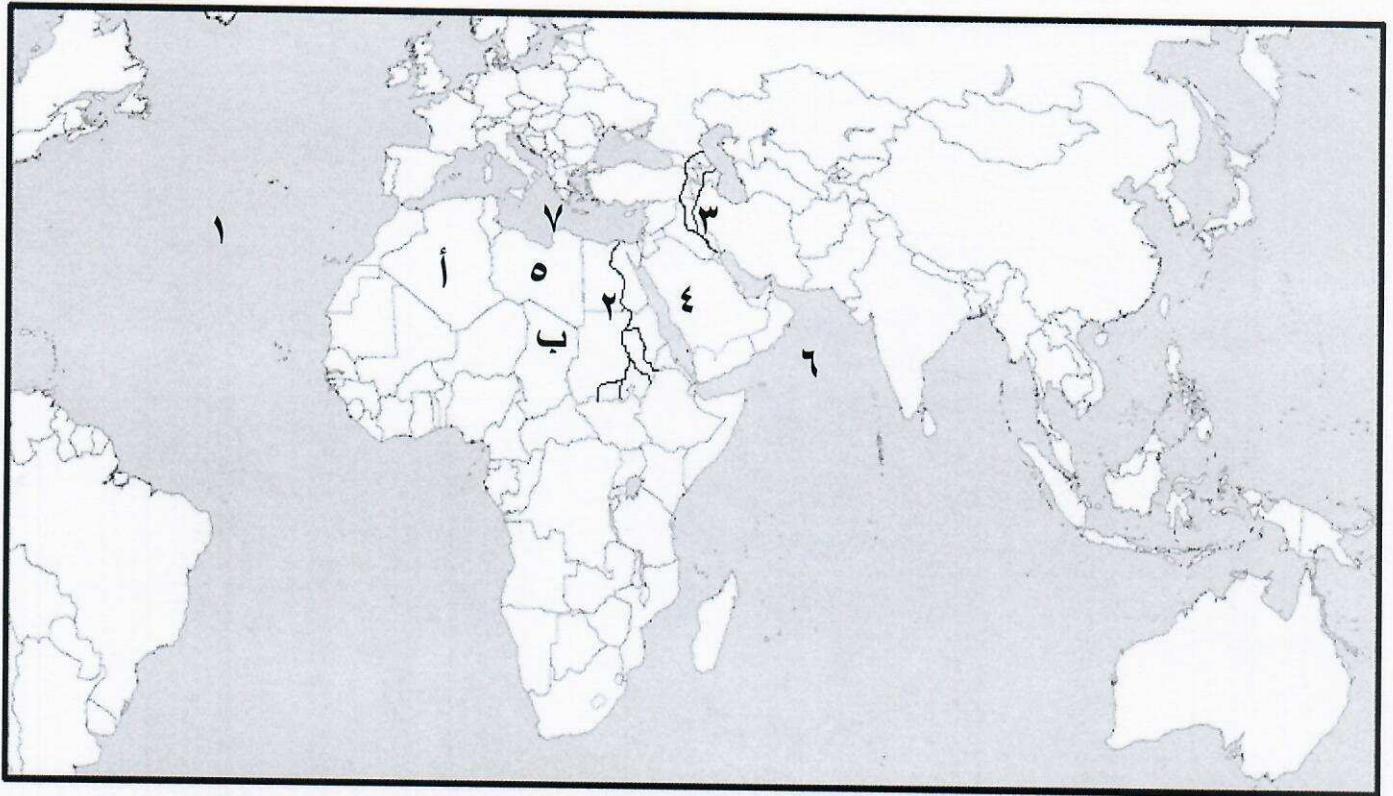
٤- يبلغ انتاج العالم الإسلامي من الغاز الطبيعي من إجمالي الإنتاج العالمي : ص ٦٧

أ- ٣٦% ب- ٣٨% ج- ٣٩% د- ٤٠%

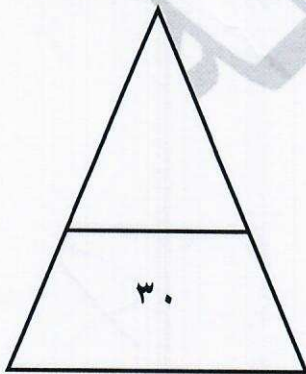
٥- العالم المسلم الذي آمن بكروية الأرض ورسم خريطة تمثلها : ص ٤٢

أ- الكندي ب- الشريف الإدريسي ج- الرازي د- الخوارزمي

هـ لاحظ الخريطة التي أمامك للعالم الإسلامي ثم نفذ ما يلي :



- يقع المسجد النبوي في الدولة التي تحمل رقم ٤ ص ٣٣
- نهر النيل يمثله على الخريطة الرقم ٢ ص ٥٩
- المحيط الأطلسي يمثله على الخريطة الرقم ١ ص ٧٤
- جمهورية تشاد تمثلها على الخريطة الحرف ب ص ٥١
- البحر المتوسط يمثله على الخريطة الرقم ٧ ص ٥٩



السؤال الثاني ويتكون من (أ - ب) :

أ- علل لما يلي :

درجتان (يكتفى بنقطتين)

١- أهمية السهول. ص ٥٨

*تستخدم كموانئ طبيعية * تشييد المدن *تركز السكان فيها لسهولة التنقل

٢- لقيت التجارة تشجيعاً كبيراً في الحضارة الإسلامية. ص ٢٨ درجتان (يكتفى بنقطتين)

*لدورها الكبير في التبادل التجاري مع المناطق المجاورة

*ساهمت التجارة في نشر الدين الإسلامي

*يمتلك موقع العالم الإسلامي الاستراتيجي العديد من الخطوط التجارية البرية والبحرية مما انعكس على ازدهار صادراته و وارداته.

ب- أجب عن الأسئلة الآتية :

١- عدد العوامل التي أدت إلى ازدهار العلم وظهور العلماء في الحضارة الإسلامية. ص ٣٧ درجتان (يكتفى بنقطتين)

*تشجيع العلماء ورعايتهم وتمويل القيادات السياسية لهم من خلفاء وملوك وسلاطين وأمراء.

*التنافس العلمي بين الدول الإسلامية. *الرخاء الاقتصادي.

*حركة التعريب (الترجمة) للكتب القديمة اليونانية والهندية والفارسية وغيرها.

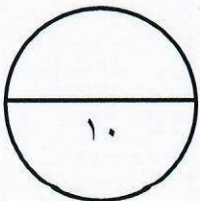
٢- اذكر خصائص الحضارة الإسلامية. ص ٢٢+٢٣ درجتان (يكتفى بنقطتين)

*حضارة تسامح *حضارة إيمان وعمل * حضارة شمولية

*حضارة إنسانية *حضارة عالمية

٣- ما أهم جهود المسلمين في الزراعة ؟ ص ٢٦ درجتان (يكتفى بنقطتين)

*شق القنوات المائية والترع * إقامة السدود * تنظيم وسائل الري



السؤال الثالث ويتكون من (أ - ب - ج) :

أ- فرق بين كل مما يلي : (٤ درجات كل نقطة درجة)

المناخ	الطقس ص ٦٤
هو حالة الجو خلال فترة زمنية طويلة من حيث عناصره وهي درجة الحرارة ، الرطوبة ، الأمطار ، الضغط الجوي .	هو حالة الجو في مكان لمدة قصيرة تتراوح بين يوم أو عدة أيام من حيث درجة الحرارة ، الرطوبة ، الأمطار ، الضغط الجوي .
الوادي	الهضبة ص ٥٣
حوض أو منخفض طبيعي على سطح الأرض.	أرض مرتفعة سطحها مستوٍ وتمتد لمساحة واسعة.

ب- عدد العوامل التي لعبت دوراً هاماً في تنوع المناخ في دول العالم الإسلامي: (درجتان كل

نقطة درجة) ص ٦٣

- ١- امتداد دول العالم الإسلامي على مساحة شاسعة ٣- الإطلالة على مسطحات مائية في معظم أجزائه.
- ٢- تنوع التضاريس من جبال وهضاب وسهول ووديان ٤- الموقع بالنسبة لدوائر العرض. ص ٦٣

ج- اكتب حول كل من :

١- (جهود المسلمين في مجال استخراج المياه الجوفية) ص ٤٣ (درجتان)

* شق القنوات .

* مد المجاري الجوفية تحت الأرض بطريقة هندسية محكمة في غاية الدهشة والإتقان.

* صنعت القنوات من الخزف أو الفخار المتناسك وأحياناً من الحجر.

* توضع في جوانب القنوات أنابيب من الرصاص لتحفظ الماء من كل دنس.

* خير مثال لهذه المجاري الجوفية مدينة مجريط (مدريد حالياً)

٢- (الهدف من بناء الخلفاء القصور كنموذجاً مميزاً للعمارة الإسلامية) ص ٣٤ (درجتان)

* مقراً للحكم * المكان الذي يضم المؤسسات الإدارية كالوزارة و الدواوين .

* أحياناً تكون القصور صحراوية لتنزه الخلفاء .

السؤال الرابع ويتكون من (أ - ب - ج) :

أ- لاحظ الجدول الذي أمامك ثم أجب عما يليه من اسئلة : ص ٧٠ (٣ درجات)

الدولة	نسبة إنتاج اليورانيوم في دول العالم الإسلامي لعام ٢٠١٤ م
كازاخستان	٤١ %
أوزباكستان	٤,٣ %
النيجر	٧,٢ %
باكستان	٠,١ %

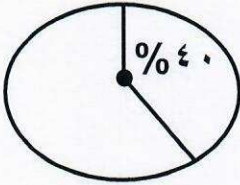
١- استخراج حقيقة من الجدول. (درجة)

(ما يراه المصحح مناسباً)

٢- ما اسم اقل دولة منتجة لليورانيوم حسب الجدول ؟ (درجة)

باكستان

٣- حول نسبة إنتاج (كازاخستان ٤١ %) إلى دائرة بيانية. (درجة)



ب- عرف المفاهيم و المصطلحات التالية : (٣ درجات)

١- الزكاة : ص ٢٨

ركن من أركان الإسلام يخرجها المسلمون الأغنياء للمستحقين من الفقراء وسميت الزكاة لما فيه من تزكية للنفس وتطهيرها.

٢- الجبل : ص ٥٣

هو كل قمة لا يقل ارتفاعها عن ١٠٠٠ متر تقريباً.

٣- احتياطي النفط : ص ٦٨

كمية النفط المخزونة في باطن الأرض ولم تستخرج بعد.

ج- أعط مثاليين حول كل من : (٤ درجات)

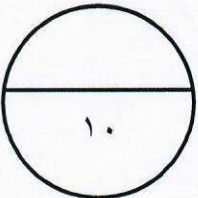
١- أهم الصناعات في الحضارة الإسلامية. ص ٢٧

*صناعة السفن *صناعة الأسلحة * صناعة الورق * صناعة الأدوية

*صناعة المنسوجات * صناعة الخزف والمعادن * الصناعات الخشبية (الأرابيسك)

٢- مميزات المظاهر العمرانية في الحضارة الإسلامية. ص ٣٠

*القباب * المآذن * المنابر * الزخارف * الأسوار





وزارة التربية

امتحان نهاية الفترة الدراسية الأولى

المجال : دولة الكويت والعالم الاسلامي

الادارة العامة لمنطقة الفروانية التعليمية

للفصل الثامن

الزمن : ساعة ونصف

التوجيه الفني للاجتماعيات

العام الدراسي ٢٠١٨ - ٢٠١٩ م

عدد الاوراق : ٦

أجب عن جميع الأسئلة التالية :السؤال الأول يتكون من (أ - ب - ج - د - هـ) :-أ- أكمل العبارات التالية بما يناسبها :

١- العالم المسلم الذي ألف كتاب (الصيدلة في الطب) اسمه

٢- العام الذي حصل فيه سمو أمير البلاد الشيخ صباح الأحمد الجابر الصباح على لقب قائد العمل

الإنساني..... م.

٣- أحد أكبر المساجد في العالم وأولى القبلتين في الإسلام يسمى

٤- يطلق على النصارى واليهود الذين ظلوا على دينهم مع دفع الجزية اسم


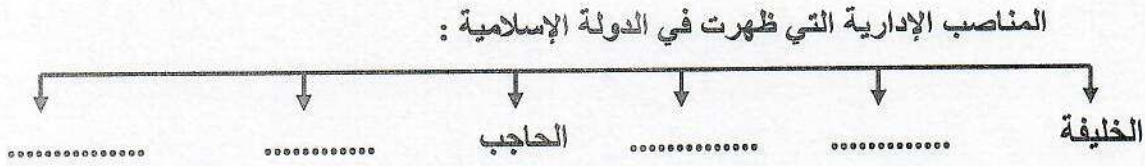
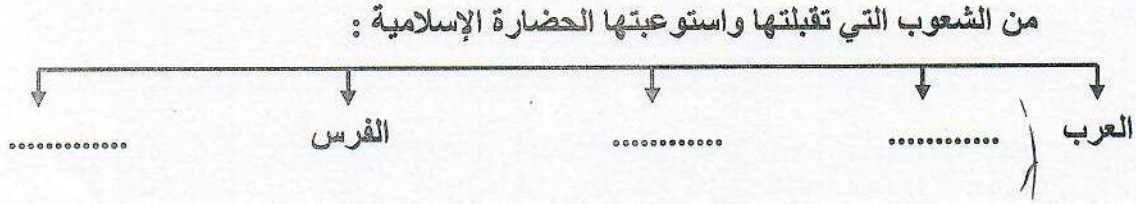
٥- مظهر تضاريسي يشبه الجبل ولكن ارتفاعه أقل من ١٠٠٠ متر يسمى

٦- المحاصيل التي تزرع من أجل التصدير تسمى

ب- اختر من المجموعة (أ) ما يناسبها من المجموعة (ب) وذلك بوضع الرقم المناسب في المكانالمناسب :

م	المجموعة (أ)	الرقم المناسب	المجموعة (ب)
١	بيت الحكمة		تونس
٢	قصر الخضراء		اسطنبول
٣	جامعة الزيتونة		بغداد
٤	مسجد السلطان أحمد		عدن
			دمشق

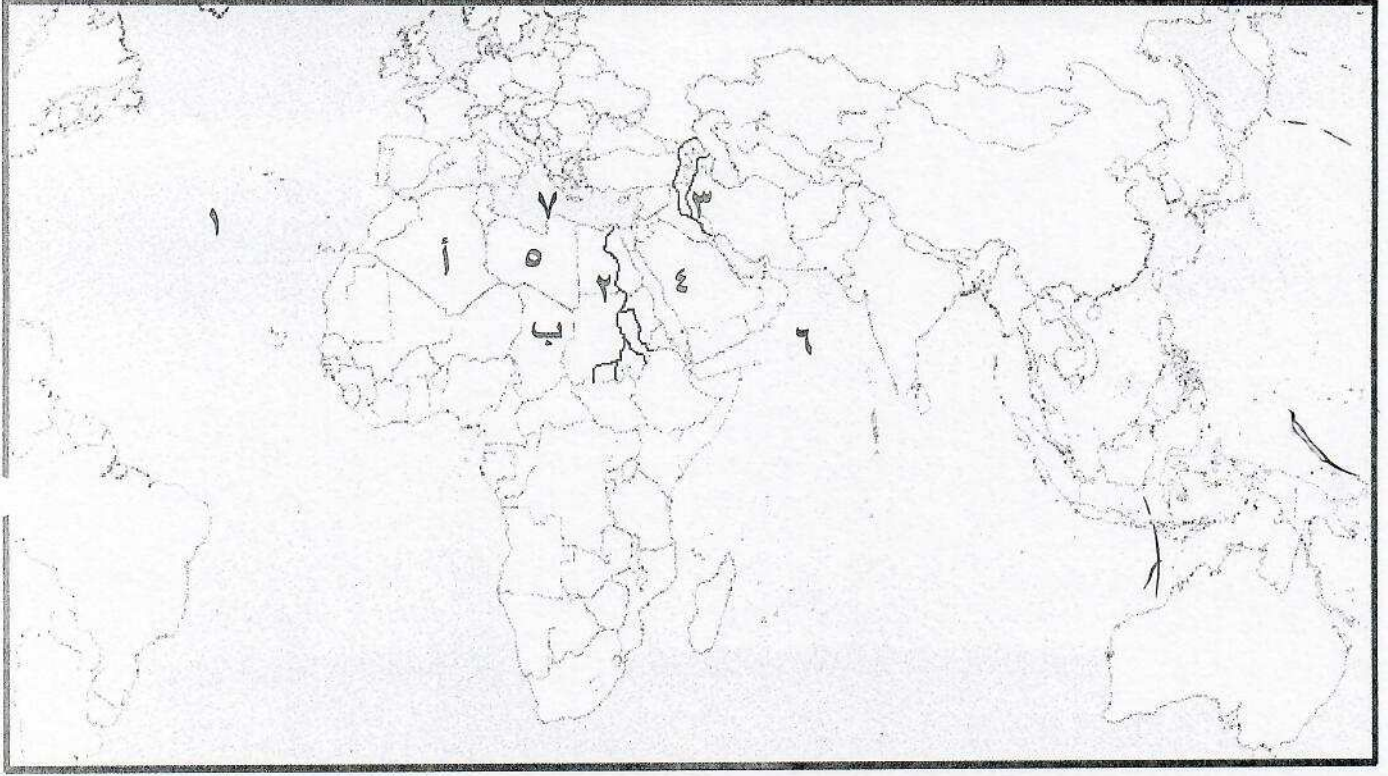
ج- أكمل المخططات السهمية التالية :



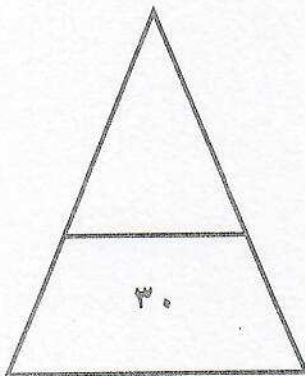
د- أختَر الإجابة الصحيحة من بين البدائل التي تلي كل عبارة :

- ١- أول الخلفاء الراشدين :
أ- علي بن أبي طالب ب- عثمان بن عفان ج- أبو بكر الصديق د- عمر بن الخطاب
- ٢- يقع مجمع (باي كاليان) أحد المراكز العلمية للحضارة الإسلامية في مدينة :
أ- بغداد ب- بخارى ج- دمشق د- مراغة
- ٣- يبلغ عدد الدول الإسلامية في قارة آسيا :
أ- ٢٥ دولة ب- ٢٦ دولة ج- ٢٧ دولة د- ٢٨ دولة
- ٤- يبلغ إنتاج العالم الإسلامي من الغاز الطبيعي من إجمالي الإنتاج العالمي :
أ- ٣٦% ب- ٣٨% ج- ٣٩% د- ٤٠%
- ٥- العالم المسلم الذي آمن بكروية الأرض ورسم خريطة تمثلها :
أ- الكندي ب- الشريف الإدريسي ج- الرازي د- الخوارزمي

هـ- لاحظ الخريطة التي أمامك للعالم الإسلامي ثم نفذ ما يلي :



- يقع المسجد النبوي في الدولة التي تحمل رقم
- نهر النيل يمثله على الخريطة الرقم
- المحيط الأطلسي يمثله على الخريطة الرقم
- جمهورية تشاد تمثلها على الخريطة الحرف
- البحر المتوسط يمثله على الخريطة الرقم



السؤال الثاني ويتكون من (أ - ب) :

أ- علل لما يلي :

١- أهمية السهول .

.....

.....

٢- لقيت التجارة تشجيعاً كبيراً في الحضارة الإسلامية .

.....

.....

ب- أجب عن الأسئلة الآتية :

١- عدد العوامل التي أدت إلى ازدهار العلم وظهور العلماء في الحضارة الإسلامية .

.....

.....

٢- اذكر خصائص الحضارة الإسلامية.

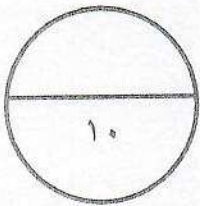
.....

.....

٣- ما أهم جهود المسلمين في الزراعة ؟

.....

.....



السؤال الثالث ويتكون من (أ - ب - ج)

أ- فرق بين كل مما يلي :

المناخ	الطقس
الوادي	الهضبة

ب- عدد العوامل التي لعبت دوراً هاماً في تنوع المناخ في دول العالم الإسلامي :

.....

.....

ج- اكتب حول كل من :

١- (جهود المسلمين في مجال استخراج المياه الجوفية)

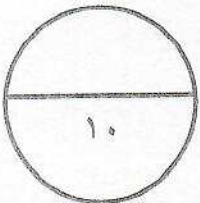
.....

.....

٢- (الهدف من بناء الخلفاء القصور كنموذجاً مميزاً للعمارة الإسلامية)

.....

.....



السؤال الرابع ويتكون من (أ - ب - ج) :

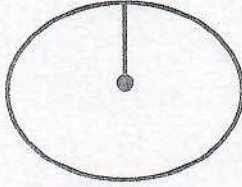
أ- لاحظ الجدول الذي أمامك ثم أجب عما يليه من أسئلة :

الدولة	نسبة إنتاج اليورانيوم في دول العالم الإسلامي لعام ٢٠١٤ م
كازاخستان	٤١ %
أوزباكستان	٤,٣ %
النيجر	٧,٢ %
باكستان	٠,١ %

١- استخرج حقيقة من الجدول .

٢- ما اسم اقل دولة منتجة لليورانيوم حسب الجدول ؟

٣- حول نسبة إنتاج (كازاخستان ٤١ %) الى دائرة بيانية .



ب- عرف المفاهيم و المصطلحات التالية :

١- الزكاة :

٢- الجبل :

٣- احتياطي النفط :

ج- أعط مثالين حول كل من :

١- أهم الصناعات في الحضارة الإسلامية .

٢- مميزات المظاهر العمرانية في الحضارة الإسلامية .