

تم تحميل هذا الملف من موقع المناهج الكويتية



منطقة العاصمة التعليمية

الملف نموذج إجابة منطقة العاصمة

موقع المناهج ← المناهج الكويتية ← الصف السابع ← اجتماعيات ← الفصل الأول

روابط مواقع التواصل الاجتماعي بحسب الصف السابع



روابط مواد الصف السابع على تلغرام

[الرياضيات](#)

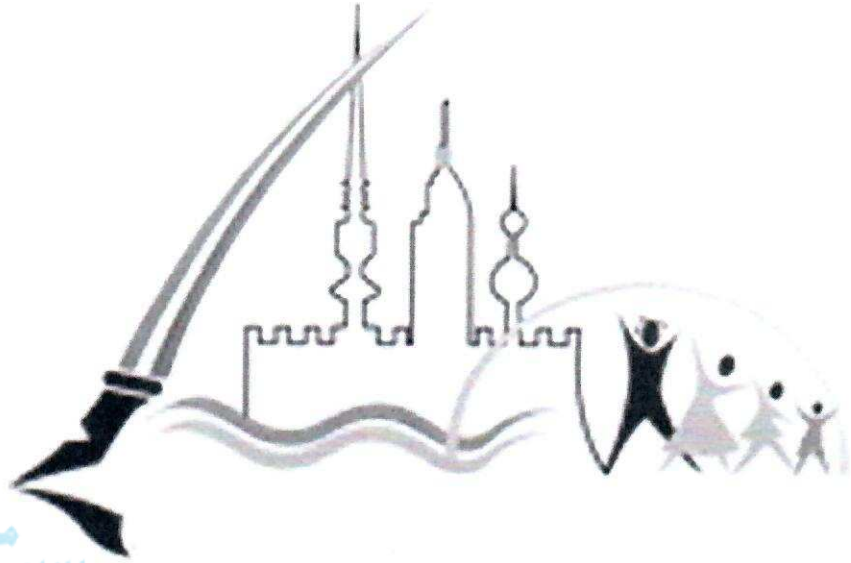
[اللغة الانجليزية](#)

[اللغة العربية](#)

[التربية الاسلامية](#)

المزيد من الملفات بحسب الصف السابع والمادة اجتماعيات في الفصل الأول

كتاب الطالب في مادة الاجتماعيات للعام الدراسي 2018	1
حل الوحدة الاولى في مادة الاجتماعيات	2
تلخيص رائع في مادة الاجتماعيات	3
حل الوحدة الثانية في مادة الاجتماعيات	4
تلخيص ممتاز في مادة الاجتماعيات	5



موقع
المناهج الكويتية
almanahj.com/kw

منطقة العاصمة التعليمية

تم التحميل من شبكة ياكويت التعليمية



Telegram:
ykuwait_net_home

الإجابات النموذجية

أجب عن جميع الأسئلة:السؤال الأول: ويتكون من (أ - ب) :(أ) صنف المظاهر الحضارية التالية وفقاً لحضاراتها في الجدول الذي يليها: (٥ درجات)

(شريعة حمورابي - سد مأرب - الأهرامات - حدائق بابل المعلقة - الكتابة الهيروغليفية)

حضارات جنوب غرب شبه الجزيرة العربية	حضارة بلاد الرافدين	الحضارة المصرية القديمة
- سد مأرب. ص ٨٦	- شريعة حمورابي. ص ٨٤ - حدائق بابل المعلقة. ص ٨٢	- الأهرامات. ص ٧٧ - الكتابة الهيروغليفية. ص ٧٧

(ب) ضع خطأً تحت الخيار الصحيح من بين الخيارات التي تلي كل عبارة: (٥ درجات)

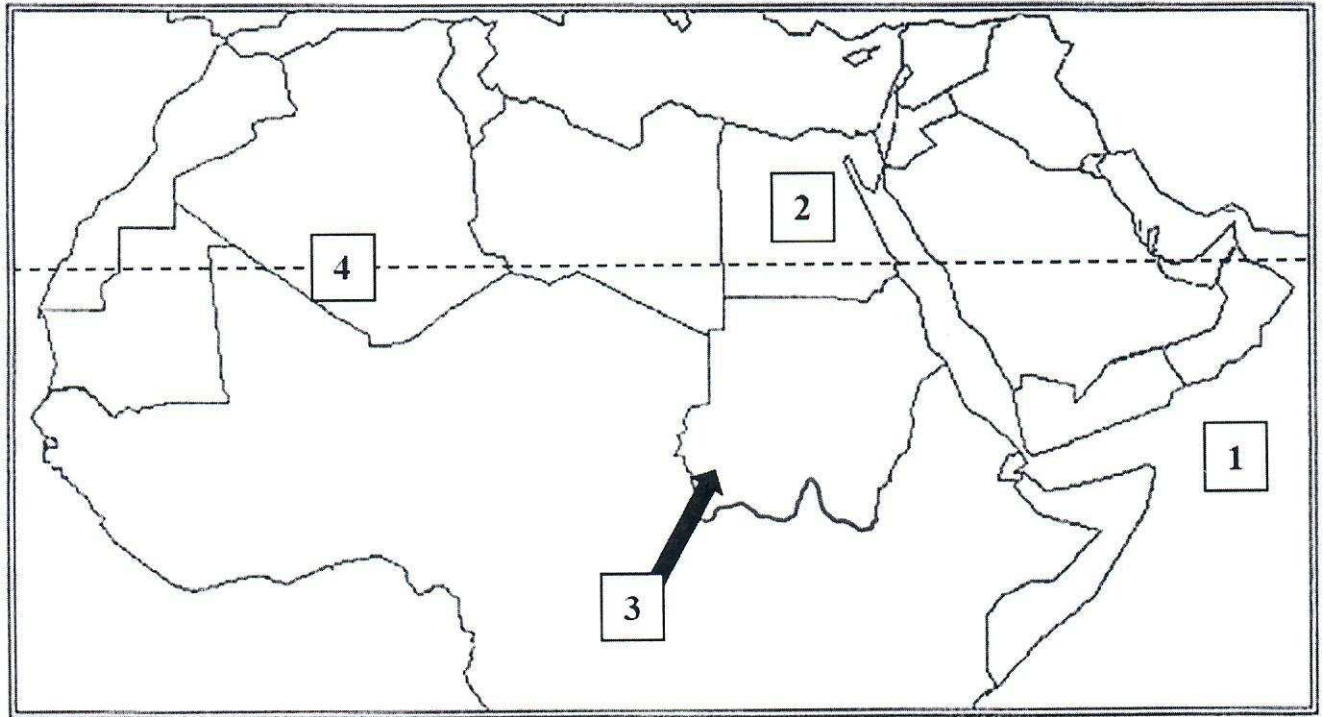
- ١- تتصف أمطار الوطن العربي بأنها قليلة باستثناء سواحل : ص ٥٩
أ- جيبوتي ب- الصومال ج- المغرب د- سوريا
- ٢- من أهم الحيوانات السائدة في المنطقة الصحراوية: ص ٥٥
أ- الأسد ب- الأرنب ج- الفيل د- الدب
- ٣- تكونت السهول الفيضية من التربة التي حملتها مياه: ص ٢٤
أ- الأنهار ب- البحار ج- الأمطار د- الأفلاج
- ٤- يربط مضيق هرمز بين الخليج العربي وخليج: ص ٢٨
أ- العقبة ب- عدن ج- السويس د- عمان
- ٥- الجبل الذي يقع في دولة ليبيا: ص ٣٨
أ- قاسيون ب- عسير ج- الأخضر د- أطلس

السؤال الثاني: ويتكون من (أ - ب):

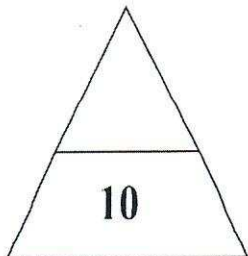
(أ) صحح ما تحته خط في العبارات التالية بكتابة الإجابة الصحيحة في مكانها المناسب بالجدول: (٦ درجات)

م	العبرة	التصحيح
١	نزلت الديانة اليهودية على سيدنا موسى - عليه السلام - وكتابها الإنجيل. ص ٩٠	التوراة
٢	يحد الوطن العربي من ناحية الشمال تركيا والبحر الأحمر. ص ٣٤	المتوسط
٣	المدينة التي اتخذتها جمهورية جزر القمر عاصمة لها اسمها دار السلام. ص ٢٣	موروني
٤	تقل درجة الحرارة في فصل الشتاء بالوطن العربي كلما اتجهنا شرقاً. ص ٩٩	شمالاً
٥	تنافست الدول الاستعمارية للاستيلاء على الوطن العربي منذ القرن التاسع عشر ميلادي. ص ٣٥	الثامن عشر
٦	النهر الذي يمر في جمهورية مصر العربية اسمه الشليف. ص ٥٨	النيل

(ب) لاحظ خريطة الوطن العربي التي أمامك ثم استعن بالأرقام التي عليها لإكمال العبارات التالية: (٤ درجات)



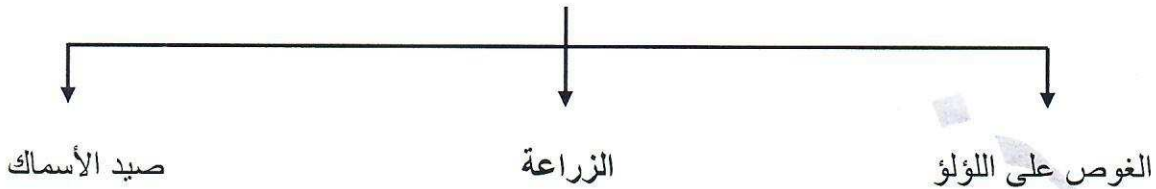
- يمثل الرقم (١) مسطحاً مائياً يسمى بحر العرب. ص ٢٨
- يمثل الرقم (٢) حضارة تسمى المصرية القديمة. ص ٧١
- يمثل الرقم (٣) رياحاً تسمى الهبوب. ص ٤٨
- يمثل الرقم (٤) مداراً يسمى السرطان. ص ٣١



السؤال الثالث: ويتكون من (أ - ب):

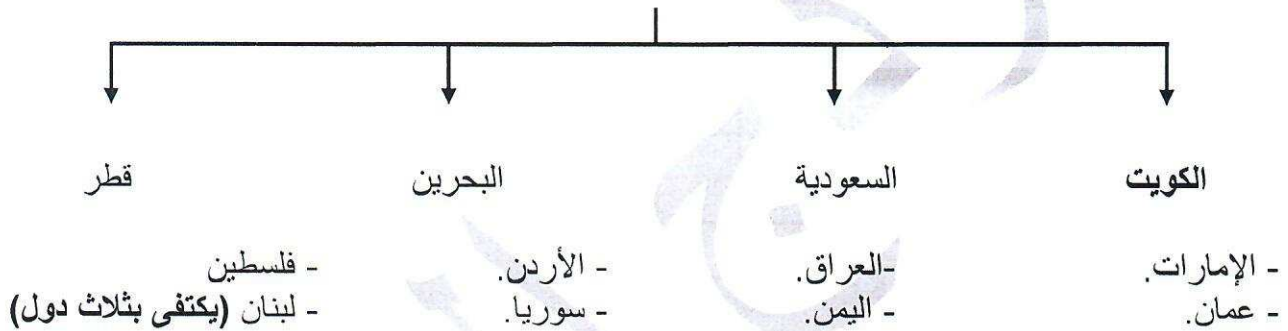
(أ) أكمل المخططات السهمية التالية: (٥ درجات)

أنشطة السكان الاقتصادية في حضارة دلمون ص ٨٨



موقع
المناهج الكويتية
almanahj.com/kw

دول عربية آسيوية ص ٢٣



(ب) اكتب المفاهيم أو المصطلحات الدالة على العبارات التالية بين القوسين: (٥ درجات)

- ١- (الحضارة) كل ما يطرأ على المجتمع من تقدم ورقي في جميع نواحي الحياة الدينية والسياسية والاقتصادية والاجتماعية والفكرية. ص ٧١
- ٢- (المناخ) حالة الجو خلال فترة زمنية طويلة من حيث درجة الحرارة والرطوبة والأمطار والرياح. ص ٤٤
- ٣- (النبات الطبيعي) النبات الذي ينمو تلقائياً عقب سقوط المطر دون تدخل من الإنسان. ص ٥١
- ٤- (الجبل) كل ما ارتفع من الأرض وله قمة لا يقل ارتفاعها عن ٣٠٠ متر للمتوسط ٣٠٠ متر للتعليمية
- ٥- (المياه الجوفية) المياه التي توجد في جوف الأرض (باطن الأرض). ص ١٠



السؤال الرابع: ويتكون من (أ - ب - ج):

(أ) لاحظ الشكل المقابل ثم أجب عن الأسئلة التالية: (ص ٨٣) (٣ درجات)



(١) ما الاسم الذي يطلق على هذا النوع من الكتابة؟
- الكتابة المسمارية.

(٢) اذكر اسم الحضارة التي ظهرت فيها هذه الكتابة؟
- حضارة بلاد الرافدين (أو الحضارة السومرية).

(٣) كم يبلغ عدد حروف هذه الكتابة؟
- ٦٠٠ حرف.

(ب) فرق بين كل مما يلي من حيث التعريف: (٤ درجات)

القناة	المضيق
مجرى مائي صناعي ضيق يشق لأغراض الري أو النقل. ص ٢٨	ممر مائي ضيق يصل بين بحرين أو محيطين أو أي مساحتين كبيرتين نسبياً من الماء. ص ٢٨
الموقع النسبي	الموقع الفلكي
موقع الدولة بالنسبة لليابس والماء. ص ٣٣	هو نقطة من الكرة الأرضية يتحدد موقعها بخطوط الطول ودوائر العرض. ص ٣١

(ج) عدد العوامل التي تؤثر في مناخ الوطن العربي. ص ٦٤ (٣ درجات) (يكتفى بثلاث نقاط)

- الموقع بالنسبة لدوائر العرض.
- القرب أو البعد عن المسطحات المائية.
- التضاريس.
- الرياح.

السؤال الخامس: ويتكون من (أ - ب - ج):

(أ) ما هي مقترحاتك للمحافظة على الثروة المائية؟ (ص ٦٣) (٣ درجات) (يكتفى بثلاث نقاط)

- ترشيد استخدام المياه والحد من التبذير في المنازل.
- الحد من هدر المياه في عمليات الري وذلك باستخدام الوسائل الحديثة كالرش بالتنقيط والمحوري.
- تنظيم عملية الاستفادة من المياه الجوفية ومنع تسرب الأملاح الملوثة إليها واستثمارها على الوجه الأمثل.
- تطوير استعمال الصرف الصحي المعالجة في الزراعة.
- إقامة البحيرات والسدود لتجميع مياه الأمطار والسيول للاستفادة منها في فصل الجفاف.
- توقيع اتفاقيات مع الدول المشاركة ودول المنبع لتحقيق مصالح الدول العربية المعنية.
- (وما يراه المصحح مناسباً)



(ب) علل لما يلي: (٣ درجات)

- ١- إنشاء محطة الشويخ عام ١٩٥٣م في دولة الكويت. ص ٦١
- لتحلية مياه البحر.
- ٢- يتمتع الوطن العربي بمكانة روحية مقدسة. ص ٩٠
- لأنه مهد الديانات السماوية الثلاث.
- ٣- حرص المصريون القدماء على تحنيط جثث موتاهم. ص ٧٦
- لأنهم اعتقدوا أن الحياة تعود إلى الجسم بعد الموت أي أنهم اعتقدوا في " البعث والخلود ".

(ج) عدد لكل مما يلي: (٤ درجات)

- ١- مقومات الهوية العربية. ص ٢٦ (يكتفى بنقطتين)
 - وحدة الدين.
 - اللغة.
 - التراث.
 - الأهداف المشتركة.
- ٢- العوامل التي ساعدت على ازدهار الزراعة في بلاد الرافدين. (ص ٨١) (يكتفى بنقطتين)
 - خصوبة التربة.
 - سعة السهول.
 - وفرة المياه.

السؤال السادس: ويتكون من (أ - ب - ج):

(أ) اقرأ الفقرة التالية ثم أجب عن الأسئلة التي تليها: (٣ درجات)

" تعد الهضاب أكثر الأشكال التضاريسية انتشاراً في الوطن العربي، إذ تشغل مساحات واسعة تمتد من أقصى الشرق إلى أقصى الغرب، فهي تغطي بذلك معظم أرجاء الوطن العربي الكبير. ومن أشهر هذه الهضاب هضبة نجد وهضبة الشطوط وهضبة بادية الشام . ص ٤٠

١- عرف ما تحته خط.

تم التحميل من شبكة ياكويت التعليمية



Telegram:
ykuwait_net_home

- أراضي مرتفعة، سطحها مستو، وتمتد على مساحة كبيرة.

٢- استخرج من الفقرة اسم الهضبة التي تقع في كل من:

- المملكة العربية السعودية: هضبة نجد.

- الجمهورية الجزائرية: هضبة الشطوط.

(ب) قارن بين كل مما يلي بالاستعانة بالجدول التالي: (٤ درجات)

أوجه المقارنة	الغابات المدارية الحارة ص ٥٢	الغابات المعتدلة ص ٥٢
مميزات الحياة النباتية	- تمتاز بضخامة أشجارها وجذوعها. - تشابك أغصانها. - أوراقها عريضة. - ارتفاعها الكبير. (يكتفى بنقطة)	- تنسم بعدم كثافتها. - بعضها يكون دائم الخضرة - بعضها الآخر تتساقط أوراقه في الشتاء. (يكتفى بنقطة)
أهم أشجارها	- الساج. - الماهوجني. - التاك - الأبنوس. - السدر. - الأثل. - السنط. (يكتفى بنقطة)	- الأرز. - العرعر. - الصنوبر الحلبي. - البلوط. - السنديان. - الزيتون. - التفاح. - الحمضيات - الفواكه البرية. (يكتفى بنقطة)

(ج) اذكر ثلاثة من المقومات الأساسية لقيام الحضارة. (ص ٧٣) (٣ درجات) (يكتفى بثلاث نقاط)

- الموقع الاستراتيجي.
- توافر مصادر المياه العذبة.
- اعتدال المناخ.
- توافر الثروات الطبيعية.
- توافر العنصر البشري.