

تم تحميل هذا الملف من موقع المناهج الكويتية



منطقة الفروانية التعليمية

الملف أسئلة الاختبار النهائي لمنطقة الفروانية التعليمية

موقع المناهج ← ملفات الكويت التعليمية ← الصف السادس ← اجتماعيات ← الفصل الأول

روابط مواقع التواصل الاجتماعي بحسب الصف السادس



روابط مواد الصف السادس على تلغرام

[الرياضيات](#)

[اللغة الانجليزية](#)

[اللغة العربية](#)

[التربية الاسلامية](#)

المزيد من الملفات بحسب الصف السادس والمادة اجتماعيات في الفصل الأول

نموذج اجابة اختبار لمنطقة مبارك الكبير عام 2016	1
اوراق عمل مهمة في مادة الاجتماعيات	2
بنك اسئلة ممتاز في مادة الاجتماعيات	3
بنك معلومات مهم في مادة الاجتماعيات	4
تلخيص اجتماعيات بشكل مبسط	5



وزارة التربية
الإدارة العامة لمنطقة الفروانية التعليمية
التوجيه الفني للاجتماعيات

العام الدراسي : ٢٠٢٥ / ٢٠٢٦ م
الزمن : ساعة و خمسة أربعون
عدد الأوراق : (٦)

امتحان الفترة الدراسية الأولى
لمقرر الكويت والعالم الإسلامي
للصف الثامن المتوسط

اجب عن جميع الأسئلة

السؤال الأول (موضوعي) يتكون من (أ - ب - ج - د - ه - و) :

(أ) ظلل الخيار الصحيح من بين الخيارات التي تلي كل عبارة :

١- العام الذي تم فيه إدخال اللغة العربية ضمن اللغات الرسمية في هيئة الأمم المتحدة :

١٩٧١م	١٩٧٢م	١٩٧٣م	١٩٧٤م
-------	-------	-------	-------

٢- المدينة التي عرف منها المسلمون صناعة الورق الرخيص :

دمشق	الفسطاط	اليمامة	سمرقند
------	---------	---------	--------

٣- القارة التي تقع فيها هضبة الصحراء الكبرى :

آسيا	أفريقيا	أستراليا	أوروبا
------	---------	----------	--------

٤- الصورة المقابلة تشير إلى نوع من أنواع المزروعات :

الأرز	الشعير
الذرة	القمح

٥- الدولة الإسلامية التي تحتل المركز الثاني على مستوى العالم في الإنتاج البحري لعام ٢٠١٤ م :

باكستان	عمان	إندونيسيا	المغرب
---------	------	-----------	--------

(ب) صنّف أسماء علماء المسلمين حسب ما هو موضح في الجدول :

(البيروني - جابر بن حيان - الخوارزمي - ابن سينا - الشريف الإدريسي)

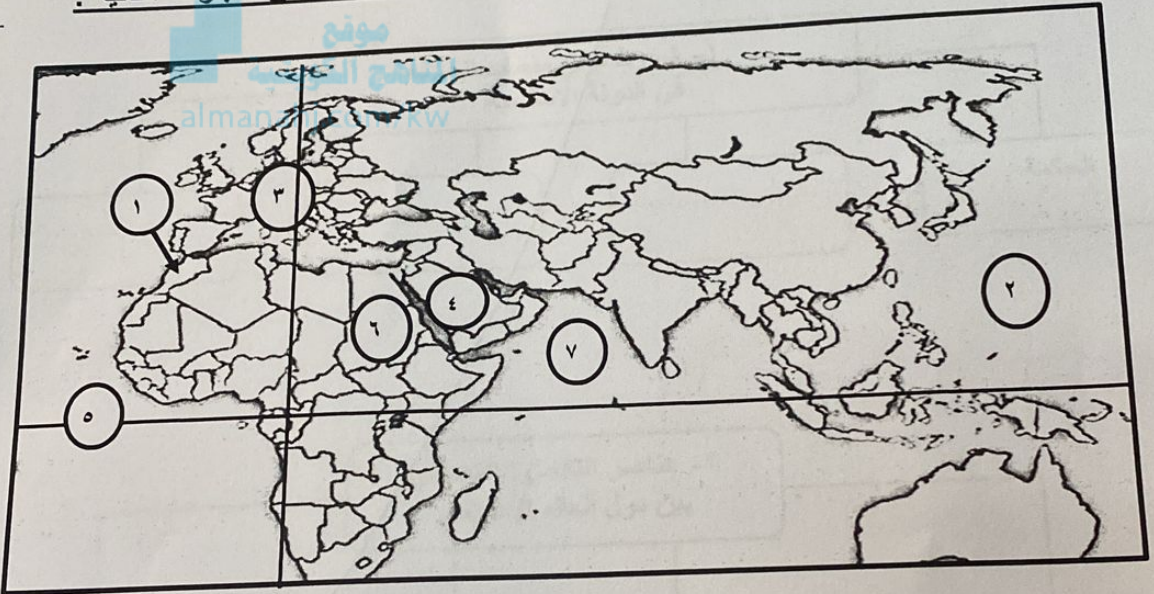
الجبر و المقابلة	القانون المسعودي	أسرار الكيمياء	رسم خريطة العالم	القانون في الطب
.....-----

تابع السؤال الأول (موضوعي) :

(ج) صحح ما تحته خط بكتابة الإجابة الصحيحة بين القوسين :

- ١- المدينة التي انطلقت منها الدعوة الإسلامية تسمى المدينة المنورة. (.....)
- ٢- الخاصية الحضارية التي تشير إليها الآية الكريمة «وَكَذَلِكَ جَعَلْنَاكُمْ أُمَّةً وَسَطًا» تسمى متطورة. (.....)
- ٣- العام الذي حدثت فيه معركة ذات الصواري البحرية ٢٤هـ. (.....)
- ٤- الدولة التي تشتهر سهولها بإنتاج محصول الفول السوداني تسمى جمهورية السودان. (.....)
- ٥- النسبة المئوية لإنتاج العالم الإسلامي من إجمالي الغاز الطبيعي في العالم نحو ٢٦%. (.....)

(د) لاحظ خريطة العالم الإسلامي الصماء التي أمامك ثم اكتب الرقم الدال على العبارات التالية :

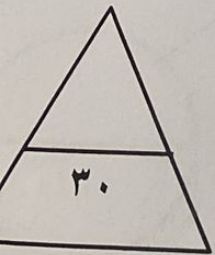
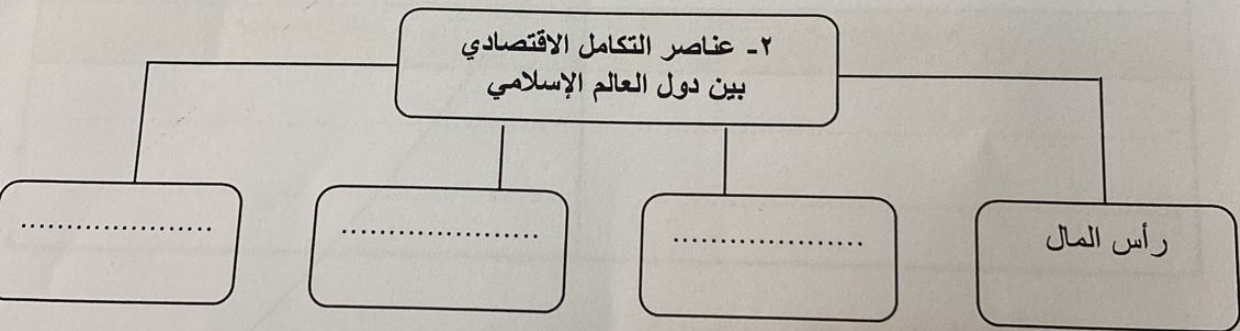
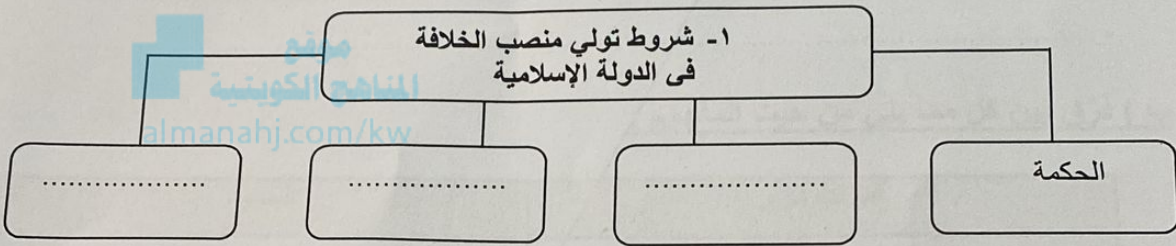


- ١- المغرب يمثله على الخريطة الرقم. ()
- ٢- المحيط الهندي يمثله على الخريطة الرقم. ()
- ٣- هضبة نجد يمثله على الخريطة الرقم. ()
- ٤- السودان يمثله على الخريطة الرقم. ()
- ٥- خط الاستواء يمثله على الخريطة الرقم. ()

تابع السؤال الأول (موضوعي) :
هـ) اختر من القائمة (ب) ما يناسبها من القائمة (أ) وذلك بوضع الرقم المناسب في المكان الصحيح :

القائمة (أ)	الرقم المناسب	القائمة (ب)
١- دولة الخلافة الراشدة.	إسطنبول.
٢- الدولة الاموية	بغداد.
٣- الدولة العباسية	المدينة المنورة والكوفة.
٤- الدولة العثمانية	دمشق.

و) أكمل المخططات السهمية التالية بما يناسبها :



السؤال الثاني (مقال) يتكون من (١ - ب - ج) :
ا) اقرأ الفقرة التالية ثم أجب عما يليها من أسئلة :

تحتل الحضارة الإسلامية مكانة رفيعة بين كبرى الحضارات التي عرفها التاريخ ، فهي من أطولها عمراً ، وأعمقها أثراً في مسيرة البشرية ، وللحضارة الإسلامية جوانب روحية وجوانب مادية. وقامت الحضارة الإسلامية على أسس قوية وثابتة، فانطلقت منها نحو الازدهار والرقى.

١- عرّف ما تحته خط.

٢- استخرج من الفقرة جانب من جوانب الحضارة الإسلامية.

٣- اذكر أسس قيام الحضارة الإسلامية.

موقع
المنهج الكويتية
almanahj.com/kw

ب) فرّق بين كل مما يلي من حيث المفهوم :

السدود	قنوات الري
.....
.....
سهول ساحلية	سهول فيضيه
.....
.....

ج) نفّذ ما هو مطلوب فيما بين القوسين :

١- زيادة الإنتاج الزراعي في دول العالم الإسلامي. (العوامل)

.....
.....

السؤال الثالث (مقال) يتكون من (أ - ب - ج) :

أ) عدّد اثنين لكل مما يلي :

١- عوامل ازدهار الحضارة الإسلامية .

.....
.....

٢- خصائص موقع دول العالم الإسلامي .

.....
.....

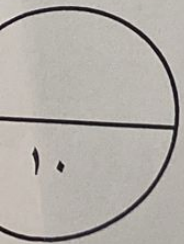
ب) قارن بين كل مما يلي :

معدن الفوسفات	معدن اليورانيوم	المقارنة
.....	الدولة الأولى في الإنتاج
.....	أهم الصناعات

ج) عزّف ما يلي :

١- بيت مال المسلمين :

٢- المعدن :



السؤال الرابع (مقال) يتكون من (أ - ب - ج) :

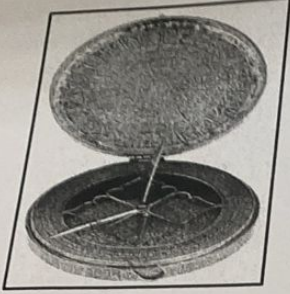
١- لاحظ الصورة التي أمامك ثم أجب عن الأسئلة المقابلة لها :

١- ما اسم هذه الأداة؟

٢- ما المقصود بها؟

٣- كيف طور المسلمون هذه الأداة؟

٤- لماذا تعتبر هذه الأداة ذات أهمية في انتعاش الحركة التجارية؟



موقع
المنهج الكويتية
almanahj.com/kw

ب) عّلل لما يلي :

١- يقل تركيز السكان في الجبال.

٢- تنوع الأقاليم المناخية في دول العالم الإسلامي.

ج) اكتب عن :

١- تطوير قطاع الثروة الرعوية في دول العالم الإسلامي.

انتهت الأسئلة ،،،