

تم تحميل هذا الملف من موقع المناهج الكويتية



أحمد هدره

الملف خرائط تتعلق بالعالم الإسلامي وجمهورية كازاخستان ودولة الكويت

موقع المناهج ← المناهج الكويتية ← الصف الثامن ← اجتماعيات ← الفصل الثاني

روابط مواقع التواصل الاجتماعي بحسب الصف الثامن



روابط مواد الصف الثامن على تلغرام

الرياضيات	اللغة الانجليزية	اللغة العربية	التربية الاسلامية
---------------------------	----------------------------------	-------------------------------	-----------------------------------

المزيد من الملفات بحسب الصف الثامن والمادة اجتماعيات في الفصل الثاني

تلخيص	1
امتحان دولة الكويت والعالم الاسلامي	2
حل التقويم لمادة الاجتماعيات	3
نموذج اجابة اختبار في مادة الاجتماعيات لنهاية الفترة الدراسية الثانية	4
نموذج الاجابة لامتحان الاجتماعيات فرواتية	5

الفترة الدراسية الثانية 2024م / 2025م

إجتماعيات

الثامن

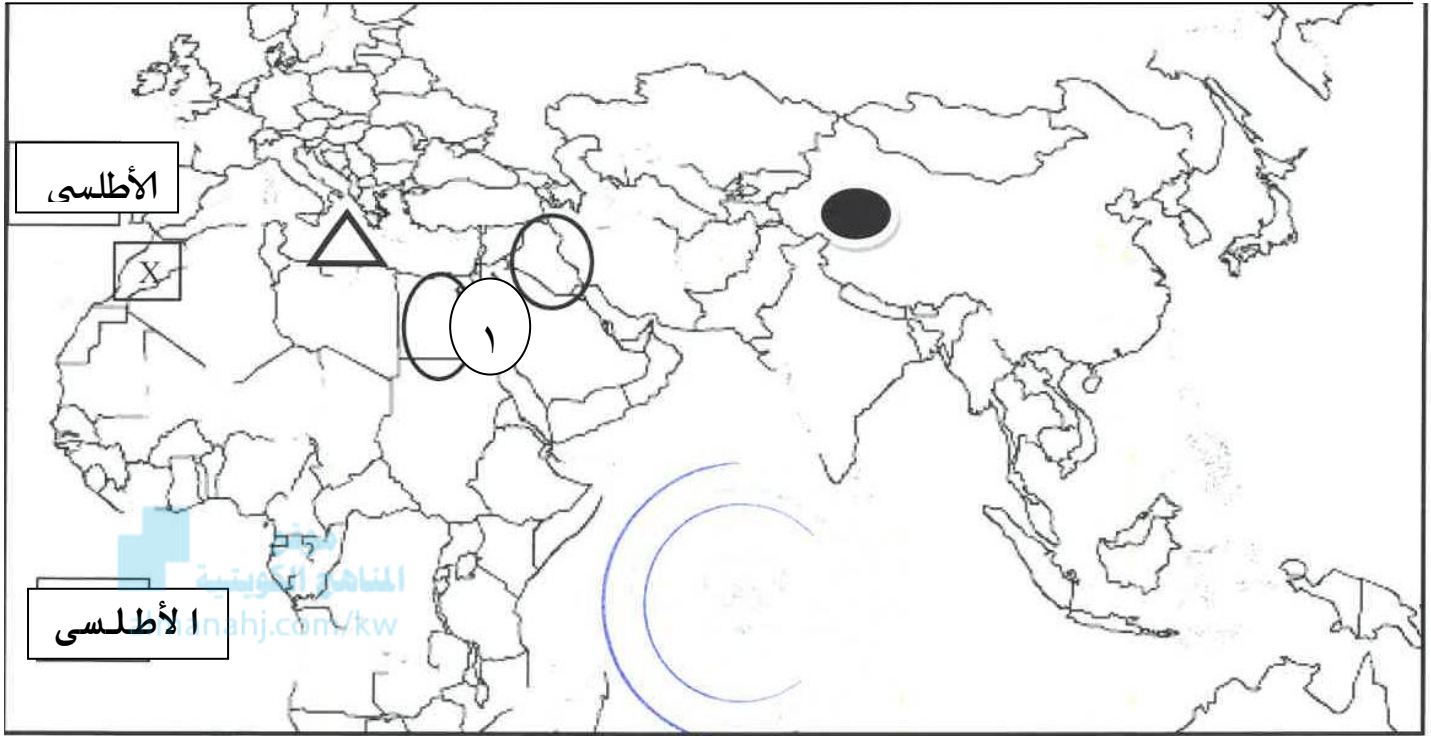
موقع
المنهج الكويتية
almanahj.com/kw

الخزائن

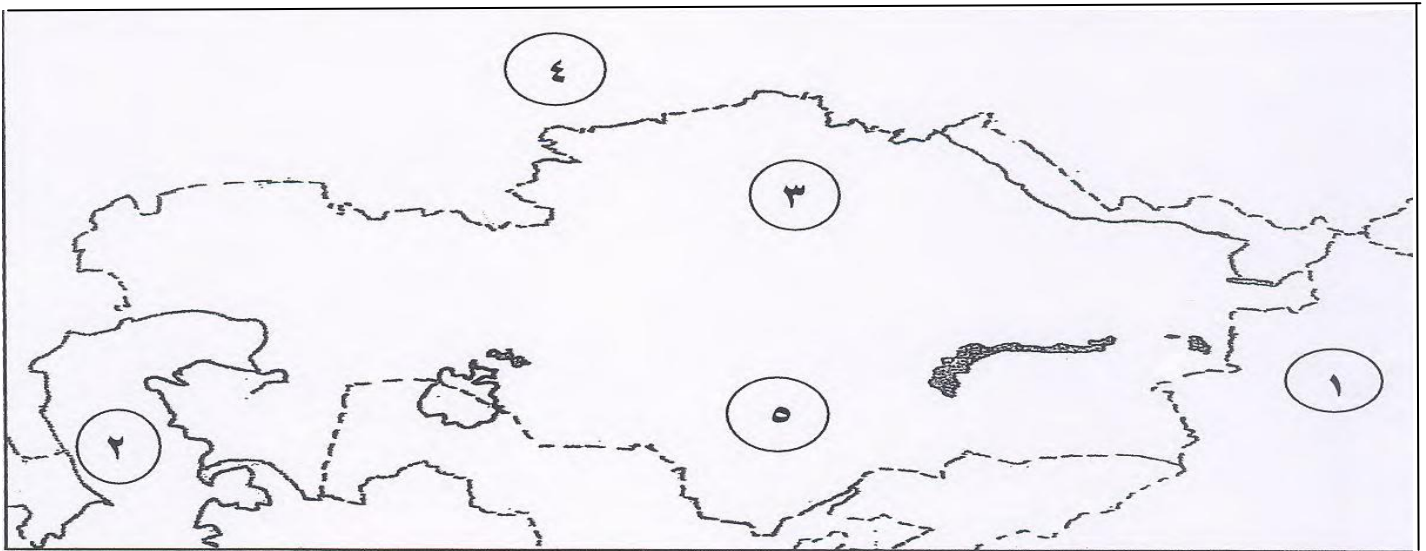
Ahmed Hdara
Philosophy & psychology

AHMED:HDARA

س : لاحظ خريطة العالم الإسلامي الصماء ثم أجب عن الأسئلة التي تليها



- ✦ ضع الرمز X على الدولة الإسلامية التي تم الإعلان فيها عن نشأة منظمة التعاون الإسلامي
 - ✦ ضع الرمز ○ على الدولة التي قامت بإحتلال دولة الكويت عام ١٩٩٠ م
 - ✦ الرقم ١ يشير إلى دولة عربية تعتبر نموذجا للتلوث الضوضائي في العالم الإسلامي
 - ✦ حدد إقليم شينجيانغ أوريغور الذي يضم أقليات إسلامية في جمهورية الصين الشعبية
 - ✦ حدد موقع البحر الأبيض المتوسط وضع عليه الرمز △
 - ✦ أكتب اسم المحيط الأطلسي على الخريطة في موقعه الصحيح
- س : لاحظ خريطة جمهورية كازاخستان الصماء ثم نفذ المطلوب عليها

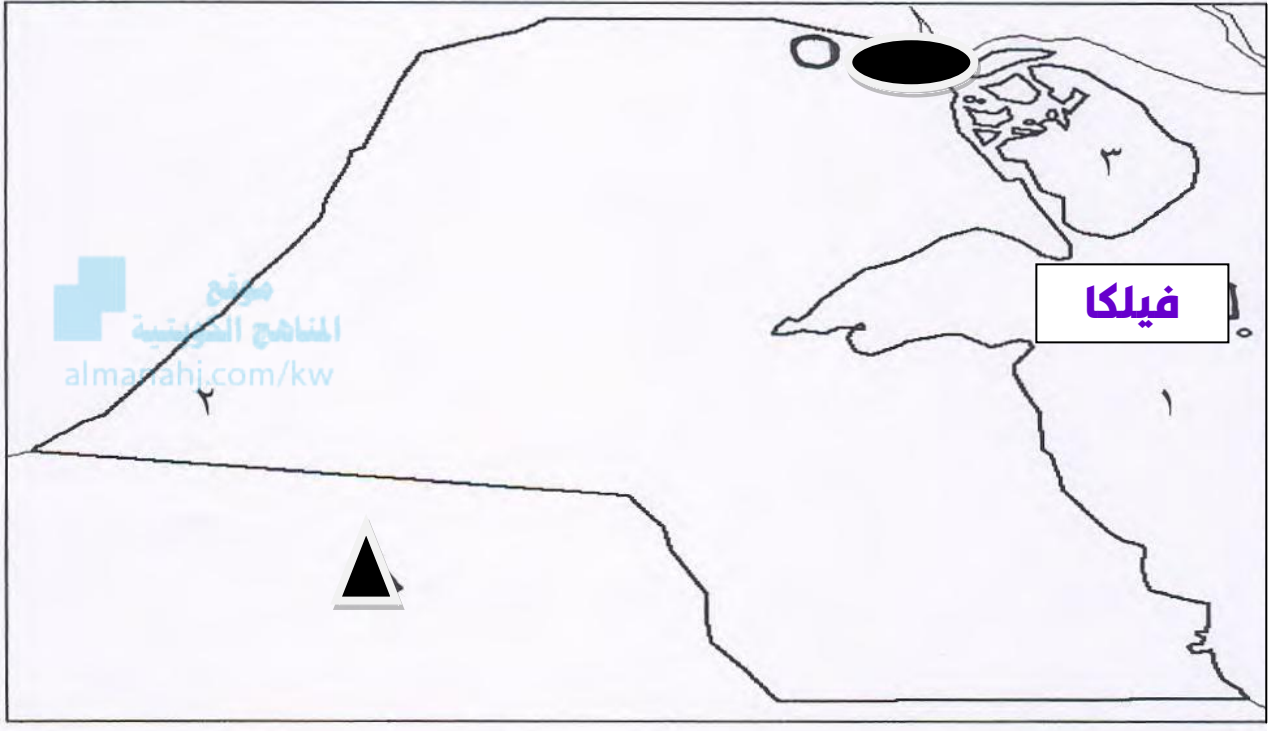


✓ العاصمة أستانا يمثلها على الخريطة الرقم 3

✓ بحر قزوين يمثله على الخريطة الرقم 2

✓ الصين يمثلها على الخريطة الرقم 1

س : لاحظ خريطة الكويت ثم أجب عما يليها من أسئلة



أولاً : حدد على الخريطة ما يلي

المملكة العربية السعودية بالرمز

جزيرة فيلكا بالرمز

مركز العبدلي الحدودي بالرمز

ثانياً : أكتب مدلول الأرقام الموجودة على الخريطة

الرقم 1 يدل على مسطح مائي يسمى **الخليج العربي**

الرقم 2 يدل على مركز حدودي يسمى **السالمي**

الرقم 3 يدل على جزيرة كويتية تسمى **بوبيان**

مع تمنياتنا لكم بالنجاح والتوفيق

AHMED:HDARA