

تم تحميل هذا الملف من موقع المناهج الكويتية



عيدة الشمري

الملف نموذج 3 للاختبار التحصيلي الأول

[موقع المناهج](#) ⇌ [المناهج الكويتية](#) ⇌ [الصف الأول](#) ⇌ [رياضيات](#) ⇌ [الفصل الثاني](#)

روابط مواقع التواصل الاجتماعي بحسب الصف الأول



روابط مواد الصف الأول على تلغرام

[الرياضيات](#)

[اللغة الانجليزية](#)

[اللغة العربية](#)

[التربية الاسلامية](#)

المزيد من الملفات بحسب الصف الأول والمادة رياضيات في الفصل الثاني

اوراق عمل	1
مذكرة الوحدة السابعة	2
توزيع مقترح لمنهج الرياضيات	3
اوراق عمل	4
نموذج اختبار أول	5



الاختبار التحصيلي الاول للصف الاول الفصل الدراسي الثاني للعام 2024-2025



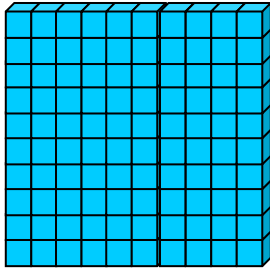


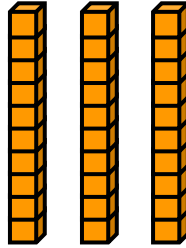
نموذج (٣) اختبار تحصيلي (١)
في مادة الرياضيات للصف (الأول)
الفصل الدراسي الثاني للعام ٢٠٢٤ - ٢٠٢٥



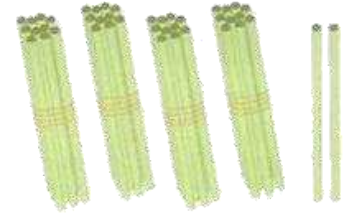
وزارة التربية
الإدارة العامة لمنطقة حولي التعليمية
التوجيه الفني للرياضيات

السؤال الأول: ** أكتب رمز العدد :



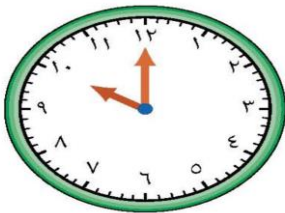


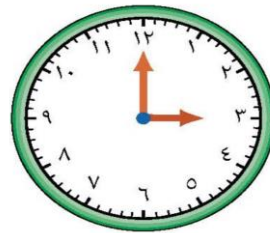
عشرات	آحاد



عشرات	آحاد

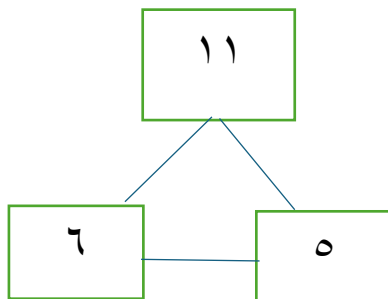
السؤال الثاني: ** أكتب الوقت :





السؤال الثالث:

**** اكتب عبارته جمع وعبارته طرح ذات صله
مستخدما الاعداد المعطاه:**



$$\underline{\quad} = \underline{\quad} + \underline{\quad}$$

$$\underline{\quad} = \underline{\quad} - \underline{\quad}$$

**** أكتب رمز العلاقة المناسب (< أو > أو =)**

$$٨١ \bigcirc ١٨$$

$$١٩ \bigcirc ١٩$$




$$١٣ \bigcirc ٢٠$$

$$١٧ \bigcirc ٧$$

السؤال الرابع:

ظلل الرمز الدال على الإجابة الصحيحة:

الساعة الدالة على التوقيت ٦ : ٠٠ هو : —

١	أ		ب		ج	
---	---	---	---	---	---	---

الشهر الذي يصوم به المسلمون هو شهر —


٢	أ	رمضان	ب	شعبان	ج	رجب
---	---	-------	---	-------	---	-----

ناتج طرح ١٦ - ٤ يساوي : —

٣	أ	٦	ب	١٣	ج	١٨
---	---	---	---	----	---	----

أكمل ٣ ، ٦ ، —

٤	أ	٦	ب	٩	ج	٧
---	---	---	---	---	---	---

العدد الذي يقع بين العددين هو


٥	أ	٣٩	ب	٤١	ج	٣٧
---	---	----	---	----	---	----

انتهت الأسئلة نتمنى لكم التوفيق،،،

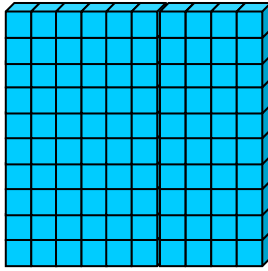


نموذج (٣) اختبار تحصيلي (١)
في مادة الرياضيات للصف (الأول)
الفصل الدراسي الثاني للعام ٢٠٢٤ - ٢٠٢٥

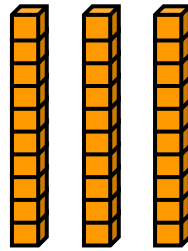


وزارة التربية
الإدارة العامة لمنطقة حولي التعليمية
التوجيه الفني للرياضيات

السؤال الأول: ** أكتب رمز العدد :

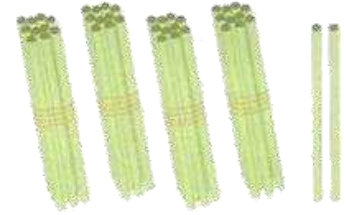


١٠٠



عشرات	آحاد
٣	٠

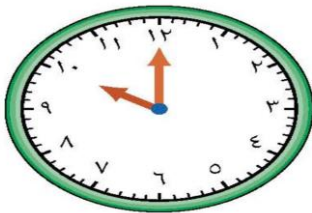
٣٠



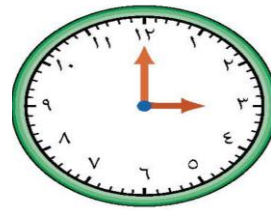
عشرات	آحاد
٤	٢

٤٢

السؤال الثاني: ** أكتب الوقت :



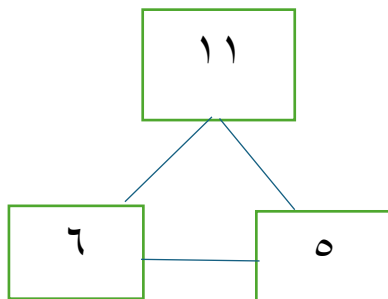
١٠:٠٠



٣:٠٠

السؤال الثالث:

** اكتب عبارته جمع وعبارته طرح ذات صله
مستخدما الاعداد المعطاه:



$$11 = 6 + 5$$

$$6 = 5 - 11$$

** أكتب رمز العلاقة المناسب (< أو > أو =)

$$81 > 18$$

$$19 = 19$$




$$13 < 20$$

$$17 > 7$$

السؤال الرابع:

ظلل الرمز الدال على الإجابة الصحيحة:

الساعة الدالة على التوقيت ٦ : ٠٠ هو : —

١	أ		ب		ج	
---	---	---	---	---	---	---

الشهر الذي يصوم به المسلمون هو شهر —

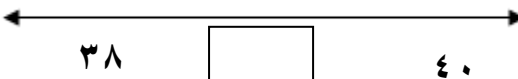
٢	أ	رمضان	ب	شعبان	ج	رجب
---	---	-------	---	-------	---	-----

ناتج طرح ١٦ - ٤ يساوي : —

٣	أ	٦	ب	١٣	ج	١٨
---	---	---	---	----	---	----

أكمل ٣ ، ٦ ، —

٤	أ	٦	ب	٩	ج	٧
---	---	---	---	---	---	---

العدد الذي يقع بين العددين هو


٥	أ	٣٩	ب	٤١	ج	٣٧
---	---	----	---	----	---	----

انتهت الأسئلة نتمنى لكم التوفيق،،،