

تم تحميل هذا الملف من موقع المناهج الكويتية



مدرسة التميز النموذجية

الملف أوراق عمل الاختبار التحصيلي الثاني

موقع المناهج ← ملفات الكويت التعليمية ← الصف الثاني ← رياضيات ← الفصل الأول

روابط مواقع التواصل الاجتماعي بحسب الصف الثاني



روابط مواد الصف الثاني على تلغرام

[الرياضيات](#)

[اللغة الانجليزية](#)

[اللغة العربية](#)

[التربية الاسلامية](#)

المزيد من الملفات بحسب الصف الثاني والمادة رياضيات في الفصل الأول

<a href="#">التقريب الى اقرب عشرة في مادة الرياضيات</a>	1
<a href="#">التقريب الى اقرب عشرة في مادة الرياضيات 4</a>	2
<a href="#">ورقة عمل في مادة الرياضيات</a>	3
<a href="#">ورقة عمل المكعبات في مادة الرياضيات</a>	4
<a href="#">ورقة عمل مقارنة في مادة الرياضيات</a>	5

أوجد ناتج:

$$\begin{array}{r} ٨١ \\ - ٣٨ \\ \hline \end{array}$$

$$\begin{array}{r} ٨٨ \\ - ٣ \\ \hline \end{array}$$

موقع  
المنهج الكويتية  
almanahj.com/kw

$$\begin{array}{r} ٦٧ \\ - ٢٥ \\ \hline \end{array}$$

$$\begin{array}{r} ٢٥ \\ - ٣ \\ \hline \end{array}$$

$$\begin{array}{r} ٩٢ \\ - ٥٧ \\ \hline \end{array}$$

$$\begin{array}{r} ٦٩ \\ - ٤ \\ \hline \end{array}$$

اكتب الوقت الذي تدل عليه كل ساعة :



موقع  
المنهج الكويتية  
almanahj.com/kw


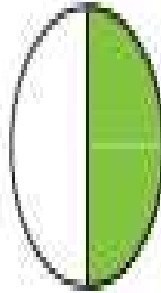
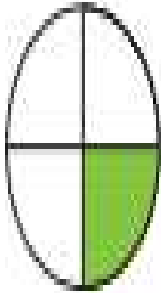





اكتب رمز الكسر الدال على الجزء الملون :


$$\frac{\square}{\square}$$

$$\frac{\square}{\square}$$

موقع  
المناهج الكويتية  
almanahj.com/kw



## حوط الإجابة الصحيحة :

(١) الساعة = .....

٣٠ دقيقة

٦٠ دقيقة

٢٥ دقيقة

(٢) عدد أيام شهر ديسمبر .....

٣٠ يوم

٣١ يوم

٢٩ يوم  
المناهج الكويتية  
almanahj.com/kw

(٣) الشهر الهجري الذي يصومه المسلمون كاملاً فرضاً هو ....  
شعبان شوال رمضان


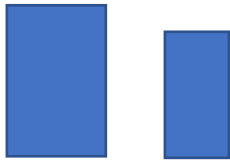
(٤) عدد أوجه المكعب هو .....

٦ أوجه

١٢ وجه

٨ أوجه

(٥) الشكلان المتطابقان :



## الإجابة

أوجد ناتج :

$$\begin{array}{r} 71 \\ 81 \\ 38 \\ \hline \end{array}$$

43

$$\begin{array}{r} 88 \\ 3 \\ \hline \end{array}$$

85

موقع  
المنهج الكويتية  
almanahj.com/kw

$$\begin{array}{r} 67 \\ 20 \\ \hline \end{array}$$

47

$$\begin{array}{r} 20 \\ 3 \\ \hline \end{array}$$

22

$$\begin{array}{r} 812 \\ 92 \\ 07 \\ \hline \end{array}$$

30

$$\begin{array}{r} 69 \\ 4 \\ \hline \end{array}$$

65

اكتب الوقت الذي تدل عليه كل ساعة :



٧ : ٣٠



٤ : ٠٠

موقع  
المنهج الكويتية  
almanahj.com/kw



٤ : ٣٠



٣ : ٠٠

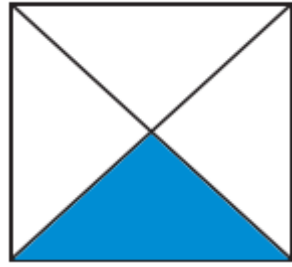


٩ : ٠٠



١٠ : ٣٠

اكتب رمز الكسر الدال على الجزء الملون :




$$\frac{1}{4}$$




$$\frac{1}{2}$$

موقع  
المناهج الكويتية  
almanahj.com/kw



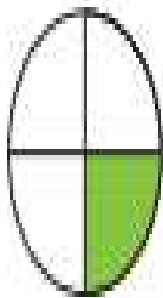
$$\frac{1}{3}$$



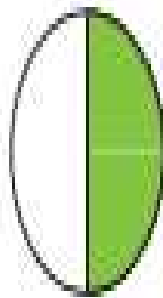
$$\frac{1}{4}$$




$$\frac{1}{2}$$



$$\frac{1}{4}$$



$$\frac{1}{2}$$



$$\frac{1}{3}$$

حوط الإجابة الصحيحة :

(١) الساعة = .....

٣٠ دقيقة

٦٠ دقيقة

٢٥ دقيقة

(٢) عدد أيام شهر ديسمبر .....

٣٠ يوم

٣١ يوم

موقع  
المنهج الكويتية  
almanahj.com/kw

(٣) الشهر الهجري الذي يصومه المسلمون كاملاً فرضاً هو .....

رمضان

شوال

شعبان

(٤) عدد أوجه المكعب هو .....

٦ أوجه

١٢ وجه

٨ أوجه

(٥) الشكلان المتطابقان :

