

تم تحميل هذا الملف من موقع المناهج الكويتية



almanahj.com/kw

موقع المناهج الكويتية

الملف نموذج إجابة منطقة الفروانية

[موقع المناهج](#) ⇨ [المناهج الكويتية](#) ⇨ [الصف السادس](#) ⇨ [اجتماعيات](#) ⇨ [الفصل الثاني](#)

روابط مواقع التواصل الاجتماعي بحسب الصف السادس



روابط مواد الصف السادس على تلغرام

[الرياضيات](#)

[اللغة الانجليزية](#)

[اللغة العربية](#)

[التربية الاسلامية](#)

المزيد من الملفات بحسب الصف السادس والمادة اجتماعيات في الفصل الثاني

مراجعة	1
مراجعة	2
مراجعة	3
مذكرة في مادة الاجتماعيات	4
مراجعة محلولة ومفيدة في مادة الاجتماعيات	5

نموذج اجابة

الادارة العامة لمنطقة الفروانية التعليمية
مركز الفروانية للتعليم



أجب عن جميع الأسئلة التالية :

السؤال الأول : ويتكون من (أ - ب - ج - د - هـ - و) :- (درجة لكل إجابة)

(أ) ضع علامة (√) أمام العبارة الصحيحة و علامة (×) أمام العبارة الخاطئة فيما يلي :-

١- صدرت أول شحنة من النفط الكويتي عام ١٩٤٦م. (×) ص ٩٠

٢- يوجد حقل الغوار النفطي في المملكة العربية السعودية. (√) ص ٩١

٣- الزيادة الغير طبيعية تكون بسبب الهجرة. (√) ص ١١٠

موقع
المنهج الكويتية
almanahj.com/kw

٤- يجتمع وزراء التربية و التعليم لدول الخليج العربي كل عام. (×) ص ١٣٠

٥- أكبر دولة عربية خليجية من حيث المساحة عمان. (×) ص ١١٤

٦- أعلن قيام السوق الخليجية المشترك في مدينة الدوحة. (√) ص ١٣٠

(ب) اختر البديل المناسب من بين البدائل التي تلي كل عبارة وضع تحته خط :-

١- أهم الدول المستوردة للنفط الكويتي :

(الهند - اليابان - بولندا - بلجيكا) ص ٩٠

٢- المحصول الزراعي التي نجحت المملكة العربية السعودية كتجربة رائدة في انتاجه:

(القطن - الأرز - القمح - التمر) ص ٩٢

٣- توجد منطقة صحار الصناعية في دولة :

(عمان - السعودية - البحرين - الامارات) ص ٩٦

٤- أصغر دولة خليجية من حيث المساحة هي:

(عمان - الكويت - البحرين - قطر) ص ١١٤

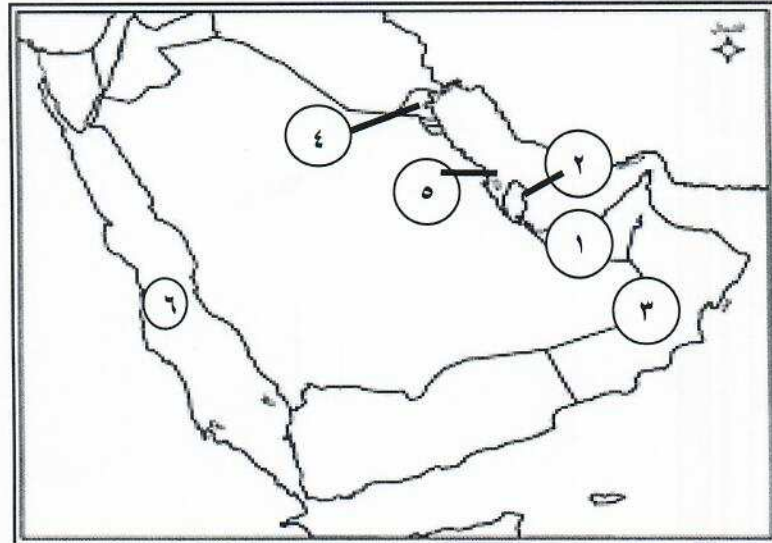
٥- الدولة الخليجية التي توجد فيها مقر قوات درع الجزيرة :

(الكويت - قطر - عمان - السعودية) ص ١٢٩

٦- العام الذي قام فيه النظام العراقي البائد بغزو دولة الكويت هو: ص ١٣٩

(١٩٩٠م - ١٩٩١م - ١٩٩٢م - ١٩٩٣م)

(ج) لاحظ الخريطة التي أمامك ثم أجب عن الأسئلة التالية :-



موقع
المناهج الكويتية
almanahj.com/kw

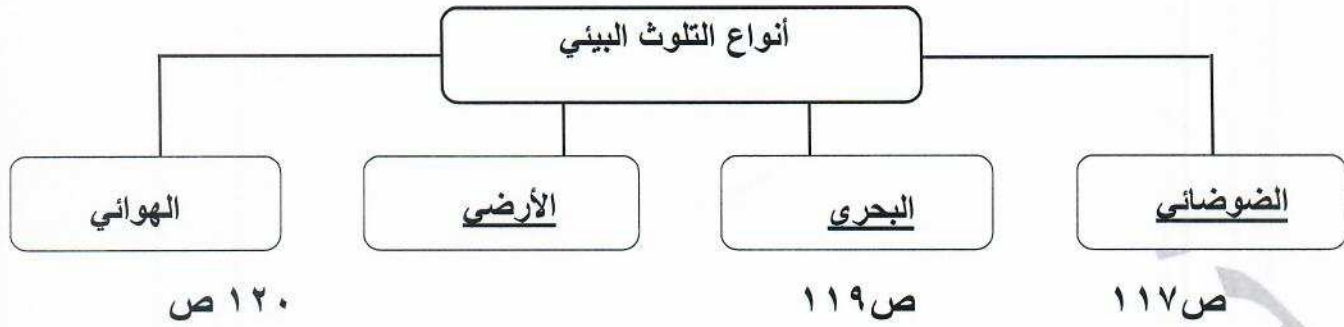
- البحر الأحمر على الخريطة يمثل على الخريطة الرقم (٦) .. ص ٩٢
- الدولة التي يوجد بها ميناء الأحمدى يمثلها على الخريطة الرقم (٤) ص ٩١
- الدولة التي يوجد بها حقل دخان يمثلها على الخريطة الرقم (٢) ص ٩١
- منطقة ليوا الزراعية يمثلها على الخريطة الرقم (١) ص ٩٢
- سهل الباطنة يمثلها على الخريطة الرقم (٣) ص ٩٢
- منطقة شمال ستره الصناعية يمثلها على الخريطة الرقم (٥) ص ٩٧

(د) اكتب المفاهيم أو المصطلحات الدالة على العبارات التالية :

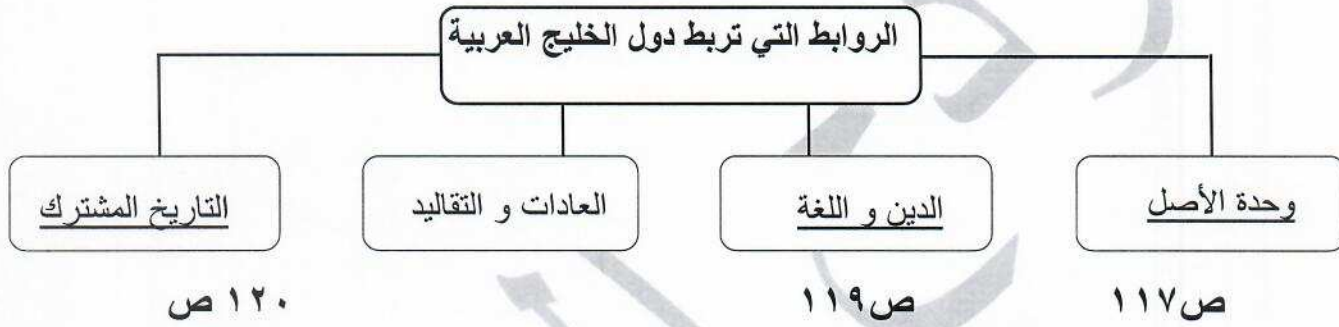
- ١- (الصناعة) تحويل المادة الخام الى مواد يمكن الاستفادة منها . ص ٩٥
- ٢- (الدخل القومي) هو مجموع الدخول التي تحصل عليها الدولة خلال عام . ص ٩٥
- ٣- (النمو السكاني) هو التغير الذي يحدث لعدد السكان نتيجة للزيادة الطبيعية و الغير طبيعية . ص ١١١
- ٤- (الثقافة) مجموعة من العادات و التقاليد و القيم في مجتمع من المجتمعات . ص ١١٨
- ٥- (التلوث) هو الضرر الذي يصيب عناصر البيئة الأساسية الثلاث (الماء - الهواء - التربة) . ص ١٣٣
- ٦- (العنف) هو ذلك السلوك العدوانى الموجه ضد الغير و الذي يتسم بالتخريب و التدمير سواء كان ذلك السلوك أقوالا أو أفعالا . ص ١٤٤

(هـ) أكمل المخططات السهمية الآتية :-

(ص ١٣٣)



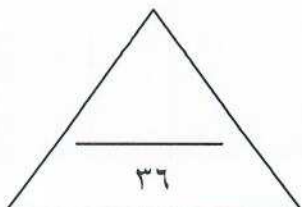
موقع
المناهج الكويتية
almanahj.com/kw



(و) صنّف مظاهر التعاون بين دول مجلس التعاون الخليجي الآتية حسب المطلوب في الجدول التالي :-

- ((المناورات العسكرية - قيام سوق خليجية - توحيد المنهج - زيادة التبادل التجاري - انشاء قوة عسكرية - انشاء مكتب التربية العربية - اجتماع وزراء التربية و التعليم))

التعاون العسكري ص ١٢٩	التعاون الاقتصادي ص ١٣٠	التعاون الثقافي ص ١٣٠
المناورات العسكرية انشاء قوة عسكرية	قيام سوق خليجية زيادة التبادل التجاري	اجتماع وزراء التربية و التعليم توحيد المناهج انشاء مكتب التربية العربية



السؤال الثاني : ويتكون من (أ - ب) :-

(أ) فرق بين كل من :-

الواردات (درجة) ص ٩٩	الصادرات (درجة) ص ٩٩
البضائع و السلع التي تشتريها دولنا من الخارج	السلع و المنتجات التي تبيعها دولنا في الخارج
احتياطي النفط (درجة) ص ٨٨	انتاج النفط (درجة) ص ٨٨
كميات النفط المخزونة في باطن الأرض almanahj.com/kw	كميات النفط التي يتم استخراجها للاستفادة منها

(ب) علل لما يأتي :-

١- انتعاش الموانئ التجارية في دول الخليج العربية . (درجتان - يكتفى بإجابتين) ص ٩٩

* ارتباط دول الخليج العربي بعلاقات تجارية مع دول العالم .

* بسبب الصادرات و الواردات .

٢- تعرض مياه الخليج العربي للتلوث البحري . (درجتان - يكتفى بإجابتين) ص ١٣٦

* النفط و مشتقاته .
* النفايات الخطرة .
* مياه الصرف الصحي .
* الأمطار الحمضية .
* مخلفات المصانع .

٣- شهدت منطقة الخليج العربي بعد اكتشاف النفط نموا سكانيا فجائيا . (درجتان - يكتفى بإجابتين) ص ١١١

* ارتفاع دخل الفرد .

* توفر فرص العمل

* توفر الرعاية الصحية .

٤- عدد السكان في دولة الكويت و دول الخليج العربي في تزايد مستمر . (درجتان - يكتفى بإجابتين) ص ١١٠

* الزيادة الطبيعية (عدد المواليد - عدد الوفيات) .
* الزيادة الغير طبيعية (الهجرة) .

السؤال الثالث :- ويتكون من (أ - ب - ج) :-

(أ) عرف ما يلي :

- ١- الترانزيت : إعادة تصدير البضائع المستوردة . (درجة) ص ٩٩
- ٢- الزراعة البلاستيكية : يزرع فيها الخضروات في غير مواسمها (أوقاتها) و تقوم بحماية المحاصيل من تقلبات الطقس .
(درجة) ص ٩٤
- ٣- طبقة الأوزون : هي درع واق للأحياء ضد خطر الأشعة فوق البنفسجية . (درجة) ص ١٣٥

(ب) اكتب فيما يلي :-

- ١- أنواع الصناعات القائمة على النفط بدول مجلس التعاون الخليجي (درجتان - يكتفى بإجابتين) ص ٩٥
 - * تكرير النفط .
 - * البتروكيماويات .
 - * الغاز .
- ٣- أنواع وظائف العمالة المنزلية . (درجتان - يكتفى بإجابتين) ص ١٤٢
 - * سائق .
 - * خادم .
 - * طباخ .
 - * مربية .
- ٢- الحلول المناسبة لمشكلة العنف . (درجتان - يكتفى بإجابتين) ص ١٥٠
 - * الاهتمام الجاد بالقرآن الكريم و السنة النبوية الشريفة .
 - * الاهتمام بالقراءة بدلا من أصدقاء السوء .
 - * القدوة الحسنة .

(ج) اقرأ الفقرة التالية ثم أجب عما يليها من أسئلة و مما درست :

قام خالد برحلة مدرسية الى بيت الكويت للأعمال الوطنية ، و تجول في متحف (كي لا ننسى) الذي يحكي قصة الغزو العراقي الغاشم لدولة الكويت ، و رأى من صور تتحدث عن دمار البيئة الكويتية الناتجة عن حرق الآبار النفطية.

١- (علل) دمار البيئة الكويتية (درجة) ص ١٣٩
*حرق الآبار النفطية .

موقع
المناهج الكويتية
almanahj.com/kw

٢- عدد مظاهر التلوث الناتجة عن الغزو العراقي لدولة الكويت (درجتان - يكتفى بإجابتين) ص ١٣٩

*تلوث التربة. *تدمير الحياة الفطرية. *التلوث الهوائي. *التلوث الأرضي.
*الآثار الخطرة على صحة الانسان والكائنات الحية.

انتهت الأسئلة ونرجو لك التوفيق