

تم تحميل هذا الملف من موقع ملفات الكويت التعليمية



[com.kwedufiles.www//:https](https://www.kwedufiles.com)

*للحصول على أوراق عمل لجميع الصفوف وجميع المواد اضغط هنا

* للحصول على أوراق عمل لجميع مواد الصف الخامس اضغط هنا

<https://kwedufiles.com/5>

* للحصول على جميع أوراق الصف الخامس في مادة علوم وجميع الفصول, اضغط هنا

<https://kwedufiles.com/5science>

* للحصول على أوراق عمل لجميع مواد الصف الخامس في مادة علوم الخاصة بـ الفصل الأول اضغط هنا

<https://www.kwedufiles.com/5science1>

* لتحميل كتب جميع المواد في جميع الفصول للـ الصف الخامس اضغط هنا

<https://www.kwedufiles.com/grade5>

* لتحميل جميع ملفات المدرس اللجنة الفنية المشتركة للعلوم اضغط هنا

[bot_kwlinks/me.t//:https](https://t.me/bot_kwlinks)

للحصول على جميع روابط الصفوف على تلغرام وفيسبوك من قنوات وصفحات: اضغط هنا

الروابط التالية هي روابط الصف الخامس على مواقع التواصل الاجتماعي

مجموعة الفيسبوك

صفحة الفيسبوك

مجموعة التلغرام

بوت التلغرام

قناة التلغرام

رياضيات على التلغرام



بنك أسئلة في مادة العلوم للفترة الدراسية الأولى من العام الدراسي ٢٠١٩-٢٠٢٠ م
نموذج رقم (٧)

السؤال الأول: اختر الإجابة الصحيحة علمياً لكل من العبارات التالية وضع علامة (✓) في المربع المقابل لها :

١- أكبر الكواكب حجماً في النظام الشمسي هو :

- ☐ عطارد ☐ المشتري ☐ زحل ☐ أورانوس

٢- الرمز الذي يمثل غاز الأوزون هو :

- ☐ O ☐ O₂ ☐ O₃ ☐ O₄

٣- أحد الأعضاء التالية ينتمي للجهاز الهضمي :

- ☐ المعدة ☐ القلب ☐ الرئتان ☐ المخ

٤- جزء صغير من الدماغ يعمل على حفظ التوازن :

- ☐ المخ ☐ المخيخ ☐ النخاع المستطيل ☐ الحبل الشوكي

٥- الجبيرة تساعد في علاج :

- ☐ الرعاف ☐ العظم المكسور ☐ النزيف ☐ الجروح البسيطة

السؤال الثاني: اكتب بين القوسين كلمة (صحيحة) أمام العبارة الصحيحة وكلمة (خاطئة) أمام العبارة غير الصحيحة في كل مما يأتي :

- ١- عطارد هو أقرب الكواكب للشمس . (.....)
٢- يوجد غاز الأكسجين بنسبة ٧٨% في الغلاف الجوي . (.....)
٣- يمكن صناعة مبيد حشري صديق للبيئة من مواد كيميائية . (.....)
٤- الحجاب الحاجز له دور كبير في عملية التنفس . (.....)
٥- يؤثر النظام البيئي في الفضاء على أجهزة جسم الانسان . (.....)

السؤال الثالث : أكمل كل من العبارات التالية بما يناسبها علمياً :

- ١- تدور الأرض حول الشمس في مدارات
- ٢- تدور الأرض دوره كاملة حول محورها كل
- ٣- نسيج متين مرن يمنع احتكاك العظمين
- ٤- الإغماء حالة تنتج عن فقد الشخص ل
- ٥- الاحتباس الحراري ينتج عن زيادة غاز

السؤال الرابع : في الجدول التالي اختر العبارة من المجموعة (ب) واكتب رقمها أمام ما يناسبها من عبارات المجموعة (أ) :

الرقم	مجموعة (أ)	مجموعة (ب)
()	- طبقه تحمي الأرض من خطر الشهب .	١ - الثيرموسفير
()	- طبقه تدور فيها معظم الأقمار الصناعية .	٢ - التروبوسفير ٣ - الميزوسفير
()	- خلايا مستديره ومقره تحمل الأكسجين لخلايا الجسم .	١ - خلايا الدم البيضاء
()	- خلايا تقتل الجراثيم والميكروبات التي تدخل الجسم .	٢ - خلايا الدم الحمراء ٣ - الصفائح الدموية

السؤال الخامس : ماذا لو ؟

- ١- توقفت الأرض عن الدوران حول محورها .

.....
.....

- ٢- زادت نسبة غاز الأكسجين في الهواء الجوي عن ٢١% .

.....

السؤال السادس : عدد اثنان عن كل مما يلي :

أ – أنواع النزيف الخارجي .

- ١-.....
٢-.....

ب- الخصائص المشتركة للكائنات الحية .

- ١-.....
٢-.....

السؤال السابع علل لما يأتي تعليلاً علمياً سليماً :

١ - لا تصطدم كواكب المجموعة الشمسية ببعضها.

.....
.....

٢ - عند لمس شيء ساخن تنقبض ذراعك بسرعة .

.....
.....

السؤال الثامن : قارن بين كل مما يلي في الجدول التالي :

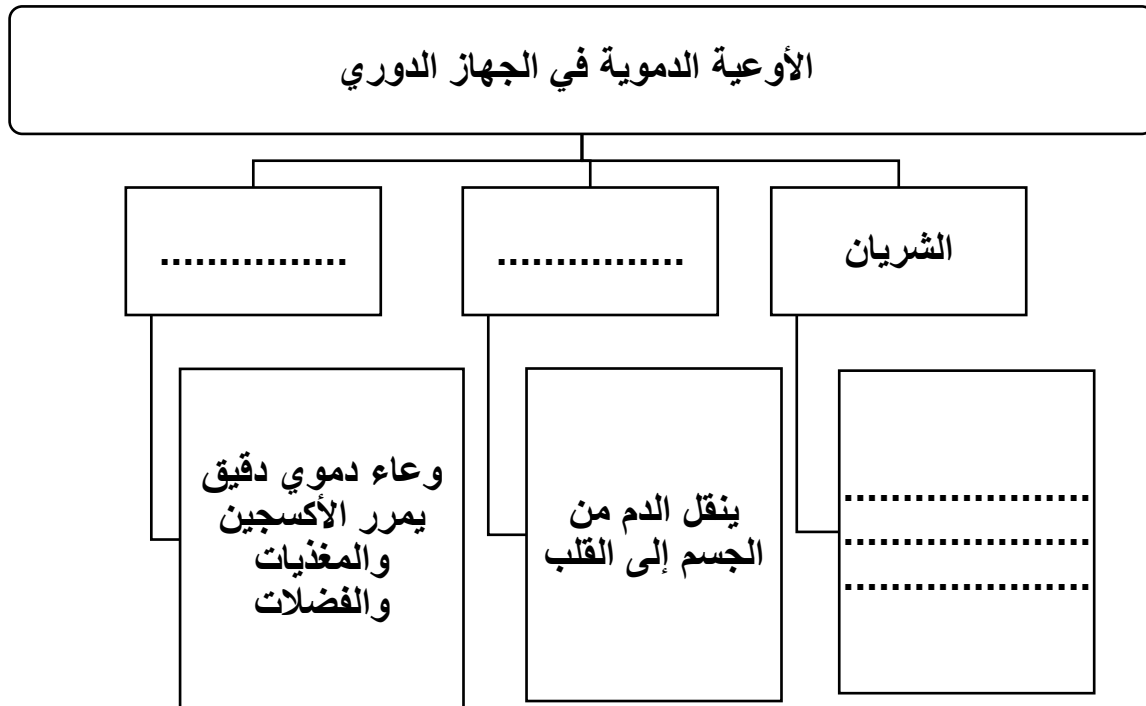
كوكب	نجم	أوجه المقارنة مصدر الضوء (ذاتي – غير ذاتي)
.....	

الثيرموسفير	الميزوسفير	أوجه المقارنة درجة الحرارة
.....	

السؤال التاسع : اكتب بين القوسين كلمة (صحيحة) أمام العبارة الصحيحة وكلمة (خاطئة) أمام العبارة غير الصحيحة في كل مما يأتي مع تصحيح الخطأ :

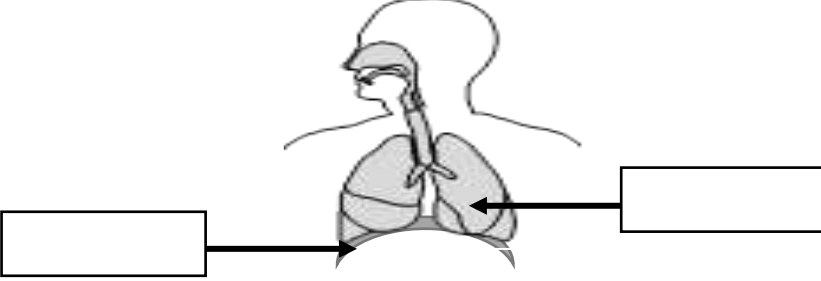
١. يغطي الماء كوكب الأرض بنسبة ٢٥ ٪ .
(.....) التصحيح:.....
٢. جسم الإنسان له القدرة على الاستشفاء الذاتي .
(.....) التصحيح:.....
٣. غاز الأوزون يتكون من ذرتين أكسجين .
(.....) التصحيح:.....

السؤال العاشر : من خلال دراستك أكمل ما يلي :



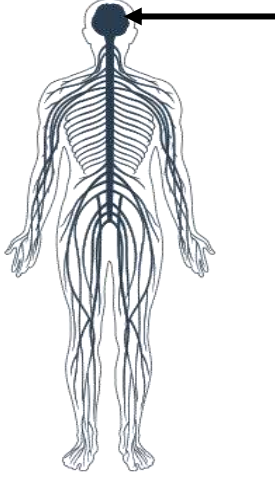
السؤال الحادي عشر : أكتب البيانات على الرسم التالي:

١ - الشكل يوضح الجهاز التنفسي



٢ - الشكل يوضح الجهاز

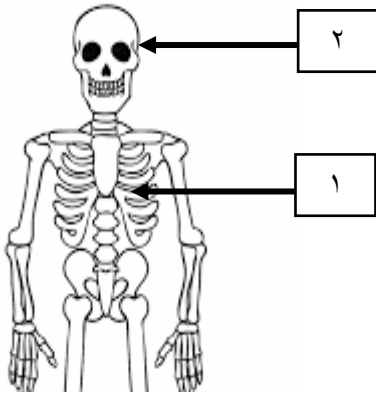
السهم يشير إلى



٣ - الشكل يوضح الجهاز العظمي

الجزء رقم (١)

الجزء رقم (٢)



انتهت الاسئلة نرجو لكم التوفيق و النجاح