

تم تحميل هذا الملف من موقع المناهج الكويتية



الملف نموذج 6 للاختبار التحصيلي الأول

[موقع المناهج](#) ⇌ [المناهج الكويتية](#) ⇌ [الصف الثاني](#) ⇌ [رياضيات](#) ⇌ [الفصل الثاني](#)

روابط مواقع التواصل الاجتماعي بحسب الصف الثاني



روابط مواد الصف الثاني على تلغرام

[الرياضيات](#)

[اللغة الانجليزية](#)

[اللغة العربية](#)

[التربية الاسلامية](#)

المزيد من الملفات بحسب الصف الثاني والمادة رياضيات في الفصل الثاني

تدريبات	1
وسائل الوحدة الحادية عشر	2
مذكرة	3
مذكرة مهمة	4
مذكرة مهمة	5



الاختبار التحصيلي الأول للصف الثاني

الفصل الدراسي الثاني للعام الدراسي 2024-2025

بنود الاختبار	توزيع درجات الاختبار		درجة الاختبار	مدة الاختبار	موعد الاختبار
	مقالي	موضوعي			
الوحدة التاسعة من البنود : (٦-٩) إلى (٩-٩) + الوحدة العاشرة + الوحدة الحادية عشر + الوحدة الثانية عشر من البنود : (١-١٢) إلى (٣-١٢)	١٥	٥	٢٠ درجة	حصة دراسية	الأسبوع ٨

إشراف الموجهة الفنية : أ. ليلى سالم



نموذج (١)
الاختبار التحصيلي (١)
للمصف الثاني في مادة الرياضيات
الفصل الدراسي الثاني للعام الدراسي ٢٠٢٤ / ٢٠٢٥ م



السؤال الأول :

- أكمل .

$$\text{-----} = \text{-----} \div \text{-----}$$

$$\text{----} = 2 \times 6$$



السؤال الثاني :

(أ) اكتب الوقت الذي تشير اليه الساعة.



الساعة _____ والرَّبع

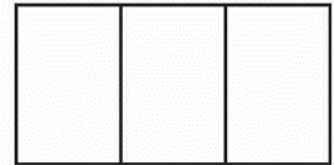
(ب) ارسم عقربي الساعة اللذين يدلان على الوقت .



الساعة الرَّابِعة والنِّصْف

السؤال الثالث :



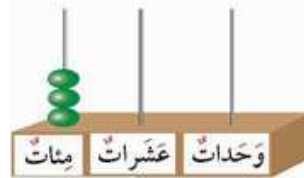
(أ) لون ما يمثل الثلث .




(ب) حوط ما يمثل الربع .



(ج) اكتب رمز العدد .



(د) أكمل سلسلة الأعداد .



السؤال الرابع :-

(أ) اختر أكثر من دقيقة - أقل من دقيقة لكل نشاط .



كتابة كلمة الكويت

أكثر من دقيقة
أقل من دقيقة

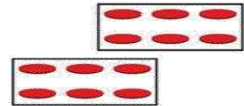
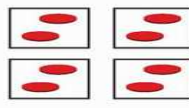
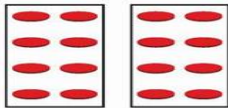


حل واجب الرياضيات

أكثر من دقيقة
أقل من دقيقة

(ب) اختر الإجابة الصحيحة من بين الإجابات التالية :

(١) التمثيل المناسب ل $2 = 4 \div 8$



(٢) اختر الشكل الذي قسم إلى جزئين متطابقين .



(٣) الساعة = دقيقة .

١٥ دقيقة



٦٠ دقيقة



٣٠ دقيقة



-انتهت الأسئلة -

الإدارة العامة للتعليم الخاص - توجيه الرياضيات



إجابة نموذج (١)
الاختبار التحصيلي (١)
للمصف الثاني في مادة الرياضيات
الفصل الدراسي الثاني للعام الدراسي ٢٠٢٤ / ٢٠٢٥ م



السؤال الأول :

- أكمل .



$$12 \div 6 = 2$$

$$12 = 2 \times 6$$

السؤال الثاني :

(ب) ارسم عقربي الساعة اللذين يدلان على الوقت .



الساعة الرابعة والنصف

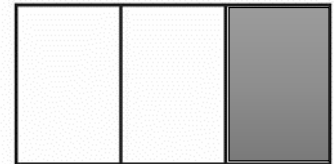
(ب) اكتب الوقت الذي تشير اليه الساعة.




الساعة ٧ والرّبع

السؤال الثالث :

(أ) لون ما يمثل الثلث .



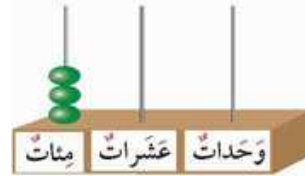
(ب) حوط ما يمثل الربع .



(ج) اكتب رمز العدد .




١٠٠٠



٣٠٠

(د) أكمل سلسلة الأعداد .



السؤال الرابع :-

(أ) اختر أكثر من دقيقة - أقل من دقيقة لكل نشاط .



كتابة كلمة الكويت

أكثر من دقيقة

أقل من دقيقة



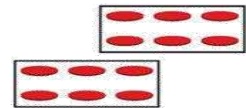
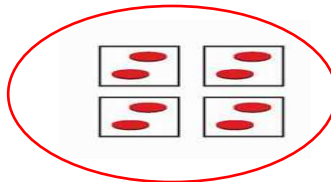
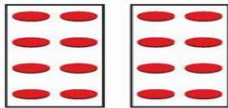
حل واجب الرياضيات

أكثر من دقيقة

أقل من دقيقة

(ب) حوِّط الإجابة الصحيحة من بين الإجابات التالية :

(١) التمثيل المناسب ل $2 = 4 \div 8$



(٢) اختر الشكل الذي قسم إلى جزئين متطابقين .



(٣) الساعة = دقيقة .

١٥ دقيقة



٦٠ دقيقة



٣٠ دقيقة



-انتهت الأسئلة -

الإدارة العامة للتعليم الخاص - توجيه الرياضيات

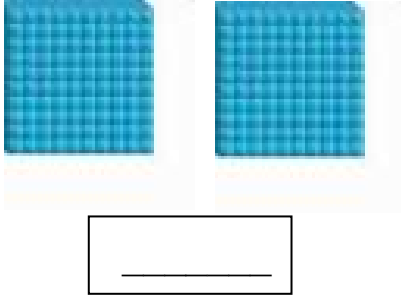


نموذج (٢)
الاختبار التحصيلي (١)
للمصف الثاني في مادة الرياضيات
الفصل الدراسي الثاني للعام الدراسي ٢٠٢٤ / ٢٠٢٥ م

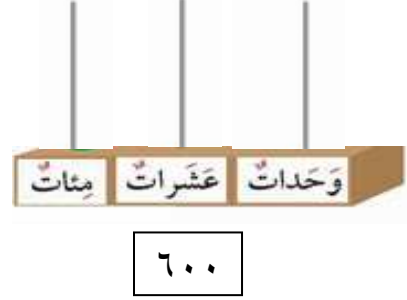


السؤال الأول :-

(ب) اكتب الاسم اللفظي للعدد الممثل .



(أ) مثل العدد على المعداد.



السؤال الثاني :-

(ب) ارسم عقربي الساعة اللذين يدلان على الوقت .




الساعة السادسة



الساعة السابعة والرابع


(أ) حوط ما يمثل الربع .



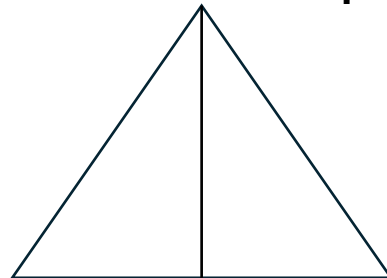
السؤال الثالث :-

(أ) قسم الى مجموعات متساوية واكتب عبارة القسمة .

_____ ÷ _____ = _____



(ب) لون ما يمثل النصف .



السؤال الرابع :-
(أ) حوّل الإجابة الصحيحة .

(١) عدد الأيام في ٣ أسابيع

٢١

٧

١٤

(٢) وزعت ليلي عدد من  بالتساوي على ٢  في كل  ٦  فكم عدد كل  ؟

٨

١٢

١٠

(٣) القيمة المكانية للرقم الذي تحته خط ٧٤٠

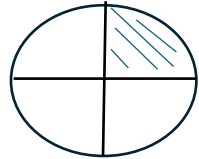

٧

٧٠

٧٠٠

(ب) صل من العمود (أ) بما يناسبه من العمود (ب) لتحصل على عبارة صحيحة :-

العمود (ب)
النصف
الربع

العمود (أ)



-انتهت الأسئلة -

الإدارة العامة للتعليم الخاص - توجيه الرياضيات




اجابة نموذج (٢)
الاختبار التحصيلي (١)
للفصل الثاني في مادة الرياضيات
الفصل الدراسي الثاني للعام الدراسي ٢٠٢٤ / ٢٠٢٥ م



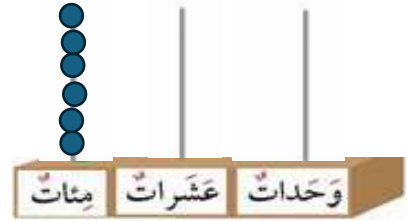
السؤال الأول :-

(ب) اكتب الاسم اللفظي للعدد الممثل .



مئتان

(ب) مثل العدد على المعداد.



٦٠٠

السؤال الثاني :-

(ب) ارسم عقربي الساعة اللذين يدلان على الوقت .




الساعة السادسة



الساعة السابعة والرربع

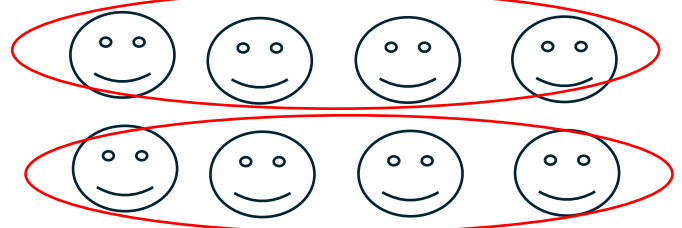
(ب) حوط ما يمثل الربع .



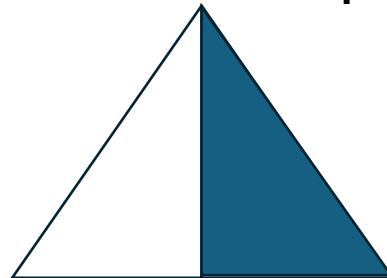
السؤال الثالث :-

(أ) قسم الى مجموعات متساوية واكتب عبارة القسمة .

$$8 \div 2 = 4$$



(ب) لون ما يمثل النصف .



السؤال الرابع :-
(ب) حوّل الإجابة الصحيحة .

(٤) عدد الأيام في ٣ أسابيع

٢١

٧

١٤

(٥) وزعت ليلي عدد من  بالتساوي على ٢  في كل  ٦  فكم عدد كل  ؟

٨

١٢

١٠

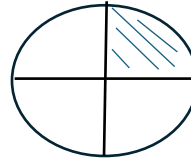

(٦) القيمة المكانية للرقم الذي تحته خط ٧٤٠

٧

٧٠

٧٠٠

(ب) صل من العمود (أ) بما يناسبه من العمود (ب) لتحصل على عبارة صحيحة :-

العمود (ب)	العمود (أ)
النصف	
الربع	

-انتهت الأسئلة -

الإدارة العامة للتعليم الخاص - توجيه الرياضيات