

تم تحميل هذا الملف من موقع ملفات الكويت التعليمية



[com.kwedufiles.www//:https](https://www.kwedufiles.com)

\*للحصول على أوراق عمل لجميع الصفوف وجميع المواد اضغط هنا

\* للحصول على أوراق عمل لجميع مواد الصف العاشر اضغط هنا

<https://kwedufiles.com/10>

\* للحصول على جميع أوراق الصف العاشر في مادة تاريخ وجميع الفصول, اضغط هنا

<https://kwedufiles.com/10history>

\* للحصول على أوراق عمل لجميع مواد الصف العاشر في مادة تاريخ الخاصة بـ الفصل الأول اضغط هنا

<https://www.kwedufiles.com/10history1>

\* لتحميل كتب جميع المواد في جميع الفصول للـ الصف العاشر اضغط هنا

<https://www.kwedufiles.com/grade10>

\* لتحميل جميع ملفات المدرس ثانوية أحمد شهاب الدين اضغط هنا

[bot\\_kwlinks/me.t//:https](https://t.me/bot_kwlinks)

للحصول على جميع روابط الصفوف على تلغرام وفيسبوك من قنوات وصفحات: اضغط هنا

الروابط التالية هي روابط الصف العاشر على مواقع التواصل الاجتماعي

مجموعة الفيسبوك

صفحة الفيسبوك

مجموعة التلغرام

بوت التلغرام

قناة التلغرام

رياضيات على التلغرام



# مراجعة نهائية تاريخ دولة الكويت لـ الصف العاشر

العام الدراسي (٢٠١٩ / ٢٠٢٠ م)

الفصل الدراسي الأول

## الفصل الأول – (جغرافية دولة الكويت)

### الكتاب المدرسي ص (٢١)

#### أذكر الهدف من دراسة موقع الدولة علي خريطة العالم:

- (١) إبراز القيمة الفعلية لهذه الدولة.
- (٢) الكيفية التي تكون عليها المصالح الحيوية لتلك الدولة.
- (٣) توضيح الدور الذي يمكن أن تمارسه تلك الدولة.

#### • فرق بين المفاهيم التالية:

| الموقع الجغرافي   | الموقع الفلكي                                   |
|---|---|
| ☞ موقع الدولة علي خريطة العالم، والدول (المجاورة) التي تشترك معها في الحدود السياسية، والمسطحات المائية التي تطل عليها. | ☞ موقع الدولة بالنسبة لخطوط الطول ودوائر العرض. |

#### ☞ حدد الموقع الجغرافي لدولة الكويت:

- تقع الكويت في شمال شرق شبه الجزيرة العربية في أقصى شمال غرب الخليج العربي.
- يحدها من الشمال، والشمال الغربي دولة العراق، ومن الجنوب المملكة السعودية، ومن الشرق الخليج العربي.

#### ☞ حدد الموقع الفلكي لدولة الكويت:

- تقع بين خطي طول (٢٨ / ٣٠) شمال خط الاستواء. وبين خطي طول (٤٦ / ٤٨) شرق جرينتش.

☉ **مساحة دولة الكويت:** تبلغ مساحة دولة الكويت ١٧,٨١٨ ألف كم<sup>٢</sup>.

#### ☞ أذكر مميزات موقع دولة الكويت :

- (١) موقعها يمثل نهاية الطريق الملاحي البحري والتجاري علي طريق الهند والشرق القصي.
- (٢) تمثل دولة الكويت البوابة والمدخل الطبيعي لشمال شرق الجزيرة العربية.
- (٣) تعد مركز لتجارة السكان الوافدين عليها من نجد والإحساء وبادية الشام لتصريف بضائعهم منها.
- (٤) شهرتها بأنها منطقة ترانزيت.
- (٥) نشاط دولة الكويت البحري والتجاري وتمثل أهم موانئ شمال إقليم الإحساء.
- (٦) تميز الكويتيين بالمهارة في نقل التجارة بين موانئ الخليج والهند والشرق الأفريقي.

#### ❖ فرق بين المفاهيم التالية:

| الدول المغلقة   | الدول البحرية   |
|---|---|
| الدول التي تكون حدودها الخارية حدود برية وتعتمد على الدول المجاورة في التجارة الخارجية. | الدول التي تطل بساحل على أحد المسطحات المائية (بحر، خليج، محيط) مما يساعد علي الاتصال مع العالم الخارجي |



### ❖ هل دولة الكويت بحرية أم دولة مغلقة ؟

- الكويت دولة بحرية وتطل بساحل متعرج طويل علي الخليج العربي.

### ❖ ضع المصطلح الجغرافي المناسب أمام العبارات التالية

١. ( الموقع الفلكي ) موقع المكان بالنسبة لدوائر العرض وخطوط الطول.
٢. (الموقع الجغرافي) موقع المكان على خريطة العالم والدول المجاورة والمسطحات المائية.

### ❖ أكمل العبارات التالية: (سجل على الخريطة)

١. المسطح المائي الذي تطل عليه دولة الكويت من جهة الشرق يسمى .....الخليج العربي.
  ٢. الدولة العربية التي تشترك في الحدود مع الكويت من جهة الجنوب تسمى ..... السعودية.
  ٣. الدولة العربية التي تحد دولة الكويت من الشمال والغرب تسمى ..... العراق.
- ☞ فرق بين كل مما يأتي: دائرة العرض الرئيسية ( خط الاستواء )، وخط الطول الرئيسي ( خط جرينتش ).

### ثانيًا: تضاريس دولة الكويت

(الكتاب المدرسي ص ٢٤ / ٢٨)

### ❖ أذكر الملامح الرئيسية لمظاهر السطح في دولة الكويت؟

- (١) ينحدر سطح الكويت تدريجيا من الغرب إلى الشرق باتجاه سواحل الخليج العربي.
- (٢) أعلي ارتفاع في المناطق الغربية لا يزيد عن (٣٠٠ متر).
- (٣) يتكون السطح من سهول رملية مستوية تتخللها تلال قليلة الارتفاع يصل متوسط الارتفاع (٤٥ متر).

**وادي الباطن:** وادي جاف يسير مع الحدود الغربية للكويت، والحد الفاصل بين الحدود الكويتية العراقية لمسافة (١٥٠ كم).

سأستكمل الجدول التالي لأهم المظاهر التضاريسية لسطح الكويت.

| م | المظاهر التضاريسية | الخصائص المميزة   |
|---|--------------------|---|
| ١ | التلال             | (١) في الشمال: تلال جال الزور (١٣٧م)، كراع المرو (١٨٣م)، واللياح.<br>(٢) في الجنوب: تلال (القباب) وارة وتل برقان.<br>(٣) سهل الدبدبة: يحتل مساحة كبيرة في غرب وجنوب غرب الكويت.   |
| ٢ | الأودية الجافة     | ❖ توجد عدة أودية صحراوية جافة وأهمها وادي حفر الباطن.   |
| ٣ | السهول             | (١) سهل برقان: يمتد من جون الكويت باتجاه الجنوب موازي لخط الساحل تنتشر به التلال مثل (تلال واره، البرقان، القرين).<br>(٢) سهل الروضتين: ارض تتحدر نحو الشرق والشمال الشرقي.<br>(٣) سهل الدبدبة: في الغرب ويحتل مساحة كبيرة في غرب وجنوب الكويت. |
| ٤ | الهضاب             | هضبة الأحمدى وتأخذ الشكل الطولي وتمتد في اتجاه شمالي جنوبي لمسافة (٣٠ كم) ويصل أقصى ارتفاع للهضبة ١٣٧ متر فوق سطح البحر.  |



### علل: زيادة أهمية سهل برقان :

- زادت أهمية سهل برقان باكتشاف النفط حيث يضم أكبر الحقول النفط الكويتية.

### أذكر مميزات سهل الروضتين :

- (١) تتكون من روضتان صالحة للزراعة لتوفر المياه الجوفية.
- (٢) أكتشف فيها النفط ويسمى حقل الروضتين.
- (٣) أراضي منبشرة تنحدر نحو الشرق والشمال الشرقي.

□ أذكر ما تعرفه عن:

| طبيعة أراضي دولة الكويت   | التكوين الجيولوجي لدولة الكويت   |
|---|--|
| <ul style="list-style-type: none"> <li>أراضي الكويت ذات طبيعة صحراوية، والاجزاء الصالحة للزراعة محدودة في مناطق (الفحيحيل، المنقف، الجهراء، العقيلة....) لتوفر المياه الجوفية.</li> </ul> | <ul style="list-style-type: none"> <li>دولة الكويت جزء من الكتلة العربية تفصل بين العراق والهضبة الصحراوية التي تكون شبه الجزيرة العربية.</li> </ul> |

### ☆ فرق بين المظاهر التضاريسية التالية: ( مع ذكر مثال من دولة الكويت ).

| المقارنة  | السهل  | التل  | الهضبة |
|---|--|---|--------|
| <ul style="list-style-type: none"> <li>● أراضي منبسطة (مستوية وشبه مستوية) ترتفع قليلاً عن مستوى سطح البحر وتصلح للزراعة وتنقسم إلى (سهول ساحلية/ سهول فيضية).</li> </ul> | <ul style="list-style-type: none"> <li>● منطقة مرتفعة لها قمة يقل ارتفاعها عن ١٠٠٠ متر.</li> </ul> | <ul style="list-style-type: none"> <li>● منطقة متوسطة الارتفاع لها سطح مستوي أو شبه مستوي.</li> </ul> |        |
| <ul style="list-style-type: none"> <li>● سهل برقان - سهل الروضتين - الدبدبة</li> </ul>  | <ul style="list-style-type: none"> <li>● جال الزور-اللياح-كراع المرو-برقان- وارة</li> </ul>        | <ul style="list-style-type: none"> <li>● هضبة الأحمدية</li> </ul>                                     |        |

### ثالثاً: الجزر الكويتية.

على الخريطة الصماء رتب ثم حدد أهم الجزر الكويتية من الشمال للجنوب:

- [وربة - بوبيان - أم النمل - فيلكا - عوثة - كبر - مسكان - قاروه - أم المرادم ].

### أكمل العبارات التالية بالكلمة المناسبة:

- (١) الجزر الكويتية تنتشر في مياه دولة الكويت في منطقة تسمى جون الكويت.
- (٢) أكبر الجزر الكويتية من حيث المساحة جزيرة أسمها.. بوبيان.
- (٣) الجزر الكويتية يبلغ عددها... عشر جزر....
- (٤) الجزر الكويتية غير مأهولة بالسكان ما عدا جزيرة.. فيلكا..
- (٥) الجزيرة الكويتية التي وجد بها آثار الحضارة الهلنستية.. فيلكا..
- (٦) جزيرة فيلكا أصبحت غير مأهولة بالسكان منذ ١٩٩٠ م بسبب.. الغزو العراقي..
- (٧) أصغر الجزر الكويتية مساحة جزيرتا.. مسكان.. و.. قاروه..
- (٨) آخر الجزر الكويتية من جهة الشمال جزيرة تسمى.. وربة...
- (٩) آخر الجزر الكويتية من جهة الجنوب.. أم المرادم...
- (١٠) الجزيرة التي أصبحت جزء من ميناء الشويخ بعد ردم الفاصل بينها والساحل تسمى.. ج الشويخ...
- (١١) تختلف الجزر الكويتية من حيث.. المساحة.. و.. الموقع... و.. مظاهر السطح.. و.. المنسوب....
- (١٢) الجزيرة الكويتية التي هجرها السكان بعد الغزو العراقي تسمى.. فيلكا...
- (١٣) جزيرة بوبيان نسبة تبلغ مساحتها من مساحة دولة الكويت نسبة تبلغ ( ٥ % ) ...



- ١٤) الجزر التي تمثل مطمعًا ومطلبًا دائمًا للعراق .وربه...و ...بوبيان... .  
١٥) جزيرة تقع إلى الجنوب الشرقي من ج فيلكا والمسافة بينهما (١٢ ميل) تسمى...كبر..

علل: جزيرتا ورية وبوبيان الكويتية تمثل مطمعًا دائمًا لدولة العراق:

■ الجزيرتان تمنحان العراق منفذ بحري مناسب علي ساحل الخليج العربي.

١ علل: أصبحت جزيرة فيلكا غير مأهولة بالسكان منذ عام ٩٩٠م:

١. بسبب الغزو العراقي لدولة الكويت وتدمير البنية التحتية للجزيرة.
٢. انتقال السكان إلى البر الكويتي.

أكتب ما تعرفه عن: الأهمية التاريخية لجزيرة فيلكا قديمًا :

١. كانت تقع علي الطريق التجاري البحري في الخليج العربي.
٢. وجدت بها آثار تنتمي للعصر اليوناني وكانت تسمى (إيكاروس) مثل الأختام الحجرية وبقايا معابد قديمة ومخازن للجلال وغيرها.
٣. وصلت للجزيرة حملة عسكرية بقيادة القائد اليوناني [الأسكندر الأكبر] واتخذها استراحة قبل مواصلة طريقه لغزو الهند والسيطرة على العالم القديم.
٤. وجدت بها آثار تنتمي للعصر الروماني القديم.

أقترح ثلاثة مشاريع لجعل جزيرة فيلكا ذات أهمية استراتيجية:

١. جعل الجزيرة مركز جذب سياحي وإقامة معارض للآثار اليونانية والرومانية الموجودة بالجزيرة.
٢. إقامة منتجعات ومشروعات ترويحية للرياضات المائية لجذب السياحة الترفيهية.
٣. جعل الجزيرة محطة تجارية لتموين السفن وجعلها جزء من طريق الحرير التجاري الجديد.

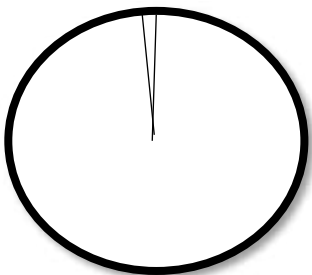
فرق بين المفاهيم الجغرافية التالية:

| الجزيرة  | شبه الجزيرة   |
|--|---|
| ❖ أرض يابسة تحيط بها المياه من جميع الجهات ولا تتصل باليابس (ج فيلكا- بوبيان...) | ❖ أرض يابسة تحيط بها المياه من ثلاث جهات فقط والجهة الرابعة تتصل باليابس مثال ( قطر - ...). |

• عرف (منطقة الترانزيت): منطقة لتجارة العبور قليلة الضرائب.

وضح نسبة جزيرة بوبيان بالنسبة للمساحة الاجمالية لدولة الكويت علي الدائرة البيانية.

• تبلغ نسبة جزيرة بوبيان ( ٥ % ) من المساحة الاجمالية لدولة الكويت.



## رابعاً: مناخ دولة الكويت.

الكتاب المدرسي ص ( ٣١ / ٣٥ )

### ❖ فرق بين المفاهيم الجغرافية التالية:

| المناخ  | الطقس  |
|---|--|
| ▪ حالة الجو في مدة زمنية طويلة (قد تصل إلى ٥٠ عام) من حيث الحرارة، الرياح، الضغط الجو، الأمطار. [وصف عام لحالة الجو]. | ▪ حالة الجو بالمكان في مدة زمنية قصيرة (ساعة، يوم، لا تزيد عن أسبوع) من حيث الحرارة، الرطوبة، الرياح، حالة البحر، الضغط الجوي. |

### ❖ وضح أثر الموقع الفلكي على مناخ دولة الكويت:

١. المناخ قاري جاف قاس.
٢. يتميز المناخ بارتفاع درجة الحرارة أكثر أيام السنة.
٣. وجود فصلين رئيسيين هما الصيف والشتاء، وفصلين ثانويين الربيع والخريف.

### ➡ فرق بين الفصول الأربعة في دولة الكويت مستكملاً الجدول التالي:

| الربيع   | الخريف   | الشتاء  | الصيف  |
|--|--|---|--|
| <ul style="list-style-type: none"> <li>⊙ فصل قصير معتدل.</li> <li>⊙ تسقط الأمطار الرعدية التي تصاحب العواصف الترابية في أواخر الربيع.</li> </ul> | <ul style="list-style-type: none"> <li>⊙ فصل ثانوي قصير.</li> <li>⊙ ترتفع بالخريف نسبة الرطوبة.</li> <li>⊙ تقل درجة الحرارة عن فصل الصيف.</li> </ul> | <ul style="list-style-type: none"> <li>⊙ قصير دافئ ممطر أحياناً.</li> <li>⊙ ومتوسط الحرارة ١٨ درجة مئوية وقد تنخفض إلى الصفر المئوي ليلاً.</li> <li>⊙ الأمطار قليلة (متذبذبة) غير منتظمة تختلف من سنة لأخرى.</li> </ul> | <ul style="list-style-type: none"> <li>⊙ طويل حار جاف.</li> <li>⊙ تهب رياح مثيرة للغبار.</li> <li>⊙ ترتفع نسبة الرطوبة في شهري أغسطس وسبتمبر.</li> <li>⊙ تتراوح درجة الحرارة ما بين ٤٢ / ٤٨ مئوية في الظل.</li> <li>⊙ فصل جاف والأمطار نادرة.</li> </ul> |

### □ علل: اختلاف المناخ بين مناطق دول العالم:

- يتأثر المناخ في العالم بعدة عوامل تؤدي إلى اختلاف المناخ من مكان لآخر وأهم العوامل:
- (١) الموقع الفلكي (موقع المكان بالنسبة لدوائر العرض).
- (٢) التضاريس (٣) الغطاء النباتي (٤) تأثير المسطحات المائية.

### ☆ علل: يتميز مناخ دولة الكويت بجفافه وقلة رطوبته ::

١. نسبة التبخر العالية.
٢. قلة وندرة سقوط الأمطار.

### ⑤ ما الأقليم المناخي الذي تنتمي إليه دولة الكويت؟

- تنتمي الكويت للمناخ الصحراوي القاري والذي يمتاز بارتفاع درجة الحرارة معظم فصول السنة وندرة سقوط الأمطار ووجود فصلين رئيسيين (الصيف والشتاء) وفصلين ثانويين (الربيع والخريف).



## ١٠ اقترح حلولاً لترشيد المياه في دولة الكويت للمحافظة على هذه الثروة.

- (١) استخدام طرق الري الحديثة في الزراعة مثل الري بالرش والري بالتنقيط والري المحوري.
- (٢) نشر الوعي بين السكان بأهمية المحافظة على المياه وعدم الأسراف.
- (٣) تشديد العقوبات على المخالفين والذين يتسببون في هدر المياه.
- (٤) زراعة المحاصيل التي تتحمل الجفاف وتحتاج لكميات مياه قليلة.

## ١١ أكتب نبذة مختصرة عن [ إدارة الأرصاد الجوية ] التابعة للطيران المدني في دولة الكويت.

نشأتها: تأسست عام ١٩٥٣م

موقعها: المقر الرئيسي في مطار الكويت الدولي بمدينة الكويت.

أهم أعمالها: (١) الجهة الرسمية المسؤولة عن اصدار تقارير الطقس والمناخ والتحذيرات من الطقس القاسي.

(٢) اصدار الإنذارات الجوية للتحذير من الظواهر العنيفة كالعواصف الرعدية والرملية والترابية قبل حدوثها.

(٣) سلامة حركة الملاحة الجوية في مطار الكويت الدولي

فوائدها للمجتمع: (١) تقديم النشرة الجوية مرتان في اليوم للجمهور.

(٢) تحذير الناس من الطقس القاسي.

(٣) تحذير الناس من الظاهر المناخية العنيفة .

(٤) تقديم المعلومات عن أحوال الطقس للطائرات والركاب في مطار الكويت الدولي.

أذكر ما تعرفه عن: الموارد المائية في دولة الكويت.

- الموارد المائية شحيحة- ترتفع نسبة الملوحة،
- توجد المياه الصالحة للاستهلاك الآدمي في مناطق [ الروضتين - ام العيش - العبدلي - الوفرة ].
- توجد الآبار الضحلة في المناطق الشرقية من الكويت.

## الرياح في دولة الكويت

## ★ قارن بين أنواع الرياح التالية:

| أوجه المقارنة   | الرياح الشمالية الغربية  | الرياح الجنوبية الشرقية  | السموم  | العواصف الترابية   |
|-----------------|--|--|---|--|
| المميزات        | تهب طوال العام.<br>رياح جافة تتأثر بمنطقة الضغط الجوي المنخفض فوق سيبيريا شمال آسيا. | رياح دافئة تهب من الجنوب الشرقي وتتأثر بمنطقة الضغط الجوي المنخفض السوداني.        | رياح جافة تهب في الظهيرة وهي ذات درجات حرارة عالية. تهب من الشمال والشرق. | تهب في أواخر الربيع وأوائل الصيف وتثير الغبار والعواصف الرعدية (السرايات).   |
| الآثار المناخية | خفض درجة الحرارة في الصيف، وتسبب البرودة الشديدة في الشتاء.                          | ترفع الحرارة وتزيد الرطوبة في الصيف وفي الشتاء تؤدي إلى اعتدال الجو وتسقط الأمطار. | تخفض نسبة الرطوبة النسبية. ترفع درجة الحرارة لمستوى عال جداً.             | تسبب سقوط الأمطار الغزيرة في أواخر الربيع وأوائل الصيف، ويطلق عليها السرايات |





الصورة المقابلة تمثل مظهر لنوع من الرياح تسمى . السرايات .

متي تهب هذه الرياح . اواخر الربيع واول الصيف ؟

★ ما الآثار السلبية المترتبة عليها ؟

١. حوادث الطرق السريعة
٢. تدمير مزارع الخضر والفاكهة.
٣. الإصابة بالأمراض الصدرية.
٤. صعوبة الرؤية علي الطرق.

■ **علل: الرياح الشمالية الغربية رياح جافة لا تسبب سقوط الأمطار:**

- لأنها رياح قادمة من اليابس ولا تمر على مسطحات مائية وجافة لا تتشبع ببخار الماء.

■ **علل: الرياح الشمالية الغربية تؤدي إلى خفض درجة الحرارة في الكويت صيفاً وشتاءً:**

- لأنها تتأثر بالمنخفض الجوي السيبيري في شمال قارة آسيا.

■ **علل: الرياح الجنوبية الشرقية (الكوس) ترفع من درجة الحرارة ونسبة الرطوبة صيفاً:**

- لأنها تتأثر بالمنخفض الجوي السوداني في المنطقة المدارية الحارة.

■ **علل: تؤدي الرياح الجنوبية الشرقية (الكوس) إلى سقوط الأمطار على الكويت شتاءً:**

- تمر على مسطحات مائية مثل البحر الحمر وتتشبع ببخار الماء وقد تسقط أمطار.

■ **علل: رياح السموم رياح جافة وترفع من درجة الحرارة في فصل الصيف:**

- رياح محلية تهب من مناطق صحراوية حارة وتكون محملة بالرمال والأتربة

■ **علل: تعرض الكويت للعواصف الترابية في أواخر الربيع وأوائل الصيف:**

- لاختلاف نظم الضغط فوق شبة الجزيرة العربية.

⑤ **ضع المصطلح الجغرافي المناسب أمام العبارات التالية:**

١. ( . الشمالية الغربية ) رياح تهب معظم أيام السنة، جافة، وتؤدي لخفض الحرارة صيفاً وشتاءً.
٢. ( . الجنوبية الشرقية . الكوس ) رياح رطبة دافئة تهب من الجنوب الشرقي وترفع الحرارة والرطوبة صيفاً وقد تسقط المطر شتاءً.
٣. ( . الشمالية الغربية ) رياح دائمة جافة تتأثر بالضغط المرتفع فوق سيبيريا وتخفف الحرارة صيفاً.
٤. ( . الجنوبية الشرقية . الكوس ) رياح دافئة تتأثر بالمنخفض السوداني وترفع الحرارة والرطوبة صيفاً.
٥. ( . السرايات ) تهب في أواخر الربيع وأوائل الصيف وتثير الغبار وتسقط الأمطار الرعدية.
٦. ( ... السموم ) رياح تهب من الشمال والشرق ترفع درجة الحرارة في فصل الصيف وتخفف الرطوبة النسبية.

○ **أكمل العبارات التالية بالكلمة المناسبة.**

١. الرياح الشمالية الغربية التي تهب على الكويت رياح جافة لتأثرها بنطاق ضغط يسمى ... المرتفع السيبيري ..
٢. الرياح التي تسبب في خفض درجة الحرارة صيفاً وشتاءً على دولة الكويت تسمى . الشمالية الغربية ...
٣. الرياح الجنوبية الشرقية (الكوس) دافئة لتأثرها بنطاق ضغط منخفض يسمى .. المنخفض السوداني ..
٤. رياح جافة تهب في الظهيرة من الشمال والشرق وترفع درجة الحرارة صيفاً تسمى ... السموم .....
٥. العواصف الرعدية التي تسقط الأمطار الغزيرة أواخر الربيع وأوائل الصيف تسمى .. السرايات ..

## خامساً: السكان في دولة الكويت

✍ علل: الكويت افتقدت لعناصر البناء السياسي للدولة قبل نزول العتوب بها :

١. عدم وجود السلطة الحاكمة في المنطقة.
٢. عدم وجود الحدود السياسية لتلك المنطقة.

🕒 اذكر أهمية السلطة بالنسبة للحاكمة بالنسبة للدولة .

١. تضفي الطابع السياسي علي المكان والشعب الذي يعيش في هذا المكان.
٢. السلطة الحاكمة تدير شؤونها وتحكمها.
٣. السلطة الحاكمة تدين لها الجماعات بالولاء والانتماء.

تعداد السكان ١٩٥٧م: أول تعداد رسمي موثق للسكان في دولة الكويت في عهد الحاكم الشيخ عبد الله السالم الصباح وقامت بإجرائه دائرة الشؤون الاجتماعية.

✍ أكمل العبارات التالية:

١. الوجود البشري في منطقة الكويت يعود إلي مدة زمنية تبلغ .. أربعة آلاف عام..... ق/م.
٢. الأقليم الذي يحتل المنطقة الغربية للخليج العربي قديماً كان يسمى .. إقليم البحرين.....
٣. الآثار الحضارية القديمة عثر عليها في مناطق بالكويت مثل .. فيلكا... و .. واره... و .. برقان... و .. الصبية ...

■ أستكمل جدول المقارنة التالي بين التعدادات السكانية في دولة الكويت:

| المقارنة                     | تعداد ١٩٩٠م   | تعداد ٢٠١٤م  |
|------------------------------|---|--|
| الحاكم                       | الشيخ جابر الأحمد الصباح  | الشيخ صباح الأحمد الصباح   |
| المميزات الديموغرافية للسكان | بلغ إجمالي عدد السكان ( ٢,١ ) مليون نسمة منهم ( ٧٢ % ) من الوافدين. | بلغ عدد السكان ( ٤ م نسمة ) كالتالي ( ١,٣ م نسمة ) من الكويتيين، ( ٢,٨ م نسمة ) من الوافدين. |

■ علل: تعرض السكان لتغيرات كبيرة في عام ١٩٩٠م:

■ علل: قلة عدد الوافدين في دولة الكويت بعد عام ١٩٩٠م :

١. نتيجة العدوان والاحتلال العراقي لدولة الكويت (أغسطس ١٩٩٠م).
٢. هجرة كبيرة للوافدين العرب وغيرهم إلى أوطانهم.

✍ أكمل العبارات التالية بالكلمة المناسبة:

١. أول تعداد رسمي موثق لسكان دولة الكويت تم في عام ١٩٥٧ م .
٢. أول تعداد رسمي موثق لسكان دولة الكويت تم في عهد حاكم الكويت الراحل وأسمه.... عبد الله السالم ...
٣. بلغت نسبة الوافدين من إجمالي سكان الكويت حسب تعداد ١٩٩٠ م... ( ٧٢ % ) ....
٤. الدولة التي احتلت دولة الكويت عام ١٩٩٠م تسمى .... العراق.....
٥. الجهة الحكومية التي قامت بإجراء تعداد السكان عام ١٩٥٧م تسمى .... الشؤون الاجتماعية ....

❖ علي الشكل المقابل فرق بين نسبة المواطنين الكويتيين في:

(١) تعداد ١٩٩٠م,

(٢) تعداد ٢٠١٤م,

## الأنشطة الاقتصادية قديماً

الكتاب المدرسي ص ( ٣٩ ، ٤١ )

❖ **بم تفسر: تميز النشاط الاقتصادي قديماً ( قبل اكتشاف النفط) بالتنوع :**

( كان للنشاط الاقتصادي قديماً في الكويت وجهان ) - **أشرح العبارة السابقة:**

١. النشاط البحري: المتعلق بالصيد والغوص على اللؤلؤ وصناعة السفن والتجارة البحرية.
٢. النشاط المتعلق بالبادية كالرعي والصيد وغيرها من أعمال البداوة.

❖ **علل: ادى تنوع النشاط الاقتصادي في الكويت قديماً في التأثير على المجتمع الكويتي :**

١. كان للنشاط البحري والبري أثراً في تكوين العادات والتقاليد.
٢. أثر التنوع الاقتصادي في التركيبة الاجتماعية والبنية الاقتصادية في الكويت قديماً.

❖ **بم تفسر الخليج العربي قديماً كان حلقة وصل واتصال حضاري للشعوب:**

❖ **بم تفسر: الأهمية التجارية والحضارية للخليج العربي قديماً:**

١. يقع في موقع متوسط من قارات العالم القديم (آسيا/ أفريقيا/ أوروبا).
٢. وجود مضيق هرمز (يصل بين خليج عمان والخليج العربي).
٣. الخليج العربي أحد أذرع المحيط الهندي في شبة جزيرة العرب.
٤. توفر الموارد الطبيعية البرية والبحرية (التمر- اللؤلؤ....).
٥. توفر وسائل نقل التجارة براً وبحراً للبلدان المحيطة.

➔ **لخص ملامح المجتمع الكويتي قبل ظهور النفط ؟. (مميزات المجتمع الكويتي).**

١. مجتمع بسيط وهادئ تميز بالتلاحم والتكافل والعمل الجماعي.
٢. مجتمع متفهم لفكرة مبدأ الشورى والحكم المشترك الضمان لوحدة وترابطه.
٣. مجتمع تقبل الهجرات ودمجها.
٤. مجتمع اتسم بالمرونة والانفتاح على مختلف الثقافات.
٥. مجتمع يظهر قدرة كبيرة على المواجهة والتحدى استطاع النجاح والمحافظة على وجوده.

✍ **علل: استطاع الاقتصاد الكويتي ان ينمو ويزدهر قبل ظهور النفط :**

١. النشاط التجاري حيث وصلت سفن الكويتيين إلى الهند وسواحل أفريقيا.
٢. كان الغوص والرعي والزراعة البسيطة أساس قيام الاقتصاد.

○ **بم تفسر: أهمية طريق الحرير التجاري قديماً :**

- (١) وسيلة الاتصال التجاري بين ق قارات العالم القديم (آسيا وأفريقيا وأوروبا).
- (٢) زيادة وسهولة التبادل التجاري بين الشرق والغرب.

❖ **أذكر أهم المسطحات المائية التي يمر بها طريق الحرير البحري:**

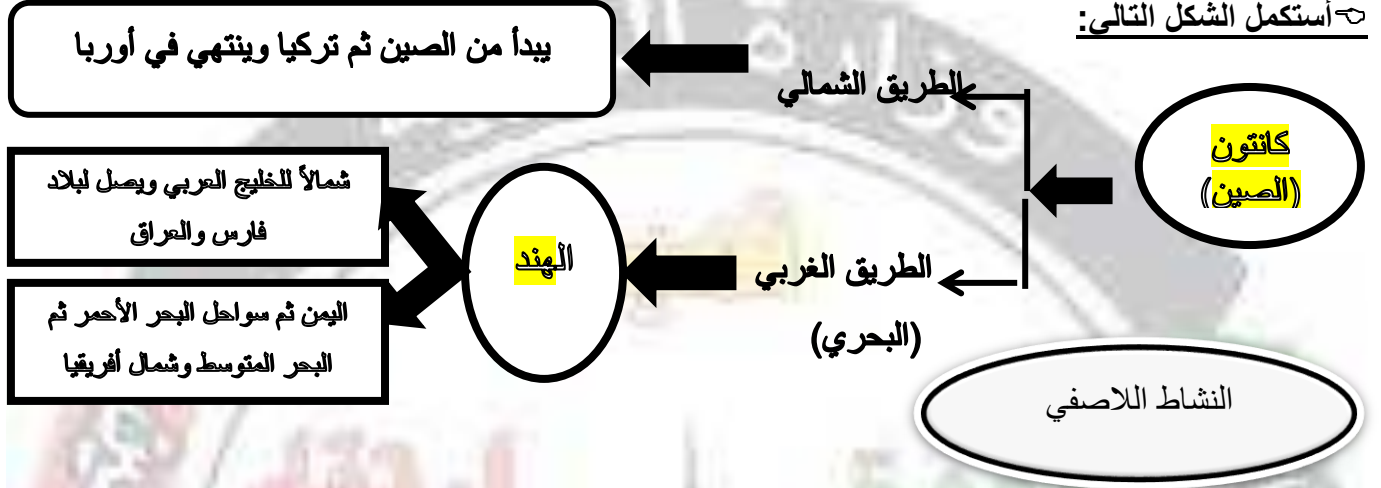
☞ المحيط الهادي: بحر الصين الجنوبي- البحر الأصفر شرقاً في الصين - المحيط الهندي - بحر العرب - خليج عمان- الخليج العربي - خليج عدن - البحر الأحمر- البحر المتوسط.



يبدأ من الصين وله مساران رئيسيان الأول شمالي ويبدأ من الصين ويتجه لأوروبا.  
المسار الثاني الغربي (طريق الحرير البحري) ويبدأ من مدينة (كانتون) في الصين  
ويعبر بحر الصين- سواحل الهند- ويتفرع لفرعين الأول يتجه شمالاً لمياه الخليج  
العربي ليصل لفارس والعراق، والفرع الثاني يتجه غرباً إلى البحر الأحمر ثم البحر  
المتوسط وشمال أفريقيا.

### طريق الحرير

استكمل الشكل التالي:



أكمل العبارات التالية:

١. المدينة الصينية التي يبدأ منها طريق الحرير البحري تسمى .... كانتون..
٢. الذراع الشرقي للمحيط الهندي مسطح مائي يسمى ... خليج البنغال..
٣. المسار الغربي لطريق الحرير التجاري يسمى ... طريق الحرير البحري ..
٤. المحور التجاري الأكثر استخداماً للتجارة الدولية قديماً يسمى ... طريق الحرير..
٥. الذراع البحري للمحيط الهندي في شبه جزيرة العرب يسمى .... الخليج العربي ...
٦. المضيق البحري الذي يصل بين خليج عمان والخليج العربي يسمى ... هرمز ..

( الكتاب المدرسي ص ٤٢ )

### النشاط البحري

بم تفسر: لعب المناخ دوراً هاماً في اتجاه سكان الكويت قديماً إلى العمل في النشاط البحري:

سيادة النشاط البحري في الكويت قديماً قبا ظهور النفط:

١. تقع الكويت في منطقة صحراوية قليلة الموارد.
٢. قلة الأمطار والجفاف.
٣. عدم صلاحية الأرض للزراعة وانتشار الكثبان الرملية.



## أولاً: صيد الأسماك.

❖ **بم تفسر: انتعاش حرفة صيد الأسماك في الكويت قبل ظهور النفط :**

١. كانت مصدر من مصادر الدخل للسكان.
  ٢. كانت الأسماك الغذاء الرئيسي للسكان.
  ٣. كانت مياه الخليج تمتلئ بالأسماك الجيدة والمختلفة الأشكال والأحجام.
  ٤. كان الفناض من الأسماك يملح ويجفف ويصدر للموانئ المجاورة.
- 👉 **أكمل:** أهم أنواع الأسماك في مياه الخليج .. النوبيي - الزبيدي - الهامور - النقرور - البياح.....

👉 **أكمل:** من الأدوات والمعدات المستخدمة في الصيد .الميدار. و ..القمبار.....



### الصيد بالإضاءة:

يتجمع السمك حول سراج  
يحملة الصياد فيقوم بضرب  
السمك بألة حادة كالسيف أو  
العصا في نهايتها حربة

✍ **أذكر أهم طرق الصيد في دولة الكويت**

- (١) الصيد بالشباك والميدار (السنارة)
- (٢) الصيد بالحظور المصنوعة من القصب.
- (٣) الصيد بالقرقرور.
- (٤) الصيد بالإضاءة (السراج).

👉 **أكمل:** من انواع السفن التي تستعمل في الصيد ..الشوعي. و..الهوري.و.الجالبور

❖ **أذكر أهم مناطق الصيد على ساحل الكويت:**

**أولاً:** المصايد الشمالية. في فيلكا، وربة، خور الزبير، مسكان، كاظمة، الصبية.  
**ثانياً:** المصايد الجنوبية: في راس الزور، الجليعة .....

👉 **علل: أهمية جون الكويت :**

١. يمتاز بهدوء المواجه وقلة التيارات المائية القوية وضحالة وقلة عمق المياه مما يساعد علي:
٢. تكوين بيئة مناسبة لنمو وتكاثر الأسماك.
٣. بناء الموانئ الطبيعية للسفن التجارية وسفن الصيد.

الكتاب المدرسي ص ( ٤٣ / ٤٥ )

## ثانياً: صناعة السفن

👉 **بم تفسر: ازدهار صناعة السفن في دولة الكويت قديماً :**

**الأسناد:** الذي يقوم بتصميم السفينة  
**القلاف:** الذي يقوم بعملية إعداد المواد  
اللازمة للصناعة ثم عملية بناء السفينة.

١. هبوب الرياح الموسمية علي منطقة الخليج العربية يساعد في دفع السفن لسواحل الهند وآسيا.
٢. توفر الأيدي العاملة لصناعة السفن.
٣. تمتع الكويت بواجهة بحرية طويلة علي الخليج العربي.
٤. براعة الأساتذة والقلاليف في صناعة السفن.
٥. توفر مصادر المواد المستخدمة في صناعة السفن.

👉 **علل: ساعدت تضاريس الواجهة البحرية للكويت على ازدهار صناعة السفن:**

- ١) جبهة بحرية طويلة تمتد من أقصى الشمال لأقصى الجنوب.
- ٢) تنتشر بالجبهة البحرية التعرجات تستخدم لرسو السفن.
- ٣) وجود جون الكويت في الشمال.
- ٤) انتشار العديد من الجزر في المياه الإقليمية للكويت.
- ٥) وجود النقع (البناء السفن) والعمائر الساحلية (مخازن المواد المستخدمة في صناعة السفن).

❖ **أذكر بعض أنواع السفن الكويتية وأهم استخدامات كل نوع من السفن:**

- سفن الغوص علي اللؤلؤ ( بوم الغوص- السنبوك - الجالبوت - الشوعي - البقارة - البتيل ).
- سفن التجارة البحرية ( البغلة - البوم )

❖ **وضح مظاهر اعتزاز الكويت بالتراث البحري.**



- ١- اتخذت دولة الكويت سفينة (البوم) لتكون شعار للدولة وكذلك العملة الوطنية.
- ٢- تنزين المؤسسات والمصالح الحكومية والخاصة بصور ومشاهد تعبر عن التراث البحري للكويت قديماً.

▪ **من اين كانت تجلب الأخشاب المستخدمة في صناعة السفن في دولة الكويت قديماً؟**

كانت تجلب الأخشاب من الهند وساحل شرق أفريقيا.

الكتاب المدرسي ص ( ٤٦ / ٤٨ )

**ثالثاً: الغوص على اللؤلؤ**

📌 **عرف المفاهيم التالية:**

**الهيئات:** منابت المحار  
المحتوي على اللؤلؤ في قاع  
الخليج العربي.

**موسم الغوص:** في بداية موسم الصيف تتجه  
المنابت من السفن الشراعية نحو الهيئات  
لجمع المحار من قاع الخليج العربي.

▪ **(ب) من أكون:**

ربان السفينة

اعمل تاجراً للؤلؤ

أنا اعمل صانع للسفن

مطرب  
السفينة

أنا اتدرب على مهنة  
الغوص

بغوص في أعماق البحر  
بحثاً عن اللؤلؤ

👉 **علل: انصراف سكان دول الخليج العربية عن حرفة الغوص عن اللؤلؤ .:**

١. صعوبة الهنة وكثرة الأخطار التي يتعرض لها العاملون.
٢. ظهور النفط في الكويت وبدأت الكويت تصدير أولي الشحنات النفطية في الخمسينات.
٣. انصراف السكان للعمل بالمهن المرتبطة بالنفط وارتفاع الدخل.
٤. اكتشاف اليابان اللؤلؤ الصناعي حيث يتم زراعته المحار في مزارع خاصة لا نتاج اللؤلؤ.
٥. انخفاض تكاليف إنتاج اللؤلؤ الصناعي.

### وضّح مدى تأثير حرفة الغوص على أهل الكويت قديماً.

١. تقوية العلاقات بين السكان وتواصل قيم الصدق والأمانة.
٢. الاحترام المتبادل بين السكان وتكوين الأسرة الواحدة.
٣. التعاون والتعاقد بين السكان.
٤. الالتزام والطاعة.

### أذكر أنواع السفن المستخدمة في مهنة الغوص على اللؤلؤ.

- ( يوم الغوص- السنبوك - الجالوت - الشوعي - البقارة - البتيل .....).

### ❖ أذكر أسماء العاملين فقط على سفينة الغوص.

....النوخة - المجدمي - الغيص - السيب - النهام - الرضيف - الطواش .....

### علل: يعتبر النوخة أهم شخصية في سفينة الغوص على اللؤلؤ :

١. قائد السفينة وربانها والمسؤول عنها وعن طاقمها.
٢. المسؤول عن تحديد أماكن الغوص والبحث عن مزارع اللؤلؤ ( الهيرات ).
٣. تتوفر لديه القدرة على معرفة المسالك والطرق ومعرفة الاتجاهات البحرية.
٤. اتخاذ جميع القرارات ومنها إعطاء إذن للبحارة بمغادرة السفينة.
٥. المسؤول عن ضمان سلامة طاقم السفينة.

### النشاط اللاصفي

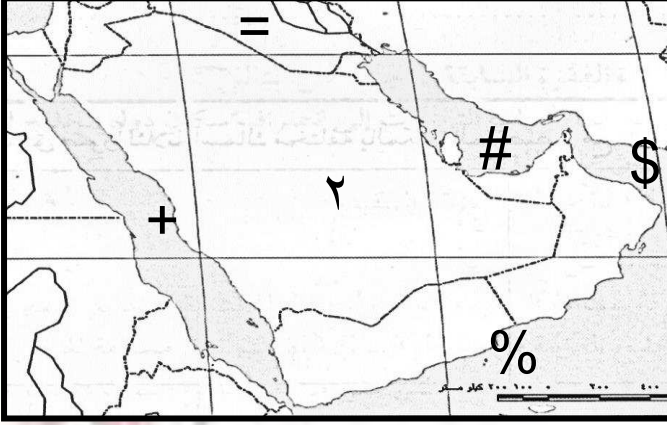
اختر من القائمة ( أ ) ما يناسبها من القائمة ( ب ) بوضع الرقم المناسب:

| م | ( أ ) اسم الحرفة | الرقم المناسب | ( ب ) أهم أعمالهم                                   |
|---|------------------|---------------|---|
| ١ | النوخة           | ( ٤ )         | تجار اللؤلؤ   |
| ٢ | المجدمي          | ( ٥ )         | مطرب السفينة  |
| ٣ | الغواص           | ( ٣ )         | يغوص في البحر بحثاً عن اللؤلؤ                       |
| ٤ | النهام           | ( ٢ )         | ربان السفينة  |
| ٥ | الطواش           | ( ١ )         | رئيس البحرية  |
| ٦ | القلاف           | ( ٦ )         | صانع السفن  |
| ٧ | الرضيف           | ( ٨ )         | الصبية الذين يعملون على ظهر السفينة لاكتساب الخبرة. |
| ٨ | التباب           | ( ٧ )         | صغار السن وهو مساعد السيب                           |



## ٢- فرق بين المفاهيم التالية:

| الدشة:                             | القفال:  |
|------------------------------------|--|
| بداية موسم الغوص وتبدأ في شهر مايو | نهاية موسم الغوص ونهايته في شهر سبتمبر أو أكتوبر |



على الخريطة الصماء ضع الرموز في مكانها الصحيح :

١. البحر الأحمر والرمز ( + ).
٢. الخليج العربي والرمز ( # ).
٣. خليج عمان والرمز ( \$ ).
٤. بحر العرب والرمز ( % ).
٥. دولة العراق والرمز ( = ).
٦. المملكة العربية السعودية والرمز ( ٢ ).

### الكتاب المدرسي ص ( ٣٠ )

#### موسم السفر: الموسم

الرئيسي للتجارة ويبدأ  
وبدايته تسمى (الدشة) في  
شهر أغسطس وينتهي في  
شهر مايو (الأغلاق) مع  
هبوب الرياح الموسمية  
المسببة لعلو وهيجان  
أمواج المحيط الهندي

#### ■ بم تفسر: كانت الكويت من المراكز التجارية الدولية الهامة:

١. تتميز بموقع جغرافي جيد.
٢. الموقع استراتيجي جعلها من المراكز التجارية الهامة.
٣. حلقة الوصل بين الشرق والغرب.
٤. كانت الكويت نقطة ترانزيت (إعادة تصدير الواردات).
٥. خبرة السكان بسبب العمل في صناعة السفن والغوص على اللؤلؤ.

#### ■ علل: أغلاق موسم السفر قديماً في نهاية شهر مايو (الشهر الخامس) :

١. هبوب الرياح الموسمية المسببة لعلو أمواج البحر.
٢. هيجان المحيط الهندي وبحر العرب وعلو أمواجه.

#### ■ بم تفسر: يعتبر حجم السوق الكويتي قديماً صغيراً جداً:

١. قلة عدد السكان.
٢. ضعف القوة الشرائية للسكان.
٣. نقص الموارد الطبيعية بسبب البيئة الصحراوية الفقيرة.



### ○ أذكر الإجراءات التي اتخذتها السلطة الحاكمة في الكويت قديماً لتشجيع التجارة .

١. عدم رفع المكوس والضرائب لاجتذاب التجار وتشجيع السفن للرسو في ميناء الكويت.
٢. نافست الكويت بتلك الإجراءات الموانئ الأخرى (القطيف والبصرة) الأعلى ضريبة.
٣. تقديم الحكام الرعاية والأمن للتجار النازلين بالكويت.
٤. الاهتمام بالتجارة والنقل البري ليجعل التكامل التجاري بين النشاطين البحري والبري أكثر نشاط وإيجابية للتجار في الكويت.

#### أولاً: مهنة الرعي

#### النشاط البري

الكتاب المدرسي ص ( ٣١ )

بم تفسر: صنفت الكويت ضمن المناطق الصحراوية:

- لقلة سقوط الأمطار عليها.
- هبوب الرياح الشمالية الغربية الجافة معظم أيام السنة.



أكمل العبارات التالية:

- (١) الحرفة الرئيسية لسكان البادية بالكويت تسمى...الرعي....
- (٢) حرفة الرعي في الكويت ارتبطت بموسم....الأمطار....
- (٣) من النباتات الموسمية في الكويت ..العرج و ..الحويذان...
- (٤) من النباتات المعمرة في دولة الكويت ..الحمض...و...التندا...

علل: تراجع مهنة الرعي في وقتنا الحالي :-

١. ظهور النفط والعمل بالمهن المرتبطة بالنفط.
٢. استقرار السكان بالمدن والعمل بالوظائف الحكومية والخدمات.
٣. الصعوبات التي تواجه مهنة الرعي ( الحرارة - الجفاف - مشقة المهنة....).

الكتاب المدرسي ص ( ٣١ / ٣٢ )

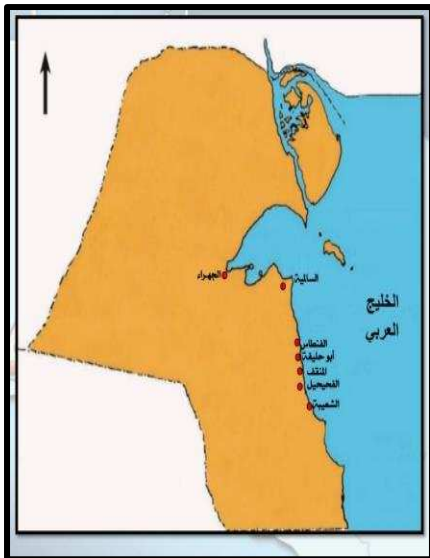
#### ثانياً: مهنة الزراعة

بم تفسر: عدم انتشار الزراعة في الكويت قديماً :

١. الكويت بلد صحراوي يعاني من نقص المياه.
٢. ارتفاع درجات الحرارة معظم أيام السنة.
٣. عدم خصوبة التربة وانتشار الكثبان الرملية.

☆ كيف تغلب أهل الكويت على الظروف المناخية القاسية :

١. زراعة النباتات التي تتلاءم مع البيئة القاسية.
٢. استخدام مياه الأمطار القليلة،
٣. استخدام مياه الآبار السطحية.
٤. زراعة أشجار الأثل وأشجار السدر كمصدات للرياح.



### على خريطة الكويت الصماء حدد مناطق الزراعة قديماً.

(الدمنة - الجهراء - الفنتاس - الفحيحيل - الشعبية - المنقف).

### المحاصيل الزراعية في الكويت قديماً- أذكرها.

١. الخضروات والحبوب مثل (القمح - الشعير)، ونباتات الأعلاف البرسيم (الجت)، زراعة أشجار الأثل والسدر ومن النباتات البرية (العرفج - الحنظل - الشندا - الأرتة - الحمض).

### وضح كيفية تطور الزراعة دولة الكويت.

١. اتباع وسائل الزراعة الحديثة مثل الزراعة المحمية - الزراعة بدون تربة - البيوت الزجاجية.
٢. استخدام طرق الري الحديثة مثل (الرش المحوري - الري بالتنقيط).
٣. استنباط سلالات جديدة من المحاصيل تتحمل الجفاف والحرارة.
٤. مكافحة تحرك الكثبان الرملية وزراعة الأشجار كمصدات الرياح.

الكتاب المدرسي ص (٥٤ / ٥٧)

## ثالثاً: الحرف اليدوية

أكمل: الحرف اليدوية تعتبر جزء من التراث القديم وكانت تلبي احتياجات الكويت ... الداخلية ..

أكمل: النجار قديماً استخدم الأخشاب المستوردة من ... شرق أفريقيا .. و ... الهند .....

استكمل الجدول التالي لأهم الحرف اليدوية القديمة بوضع المهنة في المكان المناسب.

| م | المهنة اليدوية | التعريف   |
|---|----------------|---|
| ١ | النجارة        | حرفة يدوية توفر مستلزمات البناء والمستلزمات المنزلية وتستخدم الأخشاب المستوردة من الهند وأفريقيا. |
| ٢ | الحدادة        | صناعة المسامير لصناعة السفن، وصناعة الأدوات المستخدمة في الزراعة والمنازل.                        |
| ٣ | الصفار         | يقوم العاملون بصنع وتلميع القدور المستخدمة في الطبخ.  |
| ٤ | القفاص         | يستخدم العاملون جريد النخيل بثقبه وإدخال أطرافه في الثقوب لصنع الأقفاص والأدوات المنزلية.         |
| ٥ | الحيّاك        | صناعة وخياطة الملابس كالبشوت.   |
| ٦ | النداف         | تنجيد وصناعة المساند والفرش مستخدماً القطن.   |
| ٧ | التناك         | يستخدم العاملون الصفائح المعدنية لصنع المحقان والدوة والسطول.                                     |
| ٨ | السدو          | حرفة تزاولها المرأة وتقوم بحياكة الصوف لصنع بيت الشعر.....  |

### علل: أهمية حرفة النجارة في الكويت قديماً.

١. توفير مستلزمات البناء.
٢. توفير المستلزمات المنزلية قديماً.

■ أذكر نماذج للأدوات التي يصنعها النجار قديمًا:

[الأبواب والنوافذ والتخوت وحواجز الباستجيل، وألعاب الأطفال كالنباطة والدومة، أدوات أخرى مثل الشداخة والتخته والسحارة وكرسي البرمة والمرازيم .....].

■ فرق بين المفاهيم التالية:

|  |   |
|--|---|
| <b>الشداخة:</b> تصنع من الخشب وتستخدم لصيد الفئران في المنازل.   | <b>المرازيم:</b> تصنع من ألواح الخشب أو الصفيح أو الصفيح لتصريف مياه الأمطار.                               |
| <b>المنز:</b> السرير الذي ينام عليه الطفل قديمًا ويصنعه القفاص من جريد النخل.                                | <b>البرك:</b> صندوق له فتحة من أعلي لوضع المأكولات ويصنعه القفاص من جريد النخل.                             |
| <b>العدول:</b> ومفردها العدول عبارة عن أكياس كبيرة لحفظ الطعام وتوضع علي ظهر الدابة وبها حاجات الراكب أيضًا. | <b>الزاد:</b> (مفردها المزودة من الزاد) وعبارة عن أكياس متوسطة لحفظ الطعام والملابس وتصنع من الصوف (السدو). |

أكمل الشكل التالي:





١٤) أذكر المناطق التي رصدت بها آثار الإنسان القديم.

(وارة - القرين - سهل البرقان في الجنوب - تل الصليبخات - كاظمة - الصبية - جزيرة فيلكا).

١٥) بم تفسر: تمثل آثار منطقة الصبية قيمة أثرية كبيرة:

١. يوجد بالصبية أقدم الحفريات الجيولوجية (الفترة ما بين ١٥ / ٢٠ مليون سنة).
٢. وجود مئات المواقع الأثرية التي تثبت وجود حضارة العبيد القديمة.
٣. تثبت المواقع الأثرية أن حضارة العبيد القديمة كانت مستقلة عن حضارات بلاد الرافدين.

علل: برهنت آثار الصبية على انفصال حضارة العبيد عن بلاد الرافدين:

- ١) العثور على أقدم القرى السكنية في بحرة وطبيخ.
  - ٢) العثور على الجرار الفخارية.
  - ٣) العثور على الرحي الحجرية التي تستخدم في طحن الغلال وأدوات الغزل وحياسة القماش ومساكن بيضاوية.
  - ٤) العثور على المدافن الركامية ذات الأشكال الدائرية والمستطيلة.
- أكمل العبارات التالية:

١. برهنت الآثار بالصبية على انفصال حضارة العبيد عن حضارة تسمى... بلاد الرافدين ..
٢. عثر على أقدم قارب فخاري في منطقة الخليج العربي في منطقة تسمى... الصبية ...
٣. أطلق على الحضارة التي وجدت آثارها في منطقة الصبية اسم... العبيد ...
٤. الحضارة التي وجدت آثارها بالصبية وترجع للفترة (٥٥٠٠ / ٤٥٠٠ ق.م) تسمى... العبيد القديمة ...
٥. في النصف الثاني من الألف الأول قبل الميلاد دخلت الكويت في فلك الحضارة... الأغريقية ...
٦. عثر على الأدلة الأثرية للحضارة الإغريقية في منطقتي.. ج أم النمل .. و... ج فيلكا ..
٧. ترجع أقدم الآثار التاريخية في جزيرة فيلكا إلى الحضارة... الدلمونية ...
٨. حجر إيكاروس عثر عليه في منطقة أثرية تسمى... فيلكا .....
٩. استمر الوجود الإغريقي على جزر جون الكويت حتى... القرن الأول .. قبل الميلاد.
١٠. جزيرة فيلكا قامت بدور الوسيط التجاري بين... الهند .. و... بلاد الرافدين ...
١١. الأختام المستديرة التي تحمل نقوش أساطير وجدت في منطقة تسمى... فيلكا ..
١٢. المنطقة التي لعبت دور رئيسي في الخليج العربي خلال... ألف الثاني والثالث ق/م تسمى... الكويت ...
١٣. عدد الأختام المستديرة التي عثر عليها في جزيرة فيلكا أكثر من... ٤٠٠ ... ختم...
١٤. المعركة التي تعتبر بوابة دخول الإسلام للعراق وإيران عام ١٢ هـ تسمى... ذات السلاسل ..



**معركة ذات السلاسل ١٢هـ / ٦٣٣م.** وقعت في منطقة **كاظمة** بالكويت وكانت بين **الفرس** و**المسلمون** وتعتبر بوابة دخول الإسلام **للعراق** و**إيران** وانتصر المسلمون بقيادة **خالد بن الوليد** علي **الفرس**.

☀ **علل: أهمية الأختام المستديرة قديماً:**

(تستخدم الأختام كتعويذة، أو كختم تجاري أو هوية لحامل الختم).

☀ **وزع المظاهر الحضارية التالية حسب الحضارة التي تنتمي إليها:**

(معركة ذات السلاسل - القرى في بحرة وطبيج شمال الصبية - العملة الأموية - القلعة الهلنستية - طريق الحج البصري - آبار المياه - تل الخزنة - الجرار الفخارية والرحى الحجرية - الأختام المستديرة - العملات النحاسية - المدافن الركامية الدائرية والمستطيلة - تمثال الطين المحروق).

| حضارة العبيد بالصبية   | الحضارة الإغريقية   | الحضارة الإسلامية  |
|--|---|--|
| القرى في بحرة وطبيج.<br>آبار المياه.<br>الجرار الفخارية والرحى الحجرية.<br>المدافن الركامية. | القلعة الهلنستية.<br>تل الخزنة.<br>الاختام المستديرة.<br>تمثال الطين المحروق. | معركة ذات السلاسل .<br>العملة الأموية.<br>طريق الحج البصري.<br>العملات النحاسية. |

☞ **علل: كانت الكويت همزة الوصل بين حضارة بلاد الرافدين شمالاً وحضارة السند جنوباً :**

١. قيامها بدور الوسيط التجاري بين العراق والهند.
٢. الموقع الجغرافي المتميز عند رأس الخليج العربي.

☞ **عرف الحضارات التالية:**

- **الحضارة الأغريقية:** الحضارة القديمة التي ظهرت في بلاد اليونان قديماً وسيطرت على حوض البحر المتوسط ووصل نفوذها حتى الكويت شرقاً.
- **الحضارة الدلمونية:** ظهرت في منطقة الخليج العربية ومركزها البحرين (دلمون القديمة) وكانت تقوم بدور الوسيط التجاري بين حضارات الهند وحضارات بلاد الرافدين واشتهرت بالأختام المستديرة والغوص على اللؤلؤ وزراعة النخيل والتجارة البحرية.
- **الحضارة الهلنستية:** الحضارة التي أسسها القائد الإسكندر المقدوني وامتد نفوذها من اليونان غرباً حتى فارس شرقاً.

○ **أكتب ما تعرفه عن ( الكشف الأثري في منطقة بحرة الثرية ٢٠١٦م )**

- اكتشاف أقدم بصمة بشرية بالشرق الأدنى شمال الكويت تعود لأكثر من سبعة آلاف عام.

## الفصل الثاني: نشأة الكويت

الكتاب المدرسي (٦٧ / ٧٢)

بم تفسر: أهمية ظهور الكويت ككيان سياسي في القرن السابع عشر الميلادي؟

• **علل: الحاجة الماسة لقيام سلطة قيادية حاكمة في الكويت قديمًا:**

١. نمو الكيان الجديد بعد استقرار العتوب.
٢. كثرة المهاجرون كون شكل الكيان السياسي الواضح.
٣. الحاجة الي قيام سلطة تكون لها القيادة.
٤. القيادة الجديدة تدير شؤون الحياة في المجتمع الجديد.
٥. القيادة الجديدة تكون لها الشرعية وتمثل المجتمع خارجيًا.

❖ **أكمل العبارات التالية:**

١. تأسست الكويت في الجزء الشمالي الغربي من الخليج العربي عام .... ١٦١٣ م ..
  ٢. حاكم الكويت الذي أكد قيام الكويت ككيان سياسي في القرن السابع عشر يسمى... **صباح الأول** ...
  ٣. الكاتب الكويتي مؤلف كتاب (تاريخ الكويت) أسمه .. د/ **غانم النجار** ..
  ٤. المواطن الأصلي لجماعات العتوب بنجد اقليم يسمى ... **الهدار** ..
  ٥. أرسل مبارك الصباح رسالة تؤكد قيام الكويت عام ١٦١٣ م لشخصية سياسية. **المقيم السياسي البريطاني** ..
- ❖ **بم تفسر: تسمية الكويت بهذا الاسم بعد اختيار صباح الأول حاكمًا ١٦١٣ م :**
- كلمة الكويت تصغير لكلمة الكوت وتعني القلعة أو الحصن.

○ **علل: بناء القلاع قديمًا.**

١. توفير الحماية والأمن للسكان.
٢. مواجهة الأخطار والاعتداءات الخارجية.
٣. تحديد سلطة وسيطرة السكان علي الأرض التابعة لهم

**العتوب:** أسر ترجع أصولها الي قبيلة (عنزة) وموطنهم الأصلي منطقة الهدار في نجد وكون (آل الصباح- آل خليفة- آل الجلامه) حلف ولفظ العتوب جاء من الفعل (عتب) ومعناه الأكثر من الرحيل.

❖ **بم تفسر: هجرة العتوب من اقليم الهدار بنجد الى قطر (الهجرة الأولى):**

١. القحط والجفاف الذي أصاب مناطقهم الأصلية.
٢. الصراعات القبلية في إقليم الهدار.

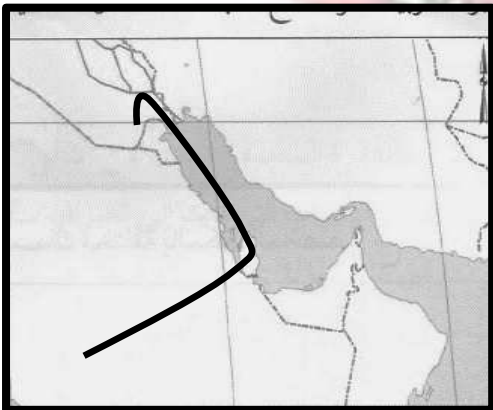
❖ **علل: هجرة العتوب من قطر إلى الكويت (الهجرة الثانية):**

- حدوث خلاف بين العتوب وآل مسلم حكام قطر.

👉 **على الخريطة الصماء تتبع هجرة العتوب.**

🕒 **أذكر أهم الأسر العربية للعتوب.**

❖ [آل الصباح - آل خليفة - آل الجلامه].



### ☆ تتبع هجرة العتوب منذ خروجهم من إقليم الهدار في نجد .

- (١) هاجر العتوب من إقليم الهدار بنجد واستقروا في (الفريضة) بمنطقة (الزبارة) في قطر.
- (٢) حدث خلاف بين العتوب وآل مسلم حكام قطر. فاتجه العتوب الي جنوب البصرة ثم منطقة (الصبية) واستقروا في منطقة الكوت (القرين) الكويت حالياً.

### ❖ أكمل العبارات التالية:

١. العتوب بعد هجرتهم من نجد استقروا أولاً في قطر في منطقة تسمى (الزبارة)...
٢. هاجر العتوب من قطر بعد الخلاف مع حكامها آنذاك وأسماهم .... آل مسلم ....
٣. أول منطقة وصل إليها العتوب بالكويت بعد الهجرة من قطر تسمى ... (الصبية) ..
٤. أنتقل العتوب بعد الهجرة من قطر إلى جنوب العراق في منطقة تسمى .. (البصرة) ..

### ❖ بم تفسر: اختيار الشيخ صباح بن جابر (صباح الأول) حاكم للكويت:

٥. صفاته الشخصية من شجاعة وحكمة.
٦. كان والده الزعامة على قومه منذ أن كانوا بنجد.
٧. كان طوال العام مقيماً بالكويت.
٨. كان يعمل بالبر خلاف البقية من الرجال الذين كانوا يعملون بالبحر.

### ٥. وضح كيف تم تقسيم السلطة بين جماعات العتوب بعد الاستقرار في الكويت.

- (آل الصباح للحكم/ آل خليفة شؤون التجارة/ آل الجلاهمة شؤون التجارة)

### 📌 كيف أستقر الحكم لآل الصباح بعد اختيار صباح الأول (التأسيس)؟

- تم اختيار آل الصباح للحكم وانتهى التحالف الثلاثي ورحل آل خليفة والجلاهمة عن الكويت.

### 📌 أين أستقر آل خليفة وآل الجلاهمة بعد خروجهم من الكويت؟

- اتجه آل خليفة الي البحرين، واتجه آل الجلاهمة إلى قطر وجزء منهم اتجه غلى إقليم الزبارة بالعراق.

### ❖ ما النتائج المترتبة علي ؟ ارتباط الكويت بنفوذ قبيلة بني خالد خلال النشأة الأولى.

١. تمتعت الكويت بالحماية والأمن.
٢. نجت الكويت من كثير من التهديدات والأخطار لمختلف القوي الإقليمية.

### ● (استفادت الكويت من الصراع بين القوي الإقليمية)

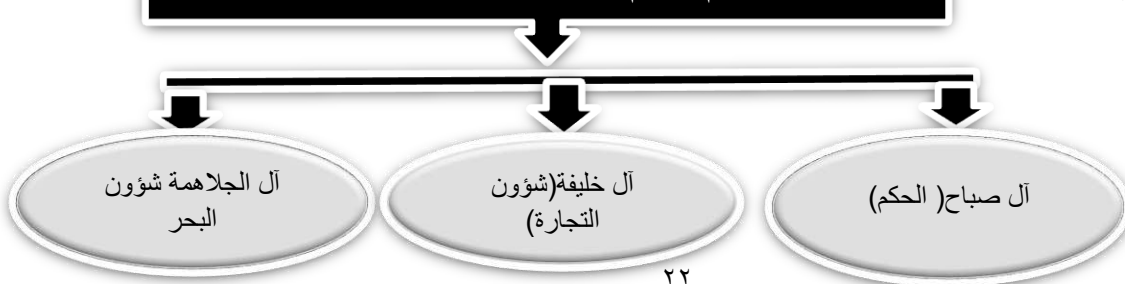
### كيف تفسر العبارة السابقة:

١. الصراع بين القوي الإقليمية جعلت الكويت تنجو من التهديدات والأخطار لمختلف القوي الإقليمية.
  ٢. الصراع بين العثمانيين وبني خالد شغلت تلك القوي عن الكويت وجعلتها تنمو في هدوء واستقرار.
- (مرت هجرة العتوب منذ خروجهم من نجد بثلاثة مراحل هامة) أذكر المراحل الثلاث.

### النشاط اللاصفي

تقسيم المهام بين الأسر الثلاث الكبرى

استكمل الشكل التالي الذي يوضح





الكتاب (٧٣)

الحاكم الأول: صباح بن جابر (صباح الأول)

حكام دولة الكويت

❖ ما النتائج المترتبة علي: اختيار صباح بن جابر حاكمًا للكويت ١٧٦٣م؟.

- (١) يعتبر البداية الحقيقية لظهور الكويت ككيان سياسي منظم.
- (٢) عمل الحاكم علي توطيد الأمن ونشر العدل.
- (٣) عمل الشيخ صباح علي تنظيم أمور السكان والبلدة الجديدة.
- (٤) ترسيخ أنشطة الكويت التجارية.
- (٥) بدأت الكويت تجتذب المهاجرين للاستقرار والعمل بها.

➔ أكمل: البداية الحقيقية لظهور الكويت ككيان سياسي منظم (١٧٦٣م) اختيار الحاكم .... صباح الأول...

الكتاب المدرسي ص (٧٣)

الحاكم الثاني: عبد الله بن صباح بن جابر [١٨١٤/١٧٦٣م]

معركة الرقة البحرية ١٧٨٣م.

| المقارنة | معركة الرقة البحـرية   |
|----------|--|
| التاريخ  | عام ١٧٨٣م  |
| الأطراف  | قبيلة بنو كعب ضد أهل الكويت بقيادة الشيخ عبد الله بن صباح.   |
| الأسباب  | (١) طمع بنو كعب في احتلال الكويت والسيطرة عليها.<br>(٢) استقرار أحوال دولة الكويت وأزدهار الإمارة وثبات نظام الحكم.  |
| النتائج  | (١) انتصار أهل الكويت وهزيمة بنو كعب.<br>(٢) تدمير الأسطول البحري لبنو كعب عن كامله ومقتل معظم أفرادها.<br>(٣) شعر أهل الكويت بالخطر وقرروا بناء السور الأول لحماية مدينتهم. |

بنو كعب

قبيلة عربية سكنت  
أقليم عربستان  
ولهم عاصمة علي  
ساحل الخليج  
العربي ( الدورق)  
وتمتلك أسطول  
بحري ضخم  
استطاع مواجهة  
الأساطيل العثمانية  
والبريطانية  
وحاول غزو  
الكويت ١٧٨٣م  
وفشلوا.

➔ علل: بناء أهل الكويت سور الكويت الأول ١٨١١م:

- (١) كثرة الأخطار الخارجية التي تعرضت لها الكويت.
- (٢) محاولات القوي الاقليمية السيطرة علي الكويت واحتلال أراضيها.
- (٣) حماية حدود الإمارة من خطر هجمات البدو المستمرة.

أكمل العبارات التالية:

النشاط اللا صفي

سور الكويت الأول

تم البناء في عهد الحاكم  
الثاني للكويت ( عبد الله  
بن صباح ) عام ١٨١١م  
لحماية المدينة من الخطار  
الخارجية وللسور خمس  
بوابات تفتتح نهارًا وتغلق  
ليلاً وعليها حراسة.

(١) وقعت معركة الرقة البحرية في عام .... ١٧٨٣م ..

(٢) تم اختيار أول حاكم للكويت عام ١٧٦٣م وأسمه .... صباح الأول ...

الكتاب المدرسي ( ص ٧٦ )

الحاكم الثالث: جابر الأول بن عبد الله بن صباح [١٨١٤]

١٨٥٩ م

■ دلل تاريخياً على صحة العبارة التالية:

( تعد فترة الشيخ جابر الأول فترة ازدهار بحري للكويت )

١) تطورت صناعة السفن الكبيرة (البغلة والبتيل) الخاصة بالنقل البحري.

٢) وصل أهل الكويت لسواحل مختلفة لنقل البضائع منها وإليها.

( لو كانت تحت يدي ثروة طائلة لقمت بحاجة الفقراء والمحتاجين منها ... )

❖ القال: .. جابر الأول .....

❖ اللقب الذي أطلق عليه: .... جابر العيش ..

■ أذكر أهم أعمال الحاكم الثالث للكويت (الشيخ جابر الأول بن عبد الله الصباح).

١. بناء السور الثاني ١٨١٤ م

٢. ساعد العثمانيين علي استعادة البصرة العراقية بعد تمرد القبائل علي السلطة العثمانية.

٣. رفض عرض من شركة الهند الشرقية الإنجليزية للتجارة بإقامة محطة فحم علي أراضي الكويت ١٨٤١ م.

٤. رفض طلب البريطانيان ان تقوم الكويت برفع الراية البريطانية ١٨٣٩ م.

٥. رفض طلب بريطاني إقامة بعض المباني علي أراضي الكويت ١٨٣٩ م.

الكتاب المدرسي ص (٧٧)

الحاكم الرابع: صباح الثاني بن جابر (١٨٦٦ / ١٨٩٢ م)

● أكمل العبارات التالية:

١. حاكم الكويت الذي ألغى الرسوم التجارية احتراماً لرغبة شعبة أسمه .. صباح الثاني ..

٢. المعتمد البريطاني في الخليج العربي الذي زار الكويت عام ١٨٦٥ م أسمه .. لويس بيلي ..

❖ دلل على صحة العبارة التالية :

( تعتبر زيارة المعتمد البريطاني في الخليج العربي لدولة الكويت ١٨٦٥ م من الزيارات المهمة ).

١) يعتبر الزائر أهم موظف بريطاني في المنطقة واختيار الكويت دليل علي أهميتها.

٢) أشار الزائر إلي التقدم الاقتصادي والتجاري في الكويت.

٣) أشار الزائر إلي النظام العادل للحكم في الكويت.

قارن بين الأحداث التي وقعت في عهد حكام الكويت:



|  |  |   |
|--|--|---|
| ١- معركة الرقة البحرية عام ١٧٨٣ م  | الشيخ عبد الله بن صباح<br>( عبد الله الأول ) | ١ |
| ٢- بناء سور الكويت الأول عام ١٧٩٧ م  |  |   |
| ١- ألغى الرسوم التي كان يريد إقرارها احتراماً لرغبة شعبه                         | الشيخ صباح بن جابر<br>( صباح الأول )         | ٢ |
| ٢- زيارة المعتمد البريطاني للكويت "لويس بيلي" عام ١٨٦٥ م                         |  |   |
| ١- مساعدت العثمانيين في حملتهم ( حملة مدحت باشا ) عام ١٨٧١ م على إقليم الاحساء . | الشيخ صباح بن جابر<br>(صباح الثاني)          | ٣ |

👉 فنند تأرطفأ العبارة التالية:

( رفض الشيخ عبد الله بن صباح مساعدة العثمانيين في حملة مدحت باشا على الأحساء ١٨٧١م )

✍ العبارة خاطئة.

١. ساند الحملة أسطول من الكويت قاده الحاكم الشيخ عبد الله بن صباح بنفسه.
٢. شارك مع الحملة جيش بري يقوده الشيخ مبارك شقيق الحاكم.
٣. شارك أسطول كويتي من ثمانين سفينة في نقل المؤن والذخيرة للحملة العثمانية.
٤. ذكر مدحت باشا في مذكراته بمشاركة الثمانين سفينة كويتية في نقل احتياجات الحملة العثمانية.

حملة مدحت باشا ١٨٧١/١٨٧٢م: حملة عسكرية أرسلتها الدولة العثمانية بقيادة مدحت باشا والي بغداد القوي

بهدف إعادة السيطرة على الأحساء والقطيف ونجد التي كانت تتبع أسميًا العثمانيين وكذلك أبعاد خطر التهديد البريطاني وساندة الكويت الحملة التي نجحت في تحقيق أهدافها.

الحاكم السادس: محمد بن صباح ( ١٨٩٢ / ١٨٩٦م )

الكتاب المدرسي ص ( ٧٧ )

دلل تاريخياً على [ لم ينفرد الحاكم السادس للكويت محمد بن صباح بالحكم ]

١. ساعد الحاكم السادس في الحكم أخواه الشيخان جراح ومبارك.
  ٢. تولي الشيخ جراح الأمور المالية.
  ٣. تولي الشيخ مبارك شؤون البادية والجيش.
- ❖ أكمل العبارات التالية :
- ١) الأخوان الشيخان جراح ومبارك ساعدا حاكم الكويت السادس في الحكم وأسمه .. محمد بن صباح ..
  - ٢) الأمير عبد الرحمن آل سعود استقر في الكويت عام ... ١٨٩١م ....
  - ٣) حاكم الكويت الذي رحب بأستقرار عبد الرحمن بن سعود في بلاده أسمه ... محمد بن صباح ...
  - ٤) الأمير عبد الرحمن بن سعود مؤسس الدولة السعودية الثالثة وأسمه ... عبد العزيز آل سعود ...





## حرس حكام الكويت علي اتخاذ قرارات ذات ابعاد اقتصادية ساعدت علي النمو التجاري

### والاقتصادي للكويت

❖ في ضوء العبارة السابقة أذكر نماذج لتلك القرارات.

- (١) قلة الضرائب علي البضائع القادمة للكويت.
- (٢) تشجيع بناء سفن الغوص.
- (٣) تأمين طرق التجارة عبر أراضيها وخاصة القامة من البادية.
- (٤) اجتذاب الوكالات التجارية للشركات الأوروبية العاملة في الخليج العربي.
- (٥) لعب التجار الكويتيون دور الوسيطاء التجاريون.

❖ استكمل الجدول التالي مستشهداً بما درست :

| م | عوامل الازدهار التجاري والاقتصادي بالكويت                            | النتائج   |
|---|--|---|
| ١ | تأمين طرق التجارة عبر أراضيها  | اصبحت الكويت سوق لسكان البادية ووسط نجد.                                |
| ٢ | اجتذاب الوكالات التجارية للشركات الأوروبية العاملة في الخليج العربي. | انتقلت الوكالة البريطانية للكويت مرتين ( الأولى ١٧٩٣م، والثانية ١٨٢١م ) |
| ٣ | لعب التجار الكويتيون دور الوسيطاء التجاريون                          | بناء علاقات تجارية بين الكويت والدول المجاورة                           |
| ٤ | الاستقرار الأمني والسياسي في الكويت                                  | استقبال المزيد من الهجرات والسكان.                                      |

### تجارة المسابلة

التجارة بين سكان البادية وأهل الكويت حيث يحضر البدو البضائع من صوف وألبان وجلود وغيرها للكويت وتباع في ويقومون بشراء البضائع التي يحتاجونها مثل السكر والشاي وغيرها.

❖ بم تفسر: أزدهار ونمو الكويت تحت حكم أسرة آل الصباح :

- (١) الموقع الاستراتيجي البحري علي الجزء الغربي من الخليج العربي.
- (٢) اعتماد نظام الحكم علي العدل والشورى والأمن.
- (٣) وجود علاقات متوازنة مع القوي الخارجية والدول المجاورة.
- (٤) التسهيلات التي تمنح لتجار المسابلة.
- (٥) النظام الاقتصادي وتوزيع المهام بين الغوص ونقل التمور وتجارة البادية.
- (٦) صفات أهل الكويت من التسامح والانفتاح علي الآخرين.

■ اشرح: ما العلاقة بين الاستقرار الأمني والازدهار التجاري.

هناك ارتباط وثيق وقوي بين الاستقرار الأمني الذي يساعد على الازدهار التجاري وجذب رؤوس الأموال وإقامة المشروعات الإنتاجية التي تساعد الازدهار الاقتصادي.

فرق بين كل من :

| أساليب التجارة قديماً          | أساليب التجارة حديثاً  |
|--------------------------------|--|
| القوافل البرية - السفن البحرية | النقل البري بالسيارات - السكك الحديدية .<br>النقل الجوي بالطائرات.<br>النقل البحري بالسفن والناقلات. |

❖ أأكمل الجدول التالي:

| الحاكم | الاسم   | الصفات الشخصية   | الأحداث التاريخية   |
|--------|---|--|---|
| الأول  | صباح بن جابر<br>(صباح الأول)<br>(١٧٥٢ / ١٧٦٣م)      | اتصف بالشجاعة<br>والحكمة.  | ح أول حاكم للكويت ١٧٦٣م.<br>✳ ظهور الكويت ككيان سياسي منظم.<br>انتقال المهاجرين للكويت والاستقرار بها.  |
| الثاني | عبد الله بن صباح<br>(١٧٦٣ / ١٨١٤م)                  | كان ذا سيرة حسنة<br>ونباهة وحزم، قريباً<br>من الحق، محباً<br>للعدالة.            | ☞ ازدهرت الإمارة في عهده،<br>☞ وقعت معركة الرقة البحرية بين الكويت وبنو كعب<br>١٧٨٣م.<br>✍ بناء سور الكويت الأول ١٨١١م.                                   |
| الثالث | جابر بن عبد الله<br>(١٨١٤ / ١٨٥٩م)<br>( جابر الأول) | عرف بالحكمة وهدوء<br>الطبع وحب الشعب،<br>اشتهر بجابر العيش<br>لكرمه وكثرة تصدقه. | ☞ شهدت الكويت ازدهار بحري وتطورت صناعة<br>السفن الكبيرة.<br>☞ وصل اهل الكويت لسواحل مختلفة وقاموا بدور<br>الوسيط التجاري.                                 |
| الرابع | صباح بن جابر<br>(١٨٥٩ / ١٨٦٦م)<br>(صباح الثاني)     | احترم إرادة الشعب<br>وألغى الرسوم علي<br>البضائع.                                | ☛ تقدمت التجارة تقدم كبير.<br>☞ زيارة المعتمد البريطاني (لويس بيلي) للكويت<br>١٨٦٥م.  |
| الخامس | عبد الله بن صباح<br>(١٨٦٦ / ١٨٩٢م)                  | اتصف بحسن السيرة<br>ودمائه الخلاق، وكان<br>محبوب من الجميع.                      | ☞ شارك باسطول بحري قاده بنفسه وجيش بري<br>بقيادة أخيه مبارك في حملة مدحت باشا العثمانية<br>علي إقليم الأحساء.   |
| السادس | محمد بن صباح<br>(١٨٩٢ / ١٨٩٦م)                      | اشتهر بالنزاهة<br>والوقار والتواضع.  | ☞ ساعده أخواه (مبارك وجراح) في الحكم.<br>★ رحب بقدوم الأمير عبد الرحمن بن سعود والد<br>مؤسس الدولة السعودية الثالثة (عبد العزيز بن سعود)<br>للكويت ١٨٩١م. |

الكتاب المدرسي ص (٥٧)

## الكويت والتنافس الاستعماري في العصر الحديث

❖ أكمل العبارات التالية :

- (١) اول دولة استعمارية في منطقة الخليج العربي تسمى ...البرتغال..
- (٢) البرتغال سعت لمد نفوذها للخليج العربي مطلع القرن ...السادس عشر....
- (٣) الدولة التالية في استعمار منطقة الخليج العربي تسمى ...هولندا...
- (٤) الدولة التي تعد مركزاً للتوابع في جنوب شرق آسيا تسمى ..الهند..

❖ بم تفسر: قيام حركة الكشوف الجغرافية ؟ ( الدوافع ) .

- (١) النهضة الملاحية في أوروبا في القرنين الخامس عشر والسادس عشر الميلادي.
- (٢) أدرك الأوروبيون الأهمية الاقتصادية للخليج العربي.
- (٣) الرغبة في نشر الديانة المسيحية.
- (٤) الرغبة في تأسيس إمبراطوريات استعمارية أوروبية.
- (٥) الصراع بين الدول الأوروبية والدولة العثمانية.
- (٦) الرغبة في الحصول على خيرات الشرق.

❖ على خريطة العالم الصماء

أولاً: أكمل ثم ضع الرمز في مكانه الصحيح :

- (١) أولى الدول الأوروبية في استعمار منطقة الخليج العربي ..البرتغال. والرمز ( X )
  - (٢) دولة تعد مركز للتوابع في شرق آسيا ...الهند... والرمز ( # ) .
  - (٣) الدولة التي كانت تعد مركز للخلافة الإسلامية ....الدولة العثمانية ... حالياً ..تركيا... والرمز ( \$ ) .
  - (٤) الدولة الأوروبية التالية في استعمار الخليج العربي ...هولندا.. والرمز ( @ ) .
  - (٥) دولة أوروبية استعمرت البرتغال عام ١٥٨٠ م ....اسبانيا.. والرمز ( = ) .
- ثانياً: تتبع بالأسهم الملونة ( ← ) طريق رأس الرجاء الصالح البحري ( الدوران حول أفريقيا ) .
- ثالثاً: ظلل بالرمز ( // ) الخليج العربي.



أولاً: الاستعمار البرتغالي



❶ **علل: يعتبر الاستعمار البرتغالي من أسوأ النظم الاستعمارية في منطقة الخليج العربي :**

١. تدمير البرتغاليين القاعدة الاقتصادية لدول منطقة الخليج العربية.

٢. احتلال المدن والقرى بطريقة وحشية.

٣. المعاملة القاسية للسكان المحليين.

• **أكمل العبارات التالية:**

١. سيطر البرتغاليون بشكل كامل علي منطقة الخليج العربية خلال القرن .. **السادس عشر** ..

٢. أسوأ النظم الاستعمارية في الخليج العربي خلال العصر الحديث الاستعمار .. **البرتغالي** ...

٣. الدولة الإسلامية التي قامت بأنشطة معادية لبرتغاليين في الخليج العربي تسمى ... **الدولة العثمانية** ..

٤. الدولة الأوروبية التي نافست البرتغاليين في الشرق ومنطقة الخليج تسمى .. **هولندا** ....

٥. تعرضت البرتغال للمنافسة التجارية من دول أوروبية مثل .. **هولندا** .. و... **بريطانيا** ...

✍ **بم تفسر: وصول سفن أوروبية إلى الشرق أواخر القرن السادس عشر الميلادي :**

١. رغبة الدول الأوروبية في مشاركة البرتغال في الأرباح التي يحصلون عليها من تجارة الشرق.

٢. رغبة الدول الأوروبية في تأسيس إمبراطوريات استعمارية في الشرق.

❷ **لخص أهم التغيرات التي وقعت أواخر القرن السادس عشر واثرت على أوضاع البرتغال في الشرق.**

١. ظهرت أنشطة معادية للبرتغال من الدول العثمانية تحولت لصراع مكشوف.

٢. رغبة الدول الأوروبية في مشاركة البرتغال في الربح من تجارة الشرق.

٣. وصلت السفن الهولندية في مياه الهند الشرقية والسفن البريطانية.

☆ **علل: انهيار إمبراطورية البرتغال الاستعمارية تدريجياً.**

١. المنافسة التجارية بين البرتغال وكل من هولندا وبريطانيا.

٢. جهود قوة البحارة في عمان في تصفية الوجود البرتغالي في الخليج.

٣. تعرض البرتغال نفسها للاستعمار البرتغالي ١٥٨٠ م.

➔ **علل: أهمية قوة البحارة في منطقة الخليج أواخر القرن السادس عشر :**

١. ساهمت في تصفية الوجود البرتغالي في منطقة الخليج العربية.

٢. طرد البرتغاليين من منطقة الخليج في النهاية.

النشاط اللاصفي

➔ **عرف: الاستعمار.** سيطرة دولة قوية علي دولة ضعيفة بهدف الاستيلاء علي ثرواتها وخيراتها .....

❸ **أذكر أهم الدول الأوروبية التي تنافست للسيطرة على منطقة الخليج العربية.**

البرتغال- هولندا - إنجلترا - روسيا - الدولة العثمانية .....

• أكمل العبارات التالية:

١. بدأ الوجود الهولندي في آسيا أواخر القرن ... السادس عشر.....
  ٢. تعرضت البرتغال واسبانيا لمنافسة تجارية من دولة أوروبية تسمى ... هولندا..
  ٣. وصل أول اسطول هولندي إلي جزر الهند الشرقية عام ... ١٥٨٩ م.
- ⊗ أذكر الأساليب التي اتبعتها هولندا في تأسيس وإدارة الأبراطورية الاستعمارية.

١. عقد معاهدات مع حكام الخليج باسم الحكومة الهولندية.
٢. بناء القلاع العسكرية.
٣. تعيين الحكام والقضاة وتطبيق القانون وتوفير النظام.
٤. اتخاذ ميناء بندر عباس مركز تجاري والسيطرة علي تجارة التوابل.

بم تفسر: انهيار امبراطورية هولندا الاستعمارية سريعاً :

١. التنافس الاستعماري البريطاني الهولندي.
٢. ضعف القوة البشرية للهولنديين.
٣. اهتمام الاستعمار الهولندي بالتجارة واهمال الزراعة وباقي الأنشطة الاقتصادية.

الكتاب المدرسي ص (٨٨)

ثالثاً: الاستعمار البريطاني

علل: نزاع بريطانيا مع القوى الاستعمارية الأوروبية في منطقة الخليج العربية :

❖ أطماع بريطانيا في السيطرة علي الخليج العربي.

□ بم تفسر : ازدياد التنافس بين بريطانيا وهولندا في منطقة الخليج العربي :

١. تأسيس بريطانيا شركة الهند الشرقية البريطانية للتجارة عام ١٦٠٠ م.
٢. أطماع بريطانيا في السيطرة علي الخليج العربي والقضاء علي النفوذ الهولندي بالمنطقة.

● وضح سياسة بريطانيا في منطقة الخليج العربية بعد انهيار النفوذ الهولندي بالمنطقة :

١. السيطرة علي ممتلكات هولندا في الهند وسيلان.
٢. الاستيلاء علي المواقع التجارية الهولندية في الخليج العربي.
٣. حصلت بريطانيا علي امتيازات من شاه إيران.
٤. سياسة بريطانيا اصبحت الاهتمام بالخليج العربي لأهميته الاستراتيجية.
٥. توسيع بريطانيا نفوذها السياسي وتعزيز وجودها العسكري بمنطقة الخليج العربية.

⊗ بم تفسر: اهتمام بريطانيا بالخليج العربي:

١. أدركت بريطانيا الأهمية الاستراتيجية للخليج العربي.
٢. يمثل الخليج العربي طريق حيوي لحماية مستعمرات بريطانيا في الهند.
٣. أهمية الخليج العربي في تأمين طرق التجارة والملاحة بين بريطانيا ومستعمراتها في الهند.

### ○ دلل على صحة العبارة التالية:

#### ( أهمية الكويت بالنسبة لبريطانيا في نهاية القرن الثامن عشر الميلادي).

١. أدركت بريطانيا أهمية الكويت كمكان آمن بالنسبة لها.
٢. قامت بريطانيا بنقل مركز البريد والتجارة من البصرة إلى الكويت ١٧٧٥م بسبب الحصار الفارسي للبصرة.
٣. قامت بريطانيا بنقل مركز البريد والتجارة من البصرة إلى الكويت ما بين (١٧٩٣ / ١٧٩٥م) بسبب المشاكل التجارية والسياسية بين بريطانيا والدولة العثمانية.

❖ **علل: نقل مركز التجارة والبريد من البصرة إلى الكويت عامي ١٧٧٥:**

١. الصراع بين الدولة العثمانية والدولة الفارسية ما بين عامي ١٧٧٥ / ١٧٧٩م.
٢. الحصار الفارسي لمدينة البصرة ١٧٧٥م.

❖ **علل: نقل مركز التجارة والبريد من البصرة إلى الكويت عامي ١٧٩٣م:**

١. الصراع بين المتصرفين العثمانيين في البصرة والوكلاء البريطانيين.
٢. المشاكل السياسية والتجارية بين العثمانيين والوكالة البريطانية.

#### • ما النتائج المترتبة على :

١. اكتشاف بريطانيا أهمية الكويت كمكان آمن.
٢. تطور العلاقات بين الطرفين خلال القرن التاسع عشر.
٣. عقد اتفاقية الحماية ١٨٩٩م واصبحت الكويت خاضعة للحماية البريطانية.

#### ⇨ **أكمل العبارات التالية:**

#### **النشاط اللا صفي**

(١) تم تأسيس شركة الهند الشرقية البريطانية عام .. ١٦٠٠م ..

(٢) الخليج العربي طريق حيوي لحماية مصالح بريطانيا في .. **الهند** ...

(٣) أصبح الخليج العربي بعد خروج البرتغال وهولندا خاضع لدولة أوربية تسمى... **بريطانيا** ..

(٤) اتخذت هولندا ميناء كمركز تجاري في بلاد فارس أسمه .. **بندر عباس** ..

(٥) انهارت أمبراطورية هولندا الاستعمارية بسبب الصراع مع دولة أوربية تسمى .. **بريطانيا** ..

❖ **قارن بين عوامل انهيار المبراطورية الاستعمارية لكل من الدول التالية:**

| <b>هولندا</b>  | <b>البرتغال</b>   |
|--|---|
| ١. التنافس الاستعماري البريطاني الهولندي.                                      | ١. المنافسة التجارية بين البرتغال وكل من هولندا وبريطانيا.        |
| ٢. ضعف القوة البشرية للهولنديين.   | ٢. جهود قوة اليعاربة في عمان في تصفية الوجود البرتغالي في الخليج. |
| ٣. اهتمام الاستعمار الهولندي بالتجارة وإهمال الزراعة وباقي الأنشطة الاقتصادية. | ٣. تعرض البرتغال نفسها للاستعمار البرتغالي ١٥٨٠م.                 |



أكمل العبارات التالية:

١. كانت العلاقة الكويتية/ العثمانية قائمة علي الولاء الديني وهي علاقة... **أسمية**..
٢. كانت العلاقة الكويتية/ العثمانية قائمة علي الولاء الديني بحكم الدولة العثمانية دولة... **الخلافة**..
٣. الكويت ساعدت الدولة العثمانية في حملة مدحت باشا عام ..... **١٨٧١م**...
٤. الهدف الرئيسي لحملة مدحت باشا العثمانية إعادة السيطرة علي إقليم يسمى... **الأحساء**...
٥. والي بغداد العثماني الذي أصدر فرمان تناول وضعية الكويت أسمه.. **مدحت باشا**..

☆ **دلل على صحة العبارة التالية:**

(كانت العلاقة الكويتية العثمانية علاقة أسمية قائمة علي الولاء الديني فقط )

١. رفعت السفن الكويتية في شواطئ بحر العرب والهند العلم العثماني باعتبارها دولة الخلافة.
٢. لم يكن للعثمانيين أي سلطة سياسية أو عسكرية علي الكويت.
٣. أدار اهل الكويت شؤون بلادهم الداخلية.

★ **أذكر الأسس التي حددها فرمان الذي أصدره مدحت باشا والي بغداد العثماني الخاص بالكويت:**

١. شيخ الكويت مستقل في شؤونه الداخلية.
٢. منح شيخ الكويت لقب قائم مقام.
٣. لا يلتزم أهل الكويت بدفع رسوم أو ضرائب للسلطان العثماني.
٤. تلتزم السفن الكويتية برفع العلم العثماني.
٥. اعفاء السفن الكويتية من الرسوم.

✎ **فرق بين إيجابيات وسلبيات فرمان العثماني:**

| السلبيات   | الإيجابيات   |
|--|--|
| <ul style="list-style-type: none"><li>▪ إلزام السفن الكويتية برفع العلم العثماني في رحلاتها بحر العرب والهند يعد انتقاص من سيادة واستقلال الكويت.</li><li>▪ قائم مقام لقب عثماني يمنح للحكام في الولايات الخاضعة للدولة العثمانية، ولا يحق للسلطان فرضه علي حاكم الكويت.</li></ul> | <ul style="list-style-type: none"><li>▪ شيخ الكويت مستقل في شؤونه.</li><li>▪ السماح للكويت بممارسة قضاؤها الخاص.</li><li>▪ لم يتضمن فرمان وجود قوات عسكرية أو جنود تابعين للدولة العثمانية في الكويت.</li><li>▪ لم يتضمن فرمان تدخل السلطان العثماني في فرض أو اختيار حاكم الكويت.</li></ul> |

- **الدولة العثمانية:** دولة أسسها عثمان بن ارطغرل في آسيا الصغرى واتخذت من القسطنطينية عاصمة لها (إسطنبول) وسيطرت على العالم الإسلامي وتلقب حكامها بلقب خليفة المسلمين وسقطت ١٩٢٤م عندما تم إلغاء الخلافة الإسلامية.
- **قائم مقام:** لقب يطلقه السلطان العثماني خليفة المسلمين علي حكام المناطق التابعة للدولة العثمانية
- **الفرمان:** منشور يصدره السلطان العثماني وواجب التنفيذ باعتباره خليفة المسلمين

## الشيخ مبارك الصباح ( ١٨٩٦ / ١٩١٥ م

أذكر أهم مميزات فترة حكم الشيخ مبارك الكبير. ( الكتاب المدرسي ص ٩٥ )

- (١) كان الشيخ مبارك حاكمًا مطلقًا وفي الحقيقة هو الدولة بما تمثله من سلطات.
  - (٢) تعامل مع الأوضاع الداخلية والخارجية بالحذر والحيطة.
  - (٣) حصل على الضمانات من القوي الاستعمارية بالمنطقة.
  - (٤) استغل التوترات بين القوي الاستعمارية لحماية مصالح وطنه وشعبه.
  - (٥) شجع التجارة واهتم بمصالح الإمارة الاقتصادية والسكانية.
- دلل على صحة العبارة التالية (الكتاب المدرسي ص ٩٦)

### اهتمام الشيخ مبارك الصباح بحفظ الأمن وتشجيع التجارة .]

- ١- أخراج قوات عسكرية لتأمين طرق القوافل التجارية وسلامة الطرق التجارية.
- ٢- عمل علي تشجيع التجارة.
- ٣- مراقبة الأسواق وحل مشاكل الأهالي.
- ٤- معاقبة الخارجين على القانون.
- ٥- مساعدة التجار ومدّهم بالأموال لاستمرار العمل بالتجارة.
- ٦- شجع صناعة السفن الكبيرة لنقل البضائع بين الكويت والهند.
- ٧- التوسط لحل المشكلات بين التجار.

### ⑤ أذكر جهود الشيخ مبارك الصباح في المجالات التالية:

- (١) التعليم: تم إنشاء المدرسة المباركية ١٩١١م وهي أول مدرسة نظامية في الكويت.
- (٢) الصحة: وافق علي تأسيس المستشفى الأمريكي عام ١٩١١م.
- (٣) الجيش: لم يكن لدي الكويت جيش نامي ولكن أعتمد الشيخ مبارك علي رجال القبائل والأهالي ووفر لهم التمويل والعقيدة القتالية والإدارة والتشكيلات القتالية.

### ☺ أكمل العبارات التالية بالكلمات المناسبة:

١. الشيخ مبارك الكبير حكم دولة الكويت ١٨٩٦م وهو الحاكم...السابع...
٢. المدرسة المباركية أول مدرسة نظامية في الكويت وتم إنشاء المدرسة عام...١٩١١م....
٣. المستشفى الأمريكي وافق الشيخ مبارك الصباح علي إنشاء المستشفى عام...١٩١١م....
٤. قبائل الكويت وسكانها يمثلون جيش الإمارة ولم يكن لدي الكويت جيش...نظامي...
٥. توفي الشيخ مبارك الصباح عام...١٩١٥م...
٦. تقدر فترة حكم الشيخ مبارك الصباح لإمارة الكويت قرابة...( ٢٠ ).. عامًا.

الأطماع الدولية تجاه الكويت في عهد الشيخ مبارك الصباح



□ على خريطة العالم السياسية حدد الدول صاحبة الأطماع الاستعمارية تجاه الكويت في عهد الشيخ مبارك الكبير.

(١) روسيا

□ فرق بين السبب المعلن والسبب غير المعلن لخطوات روسيا للتأثير على الشيخ مبارك الصباح في القرن التاسع عشر.

■ أولاً السبب المعلن:

(١) إنشاء محطة للفحم.

(٢) إنشاء ميناء لتزويد السفن بالوقود.

(٣) جعل الكويت نهاية لخط سكة حديدية (مشروع كابستنت).

■ ثانياً السبب غير المعلن:

☞ تعزيز نفوذ روسيا في المنطقة نهاية القرن التاسع عشر.

☞ **وضح موقف الشيخ مبارك الصباح من الخطوات الروسية لتعزيز نفوذها في الكويت نهاية القرن التاسع عشر.**

١. تعامل الشيخ مبارك الصباح مع هذه التحركات الروسية بكل حذر.

٢. حاول الاستفادة منها للحصول على مكاسب سياسية ودعم أقليمي لمواجهة الأخطار الخارجية.

⑤ **بم تفسر: فشل المشاريع التجارية الروسية في الكويت:**

■ رفض الشيخ مبارك الصباح المشاريع المقدمة له من روسيا ومنها عرض لعقد معاهدة حماية أدرك أن الكفة تميل لصالح بريطانيا.

مشروع كابنيسنت: مشروع قدمته روسيا ويقضي بإنشاء خط سكة حديد يربط بين مدينة طرابلس في لبنان على ساحل البحر المتوسط وينتهي في مدينة الكويت على ساحل الخليج العربي



## ( ٢ ) ألمانيــــــــــــا



علل لما يأتي: الأطماع الألمانية في الكويت مطلع القرن العشرين:

- تعزيز نفوذ ألمانيا في المنطقة نهاية القرن التاسع عشر وتهديد مصالح بريطانيا.

بمعنى تفسر: رفض الشيخ مبارك الصباح أن يكون للألمان مشاريع اقتصادية فوق أراضي الكويت:

## ارتباط الشيخ مبارك الصباح باتفاقية الحماية مع بريطانيا.

✎ أكتب ما تعرفه عن: (سكة حديد برلين/ بغداد).

♦ قدم الألمان هذا المشروع لإنشاء سكة حديد تبدأ من برلين إلى بغداد، وينتهي بأحد الموانئ علي الخليج العربي لتهديد مصالح إنجلترا بالمنطقة الخليجية ولكن الشيخ مبارك رفض المشروع.

➡ أكمل العبارات التالية:

١. الشيخ مبارك استقبل البعثة الألمانية لمناقشة مشروع سكة حديد برلين / بغداد في منطقة تسمى..الجبراء...

٢. الشيخ مبارك استقبل البعثة الألمانية لمناقشة مشروع سكة حديد برلين / بغداد في عام ١٩٠٠م...

٣. روسيا قررت اتخاذ الكويت نهاية لخط السكة الحديدية ضمن مشروع يسمى ..كابستنت...

٤. الشيخ مبارك الصباح كان موقفه من مشروعات روسيا وألمانيا في المنطقة الخليجية ..**الرفض**...

### ( ٣ ) الدولة العثمانية

👉 فرق بين موقف كل من (الدولة العثمانية، الشيخ مبارك الصباح) من مشروع سكة حديد برلين/ بغداد.

أولاً الدولة العثمانية: (١) تفرض سيطرتها المباشرة على الكويت.

(٢) التعاون مع الألمان لجعل الكويت نهاية لخط سكة حديد برلين/ بغداد.

ثانيًا مبارك الصباح: (١) رأى أن خطة سكة حديد برلين / بغداد خطر يهدد إمارة الكويت واستقلالها.

(٢) ستبعت الدولة العثمانية موظفين وجباة ضرائب مما يهدد استقلال الكويت.

(٣) تعامل الشيخ مبارك مع الوضع العثماني بالمرونة وعدم التصادم.

وضّح موقف الدولة العثمانية من الكويت بعد أن علمت بأمر اتفاقية ١٨٩٩م.

### ١. بدأ العثمانيون في محاولات فرض النفوذ بالقوة .

## ٢. التهديد بنفي الشيخ مبارك الصباح خارج الكويت.

### ٣. التهديد بإرسال وحدات عسكرية عثمانية إلى الكويت.

- علل لما يأتى: الأطماع العثمانية فى الكويت نهاية القرن التاسع عشر الميلادى.

١. أرادت الدولة العثمانية أن تفرض سيطرتها المباشرة على الكويت.

## ٢. رغبة الدولة العثمانية أن تكون الكويت نهاية لسكة حديد برلين/ بغداد.

❖ **علل لما يأتي: فشل التحركات العثمانية تجاه الكويت مطلع القرن العشرين.**

١. موقف الشيخ مبارك الصباح بأنه غير مستعد لأجراء أي تنازلات إقليمية عن أراضيهِ لأي قوة أجنبية.

٢. عقد الشيخ مبارك الصباح اتفاقية الحماية مع إنجلترا ١٨٩٩م.

۳۶

### ■ أكمل العبارات التالية:

١. اتفاقية الحماية بين الكويت وبريطانيا عقدت عام ١٨٩٩م .
٢. الأمير عبد العزيز آل سعود غادر الكويت عام ١٩٠٢م...
٣. وقعت موقعة الصريف عام ١٩٠١م....
٤. المعركة التي وقعت علي أرض الكويت عام ١٩١٠م تسمى ..موقعة هدية....
٥. توفي الشيخ مبارك الصباح عام ١٩١٥م....
٦. الشيخ مبارك الصباح حكم الكويت فترة زمنية تبلغ ..( ٢٠ )...عام.

### ■ □ دّل تاريخياً على صحة العبارة التالية:

■ [ التحرك المنفرد للشيخ مبارك الصباح في معالجة الضغوط السياسية والعسكرية علي إمارته مع ارتباطه

باتفاقية الحماية مع إنجلترا ].

١. تدعيم الأمير عبد العزيز آل سعود عسكرياً لأستعادة ملك آبائه وأجداده.
٢. عدم التصادم العسكري مع الدولة العثمانية وتخفيف التوتر معها.
٣. قاد مجموعة من الحروب للحفاظ علي الإمارة منها (معركة الصريف ١٩٠١م، ومعركة هدية ١٩١٠م).

### ➔ أذكر حادثة تاريخية شهيرة توضح اهتمام الشيخ مبارك بسيادة الكويت تجاه بريطانيا.

➤ غضب الشيخ مبارك الصباح وعارض طلب المعتمد البريطاني بتعيين ممثل تركي في الكويت.

### ☞ قارن بين المعارك التالية:

| المقارنة | معركة الصريف ١٩٠١م   | معركة هدية ١٩١٠م  |
|----------|--|---|
| الأطراف  | جيش الشيخ مبارك الصباح أمير الكويت وجيش بن رشيد أمير حائل .  | جيش الكويت بقيادة مبارك الصباح ضد شيوخ المنتفق بقيادة سعدون باشا  |
| المكان   | في الصريف قرب القصيم بنجد  | شمال غرب الكويت   |
| الأسباب  | (١) اطماع بن رشيد في السيطرة علي الكويت .<br>(٢) استضافة الشيخ مبارك الصباح الأمير عبد العزيز آل سعود.<br>قوة العلاقة بين أمير حائل والدولة العثمانية. | (١) اعتداء اتباع سعدون علي قافلة لتاجر كويتي.<br>(٢) اراد الشيخ مبارك استغلال هزيمة سعدون باشا أمام قبيلة الرولة واحتلال أراضي المنتفق. |
| النتائج  | (١) هزيمة جيش مبارك الصباح.<br>(٢) انتصار امير حائل بقيادة ابن رشيد.   | (١) انتصار انصار بن سعدون.<br>(٢) ارسل مبارك الجيش بقيادة جابر المبارك الصباح اغار علي قبيلة ظفير وهزمها.                               |

☹ [ لقد قاومت هذا طيلة عمري، وأنت تطالبني بالموافقة علي ذلك ].

➤ القاتل: الشيخ مبارك الصباح

➤ المناسبة: غضب الشيخ مبارك الصباح وعارض طلب المعتمد البريطاني بتعيين ممثل تركي في الكويت

### ⑤ باستخدام الكتاب ص(٧٠) لخص سياسة الكويت في عهد الشيخ مبارك الكبير.

١. السياسة الخارجية تسعى للمزيد من الخيارات.
٢. الأبتعاد عن أي التزام نحو القوي الإقليمية أو الدولية باستثناء إنجلترا.
٣. كان الشيخ مبارك جزء من ترتيب السياسات بالمنطقة وطرف مؤثر في معادلة القوة.



● عزيزي الطالب ..... أستكمل جدول المقارنة التالي مستعيناً بما درست:

| المقارنة                               | قبل معاهدة ١٨٩٩م   | بعد معاهدة ١٨٩٩م  |
|--|--|---|
| تطور الأوضاع في عهد الشيخ مبارك الصباح | <p>(١) اشتدت الأطماع الأوربية في السيطرة على المنطقة الخليجية بما فيها الكويت ومحاولة فرض نفوذها في المنطقة.</p> <p>(٢) ظهرت الأطماع الأوربية في صورة مشروعات اقتصادية قدمتها الدول الأوربية مثال ( سكة حديد برلين/ بغداد) الذي قدمته ألمانيا ودعمته الدولة العثمانية.</p> <p>(٣) محاولات روسيا الوصول للمنطقة من خلال مشروع سكة حديد كابنست، والمحطات التجارية والوقود.</p> | <p>(١) كان موقف الشيخ مبارك الصباح بأنه غير مستعد لإجراء أي تنازلات إقليمية عن أراضي لأي قوة أجنبية بإستثناء بريطانيا.</p> <p>(٢) أدت اتفاقية الحماية إلى تدعيم واستقرار وتطور الأوضاع في الكويت ودعم قدراتها في مواجهة الأخطار الخارجية.</p> |
| سياسة الدولة العثمانية                 | <p>(١) تفرض سيطرتها المباشرة على الكويت.</p> <p>(٢) التعاون مع الألمان لجعل الكويت نهاية لخط سكة حديد برلين/ بغداد.</p> <p>(٣) تدعيم نفوذها في المنطقة الخليجية بما فيها الكويت.</p>   | <p>(١) بدأ العثمانيون في محاولات فرض النفوذ بالقوة .</p> <p>(٢) التهديد بنفي الشيخ مبارك الصباح خارج الكويت.</p> <p>(٣) التهديد بإرسال وحدات عسكرية عثمانية إلى الكويت.</p>   |

علي الخرائط التالية حدد المواقع العسكرية التالية ( معركة الصريف، معركة هدية ) بوضع دائرة حولها

