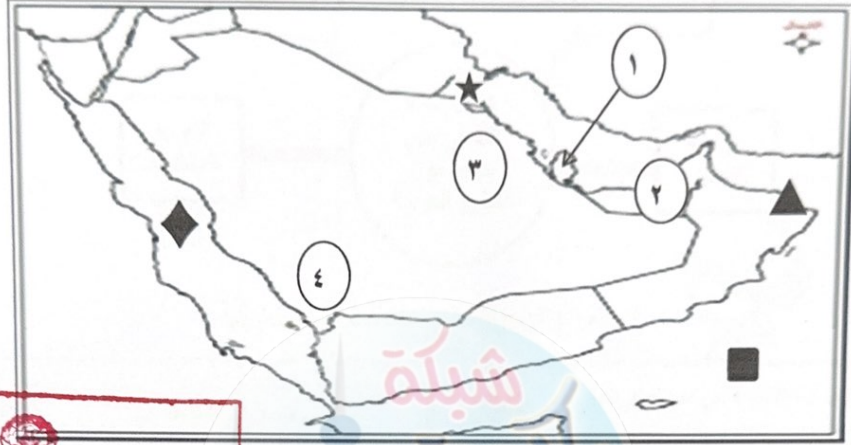




أجب على جميع الأسئلة:

السؤال الأول: موضوعي ويتكون من (أ - ب) :
أ- لاحظ خريطة دول الخليج العربية السياسية ثم أجب على الأسئلة التي تليها بما يناسبها مما درست:

٦ × ٦ = ٦ درجات



وزارة التربية
الإدارة العامة للتعليم الخاص
نموذج الإجابة

- منطقة ليوا الزراعية يمثلها على الخريطة الرقم (٢..) ص ٩٢
- حقل الغوار النفطي يمثل على الخريطة الرقم (٣..) ص ٩١
- دولة قطر يمثلها على الخريطة الرقم (١..) ص ٩٢
- الرمز ♦ يمثل مسطح مائي يسمى البحر الأحمر ص ٩٢
- الرمز ▲ يمثل ميناء نفطي يسمى الفحل ص ٩١
- الرمز ★ يمثل إحدى دول الخليج العربية تسمى الكويت ص ٩١

ب- صنف مظاهر التعاون بين دول مجلس التعاون الخليجي فيما يلي حسب الجدول التالي بوضع الرقم :

٦ × ٦ = ٦ درجات

- ١- قبول أبناء دول مجلس التعاون الخليجي في الكليات العسكرية ص ١٢٩
- ٢- توحيد المناهج التعليمية وتطويرها. ص ١٣٠
- ٣- زيادة التبادل التجاري. ص ١٣٠
- ٤- مناصرة القضايا العادلة مثل قضية الشعب الفلسطيني وحقه في تقرير مصيره. ص ١٢٩
- ٥- المشاركة الفعلية في حرب تحرير دولة الكويت من النظام العراقي البائد. ص ١٣٠
- ٦- إدانة احتلال الجزر الإماراتية الثلاث. ص ١٢٩

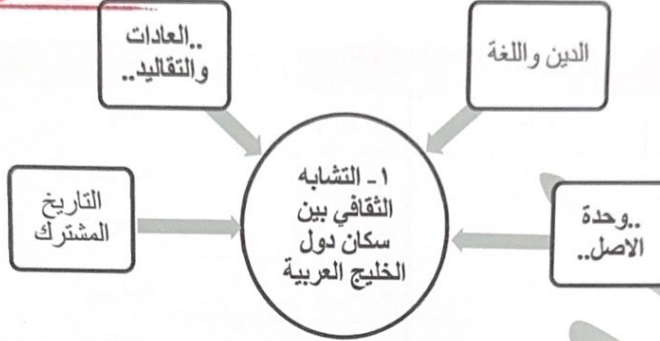
التعاون السياسي	التعاون العسكري	التعاون الاقتصادي	التعاون الثقافي
٦ - ٤	٥ - ١	٣	٢

تابع/ امتحان نهاية الفترة الدراسية الثانية/ مقرر الكويت ودول الخليج العربية /الصف السادس / العام الدراسي ٢٠٢٤-٢٠٢٥م

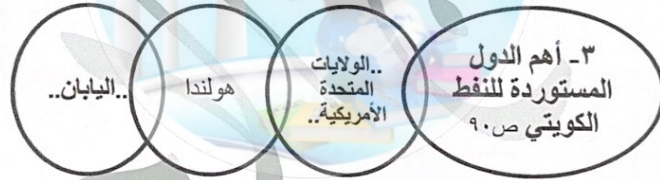
وزارة التربية
الإدارة العامة للتعليم الخاص
نموذج الإجابة

السؤال الثاني: موضوعي ويتكون من (أ - ب) :
أ- أكمل الأشكال التالية بما يناسبها مما درست :

ص١١٧-١١٨
ص١١٩-١٢٠



٢- أنواع الهجرات في منطقة الخليج العربية:



١ × ٦ = ٦ درجات

ب- ضع خطأ تحت الخيار الصحيح من بين الخيارات التي تلي كل عبارة :

- ١- العام الميلادي الذي بدأ فيه التنقيب عن النفط في دولة الكويت: ص٨٧
أ- ١٩٣٢ ب- ١٩٣٣ ج- ١٩٣٤ د- ١٩٣٥
- ٢- بعثة أجنبية كشفت عن آثار الحضارات في دول الخليج العربية: ص١٠٥
أ- الدانمركية ب- الهولندية ج- البرتغالية د- الإسبانية
- ٣- أقل دولة خليجية من حيث نسبة المواطنين وفقاً لإحصاء ٢٠٠٦م: ص١١٢
أ- البحرين ب- الكويت ج- قطر د- الإمارات
- ٤- طبقة هي درع واقٍ للأحياء من خطر الأشعة فوق البنفسجية: ص١٣٥
أ- الثرموسفير ب- الأوزون ج- الستراتوسفير د- الميزوسفير
- ٥- الحاكم الذي تم في عهده تصدير أول شحنة من النفط في دولة الكويت: ص٩٠
أ- أحمد الجابر ب- عبدالله السالم ج- صباح السالم د- جابر الأحمد
- ٦- وحد قياس شدة الضوضاء التي تتعرض لها الإذن البشرية: ص١٣٤
أ- فولت ب- باسكال ج- الديسيبل د- ريختر

السؤال الثالث : موضوعي ويتكون من (أ - ب - ج) :

٥ = ٥ × ١ درجات

أ- اختر للمجموعة (أ) ما يرتبط بها من المجموعة (ب) بوضع الرقم في المكان المناسب : ص ١٠٥

م	المجموعة (أ)	الرقم المناسب	المجموعة (ب)
١-	دلمون	(...٣...)	قطر
٢-	هيلي	(.....)	الكويت
٣-	أم النار	(...٥...)	السعودية
٤-	دبا	(...١...)	البحرين
٥-	تاروت	(...٤...)	عمان
		(...٢...)	الإمارات

٤ = ٤ × ١ درجات

ب- ظلل الحرف الدال على المسميات التالية :

م	العبارات	(أ)	(ب)
١	العبدلي سهل تهامة العين صلاة	مناطق صناعية	مناطق زراعية ص ٩٢
٢	الدشاشة الاحتفالات بالاعیاد القرقيعان العلاقات الأسرية	العادات والتقاليد ص ١١٨	التاريخ المشترك
٣	الأمن الغذائي الغزو الثقافي التلوث البيئي ندرة المياه الجوفية	التحديات أمام برامج التنمية ص ١٣٢	الحلول لمشكلة التلوث البيئي
٤	ناطق بوحصا خريص الروضتين	موانئ نفطية	حقول نفطية ص ٩١

٣ = ٣ × ١ درجات

ج- اكتب المفاهيم أو المصطلحات الدالة على العبارات التالية:

- ١- (...الثقافة...): مجموعة من العادات والتقاليد والقيم في مجتمع من المجتمعات. ص ١١٨
- ٢- (...النمو السكاني...): التغيير الذي يحدث لعدد السكان نتيجة للزيادة الطبيعية وغير الطبيعية. ص ١١١
- ٣- (...الصناعة...): تحويل المواد الخام إلى مواد يمكن الاستفادة منها. ص ٩٥

(٣)

وزارة التربية
الإدارة العامة للتعليم الخاص
نموذج الإجابة

تابع/ امتحان نهاية الفترة الدراسية الثانية/ مقرر الكويت ودول الخليج العربية /الصف السادس / العام الدراسي ٢٠٢٤ - ٢٠٢٥ م
السؤال الرابع: مقالتي ويتكون من (أ- ب - ج) :

١ × ٤ = ٤ درجات

أ- فرق بين كلاً مما يلي:

احتياطي النفط ص ٨٨	انتاج النفط ص ٨٨
كميات النفط المخزونة في باطن الأرض	كميات النفط التي يتم استخراجها للاستفادة منها
الواردات ص ٩٩	الصادرات ص ٩٩
البضائع والسلع التي تشتريها دولنا من الخارج	السلع والمنتجات التي تبيعها دولنا في الخارج

(٥ درجات)

ب- علل لما يلي :

١- ظهور الحاجة إلى إقامة العديد من الموانئ النفطية في دول الخليج العربية. ص ٩٠ (درجتان)
- نتيجة لتزايد الانتاج النفطي لدول الخليج العربية من الحقول البرية والبحرية.
- تزايد الطلب العالمي عليه كمصدر أساسي للطاقة .

٢- شهدت منطقة الخليج العربية بعد اكتشاف النفط نمواً سكانياً مضطرباً (فجائياً). ص ١١٠

(يكتفى بنقطتين/درجتان)

- ارتفاع دخل الفرد.

- توفر الرعاية الصحية.

- توفر فرص العمل.

٣- استقبلت منطقة الخليج العربية موجات سكانية من كل المناطق المجاورة . ص ١٠٨ (يكتفى بنقطة/درجة)

- بسبب الموقع الجغرافي المهم بين قارات العالم القديم.

- ظروف الجفاف الصحراوي.

١ × ٣ = ٣ درجات

(يكتفى بثلاث نقاط)

ج- دلل على صحة العبارة التالية مما درست :

● لم يقتصر تأثير العدوان العراقي عسكرياً بل امتد تأثيره على البيئة الكويتية البرية والبحرية والهوائية.

ص ١٣٩

- تفجير وإحراق معظم الآبار النفطية الكويتية البالغ عددها ٧٣٧ بئراً.

- ضخ النفط متعمداً في مياه البحر .

- تدمير الحياة الفطرية بفعل البحيرات النفطية.

- التلوث الهوائي بسبب الكميات الكبيرة من الدخان.

- تساقط الرذاذ النفطي على التربة محدثاً تلوثاً أرضياً .

- الآثار الخطرة على صحة الإنسان والكانات الحية.



وزارة التربية
الإدارة العامة للتعليم الخاص
نموذج الإجابة

(٤)

تابع/ امتحان نهاية الفترة الدراسية الثانية/ مقرر الكويت ودول الخليج العربية /الصف السادس / العام الدراسي ٢٠٢٤ - ٢٠٢٥م
السؤال الخامس : مقالتي ويتكون من (أ - ب) :

(٧ درجات)

أ- اكتب فيما يلي مما درست :

- ١- المشاكل البيئية المشتركة بين دول الخليج العربية.
- مشكلة التغير المناخي.
- حماية الحياة الفطرية الحيوانية والنباتية .
- كيفية التعامل مع أخطار التلوث الإشعاعي والنفايات.

٢- أسباب التلوث المائي. ص١٣٦ (يكتفى بثلاث نقاط/ ثلاث درجات)

- مخلفات المصانع
- مياه الصرف الزراعي.
- النفايات الخطرة.
- مياه الصرف الصحي غير المعالجة.
- النفط ومشتقاته.
- الأمطار الحمضية.

٣- وظائف العمالة المنزلية. ص١٤٢ (يكتفى بنقطتين/ درجتان)

- المربيات
- الخدم
- السائقين
- الطباخين



(٥ درجات)

ب- لاحظ الصورة التي أمامك ثم أجب على الأسئلة التالية:



١- ما المشكلة التي تمثلها الصورة ؟ ص ١٤٧ (درجة)

- .. مشكلة العنف لدى المتعلمين

٢- عدد أسباب هذه المشكلة لدى المتعلمين. ص ١٤٩

- أسباب أسرية.
- أسباب نفسية.
- أسباب بيئية عامة.

٣- اذكر اثنين من الحلول لعلاج هذه المشكلة. ص ١٥٠ (درجتان)

- الاهتمام الجاد بالقرآن الكريم والسنة النبوية الشريفة.
- الاهتمام بالقراءة والمطالعة بدلاً من أصدقاء السوء.
- القدوة الحسنة في كل المحيطين بالشباب (المتعلمين) واتباع أساليب الحوار والتفاهم في علاج المشكلات والخلافات.

انتهت الأسئلة،،،