

وزارة التربية
الإدارة العامة لمنطقة الأحمدية التعليمية

نموذج إجابة امتحان

(الفترة الدراسية الثانية)

<https://t.me/ykuwait>

مادة: الاجتماعيات

الصف: السابع

العام الدراسي 2024/2025



نموذج إجابة
امتحان الفترة الدراسية الثانية
لمقرر الكويت والوطن العربي
للسبب السابع المتوسط


العام الدراسي : ٢٠٢٤ / ٢٠٢٥ م
الزمن : ساعة و٤٥ دقيقة
عدد الأوراق : ٥

أجب عن جميع الأسئلة

السؤال الأول موضوعي يتكون من (أ - ب - ج) : (١٥ نقطة × درجة = ١٥ درجة)

(أ) ظلل الخيار الصحيح من بين الخيارات التي تلي كل عبارة مما يلي :

١- نسبة احتياط الغاز الطبيعي في دول الوطن العربي : ص ١٢٧



٢- الهدف الذي لا ينتمي لأهداف التنمية المستدامة : ص ١٧٥




٣- الشعار الذي يمثل الصندوق السعودي للتنمية : ص ١٧٩



٤- الحاكم صاحب مبادرة عقد القمة العربية الاقتصادية والتنمية الاجتماعية عام ٢٠٠٩م : ص ١٨٦



٥- الشعار الذي يمثل المؤتمر الدولي للمانحين لدعم الوضع الإنساني في سوريا عام ٢٠١٣م : ص ١٨٨



تابع / السؤال الأول :

ب) أكمل العبارات التالية بما يناسبها مما درست :

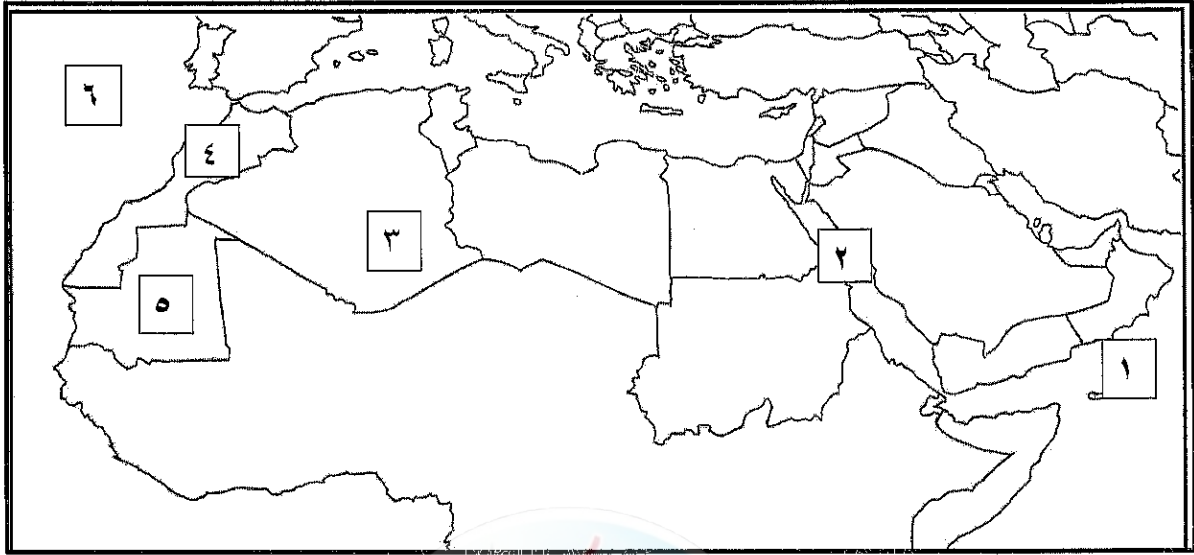
- ١- تبلغ مساحة الوطن العربي حوالي ١٣,٥ مليون كم^٢. ص ٩٩
- ٢- الموارد التي ترتبط بالسكان من حيث أعدادهم وتوزيعهم على مساحة الأرض التي يستغلونها تسمى الموارد البشرية. ص ١٠٩
- ٣- العام الذي عقد فيه مؤتمر قمة الأرض في مدينة ريو دي جانيرو بالبرازيل ١٩٩٢ م. ص ١٦٧
- ٤- التبادل التجاري بين الدول العربية يسمى التجارة البينية. ص ١٥٢
- ٥- تبلغ نسبة القطاع الزراعي من الاقتصاد العربي ٥٠٪. ص ١١٠

ج) اكتب الرابط المشترك بين عناصر المجموعة التالية :

١١٣ ص	<u>المحاصيل زراعية</u>	←	حبوب غذائية	غلات صناعية	الفواكة والثمار	-١
١١٨ ص	<u>الثروة الرعوية</u>	←	الأبقار	الماعز	الإبل	-٢
١٣٧ ص	<u>مراحل الصناعة</u>	←	مواد أولية	تحويل وتصنيع	توزيع	-٣
١٤٧ ص	<u>طرق النقل</u>	←	طرق برية	طرق مائية	طرق جوية	-٤
١٧١ ص	<u>الطاقة البديلة / المتجددة</u>	←	الشمس	الرياح	المياه	-٥

السؤال الثاني موضوعي يتكون من (أ - ب - ج) : (١٥ نقطة × درجة = ١٥ درجة)

(أ) لاحظ خريطة الوطن العربي الصماء ، ثم اكتب مدلولات الأرقام على العبارات التي تليها :



- * الدولة العربية الأولى في إنتاج الحديد يمثلها على الخريطة الرقم .
- * الدولة العربية الأولى في إنتاج الفوسفات يمثلها على الخريطة الرقم .
- * بحر العرب يمثلها على الخريطة الرقم .
- * المحيط الأطلسي يمثلها على الخريطة الرقم .

(٥) ص ١٣٢

(٤) ص ١٣٢

(١) ص ١٣٣

(٦) ص ١٣٣

(ب) صنف الصناعات حسب أنواعها في مكانها الصحيح في الجدول التالي : ص ١٤١-١٤٢-١٤٣


(البشوت - النفط - الخشب - المعادن - السيارات - المنسوجات - الفحم)

الصناعات التحويلية	الصناعات الحرفية	الصناعات الاستخراجية
الخشب المنسوجات	البشوت	النفط المعادن الفحم

(ج) اختر من المجموعة (أ) ما يناسبها من المجموعة (ب) بوضع الرقم الصحيح في المكان المناسب:

م	المجموعة (أ)	الرقم الصحيح	المجموعة (ب)
١	الدولة الأولى في إنتاج الأبقار ص ١١٨	٤	السعودية
٢	الدولة الأولى في إنتاج قصب السكر ص ١١٤	٥	اليمن
٣	الدولة الأولى في إنتاج الإبل ص ١١٨	١	السودان
٤	الدولة الأولى في إنتاج التمور ص ١١٤	٢	مصر
٥	الدولة الأولى في إنتاج البن ص ١١٤	-	الكويت
		٣	الصومال

السؤال الثالث مقالى يتكون من (أ - ب - ج) : (١٥ نقطة × درجة = ١٥ درجة)



(أ) لاحظ الشعار الذى أمامك ثم أجب عما يلى :

- ١- اذكر اسم المؤسسة التى يمثلها الشعار المقابل . (درجة) ص ١٨٤ .
* الصندوق الكويتي للتنمية الاقتصادية العربية .
- ٢- عدد اسهامات المؤسسة فى مجالها . (يكتفى بنقطتين)
* المساهمة فى تحقيق مشاريع التنمية الضرورية الخاصة بالمجالات الصحية والاجتماعية . * تقديم المساعدات اللازمة فى حالات الكوارث والنكبات . * دعم قضايا الأمة العربية والإسلامية .

(ب) قارن بين كل مما يلى :

أوجه المقارنة	منظمة أوبك ص ١٣٤	منظمة أوابك ص ١٣٥
العام	١٩٦٠ م (درجة)	١٩٦٨ م (درجة)
المقر	فيينا (درجة)	الكويت (درجة)
الأهداف	* الحرص على استقرار أسعار النفط فى الأسواق العالمية . (درجة)	* تعميق التعاون بين الدول العربية المنتجة للنفط فى مختلف أوجه النشاط الإقتصادي فى صناعة النفط . * تأمين وصول النفط إلى الأسواق الاستهلاكية بشروط وأسعار عادلة . * تسهم فى تطوير الصناعات البترولية فى جميع المجالات وتبادل الخبرات ولها علاقة تعاون مع منظمة الأوبك . (درجة - يكتفى بنقطة واحدة)

(ج) عدد (اثنين) لكل مما يلى : (يكتفى بنقطتين) (درجتين)

- ١- أنواع الزيادة السكانية . ص ١٠٦ .
* زيادة طبيعية : هي الفرق بين معدل المواليد ومعدل الوفيات .
* زيادة غير طبيعية : هي الزيادة الناتجة عن الهجرة .
- ٢- طرق المحافظة على ثروة المياه . ص ١٦٥ (يكتفى بنقطتين) (درجتين)
* ترشيد استخدام المياه والحد من التبذير فى المنازل . * الحد من هدر المياه فى عمليات الري ، وذلك باستخدام الوسائل الحديثة كالرش بالتنقيط والمحوري . * تنظيم عملية الاستفادة من المياه الجوفية ومنع تسرب الأملاح الملوثة إليها واستثمارها على الوجه الأمثل . * تطوير استعمال مياه الصرف الصحي المعالجة فى الزراعة والتنظيف . * إقامة البحيرات والسدود لتجميع مياه الأمطار والسيول للاستفادة منها فى فصل الجفاف .
* توقيع اتفاقيات مع الدول المشاركة ودول المنبع لتحقيق مصالح الدول العربية المعنية .
- ٣- محاور التنمية فى الوطن العربي . ص ١٧٣ (يكتفى بنقطتين) (درجتين)
* التنمية الاقتصادية . * التنمية المستدامة . * التنمية البشرية .

السؤال الرابع مقالتي يتكون من (أ - ب - ج) : (١٥ نقطة × درجة = ١٥ درجة)

(أ) لاحظ الجدول المقابل ثم أجب عن الأسئلة التالية : ص ١٠٠-١٠٢

الدولة العربية	المساحة كم ^٢	تقديرات عدد السكان (الف نسمة)
مصر	١,٠٠٩,٤٥٠	٨٦,٨١٤
السودان	١,٨٨٢,٠٠٠	٣٧,٤٠٢
الجزائر	٢,٣٨١,٧٤١	٣٩,٤٠٢
المغرب	٧١٠,٨٥٠	٣٣,٣٠٤
تونس	١٦٤,١٥٠	١٠,٩٨٣
ليبيا	١,٦٦٥,٠٠٠	٥,٩١٢
الصومال	٦٣٧,٦٥٧	١٢,٣١٧
موريتانيا	١,٠٣٠,٧٠٠	٣,٥٤٦
جيبوتي	٢٣,٢٠٠	٩٣٩
جزر القمر	٢,٢٣٦	٧٦٥
المجموع	٩,٥٠٦,٩٨٤	٢٣١٣٨٤

(إحصائية مساحة الدول العربية وتقديرات عدد السكان في الجناح الأفريقي عام ٢٠١٤م)

١- فسر مفهوم الكثافة السكانية . (درجة)

الكثافة السكانية : $\frac{\text{عدد السكان}}{\text{المساحة الكلية}}$

٢- استخرج أكبر الدول العربية مساحةً في الجناح الأفريقي .

* الجزائر . (درجة)

٣- استخرج أقل الدول العربية في عدد السكان في الجناح الأفريقي .

* جزر القمر . (درجة)

٤- رتب ترتيباً تنازلياً الدول الأربع الأولى في عدد السكان . (درجتين)

مصر	الجزائر	السودان	المغرب
-----	---------	---------	--------

(ب) فرق بين كل مما يلي :

الصناعات التجميعة ص ١٤٣	الصناعات التعدينية ص ١٤١
* عملية تركيب وجمع المواد المصنعة على اختلاف مصادرها كي نحصل على سلع متنوعة . (درجة)	* تهدف إلى تنقية الخامات المعدنية وتحويلها إلى صفائح أو سبائك صالحة لتنفيذ صناعات معدنية مختلفة . (درجة)
الغاز الطبيعي ص ١٢٥	النفط ص ١٢٥
* غاز مصاحب للنفط الخام ، أو يوجد منفرداً ، تتم إزالته لاستخدامات عديدة . (درجة)	* بقايا عضوية على هيئة نباتات وحيوانات دقيقة ترسبت في عصور قديمة وانطمرت تحت رواسب سميكة ، وتحولت بالضغط والحرارة إلى صورتها الحالية . (درجة)

(ج) علل لما يلي : (يكتفى بنقطتين / درجة لكل نقطة)

١- اختلاف المنتجات الزراعية من دولة عربية إلى أخرى . ص ١١٠

* اختلاف المناخ * اختلاف التربة * مدى توفر المياه في هذه الدولة .

٢- تحثل الأغنام العربية مكاناً مهماً ضمن الثروة الرعوية في الوطن العربي . ص ١١٨

* الأكثر انتشاراً في المراعي العربية . * أكثر الحيوانات المستأنسة والملائمة لمراعي الوطن العربي ، وذلك لتحملها الجفاف والانتقال . * لأهمية منتجاتها بالنسبة للسكان . * لأنها مصدر أساسي من مصادر الثروة القومية .

٣- يواجه الإنتاج الزراعي في الوطن العربي عقبات عديدة . ص ١٦١

* عدم استغلال الأراضي القابلة للزراعة لندرة مياه الري أو تذبذب الأمطار أو قلة الأيدي العاملة .
* اتباع طرق الزراعة التقليدية في معظم أجزاء الوطن العربي . * زحف الرمال (التصحّر) وانجراف التربة .
* تلوث التربة نتيجة للإسراف في استخدام المبيدات الحشرية وارتفاع نسبة الملوحة بالتربة . * الرعي الجائر .