

تم تحميل هذا الملف من موقع المناهج الكويتية



منطقة الأحمدية التعليمية

الملف نموذج إجابة منطقة الأحمدية التعليمية

موقع المناهج ← المناهج الكويتية ← الصف التاسع ← اجتماعيات ← الفصل الثاني

روابط مواقع التواصل الاجتماعي بحسب الصف التاسع



روابط مواد الصف التاسع على تلغرام

[الرياضيات](#)

[اللغة الانجليزية](#)

[اللغة العربية](#)

[التربية الاسلامية](#)

المزيد من الملفات بحسب الصف التاسع والمادة اجتماعيات في الفصل الثاني

حل التقويم	1
بنك اسئلة	2
مذكرة فصل ثاني	3
حل تقويم	4
حل كتاب الطالب - الطبعة الأولى	5



وزارة التربية

MINISTRY OF EDUCATION

الإدارة العامة لمنطقة الأحمدية التعليمية

موقع
المنهج الكويتية
almanahj.com/kw

نموذج إجابة امتحان

(الفترة الدراسية الثانية)

مادة: الاجتماعيات

<https://t.me/ykuwait>

الصف: التاسع

العام الدراسي 2024 / 2025 م

العام الدراسي: ٢٠٢٤ / ٢٠٢٥ م
الزمن: ساعة و ٤٥ دقيقة
عدد الأوراق : ٤

نموذج إجابة
امتحان الفترة الدراسية الثانية
لمقرر الكويت والعالم
للفيف التاسع المتوسط

وزارة التربية
الإدارة العامة لمنطقة الأحمدية التعليمية
التوجيه الفني للاجتماعيات

أجب عن جميع الأسئلة

السؤال الأول (الموضوعي) يتكون من (أ - ب - ج) : (١٥ × ١ = ١٥ درجة)

(أ) أكمل العبارات التالية بما يناسبها مما درست : (٥ درجات)

- ١- الدولة التي تم إلقاء القنبلة الذرية عليها في الحرب العالمية الثانية تسمى اليابان. ص ١١٣
- ٢- ظاهرة حدوث الأمواج الزلزالية في أرضية المحيطات تسمى تسونامي. ص ١١٨
- ٣- انضمت دولة الكويت لهيئة الأمم المتحدة عام ١٩٦٣ م. ص ١٦٨
- ٤- عدد القضاة في محكمة العدل الدولية يبلغ ١٥. ص ١٧١
- ٥- الصورة المقابلة لشخصية كويتية اسمه الدكتور عبد الرحمن حمود السميث. ص ١٨١

(ب) اكتب المفاهيم أو المصطلحات الدالة على العبارات التالية : (٦ درجات)

م	المفهوم أو المصطلح	العبارة
١	مشكلة الغذاء	حدوث نقص واضح في كمية الغذاء ونوعيته عن المعدلات المطلوبة. ص ١١٨
٢	البطالة	الأفراد الذين يعيشون بدون عمل. ص ١٢٠
٣	القيم	مجموعة الصفات الأخلاقية كالعادات والمبادئ والاتجاهات حول ما هو مرغوب وغير مرغوب اجتماعياً، والتي يمارسها أفراد المجتمع الواحد. ص ١٣٧
٤	التعايش	القبول بالتنوع بما يضمن وجود علاقات إيجابية مع الآخرين. ص ١٥٨
٥	المنظمات الدولية	هيئة يشترك فيها عدد من الدول للقيام بمجموعة من الأعمال ذات الأهمية المشتركة. ص ١٦٧
٦	الجمعية العامة	الهيئة الرئيسية للأمم المتحدة والوحيدة التي تمثل فيها جميع الدول الأعضاء وعلى نحو متساو. ص ١٧٠

(ج) صنف أنواع القيم التالية بمكانها الصحيح في الجدول الذي يليها : (٤ درجات)


(المواطنة - الوقاية - المساواة - السلامة) ص ١٣٩

القيم الديمقراطية	القيم الصحية
المواطنة	الوقاية
المساواة	السلامة


تابع / نموذج إجابة امتحان الفترة الدراسية الثانية - لمقرر الكويت والعالم - للصف التاسع المتوسط - العام الدراسي ٢٠٢٤/٢٠٢٥ م

السؤال الثاني (الموضوعي) يتكون من (أ - ب - ج) : (١٥ × ١ = ١٥ درجة)
(أ) ضع خطأ تحت الخيار الصحيح من بين الخيارات التي تلي كل عبارة : (٦ درجات)


١- شعار " التعليم الجيد " للتنمية المستدامة يمثله الحرف: ص ١٢٧




(د)



(ج)



(ب)



(أ)

موقع
 المناهج الكويتية
 almanahj.com/kw

د - ١٩٤٧ م

ص : ١٧٧ م

د- النقل

د - ٨ يونيو

ج - ١٩٤٦ م

ج- المياه

ج - ٨ مايو

٢- تم إنشاء هيئة الأمم المتحدة عام : ص ١٦٧

ب - ١٩٤٥ م

أ - ١٩٤٤ م

٣- أكثر القطاعات التي يمولها الصندوق الكويتي للتنمية الاقتصادية خلال السنة ٢٠١٧/ ٢٠١٨ م : ص ١٧٧

ب- الزراعة

أ - الطاقة

٤- يحتفل العالم باليوم الدولي للمرأة في : ص ١٧٥

ب - ٨ أبريل

أ - ٨ مارس

٥- الصورة المقابلة تعبر عن القيم : ص ١٣٨

ب - الاقتصادية

أ - العلمية

د - الصحية

ج - الجمالية

٦- " معاً لا يعود السائل للسؤال " هو شعار: ص ١٨٢

أ- جمعية الهلال الأحمر الكويتي

ب- جمعية العون المباشر


ج- الهيئة الخيرية الإسلامية العالمية

د- لجنة مسلمي إفريقيا

(ب) اكتب مدلولات الصور والأشكال التالية : (٤ درجات)



هيئة الأمم المتحدة
 ص ١٦٧



اليوم العالمي للغة
 العربية ص ١٥٤




المنظمة الدولية
 للثقافة والسلام
 ص ١٤٩




المفوضية السامية للأمم
 المتحدة لشؤون اللاجئين
 ص ١١٥

(ج) أكمل المخططات السهمية التالية بما يناسبها : (٥ درجات)

٢- خصائص الثقافة ١٥٤ يكتفى بثلاثة نقاط



١- أسباب الهجرات غير المشروعة ص ١١٥



تابع / نموذج إجابة امتحان الفترة الدراسية الثانية - لمقرر الكويت والعالم - للصف التاسع المتوسط - العام الدراسي ٢٠٢٤ / ٢٠٢٥ م



السؤال الثالث (المقال) يتكون من (أ - ب - ج) :

(أ) لاحظ الصورة المقابلة ثم أجب عن الأسئلة التالية : (٣ درجات)

١- اذكر اسم الشخصية الظاهرة في الصورة ؟ ص ١٢١ (درجة واحدة)

- الشيخ صباح الأحمد الجابر الصباح رحمه الله.

٢- ما اللقب الذي منحه له الأمم المتحدة عام ٢٠١٤م ؟ ص ١٥٨ (درجة واحدة)

- قائد العمل الإنساني.

٣- اكتب ما تعرفه عن رؤية عام ٢٠٣٥ م التي وضعها لدولة الكويت. ص ١٢١

- تحويل دولة الكويت إلى مركز مالي تجاري استثماري لمسيرة التطورات العالمية.

- الاعتماد على مصادر دخل أخرى غير مصدر النفط تتماشى مع أهداف التنمية المستدامة.

- الاعتماد على الطاقات التكنولوجية النظيفة والتخصصات العلمية الدقيقة والتي تتماشى مع التحولات السريعة في العالم.

(يكتفى بنقطة) (درجة واحدة)

موقع
المنهج الكويتية
almanahj.com/kw

(ب) فرق بين ما يلي : (٤ درجات)

مصادر القيم ص ١٣٨	خصائص القيم ص ١٤٠
<ul style="list-style-type: none"> - القرآن الكريم - الأحاديث النبوية الشريفة - خطابات وأقوال لأصحاب السمو - الأسرة - المدرسة - المساجد ودور العبادة - وسائل - الإعلام بأشكالها المختلفة - المسارح والفنون - العمل التطوعي - وسائل التواصل الاجتماعي - أقوال الصالحين والحكماء . 	<ul style="list-style-type: none"> - ذاتية . - نسبية . - إنسانية . - مكتسبة وغير وراثية .
(يكتفى بنقطتين) درجتان	(يكتفى بنقطتين) درجتان

(ج) عدد لما يلي : (٨ درجات)

١- مظاهر المشكلة الغذائية. ص ١١٨ (يكتفى بنقطتين) درجتان

- استمرار تراجع مقومات الإنتاج الزراعي ، بسبب انتشار الجفاف والتصحر.

- استمرار انتشار الأمراض الناتجة من سوء التغذية.

- تكرار حدوث الكوارث الطبيعية وأهمها المجاعات وظاهرة حدوث الأمواج الزلزالية (تسونامي).

- استخدام الدول الكبرى الغذاء كسلاح لتحقيق بعض المكاسب السياسية على حساب الدول الفقيرة.

٢- شروط ظهور الحضارة. ص ١٥٠ (يكتفى بنقطتين) درجتان

- الإنسان - الاستقرار - البيئة المناسبة - الأفكار (الاستمرار والثبات) .

٣- اختصاصات محكمة العدل الدولية. ص ١٧٢ درجتان

- النظر في الخلافات القانونية التي ترفعها الدول . - إصدار الفتاوي القانونية.

٤- أهداف جمعية العون المباشر. ص ١٨١ (يكتفى بنقطتين) درجتان

- التركيز على جانبي التعليم والتنمية للفرد . - العناية بالخدمات الصحية وتطويرها.

- محاربة الفقر . - تطوير الكفاءات البشرية.

تابع / نموذج إجابة امتحان الفترة الدراسية الثانية - لمقرر الكويت والعالم - للصف التاسع المتوسط - العام الدراسي ٢٠٢٤ / ٢٠٢٥ م

السؤال الرابع (المقال) يتكون من (أ - ب - ج) :
(أ) اقرأ الفقرة التالية ثم أجب عما يليها من أسئلة : ص ١٣٧ (٤ درجات)

" تعرض الشعب الكويتي لاحتلال من قبل نظام عراقي باند في يوم الخميس الموافق ٢-٨-١٩٩٠م للعديد من الممارسات الوحشية والتعذيب اللاإنساني وتدمير المنشآت ومؤسسات الدولة وتدمير مظاهر البيئة البحرية والبرية والجوية فمثل هذا النظام الوحشي لا يتمتع بأي قيم إنسانية أو أخلاقية "

١- اكتب عنواناً مناسباً للفقرة السابقة. **درجة واحدة**

- احتلال الكويت وانعدام القيم. (أوكل ما يراه المصحح مناسباً).

٢- اذكر تاريخ الغزو العراقي الغاشم على دولة الكويت. **درجة واحدة**

- ٢-٨-١٩٩٠م

٣- برهن على أن النظام العراقي لا يتمتع بأي قيم إنسانية أو أخلاقية في غزوه لدولة الكويت. **درجتان - يكفي بنقطتين**

- الممارسات الوحشية التي تعرض لها الشعب الكويتي والتعذيب اللاإنساني.

- تدمير المنشآت ومؤسسات الدولة - تدمير مظاهر البيئة البحرية والبرية والجوية.

(ب) قارن بين كل مما يلي : (٦ درجات)

وجه المقارنة	ص ١٨٠	ص ١٨٢
اسم المؤسسة	جمعية الهلال الأحمر الكويتي - درجة	الهيئة الخيرية الإسلامية العالمية - درجة
الأهداف (يكفي بنقطتين)	- ضمان الرعاية الاجتماعية والصحية للفئات المحتاجة. - معاونة منكوبي الكوارث الطبيعية. - تقديم المساعدة والحماية للجرحى والأسرى والمنكوبين فترة الحرب. - درجتان	- تقديم المساعدات للمحتاجين. - ابتكار حلول جذرية للقضاء على الفقر عملاً بالقيم الإسلامية. - القضاء على الأمية والجهل ونشر العلم من خلال بناء مراكز التعليم والتدريب. - تقوية روابط الوحدة والأخوة بين الشعوب الإسلامية. - درجتان

(ج) عرف المفاهيم أو المصطلحات التالية : (٥ درجات)

١- **التكنولوجيا:** الطرق المادية المستعملة في صناعة الأشياء وعملها. ص ١٢٠

٢- **الإدمان:** حالة نفسية وأحياناً عضوية تنتج من التفاعل مع العقار. ص ١٢٣

٣- **برامج التواصل الاجتماعي:** الطرق والوسائل التي تمكن الإنسان من التواصل مع العالم الخارجي. ص ١٢٩

٤- **الحضارة:** جملة مظاهر الرقي العلمي والفني والأدبي والاجتماعي في مجتمع من المجتمعات، أو في مجتمعات متشابهة وهي مرحلة سامية من مراحل التطور الإنساني. ص ١٥٠

٥- **التسامح:** الاعتراف والقبول بحقوق كل الأفراد والجماعات التي لديها أفكار وآراء وسلوك ومواقف مختلفة ومتنوعة. ص ١٥٨

- انتهت الإجابة -