



نموذج الإجابة

السؤال الأول : الموضوعي ويتكون من (أ - ب - ج - د - هـ)

أ) ظلل الخيار الصحيح من بين الخيارات التي تلي كل عبارة :

١- يبلغ عدد آبار النفط الكويتية التي تم حرقها إبان الغزو العراقي الغاشم : ص ١٣٩

٧١٧ بئراً	٧٢٧ بئراً	٧٣٧ بئراً	٧٤٧ بئراً
-----------	-----------	-----------	-----------

٢- الدولة التي كانت لها تجربة رائدة في إنتاج محصول القمح : ص ٩٢

البحرين	سلطنة عمان	قطر	المملكة العربية السعودية
---------	------------	-----	--------------------------

٣- العام الذي تم فيه صدور اعلان الدوحة بشأن قيام السوق الخليجية المشتركة : ص ١٣٠

٢٠٠٦ م	٢٠٠٧ م	٢٠٠٨ م	٢٠٠٩ م
--------	--------	--------	--------

٤- حقل تم فيه اكتشاف النفط بكميات ضخمة في جنوب دولة الكويت : ص ٨٧

بحرة	برقان	الروضتين	الوفرة
------	-------	----------	--------

٥- تحويل المواد الخام الى مواد يمكن الاستفادة منها : ص ٩٥

الصناعة	التعدين	التصدير	الزراعة
---------	---------	---------	---------

٦- تم تصدير أول شحنة من النفط الكويتي في عهد الشيخ : ص ٩٠

أحمد الجابر الصباح	عبدالله السالم الصباح	صباح السالم الصباح	جابر الأحمد الصباح
--------------------	-----------------------	--------------------	--------------------

ب) صف الهجرات العربية في مكانها المناسب في الجدول التالي: ص ١٠٨

[آل خليفة - المعاضيد - الأزد - القواسم - آل الصباح - بني ياس]

الكويت	البحرين	قطر	عمان	راس الخيمة	أبو ظبي
آل الصباح	آل خليفة	المعاضيد	الأزد	القواسم	بني ياس

تابع السؤال الأول (الموضوعي) :

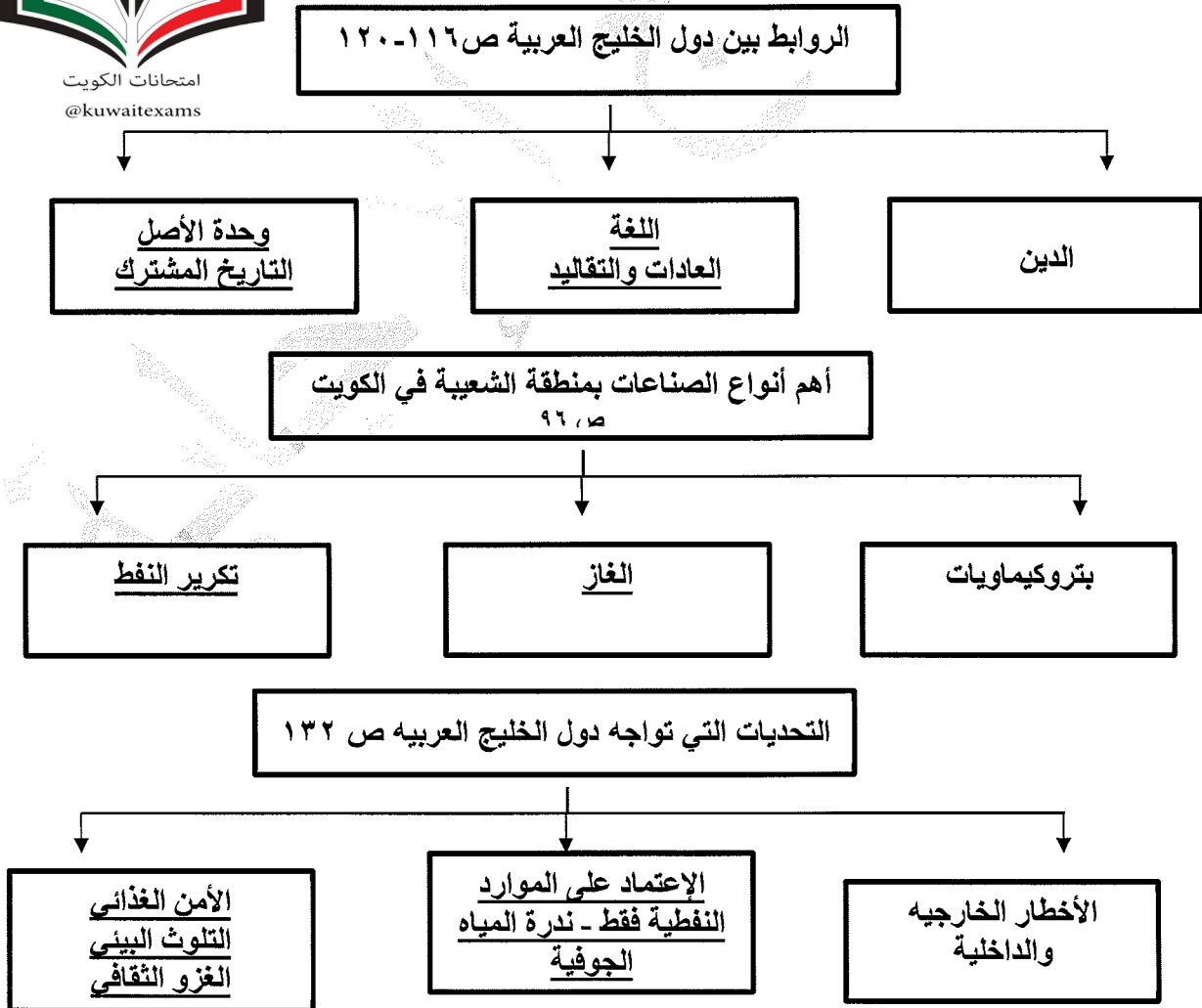


ج (أكمل العبارات التالية بما يناسبها :

- ١- الصورة المقابلة توضح أحد طرق الزراعة في دولة الكويت تسمى البيوت البلاستيكية . ص ٩٤
- ٢- الدولة الخليجية التي لم تتعرض للاستعمار الأجنبي تسمى المملكة العربية السعودية . ص ١٢٠
- ٣- طبقة في الغلاف الجوي تعتبر درع واقٍ للأحياء ضد الأشعة البنفسجية الضارة تسمى طبقة الأوزون . ص ١٣٥
- ٤- الحضارة التي ظهرت في مملكة البحرين تسمى دلمون . ص ١٠٥
- ٥- المنطقة التي تعد ملتقى الهجرات الخارجية القادمة من آسيا وأفريقيا تسمى شبه الجزيرة العربية . ص ١٠٧
- ٦- وحدة قياس شدة الضوضاء التي تتعرض لها الاذن البشرية تسمى الديسيبل . ص ١٣٤

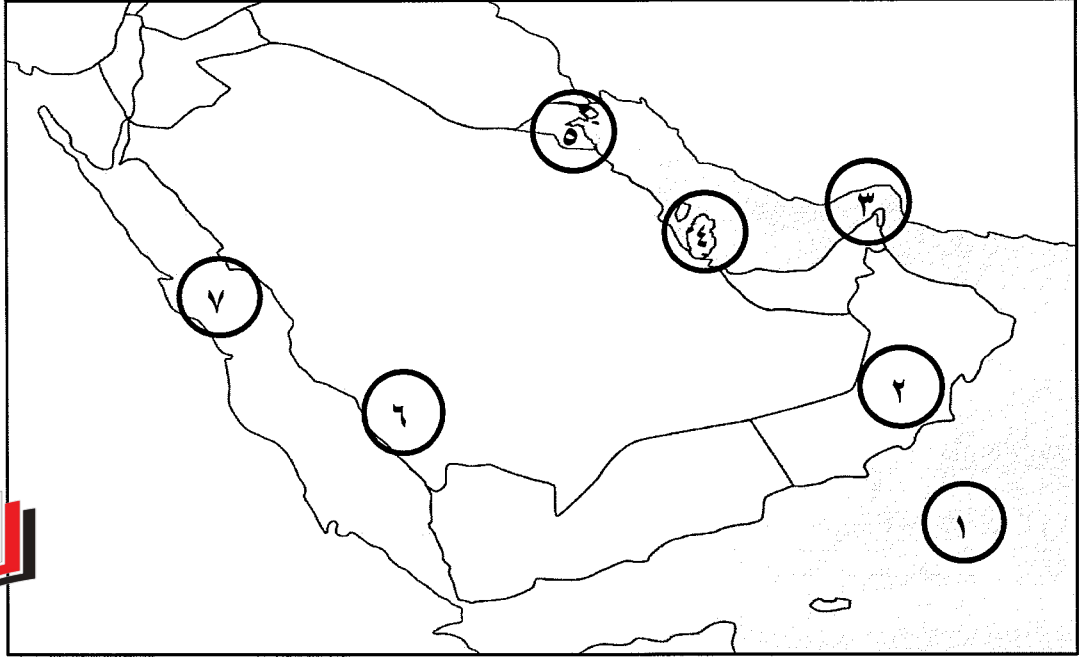


د (أكمل المخططات السهمية التالية بما يناسبها :



تابع السؤال الأول (الموضوعي) :

هـ) لاحظ خريطة شبه الجزيرة العربية التي أمامك ثم أجب عن الأسئلة التالية :



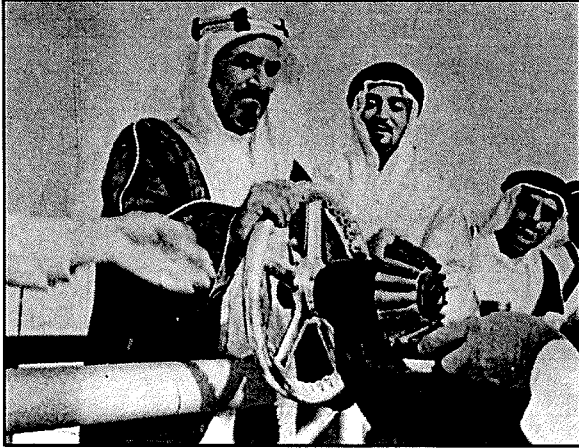
- | | | |
|------|-------|---|
| ص ٩٢ | (٢) | - سلطنة عمان يمثلها على الخريطة الرقم |
| ص ٩١ | (٣) | - مضيق هرمز يمثل على الخريطة الرقم |
| ص ٩٢ | (٤) | - الدولة التي يوجد بها حقل دخان يمثلها على الخريطة الرقم |
| ص ٩٢ | (٦) | - سهل تهامة يمثل على الخريطة الرقم |
| ص ٩١ | (٥) | - الدولة التي يوجد بها ميناء الأحمدى يمثل على الخريطة الرقم |
| ص ٩٢ | (٧) | - البحر الأحمر يمثل على الخريطة الرقم |

و) اكتب المفهوم أو المصطلح الدال على العبارات التالية :

- ١- (النمو السكاني) التغيير الذي يحدث لعدد السكان نتيجة للزيادة الطبيعية وغير الطبيعية . ص ١١١
- ٢- (السلالة) مجموعة من الناس تشترك فيما بينها في الصفات الجسمانية الرئيسية كلون الجلد و شكل الأنف و شكل الشعر و طول القامة وما إليها . ص ١٠٦
- ٣- (الكثافة السكانية) عدد السكان في الكيلو متر المربع ، وتقاس بقسمة عدد السكان على مساحة الدولة . ص ١١٤
- ٤- (التلوث) الضرر الذي يصيب عناصر البيئة الأساسية فتتحول من عناصر مفيدة الى عناصر ضارة . ص ١٣٣
- ٥- (الزراعة بدون تربة) الزراعة التي تتم في بيئة مائية أو رملية أو حصى أو نشارة خشب تضاف إليها المحاليل الغذائية . ص ٩٤
- ٦- (العمالة المنزلية) مجموعة من الأفراد يشاركون الأسرة في دور أو أكثر داخل المنزل أو خارجه . ص ١٤٢

السؤال الثاني (المقالى) : يتكون من : [أ ، ب ، ج]

أ) لاحظ الصورة المقابلة ثم أجب عن الأسئلة التي تليها : (٤ درجات)



- ١- اذكر المناسبة التي تمثلها الصورة . ص ٩٠
- تصدير أول شحنة من النفط الخام الكويتي عام ١٩٤٦ م .
- ٢- اذكر أهم الدول المستوردة للنفط الكويتي . ص ٩٠
- الولايات المتحدة الأمريكية .
- هولندا .
- اليابان .

ب) علل ما يلي : (٦ درجات)

- ١- شهدت منطقة الخليج العربية بعد اكتشاف النفط نموا سكانيا مضطرباً فجائياً .
ص ١١٠ (درجتين يكتفي بنقطتين)
 - ارتفاع دخل الفرد .
 - توفر الرعاية الصحية .
 - توفر فرص العمل .
- ٢- حدوث التلوث المائي .
ص ١٣٦ (درجتين يكتفي بنقطتين)
 - مخلفات المصانع - مياه الصرف الصحي غير المعالجة - مياه الصرف الزراعي .
 - النفط ومشتقاته - النفايات الخطرة - الأمطار الحمضية .
- ٣- حاجة دول الخليج العربية إلى إقامة العديد من الموانئ النفطية . ص ٩٠ (درجتين يكتفي بنقطتين)
 - تزايد الإنتاج النفطي لدول مجلس التعاون من الحقول البرية والبحرية .
 - تزايد الطلب العالمي عليه كمصدر أساسي للطاقة .

ج) عرف المفاهيم أو المصطلحات التالية:

- ١ - الترانزيت : إعادة تصدير البضائع المستورده . ص ٩٩
- ٢ - الثقافة : مجموعه من العادات والتقاليد والقيم في مجتمع من المجتمعات . ص ١١٨



السؤال الثالث : ويتكون من : [أ ، ب ، ج]

أ) اقرأ الفقرة التالية ثم أجب عما يليها من أسئلة : (٤ درجات)

يمثل السلوك العدواني (العنف) في هذا العصر مشكلة واسعة الانتشار في المجتمعات سواء في المدرسة أو المنزل أو الأندية ، و يتطلب إصلاح هذا العنف الذي يتعرض له شبابنا وضع خطط مناسبة لعلاجها ، مثل الاهتمام الجاد بالقرآن الكريم و السنة النبوية الشريفة بالإضافة إلى القدوة الحسنة .

* استخرج من الفقرة مايلي :

- الأماكن الوارد حدوث مشكلة العنف بها . ص ١٤٥ (درجتين - يكتفى بنقطتين)
- المدرسة . - المنزل . - الأندية (مايراه المصحح مناسباً : - الشارع - الجامعة - الأسواق)
- الخطط المناسبة لمعالجة مشكلة العنف . ص ١٥٠ (درجتين - يكتفى بنقطتين)
- الاهتمام الجاد بالقرآن الكريم والسنة النبوية الشريفة .
- القدوة الحسنة . (مايراه المصحح مناسباً)

ب) فرق بين كل : (٤ درجات)

الواردات ص ٩٩	الصادرات ص ٩٩
البضائع والسلع التي تشتريها دولنا من الخارج	السلع والمنتجات التي تبيعها دولنا في الخارج
احتياطي النفط ص ٨٨	انتاج النفط ص ٨٨
كميات النفط المخزونة في باطن الأرض	كميات النفط التي يتم استخراجها للاستفادة منها

ج) اذكر النتائج المترتبة على كل من : (٤ درجات)

- ١- تلوث التربة .
- ضعف قدرتها على الإنتاج الزراعي.
- تلوث الإنتاج الزراعي مما يؤثر على صحة الإنسان .
٢- ضح العدوان العراقي النفط متعمداً في مياه البحر . ص ١٣٩ (درجتين ويكتفى بنقطتين)
- أحدثت هذه البحيرات تلوث للتربة . - تدمير الحياة الفطرية . (مايراه المصحح مناسباً)

انتهت الإجابة

