

تم تحميل هذا الملف من موقع المناهج الكويتية



almanahj.com/kw

موقع المناهج الكويتية

الملف اختبار تحصيلي أول

[موقع المناهج](#) ⇨ [المناهج الكويتية](#) ⇨ [الصف الثاني](#) ⇨ [رياضيات](#) ⇨ [الفصل الثاني](#)

روابط مواقع التواصل الاجتماعي بحسب الصف الثاني



روابط مواد الصف الثاني على تلغرام

[الرياضيات](#)

[اللغة الانجليزية](#)

[اللغة العربية](#)

[التربية الاسلامية](#)

المزيد من الملفات بحسب الصف الثاني والمادة رياضيات في الفصل الثاني

تدريبات	1
وسائل الوحدة الحادية عشر	2
مذكرة	3
مذكرة مهمة	4
مذكرة مهمة	5

السؤال الأول : أ) اكتب عبارة الضرب والقسمة للأعداد التالية :

١٢


٤

٣


$$\underline{\hspace{1cm}} = \underline{\hspace{1cm}} \div \underline{\hspace{1cm}}$$

$$\underline{\hspace{1cm}} = \underline{\hspace{1cm}} \times \underline{\hspace{1cm}}$$

ج) حوِّط ما يمثل النصف :



ب) لون ما يمثل ثلث التفاح :



السؤال الثاني : أ) أكمل الرسم لتحصل على مجموعات متساوية :



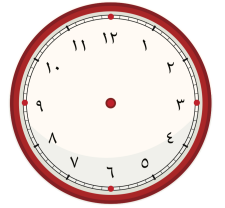
ج) اكتب القيمة المكانية للرقم الذي نحتة خط :

١ ٣ ٦


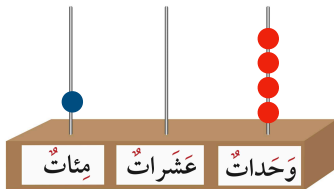


ب) ارسم عقربي الساعة اللذين يدلان على الوقت :

الساعة الثامنة والرابع





السؤال الثالث : أ) اكتب رمز العدد :



٢

السؤال الثالث : ب (اقرأ الوقت بالساعتين ، ما المدة التي مضت ؟



٥

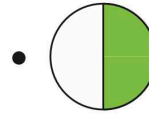
السؤال الرابع : أ (صل كل شكل بالكلمة المناسبة :

نصف



موقع
المنهج الكويتية
almanahj.com/kw


ثلث



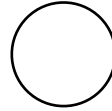
ب (اختر الاجابة الصحيحة بوضع ✓ .

١ (الساعة =



١٥ دقيقة



٦٠ دقيقة




٣٠ دقيقة

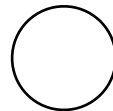


٢ (رمز العدد الذي يمثل


٦٠٠



٧٠٠



٦



٣ (٦ ÷ ٣ = ٢ هي نفسها :

$$٢ = ٢ ÷ ٤$$

$$٦ = ٢ ÷ ٣$$

$$٣ = ٢ ÷ ٦$$

السؤال الأول : أ) اكتب عبارة الضرب والقسمة للأعداد التالية :

١٢

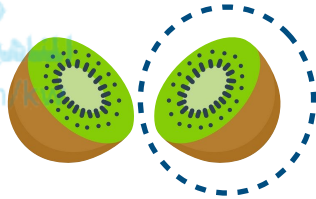
٤

٣


$$٣ = ٤ \div ١٢$$

$$١٢ = ٤ \times ٣$$


ج) حوِّط ما يمثل النصف :



ب) لون ما يمثل ثلث التفاح :



السؤال الثاني : أ) أكمل الرسم لتحصل على مجموعات متساوية :



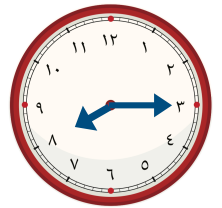
ج) اكتب القيمة المكانية للرقم الذي نحتة خط :

١٣٦

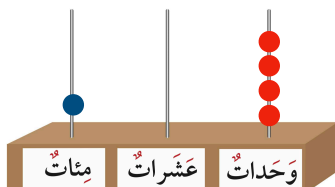
٣٠

ب) ارسم عقربي الساعة اللذين يدلان على الوقت :


الساعة الثامنة والرابع



السؤال الثالث : أ) اكتب رمز العدد :



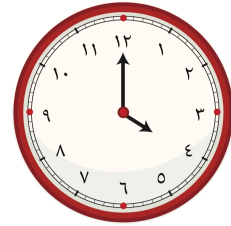

١٠٤



٤٣٦

٢

السؤال الثالث : ب (اقرأ الوقت بالساعتين ، ما المدة التي مضت ؟



٥

السؤال الرابع : أ (صل كل شكل بالكلمة المناسبة :

نصف



ثلث




موقع
المنهج الكويتية
almanahj.com/kw

ب (اختر الاجابة الصحيحة بوضع ✓ .

١ (الساعة =


١٥ دقيقة




٦٠ دقيقة



٣٠ دقيقة



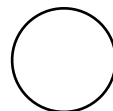
٢ (رمز العدد الذي يمثل




٦٠٠



٧٠٠




٦

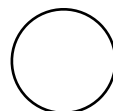


٣ (٦ ÷ ٣ = ٢ هي نفسها :

٢ = ٢ ÷ ٢



٦ = ٢ ÷ ٣



٣ = ٢ ÷ ٦

