

تم تحميل هذا الملف من موقع المناهج الكويتية



منطقة حولي التعليمية

الملف نموذج إجابة اختبار منطقة حولي

[موقع المناهج](#) ⇌ [المناهج الكويتية](#) ⇌ [الصف الثامن](#) ⇌ [اجتماعيات](#) ⇌ [الفصل الثاني](#)

روابط مواقع التواصل الاجتماعي بحسب الصف الثامن



روابط مواد الصف الثامن على تلغرام

<a href="#">الرياضيات</a>	<a href="#">اللغة الانجليزية</a>	<a href="#">اللغة العربية</a>	<a href="#">التربية الاسلامية</a>
---------------------------	----------------------------------	-------------------------------	-----------------------------------

المزيد من الملفات بحسب الصف الثامن والمادة اجتماعيات في الفصل الثاني

<a href="#">تلخيص</a>	1
<a href="#">امتحان دولة الكويت والعالم الاسلامي</a>	2
<a href="#">حل التقويم لمادة الاجتماعيات</a>	3
<a href="#">نموذج اجابة اختبار في مادة الاجتماعيات لنهاية الفترة الدراسية الثانية</a>	4
<a href="#">نموذج الاحابة لامتحان الاجتماعيات فرواتية</a>	5



وزارة التربية  
الإدارة العامة لمنطقة حولي التعليمية  
مراقبة الامتحانات وشؤون الطلبة

العام الدراسي 2023 / 2024 م  
اختبار نهاية الفصل الدراسي الثاني

موقع  
المنهج الكويتية  
almanahj.com/kw

## نموذج الإجابة

### الإجتماعيات

المرحلة المتوسطة  
الصف الثامن



وزارة التربية

الإدارة العامة لمنطقة حولي التعليمية

التوجيه الفني للاجتماعيات

امتحان الفترة الدراسية الثانية  
مقرر دولة الكويت والعالم الإسلامي  
للفصل الثامن المتوسط

العام الدراسي: ٢٠٢٣/٢٠٢٤م

الزمن: ساعة ٤٥ دقيقة

عدد الصفحات: ٥

## السؤال الأول: موضوعي ويتكون من ( أ - ب )

( ١ × ٥ = ٥ )

( أ ) ظلل الخيار الصحيح من بين الخيارات التي تلي كل عبارة :

١- حاكم الكويت الذي لُقّب بقائد العمل الإنساني هو الشيخ : ص ١٦١

صباح السالم	جابر الأحمد	سعد العبدالله	صباح الأحمد
-------------	-------------	---------------	-------------


٢- عام تم فيه إطفاء آخر بئر نفطي في دولة الكويت : ص ١٢٠

١٩٨٩م	١٩٩٠م	١٩٩١م	١٩٩٢م
-------	-------	-------	-------

٣- دولة سجلت أعلى معدل بالمام البالغين في الكتابة والقراءة عام ٢٠١٥م : ص ١٢٨

قطر	السعودية	الكويت	البحرين
-----	----------	--------	---------

٤- دافتر بيئية تمثل نسبة التلوث الهوائي في باكستان بسبب عوادم السيارات: ص ٨٢



٥- هيئة عامة كويتية تأسست عام ١٩٨٢م و تخضع لإشراف وزير الأوقاف والشؤون الإسلامية: ص ١٦٠

جمعية الهلال الأحمر	الهيئة الخيرية الإسلامية	الصندوق الكويتي للتنمية	بيت الزكاة
---------------------	--------------------------	-------------------------	------------

( ١ × ٥ = ٥ )

( ب ) أكمل العبارات التالية بما يناسبها:

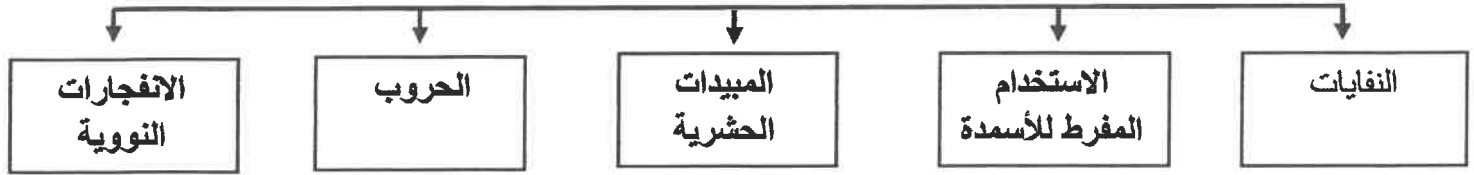
- ١- مؤتمر عُقد بهدف إيجاد حل لمشكلة الحدود بين نجد والكويت والعراق اسمه..العقير.. ص ١٠٣
- ٢- بطلة كويتية شاركت بإطفاء حرائق النفط الناجمة عن الغزو العراقي الغاشم اسمها ..سارة أكبر.. ص ١١٩
- ٣- عام عُقد فيه مؤتمر القمة العربية في القاهرة لخدمة الشعب الفلسطيني ..٢٠٠٠م .. ص ١٠٨
- ٤- مدينة تضم مقر المنظمة الإسلامية للتربية والعلوم والثقافة ( إيسيسكو ) اسمها ..الرباط.. ص ١٤٥
- ٥- صاحب مبادرة إنشاء الصندوق الكويتي للتنمية عام ١٩٦١م اسمه ..الشيخ جابر الأحمد الصباح.. ص ١٥٩

## السؤال الثاني : موضوعي ويتكون من ( أ - ب )

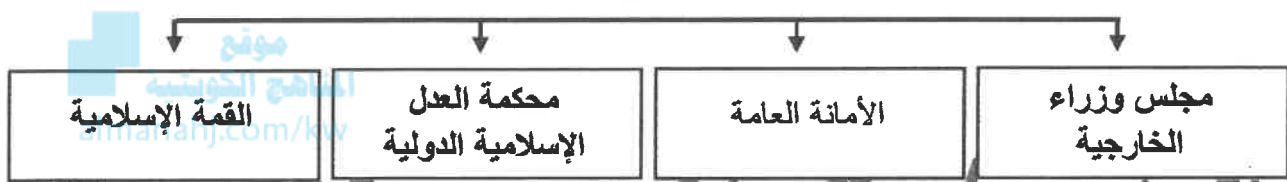
( ١ × ٥ = ٥ )

( أ ) أكمل المخططات السهمية التالية :

- مصادر التلوث البيئي البشرية ص ٨١ ( يكتفي بثلاثة نقاط )



- أجهزة منظمة التعاون الإسلامي ص ١٤١ ( يكتفي بنقطتين )



( ب ) أكتب المفاهيم أو المصطلحات التالية على العبارات التالية :

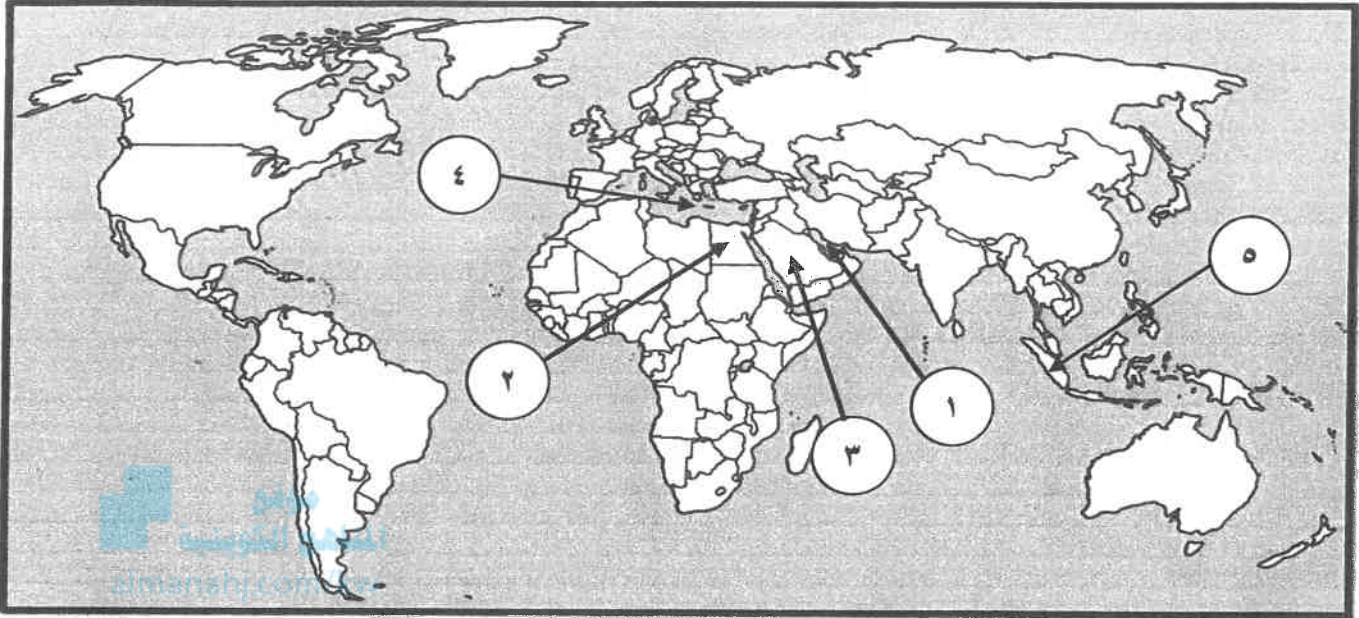
( ١ × ٥ = ٥ )

م	المفهوم / المصطلح	التعريف
١	النمية المستدامة	عبارة عن برامج تحسين نوعية الحياة ، ولا تتحقق إلا بمشاركة جميع المواطنين من أجل تحسين نوعية الحياة وفق بيئة صحية آمنة ومستقرة ومتقدمة . ص ٩٣
٢	الأقليات الإسلامية	مجموعة من المسلمين تعيش تحت سلطة دولة غير مسلمة في وسط أغلبية غير مسلمة . ص ١١٢
٣	العولمة	نظام عالمي جديد يقوم على الإبداع العالمي ، والتطور التقني ، والتكنولوجيا ، وثورة الاتصالات بحيث تزول الحدود الثقافية بين الشعوب بالعالم ويصبح العالم كقرية واحدة . ص ٩٩
٤	التصحّر	زحف رمال الصحراء على المناطق الجافة وشبه الجافة . ص ٨٨
٥	الانفجار السكاني	الزيادة الكبيرة في أعداد السكان . ص ٩٥

(١ X ٤ = ٤)

### السؤال الثالث : موضوعي ويتكون من ( أ - ب )

( أ ) أمامك خريطة العالم السياسية ، لاحظها جيداً ثم أكتب مدلولات الأرقام على العبارات التي تليها :



- مدينة عربية تعتبر نموذجاً للثلاث الصوفي في العالم الإسلامي تحمل على الخريطة رقم ( ٢ ) ص ١٥٨
- دولة تضم مقر منظمة التعاون الإسلامي تحمل على الخريطة رقم ( ٣ ) ص ٣٨
- مسطح مائي تعرض إلى سكب كميات كبيرة من النفط عام ١٩٩١م يحمل على الخريطة رقم ( ١ ) ص ١٥
- دولة إسلامية تتميز بارتفاع نسبة الأيدي العاملة فيها تحمل على الخريطة الرقم ( ٥ ) ص ١٤٩

(١ X ٦ = ٦)

( ب ) صحح ما تحته خط في العبارات التالية :

م	العبارة	التصويب
١	حاكم الكويت الذي رفض ادعاءات عبدالكريم قاسم هو الشيخ صباح السالم الصباح ص ١٠٣	عبدالله السالم الصباح
٢	مجموع الدخل المكتسب في بلد ما خلال فترة زمنية معينة عادة ما تكون سنة واحدة يعرف بإسم <u>التكامل الاقتصادي</u> ص ١٠٠	الدخل القومي
٣	غاز مسؤول عن ظاهرة الإحتباس الحراري <u>النيتروجين</u> ص ٩٠	ثاني أكسيد الكربون
٤	قرار رقم (١٨١) و الذي يهدف إلى خطة تقسيم فلسطين إلى قسمين عربي ويهودي صدر في عام ١٩٤٨ ص ١٠٧	١٩٤٧م
٥	مدينة عُقد فيها المؤتمر الإسلامي الثالث عشر عام ٢٠١٦م <u>جدة</u> ص ١٤٤	إسطنبول
٦	حرب شنتها قوات التحالف على قوات النظام العراقي البائد عام ١٩٩١م <u>الصامته</u> ص ١٢٢	عاصفة الصحراء



## السؤال الرابع : مقالتي ويتكون من ( أ - ب - ج )

### ( أ ) فسر المفاهيم التالية :

$$( ١ \times ٤ = ٤ )$$

- ١- الحدود : خطوط خُددت بواسطة الإنسان ورُسمت حتى تفصل بين سيادة دولة ودولة أخرى . ص ١٠٢
- ٢- الدولة الإسلامية : هي التي يكون فيها نسبة المسلمين ٥٠% أو أكثر من نسبة مجموع سكانها ويحكمها حاكم مسلم . ص ١٣٧
- ٣- الإحتباس الحراري : ارتفاع درجات حرارة الأرض عن معدلها الطبيعي مما يؤدي إلى تغيرات مُناخية . ص ٩٠
- ٤- التدوير : إعادة استخدام المخلفات لإنتاج منتجات أخرى أقل جودة من المنتج الأصلي . ص ٩١

### ( ب ) عدد كل مما يلي :

$$( ١ \times ٧ = ٧ )$$

- ١- آثار تلوث الهواء على الإنسان والبيئة . ص ٨٤
- أمراض القلب والأوعية الدموية / أمراض الرئة وضيق التنفس / اضطراب في الجهاز العصبي / تآكل وتلف المباني والمنشآت والآثار .
- ٢- قرارات المؤتمر الإسلامي الأول عام ١٩٦٩م . ص ١٤٢
- رفض أي حل للقضية الفلسطينية لا يكفل لمدينة القدس وضعها السابق لأحداث يونيو 1967م / تمسك المسلمين بالقدس / وعزم حكوماتها على تحريرها / بذل الجهود المشتركة لتحقيق الانسحاب السريع للقوات الإسرائيلية من كافة الأراضي الفلسطينية التي احتلتها بعد حرب يونيو ١٩٦٧م .
- ٣- التحديات التي تواجه الأقليات الإسلامية في العلم . ص ١١٤
- مواجهة العديد من المسلمين تمييزاً في العمل منذ أحداث ١١ سبتمبر ٢٠٠١م / سوء الظروف الاجتماعية والمالية التي تعيش فيها معظم العائلات المسلمة نتيجة تضييق الأجر أو عدم وجود فرص عمل مناسبة / الحفاظ على الهوية الإسلامية في ظل عادات وتقاليد المجتمعات الغربية وسابهاها التعليمية / انخفاض المستوى التعليمي نتيجة سوء الأحوال الاجتماعية والمادية / فرض بعض الدول بشكل تدريجي المزيد من القيود على المسلمين في حرية ممارستهم لشعائهم الدينية الإسلامية .

### ( ج ) فرق بين كل مما يلي :

$$( ١ \times ٤ = ٤ )$$

خط الفقر	الفقر
هو أدنى مستوى من الدخل يحتاجه المرء أو الأسرة حتى يكون بالإمكان توفير مستوى معيشة ملائم في بلد ما . ص ٩٧	الحالة الاقتصادية التي يفتقد فيها الفرد إلى الدخل الكافي للحصول على المستويات الدنيا من الغذاء والملبس والتعليم والرعاية الصحية وكل ما يُعد من الاحتياجات الضرورية لتأمين مستوى لائق في الحياة . ص ٩٦
الأمية في البلدان المتقدمة	الأمية في البلدان النامية
الشخص الذي لم يصل إلى المستوى التعليمي الذي يجعله يفهم التعليمات الكتابية في موضوعات التقنية في عمله ( كاليابان ) . ص ١٢٨	الإنسان الذي بلغ الثانية عشر من عمره ولم يتعلم مبادئ القراءة والكتابة والحساب بلغة ما . ص ١٢٨

## السؤال الخامس : مقالتي ويتكون من ( أ - ب - ج )

( ١ X ٤ = ٤ )

( أ ) اقرأ الفقرة التالية ثم أجب عما يليها من أسئلة : ص ١٢٥

" يسبب إدمان المخدرات آثار خطيرة على الانسان والمجتمع حيث تسيطر على المتعاطي حالة من هلوسه سمعية وبصرية ، وعصبية زائدة ، وسلوك عدواني مما يضر نفسه ومجتمعه ، والإدمان على المخدرات يصعب علاج متعاطيه مثل : عقاقير الشبو والهيروين وغيرها "

١- أكتب عنواناً مناسباً للفقرة .

- مشكلة إدمان المخدرات ( ما يراه المصحح مناسباً ) .

٢- إستخرج من الفقرة السابقة ما يلي:

أ- الآثار الخطيرة لإدمان المخدرات على صحة الإنسان. ( يكتفى بنقطتين )

- تسيطر على المتعاطي حالة من هلوسة سمعية وبصرية / عصبية زائدة / سلوك عدواني .

ب- أنواع المخدرات. ( يكتفى بنقطة )

- عقاقير الشبو / الهيروين .

( ١ X ٦ = ٦ )

( ب ) أجب عما هو مطلوب منك ما بين القوسين :

١- تلوث التربة . ص ٨٨

- الإخلال بالتوازن البيئي للتربة / ضعف حميات البشاء الضوئي للنبات / انحسار الغطاء النباتي . ( النتائج ) ( يكتفى بنقطتين )

٢- منظمة التعاون الإسلامي . ص ١٤٠

- المساواة بين الدول الأعضاء / تسوية المنازعات بالطرق السلمية بين دول الأعضاء . ( المبادئ ) ( يكتفى بنقطتين )

٣- الفقر في الدول الإسلامية . ص ٩٨

- عدم توفر فرص عمل / ضعف الاقتصاد الوطني / انتشار البطالة / تضخم أسعار السلع والخدمات / قلة التمرعات والصدقات في المجتمع / الحروب والدمار . ( الأسباب ) ( يكتفى بنقطتين )

( ج ) أمامك جدول يمثل مجموع معدلات نمو الأمية في الدول الأعضاء في منظمة التعاون الإسلامي لعام

( ١ X ٥ = ٥ )

٢٠١٥م ، لاحظته جيداً ثم أجب عما يليه من أسئلة : ص ١٢٩

١- استخرج من الجدول الذي أمامك الدولة الأعلى والدولة الأقل في معدل نمو الأمية .

الدولة	النسبة
كازاخستان	٩٩,٩٧
النيجر	١٩,١٣
اليمن	٧٠,٠٧
سيراليون	٤٨,٠٩

الدولة الأعلى	الدولة الأقل
كازاخستان	النيجر

٢- حول الدول التالية في معدل نمو الأمية إلى أعمدة بيانية .  
( كازاخستان - اليمن - سيراليون )

