

تم تحميل هذا الملف من موقع المناهج الكويتية



مدرسة الصفوة النموذجية

الملف نموذج اختبار مدرسة الصفوة النموذجية

موقع المناهج ← المناهج الكويتية ← الصف الثاني ← علوم ← الفصل الثاني

روابط مواقع التواصل الاجتماعي بحسب الصف الثاني



روابط مواد الصف الثاني على تلغرام

[الرياضيات](#)

[اللغة الانجليزية](#)

[اللغة العربية](#)


[التربية الاسلامية](#)

المزيد من الملفات بحسب الصف الثاني والمادة علوم في الفصل الثاني


مخططات وملخصات لمادة العلوم	1
اوراق عمل مفيدة للطالب في مادة العلوم	2
اوراق عمل ممتازة في مادة العلوم	3
مخططات ممتازة في مادة العلوم	4
نموذج لامتحان الاخير	5

السؤال الأول: ضع علامة (✓) على العبارة الصحيحة وعلامة (×) على العبارة الخاطئة:

١. يكون ظل الجسم أطول من الحقيقة قبل الغروب. ()
٢. الأجسام الشفافة تكون ظلاً. ()

السؤال الثاني: ضع الوجه المناسب لكل صورة مما يأتي**السؤال الثالث: اختر الإجابة الصحيحة لكل من العبارات التالية بوضع علامة (✓) في المربع المقابل لها**

١ - الرسم الذي يمثل ظل الفيل هو:


☐


☐

☐

٢ - الرسم الذي يمثل ظل الشجرة هو:


☐

☐

☐
السؤال الرابع: صل الصورة بما يناسبها

فصل الربيع



فصل الصيف