

تم تحميل هذا الملف من موقع المناهج الكويتية




منطقة الفروانية التعليمية

الملف نموذج إجابة منطقة الفروانية التعليمية

موقع المناهج ← المناهج الكويتية ← الصف الثامن ← اجتماعيات ← الفصل الثاني

روابط مواقع التواصل الاجتماعي بحسب الصف الثامن



روابط مواد الصف الثامن على تلغرام

الرياضيات	اللغة الانجليزية	اللغة العربية	التربية الاسلامية
---------------------------	----------------------------------	-------------------------------	-----------------------------------

المزيد من الملفات بحسب الصف الثامن والمادة اجتماعيات في الفصل الثاني

تلخيص	1
امتحان دولة الكويت والعالم الاسلامي	2
حل التقويم لمادة الاجتماعيات	3
نموذج اجابة اختبار في مادة الاجتماعيات لنهاية الفترة الدراسية الثانية	4
نموذج الاحابة لامتحان الاجتماعيات فروانية	5



وزارة التربية

الإدارة العامة لمنطقة الفروانية التعليمية
التوجيه الفني للاجتماعيات

امتحان الفترة الدراسية الثانية
مقرر/ دولة الكويت والعالم الإسلامي
الصف الثامن المتوسط

للعام الدراسي ٢٠٢٤ / ٢٠٢٥ م
الزمن : ساعة وخمسة وأربعون
عدد الأوراق: (٦)

نموذج الإجابة

السؤال الأول (موضوعي) :- يتكون من (أ - ب - ج - د - هـ - و) (لكل نقطة درجة)

(أ) أكمل العبارات الآتية بما يناسبها فيما درست :

١. مؤتمر عقد عام ١٩٢٢ م لحل أزمة الحدود السياسية بين دولة الكويت والعراق ونجد يسمى العقير ص ١٠٣
٢. الدولة التي اندلعت بها حرب أهلية عام ١٩٩١ م تسمى الصومال ص ١١٧
٣. العام الذي تم فيه عقد مؤتمر القمة العربية في القاهرة برؤوس أموال تخدم الشعب الفلسطيني ٢٠٠٠ م ص ١٠٨
٤. المدينة التي عقد فيها المؤتمر الإسلامي الثالث عشر عام ٢٠١٦ م تسمى إسطنبول ص ١٤٤
٥. غاز مسئول عن ظاهرة الاحتباس الحراري يسمى ثاني أكسيد الكربون ص ٩٠

(ب) ظلل الخيار الصحيح من بين الخيارات التي تلي كل عبارة:

١- حاكم دولة الكويت الذي لقب بقائد العمل الإنساني :

ص ١٦١

صباح السالم	جابر الأحمد	سعد العبدالله	صباح الأحمد
-------------	-------------	---------------	-------------

٢- العام الذي تم فيه إطفاء آخر بئر نفطي في دولة الكويت :

ص ١٢٠

١٩٨٩ م	١٩٩٠ م	١٩٩١ م	١٩٩٢ م
--------	--------	--------	--------

٣- دولة خليجية سجلت أعلى معدل في إلمام البالغين بالقراءة والكتابة لعام ٢٠١٥ م :

قطر	السعودية	الكويت	البحرين
-----	----------	--------	---------

ص ٨٣

٤- بلغت نسبة التلوث الهوائي في باكستان بسبب عوادم السيارات :

٢٠٪	٣٠٪	٤٠٪	٥٠٪
-----	-----	-----	-----

ص ١٠٧

٥- بدأت القضية الفلسطينية عقب الحرب العالمية :

الأولى	الثانية	الثالثة	الرابعة
--------	---------	---------	---------

تابع /السؤال الأول (موضوعي) :

(ج) صحح ما تحته خط بكتابة الإجابة الصحيحة ما بين الأقواس :-

١. بلغ عدد الآبار المشتعلة التي أحرقها النظام العراقي البائد ٥٧٣ بئرا . (٧٣٧) ص ١٢٠
٢. تقع منطقة شينجيانغ أوريغور بالنسبة للصين على الحدود الشرقية . (الغربية) ص ١١٣
٣. وكالة الأنباء الإسلامية الدولية تسمى إيسيسكو . (إينا) ص ١٤٥
٤. الزيادة الكبيرة في أعداد السكان تسمى الانفجار البيئي . (الانفجار السكاني) ص ٩٥
٥. الحرب التي شنتها قوات التحالف في ١٧ يناير ١٩٩١ م لتحرير الكويت اسمها صقور الجو (عاصفة الصحراء) ص ١٢٢



(د) اكتب المفاهيم أو المصطلحات الدالة على العبارات التالية :-

م	المفهوم أو المصطلح	العبرة
١	العولمة	نظام عالمي جديد يقوم على الابداع العلمي ، والتطور التقني ، والتكنولوجيا وثورة الاتصالات بحيث تزول الحدود الثقافية بين الشعوب بالعالم ويصبح العالم كقرية واحدة . ص ٩٩
٢	الدخل القومي	مجموع الدخل المكتسب في بلد ما خلال فترة زمنية معينة، عادة ما تكون سنة واحدة . ص ١٠٠
٣	الامية	ظاهرة ثقافية سلبية متفشية في معظم دول العالم الإسلامي ومختلف البلدان وبخاصة البلدان النامية ص ١٢٨
٤	الأقليات الإسلامية	مجموعة من المسلمين تعيش تحت سلطة دولة غير مسلمة في وسط أغلبية غير مسلمة . ص ١١٢
٥	البلدان النامية	الدول التي مازالت أقل تقدما في ميادين الاقتصاد والعلم والتكنولوجيا . ص ١٠٠

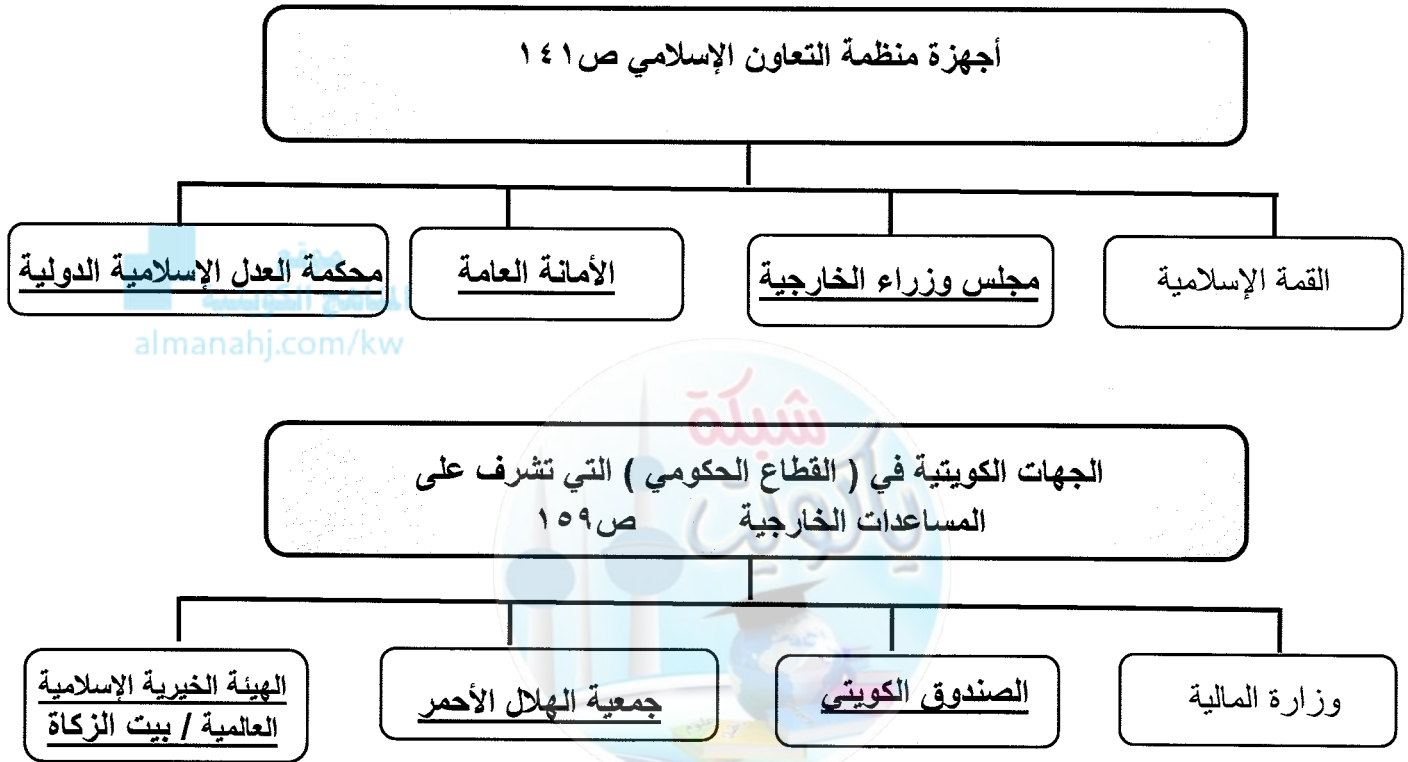
(هـ) صنف مصادر التلوث البيئي في مكانها الصحيح في الجدول التالي : ص ٨١

(الغبار - البراكين - الانفجارات النووية - المبيدات الحشرية)

مصادر طبيعية	مصادر بشرية
الغبار البراكين	المبيدات الحشرية الانفجارات النووية

تابع/ السؤال الأول (الموضوعي) :-

(و) أكمل المخطط السهمي التالي:



السؤال الثاني (مقال) يتكون من (أ - ب - ج) :
(أ) إقرأ الفقرة التالية ثم أجب عما يليها من أسئلة : (درجتين)

يعتبر التلوث البيئي أي تغيير غير مرغوب به في الخواص الطبيعية أو الكيميائية أو البيولوجية للبيئة المحيطة (الهواء - الماء - التربة) والذي قد يتسبب في الأضرار بحياة الإنسان و الكائنات الأخرى ومن آثار التلوث الهوائي انه سبب رئيسي لأمراض القلب والأوعية الدموية ، وأمراض الرئة ، وضيق التنفس ، واضطراب في الجهاز العصبي ، تآكل وتلف المباني والمنشآت والآثار . ص ٨١ ، ص ٨٤

ص ٨١

درجة

• **استخرج من الفقرة السابقة مايلي .**

- **تعريف التلوث البيئي .**

- أي تغيير غير مرغوب به في الخواص الطبيعية أو الكيميائية أو البيولوجية للبيئة المحيطة (الهواء - الماء - التربة) والذي قد يتسبب في الإضرار بحياة الإنسان والكائنات الأخرى .

ص ٨٤

- **أثر التلوث الهوائي على الإنسان .**

- سبب رئيسي لأمراض القلب والأوعية الدموية وأمراض الرئة وضيق التنفس .

- اضطراب في الجهاز العصبي .

- تآكل وتلف المباني والمنشآت والآثار .

(ب) علل لما يلي :

ص ٩٨

درجتان ويكتفى بنقطتين

١- انتشار الفقر في الدول الإسلامية .

- عدم توفر فرص العمل . - ضعف اقتصاد الدولة . - انتشار البطالة .

- قلة التبرعات والصدقات في المجتمع . - تضخم أسعار السلع والخدمات .

ص ٨٧

درجتان ويكتفى بنقطتين

٢- حدوث التلوث الضوضائي .

- وسائل النقل السيارات بأنواعها المختلفة ، والطائرات والقطارات وغيرها .

- عمليات البناء والهدم وأصوات آلات الحفر .

(ج) عدد لكل مما يلي :

ص ١١٤

درجتان ويكتفى بنقطتين

١- التحديات التي تواجه الأقليات الإسلامية حول العالم .

- مواجهة العديد من المسلمين تمييزا في العمل منذ أحداث ١١ سبتمبر ٢٠٠١ م .

- سوء الظروف الاجتماعية والمادية التي تعيش فيها معظم الجاليات المسلمة

- تدني الأجور أو عدم وجود فرص عمل مستقرة .

- الحفاظ على الهوية الإسلامية في ظل عادات وتقاليد المجتمعات الغربية ومناهجها التعليمية .

- انخفاض المستوى التعليمي نتيجة سوء الأحوال الاجتماعية والمادية .

- فرض بعض الدول القيود على المسلمين في حرية ممارسة الشعائر الدينية الإسلامية .

ص ١٥٩

درجتان ويكتفى بنقطتين

٢- نطاق عمل الصندوق الكويتي للتنمية (المساعدات)

- المساعدات الزراعية - المساعدات الصناعية

- المساعدات الصحية - المساعدات التعليمية

السؤال الثالث (مقالى) يتكون من (أ - ب - ج) :

(أ) فرق بين كل من :- (٤ درجات لكل إجابة درجة)

التدوير ص ٩١	النفائيات ص ٩١
-إعادة استخدام المخلفات لإنتاج منتجات أخرى أقل جودة من المنتج الأصلي .	- أي مواد زائدة وغير مرغوبة من مخلفات البيئة أو الفضلات .
خط الفقر ص ٩٧	الفقر ص ٩٦
-أدنى مستوى من الدخل يحتاجه المرء أو الأسرة حتى يكون بالإمكان توفير مستوى معيشة ملائم في بلد ما .	-الحالة الاقتصادية التي يفقد فيها الفرد إلى الدخل الكافي للحصول على المستويات الدنيا من الغذاء والملبس والتعليم والرعاية الصحية وكل ما يعد من الاحتياجات الضرورية لتأمين مستوى لائق في الحياة .


(ب) علل لما يلى :

١- التلوث المائي من أخطر أنواع التلوث البيئي . درجة ويكتفى بنقطة واحدة ص ٨٥
- لأن الماء هو المادة الضرورية لبقاء الحياة على سطح الأرض ، الخلل في عنصر الماء سيؤدي إلى تدهور واختلال بقية نظام الحياة والنظام البيئي .

٢- الادمان على المخدرات . درجتان ويكتفى بنقطتين ص ١٢٦
- ضعف الوازع الديني وانحدار القيم الأخلاقية .
- ضعف الرقابة من الأسرة على الفرد .
- التقليد الأعمى واستيراد قيم جديدة غريبة على مجتمعاتنا تتنافى مع مبادئ ديننا الحنيف .
- انتشار التدخين بين المتعلمين في المدارس .
- قضاء أوقات فراغ في أمور تافه لا تعود على الشباب بالنفع .

(ج) لاحظ الشعار الذى أمامك ثم أجب عن الأسئلة التالية :ص ١٦٠

- ١- أذكر اسم الهيئة التي يمثلها هذا الشعار . (درجة)
- الهيئة الخيرية الإسلامية العالمية .
- ٢- أذكر العام الذي تأسست فيه هذه الهيئة . (درجة)
- ١٩٨٦ م
- ٣- أذكر أسم الحاكم الذي تم في عهده انشاء هذه الهيئة . (درجة)
- الشيخ جابر الأحمد الصباح .



السؤال الرابع (مقال) يتكون من (أ - ب - ج) :

(أ) قارن بين كل من :

أوجه المقارنة	المؤتمر الإسلامي الأول ص ١٤٢	المؤتمر الإسلامي الخامس ص ١٤٣
سنة الانشاء	عام ١٩٦٩ م (درجة)	عام ١٩٨٧ م (درجة)
المقر	مدينة الرباط عاصمة المملكة المغربية (درجة)	دولة الكويت (درجة)
سبب الإنعقاد	- إحراق المحتل الصهيوني الإسرائيلي المسجد الأقصى . (درجة)	- تلبية لدعوة أمير دولة الكويت الراحل الشيخ جابر الأحمد الجابر الصباح لاستضافة المؤتمر الخامس في دولة الكويت . (درجة)

(ب) لاحظ الصورة التي أمامك ثم أجب عن الأسئلة التالية :ص ١٣٧



- ١- ما أسم صاحب هذه الصورة .
(درجة)
- الملك فيصل بن عبدالعزيز آل سعود .
شبكة ياكويت التعليمية
- ٢- ما الذي دعا إليه في مؤتمر القمة العربية الثالثة عام ١٩٦٥ م . (درجة)
- دعا الي تجمع يضم الدول الإسلامية .

(لكل تعريف درجة)

(ج) عرف ما يلي :

- ١- الحدود : خطوط حددت بواسطة الإنسان ورسمت حتى تفصل بين سيادة دولة ودولة أخرى . ص ١٠٢
- ٢- التصحر : زحف رمال الصحراء على المناطق الجافة وشبه جافة . ص ٨٨

انتهت الإجابة