

تم تحميل هذا الملف من موقع المناهج الكويتية




منطقة الفروانية التعليمية

الملف أسئلة الاختبار النهائي لمنطقة الفروانية التعليمية

[موقع المناهج](#) ⇨ [المناهج الكويتية](#) ⇨ [الصف السادس](#) ⇨ [علوم](#) ⇨ [الفصل الثاني](#)

روابط مواقع التواصل الاجتماعي بحسب الصف السادس



روابط مواد الصف السادس على تلغرام

[الرياضيات](#)

[اللغة الانجليزية](#)

[اللغة العربية](#)

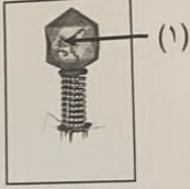
[التربية الاسلامية](#)

المزيد من الملفات بحسب الصف السادس والمادة علوم في الفصل الثاني

<a href="#">بنك أسئلة</a>	1
<a href="#">دليل المعلم</a>	2
<a href="#">دليل المعلم</a>	3
<a href="#">كتاب الطالب 6</a>	4
<a href="#">أوراق عمل المحرر والخلايا والتعضي وأهمية الخلايا</a>	5

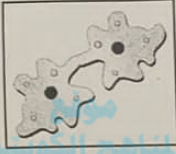
**السؤال الخامس (أ) ادرس الرسومات التالية ثم أجب عن المطلوب: (٢×٣)**

١. يمثل الشكل تركيباً لأحد الفيروسات :



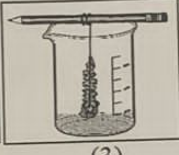

- أ- يشير الرقم (١) إلى تركيب يسمى .....
- ب- الرسم يوضح فيروس يسمى .....

٢. يمثل الشكل أحد الكائنات الحية الدقيقة وحيدة الخلية :



- أ- يتكاثر هذا الكائن الحي بطريقة .....
- ب- يسمى هذا النوع من التكاثر بالتكاثر .....

٣. الأشكال التالية تمثل طرقاً مختلفة لفصل مكونات المخاليط :



- أ- يمكن فصل الرمل عن الماء باستخدام الطريقة رقم .....

ب- يمكن فصل كبريتات النحاس الزرقاء

عن الماء باستخدام الطريقة رقم .....

**السؤال الخامس (ب) أي مما يلي لا ينتمي للمجموعة مع ذكر السبب: (٢×٣)**

من خلال دراستك لدرس مكونات الخلية :

١. البلاستيدات الخضراء - جدار الخلية - مادة الكلوروفيل - الجسم المركزي الذي لا ينتمي .....

السبب : ..... والباقي .....

من خلال دراستك لوحدة الفيروسات ووحدة البكتيريا :

٢. السعال الديكي - الالتهاب الرئوي - الكوليرا - الحصبة الذي لا ينتمي .....

السبب : ..... والباقي .....

من خلال دراستك لوحدة المحاليل وطرق الفصل:

٣. السلطة - عصير الفواكة - الشاي - الحبر والماء الذي لا ينتمي .....

السبب : ..... والباقي .....



درجة السؤال الخامس

انتهت الأسئلة،،،

**السؤال الثالث (ب): اكتب بين القوسين الاسم أو المصطلح العلمي الذي تدل عليه كل من العبارات التالية: (١×٤)**



(.....)



(.....)

(.....)

(.....)

١. مجموعة من الأنسجة تعمل متضافرة لتأدية وظائف معينة .
٢. كائنات مجهرية تتكون من مادة وراثية محاطة بغلاف بروتيني.
٣. كائنات حية دقيقة وحيدة الخلية بدائية النوى.
٤. طريقة لفصل المواد الصلبة المذابة من محلولها المشبع بالتبريد.

درجة السؤال الثالث

**السؤال الرابع : (أ) : علل لما يأتي تعليلاً علمياً دقيقاً: (٢×٣)**

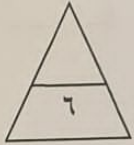
١- تتميز الخلايا العصبية بأنها طويلة ورقيقة وكثيرة التفرع.

٢- للبكتيريا دور هام في المجال البيئي.

٣- لعملية التكاثر أهمية كبيرة في حياة الكائنات الحية .



**السؤال الرابع (ب) : قارن بين كل مما يلي كما هو موضح بالجدول التالي : (٢×٣)**



وجه المقارنة	الفجوات العصارية	الميتوكوندريا
الوظيفة داخل الخلية	.....	.....
وجه المقارنة	الحمى القلاعية	الانفلونزا
نوع الكائن التي تصيبه	.....	.....
وجه المقارنة	الزبادي	شراب التفاح
نوع المخلوط	.....	.....

درجة السؤال الرابع

**السؤال الأول: اختر الإجابة الصحيحة علمياً لكل من العبارات التالية وضع إشارة (✓) في المربع المقابل لها (١×٨)**

١- تقوم الشبكة الإندوبلازمية داخل الخلية ب :

- ☐ إنتاج الغذاء ☐ تخزين الغذاء ☐ إطلاق الطاقة ☐ نقل المواد داخل الخلية

٢- جهاز وظيفته الدفاع عن الجسم ضد العناصر المسببة للمرض .

- ☐ العصبي ☐ المناعي ☐ الدوري ☐ الغدد الصماء

almanahj.com/kw

٣- الشكل الذي يمثل مرحلة التصاق الفيروس بخلية ما :



٤- الشكل الذي يمثل فيروس الانفلونزا :




٥- تركيب يوجد في الخلية البكتيرية :

- ☐ بلاستيدات خضراء ☐ سيتوبلازم ☐ فجوات عصارية ☐ شبكة أندوبلازمية

٦- تساعد البكتيريا النافعة التي تعيش في أمعاء الإنسان والحيوان على هضم :

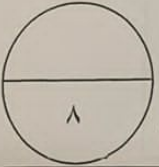
- ☐ الهرمونات ☐ البروتينات ☐ السيليلوز ☐ الفيتامينات

٧- الشكل الذي يمثل كائناً حياً يتكاثر لاجنسياً عن طريق التبرعم هو :



٨- الطريقة التي يتم من خلالها فحص الكوليسترول والهيموجلوبين في الدم :

- ☐ التبلور ☐ التقطير ☐ التكتيف ☐ الاستشراب



درجة السؤال الاول

السؤال الثاني: أكتب بين القوسين كلمة ( صحيحة ) للعبارة الصحيحة و كلمة ( خطأ ) للعبارة غير صحيحة علمياً في كل مما يأتي: ( ١ × ٨ )




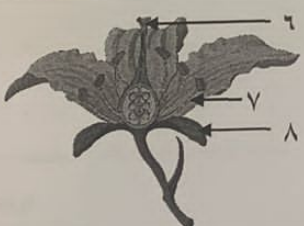
١. النسيج هي الوحدة الوظيفية الأساسية في جميع الكائنات الحية. (.....)
٢. يضخ الجهاز العصبي الدم في كافة أنحاء الجسم. (.....)
٣. تستطيع الفيروسات الحركة والنمو خارج جسم الكائن الحي. (.....)
٤. مرض التبتق في التبغ مصدره فيروس. (.....)
٥. يتكون المحلول من مذيب ومذاب. (.....)
٦. المستحلب خليط يتكون من مادتين أو أكثر تنويان وتمتزجان مع بعضهما. (.....)
٧. يستخدم الفصل بالاستشراب في إعادة تدوير الورق. (.....)
٨. تقلل عملية إعادة تدوير الورق من التلوث. (.....)



درجة السؤال الثاني

السؤال الثالث (أ) : في الجدول التالي اختر العبارة الصحيحة من المجموعة (ب) وأكتب رقمها أمام ما يناسبها من عبارات المجموعة (أ) ( ١ × ٦ )



الرقم	المجموعة (أ)	الرقم	المجموعة (ب)
( ... )	عضية تقوم بتنظيم مرور المواد من الخلية وإليها.	١	النواة
( ... )	عضية تتحكم في جميع أنشطة الخلية .	٢	غشاء الخلية
		٣	جدار الخلية
( ... )	شكل يمثل بكتيريا كروية.		
( ... )	شكل يمثل بكتيريا حلزونية.		
		٤	
		٥	
		٦	
( ... )	جزء يمثل الميسم في الزهرة .		
( ... )	جزء يمثل السبلة في الزهرة.		
		٦	
		٧	
		٨	