

تم تحميل هذا الملف من موقع المناهج الكويتية



مدرسة التميز النموذجية

الملف نماذج اختبارات تجريبية قصيرة

[موقع المناهج](#) ⇌ [المناهج الكويتية](#) ⇌ [الصف الثاني](#) ⇌ [علوم](#) ⇌ [الفصل الثاني](#)

روابط مواقع التواصل الاجتماعي بحسب الصف الثاني



روابط مواد الصف الثاني على تلغرام

[الرياضيات](#)

[اللغة الانجليزية](#)

[اللغة العربية](#)

[التربية الاسلامية](#)

المزيد من الملفات بحسب الصف الثاني والمادة علوم في الفصل الثاني

مخططات وملخصات لمادة العلوم	1
اوراق عمل مفيدة للطالب في مادة العلوم	2
اوراق عمل ممتازة في مادة العلوم	3
مخططات ممتازة في مادة العلوم	4
نموذج لامتحان الاخير	5



امتحانات

موقع
المنهاج الكويتية
almanahj.com/kw

تجريبية

القصير الثاني

٢٠٢٤-٢٠٢٥ م

مدرسة التميز النموذجية

الصف : الاول

المادة علوم





نموذج (١)

الصف / الاول

الاختبار القصير الثاني

(٤ درجة)

السؤال الأول: اختر الإجابة الصحيحة علمياً لكل عبارة:-

١- جميعها تحمي من ضوء الشمس ما عدا


☐

☐

☐

☐

موقع
المناهج الكويتية
almanahj.com/kw

٢- جهاز كهربائي يعمل بالبطارية


☐

☐

☐

☐

(٢ درجة)

السؤال الثاني: ضع علامة (√) أو (×) أمام العبارات الآتية :-

()

١- القيعه تستخدم للحماية من الشمس .

()

٢- البطارية هي مصدر الكهرباء المناسب لتشغيل الألعاب الكهربائيه .

(٤ درجة)

السؤال الثالث :-

صنف السلوكيات التالية في الجدول وفق ما هو مطلوب بوضع رقم الصورة في المكان المناسب :



(4)



(3)



(2)



(1)

ممارسات غير آمنة	ممارسات آمنة





اجابة نموذج (١)

الصف / الاول

الاختبار القصير الثاني

(٤ درجة)

السؤال الأول: اختر الإجابة الصحيحة علميا لكل عبارة:-

٣- جميعها تحمي من ضوء الشمس ما عدا



المنهج الكويتي
almanahj.com/kw

٤- جهاز كهربائي يعمل بالبطارية



(٢ درجة)

السؤال الثاني: ضع علامة (√) أو (×) أمام العبارات الآتية :-

(√)

٣- القيعه تستخدم للحمايه من الشمس .

(√)

٤- البطاريه هي مصدر الكهرباء المناسب لتشغيل الالعاب الكهربائيه .

(٤ درجة)

السؤال الثالث :-

صنف السلوكيات التاليه فى الجدول وفق ما هو مطلوب بوضع رقم الصوره فى المكان المناسب :



(4)



(3)



(2)



(1)

استخدام غير آمن	استخدام آمن
3 1	4 2





نموذج (٢)


الصف / الاول

الاختبار القصير الثاني

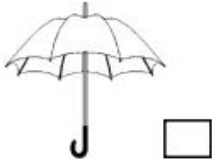
(٤ درجة)

السؤال الأول: اختر الإجابة الصحيحة علميا لكل عبارة:-

١- احد الصور التاليه تختلف بمصدر الكهرباء اللازم لتشغيلها



٢- اداه تستخدم للحمايه من الحراره



(٢ درجة)

السؤال الثاني: ضع علامة (√) أو (×) أمام العبارات الآتية :-

()

١- استخدام الملعقه الخشبيه من لتقليب الطعام الساخن من السلوكيات الامنه .

()

٢- تعمل الغساله بالبطاريه .

(٤ درجة)

السؤال الثالث :-

صنف الصور التي امامك حسب ما هو مطلوب منك في الجدول ادناه .



(5)



(4)



(3)



(2)



(1)

تصدر حرارة و ضوء	تصدر صوت	تصدر حرارة





إجابة نموذج (٢)


الصف / الاول

الاختبار القصير الثاني

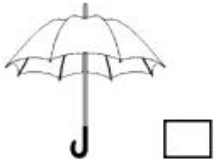
(٤ درجة)

السؤال الأول: اختر الإجابة الصحيحة علميا لكل عبارة:-

٣- احد الصور التاليه تختلف بمصدر الكهرباء اللازم لتشغيلها



٤- اداه تستخدم للحمايه من الحراره



(٢ درجة)

السؤال الثاني: ضع علامة (✓) أو (×) أمام العبارات الآتية :-

(✓)

(×)

٣- استخدام الملعقه الخشبيه من لتقليب الطعام الساخن من السلوكيات الامنه .

٤- تعمل الغساله بالبطاريه .

(٤ درجة)

السؤال الثالث: -

صنف الصور التي امامك حسب ما هو مطلوب منك في الجدول ادناه .



(5)



(4)



(3)



(2)



(1)

تصدر حرارة و ضوء	تصدر صوت	تصدر حرارة
3 - 1	5 - 2	4





مدرسة التميز النموذجية
(ابتدائي - متوسط - ثانوي)
الجهاز الفني التربوي

منصات التميز التعليمية

لزيارة منصة التميز التعليمية في اليوتيوب امسح الباركود التالي :



لزيارة منصة التميز التعليمية في تليجرام امسح الباركود الخاص بقناة كل فصل مما يلي :



الصف الرابع



الصف الثالث



الصف الثاني



الصف الأول



الصف التاسع



الصف الثامن



الصف السابع



الصف السادس



الصف الخامس



الصف الثاني عشر
أدبي



الصف الثاني عشر
علمي



الصف الحادي عشر
علمي



الصف الحادي عشر
أدبي



الصف العاشر



لزيارة صفحتنا في تويتر

لزيارة صفحتنا في الإنستغرام

عنواننا : خيطان - ق ٤ - ش ١٠٠



مدرسة التميز النموذجية بنين (ابتدائي - متوسط - ثانوي)