

أَوَّلًا: ١ أَوْجِدِ النَّاتِجَ:

$$\begin{array}{r} \boxed{1} \boxed{1} \boxed{1} \quad \boxed{1} \\ 8 \cdot 0 \ 4 \ 2 \\ 1 \ 4 \ 3 \ 9 \ 1 \ 2 \\ 0 \ 4 \cdot \ 3 \ 8 \end{array} +$$

$$\begin{array}{r} 9 \\ 1 \overline{) 10413} \\ \underline{10} \\ 4 \\ \underline{4} \\ 0 \\ \underline{0} \\ 13 \\ \underline{13} \\ 0 \end{array}$$

$$\begin{array}{r} \boxed{1} \quad \boxed{1} \quad \boxed{1} \\ 1 \ 2 \ 8 \ 9 \ 1 \ 3 \\ 0 \ 7 \ 0 \ 9 \ 2 \ 7 \ + \\ \hline 7 \ 0 \ 9 \ 8 \ 2 \ 0 \end{array}$$

٢ في الجدول المقابل، توضح إحصائية عدد سكان بعض الدول الأوروبية عام ٢٠١٥ م.

١ ما مَجْمُوعُ عَدَدِ السُّكَّانِ فِي فرنسَا وَالْمَانيَا؟

$$18V + 11W + \dots = 81 + 8W + \dots + 77 + W + \dots$$

ب) بِكُمْ يَزِيدُ عَدَدُ سُكَّانِ أَلْمَانِيَا عَنْ عَدَدِ سُكَّانِ إِسْبَانِيَا؟

$$34719 \dots = 47474 \dots - 11183 \dots$$

٣ قَدَّرَ نَاتِجَ جَمْعِ الْعَدَدَيْنِ ٨٤٩١٥ ، ٣٠٧٥١

$$\begin{array}{r} 8 \cdot \cdot \cdot \cdot \\ 3 \cdot \cdot \cdot \cdot \\ \hline 11 \cdot \cdot \cdot \cdot \end{array} + \begin{array}{r} 8 \cdot \cdot \cdot \cdot \\ 3 \cdot \cdot \cdot \cdot \\ \hline 11 \cdot \cdot \cdot \cdot \end{array}$$

٤ اِسْتَحْدِمْ مُخَطَّطًا فَنَ الَّذِي يُوَضِّحُ تَصْنِيفَ

بَعْضُ الْحَيَوَانَاتِ، وَأَجِبْ عَنِ الْأَسْئَلَةِ التَّالِيَةِ:

أَيُّ مِنَ الْحَيَوَانَاتِ تَعِيشُ عَلَى الْيَابَسَةِ فَقَطْ؟

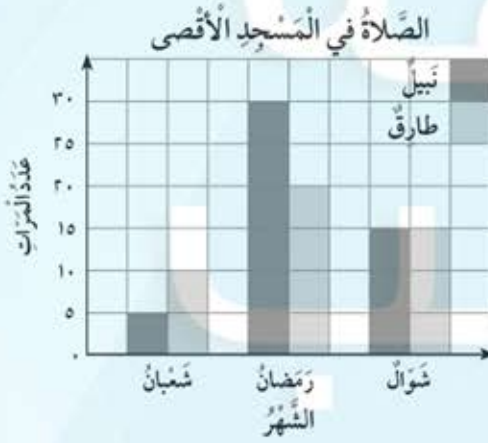
القرود، الزرافة

ب أَيُّ مِنَ الْحَيَوَانَاتِ تَعِيشُ فِي الْمَاءِ فَقَطْ؟ الْحَوْتَ ، قَنْفَذَ الْبَحْرِ

ج أَيُّ مِنَ الْحَيَوَانَاتِ يُمَكِّنُهَا الْعَيْشُ فِي الْمَاءِ وَعَلَى الْيَابِسَةِ مَعًا؟ الضفدع، التمساح



٥ اِسْتَحْدِمِ التَّمثِيلَ الْبَيَانِيَّ الْمُجَاوِرَ لِلْإِجَابَةِ عَنِ الْأَسْئَلَةِ التَّالِيَةِ:



أ ما عدد الصلوات التي صلاها نبيل في شهر شعبان في المسجد الأقصى؟ ٥

ب ما عدد الصلوات التي صلاها طارق خلال شهر رمضان في المسجد الأقصى؟ ٢٠

ج أيهما أكثر ذهبا للصلوة في المسجد الأقصى خلال الأشهر الثلاثة؟ نبيل

د ما الشهر الذي صلى فيه نبيل أكبر عدد من الصلوات في المسجد الأقصى؟ رمضان

هـ في شهر رمضان، بكم يزيد عدد صلوات نبيل عن عدد صلوات طارق في المسجد الأقصى؟ ١٠

ثانياً: اختر الإجابة الصحيحة بوضع (✓).

أ يوضح الشكل البياني عدد المتعلمين في كل فصل من فصول الصف الرابع في مدرسة السلام.



في مدرسة السلام، كل فصل يسع ٣٠ متعلماً. كم عدد المتعلمين الإضافيين الذين يمكن أن يلتحقوا بالمدرسة ليكتمل العدد في كل فصل؟

٣٥



٣٠



٢٥






٢٠



المبلغ	الاسم
٢٢ ديناراً	سارة
١٥ ديناراً	بيان
١٧ ديناراً	دانة
١٠ دنانير	ليلى

ب) استلّمت مُنيرة الجدول المقابل من معلّمتها
وطلّبت منها تحديد التمثيل البياني المناسب
ليّانات الجدول.
أيّ من هذه التمثيلات يجب على مُنيرة اختيارها؟



٣٠



٢٤



ج) في كلّ من الفصّلين س ، ص ٤٠ مُتعلّماً.

عدّد المُتعلّمت في الفصّل س أكبر من عدّد المُتعلّمت في الفصّل ص. بكم يزيّد عدّد المُتعلّمت في الفصّل س عن عدّد المُتعلّمت في الفصّل ص؟

١٦



١٤

