





وزارة التربية
الإدارة العامة لمنطقة الفروانية التعليمية
التوجيه الفني للاجتماعيات
إجابة امتحان نهاية الفترة الدراسية الأولى المجال : دولة الكويت والعالم الاسلامي
للفيف الثامن
الزمن : ساعة ونصف
العام الدراسي ٢٠١٨ - ٢٠١٩ م
عدد الاوراق : ٦

أجب عن جميع الأسئلة التالية :

السؤال الأول يتكون من (أ - ب - ج - د - هـ) :- (لكل نقطة درجة)

١- أكمل العبارات التالية بما يناسبها :

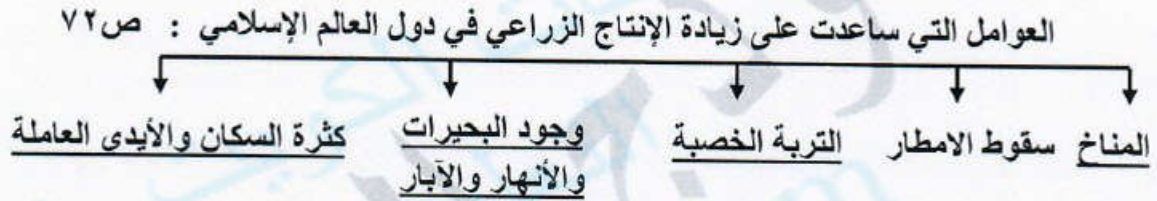
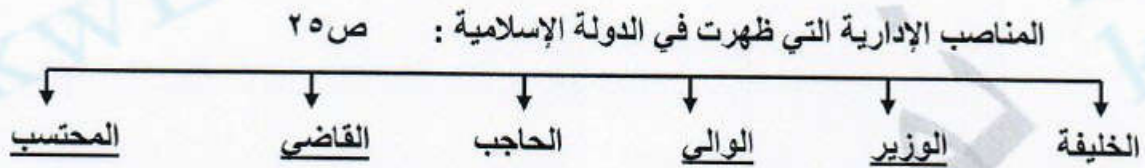
- ١- العالم المسلم الذي ألف كتاب (الصيدلة في الطب) اسمه البيروني ص ١٨
- ٢- العام الذي حصل فيه سمو أمير البلاد الشيخ صباح الأحمد الجابر الصباح على لقب قائد العمل الانساني ٢٠١٤ م. ص ٢٤

- ٣- أحد أكبر المساجد في العالم وأولى القبلتين في الإسلام يسمى المسجد الأقصى . ص ٣٣
- ٤- يطلق على النصارى واليهود الذين ظلوا على دينهم مع دفع الجزية اسم أهل الذمة . ص ٣٦
- ٥- مظهر تضاريسي يشبه الجبل ولكن ارتفاعه أقل من ١٠٠٠ متر يسمى التل . ص ٥٣
- ٦- المحاصيل التي تزرع من أجل التصدير تسمى الغلات النقدية . ص ٧٣

ب- اختر من المجموعة (أ) ما يناسبها من المجموعة (ب) وذلك بوضع الرقم المناسب في المكان المناسب:

م	المجموعة (أ)	الرقم المناسب	المجموعة (ب)
١	بيت الحكمة ص ٣٨	٣	تونس
٢	قصر الخضراء ص ٣٤	٤	اسطنبول
٣	جامعة الزيتونة ص ٣٣	١	بغداد
٤	مسجد السلطان أحمد ص ٣٣		عدن
		٢	دمشق

ج- أكمل المخططات السهمية التالية :



د- أختار الإجابة الصحيحة من بين البدائل التي تلي كل عبارة :

١- أول الخلفاء الراشدين : ص ٢٦

أ- علي بن أبي طالب ب- عثمان بن عفان ج- أبو بكر الصديق د- عمر بن الخطاب

٢- يقع مجمع (باي كاليان) أحد المراكز العلمية للحضارة الإسلامية في مدينة: ص ٣٨

أ- بغداد ب- بخارى ج- دمشق د- مراغة

٣- يبلغ عدد الدول الإسلامية في قارة آسيا : ص ٥١

أ- ٢٥ دولة ب- ٢٦ دولة ج- ٢٧ دولة د- ٢٨ دولة

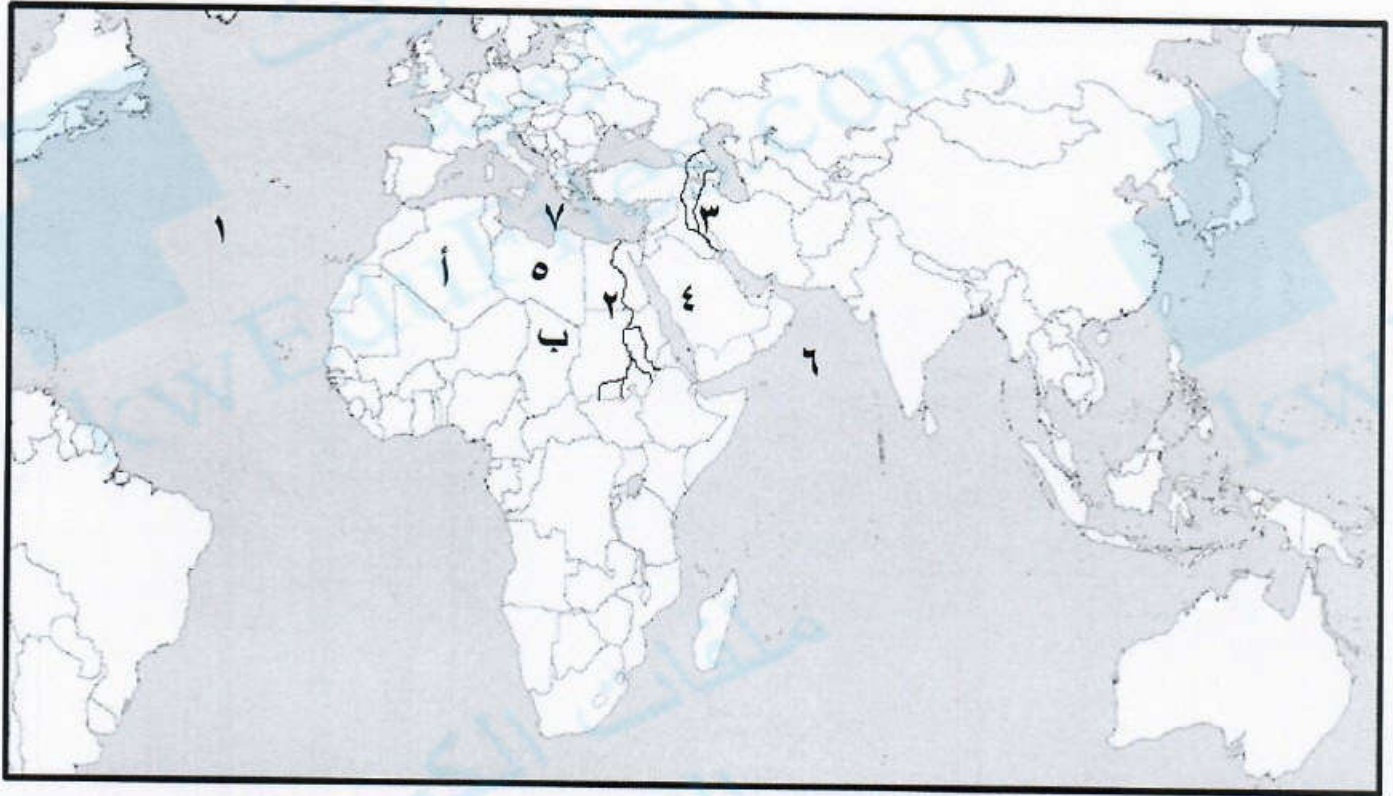
٤- يبلغ إنتاج العالم الإسلامي من الغاز الطبيعي من إجمالي الإنتاج العالمي : ص ٦٧

أ- ٣٦% ب- ٣٨% ج- ٣٩% د- ٤٠%

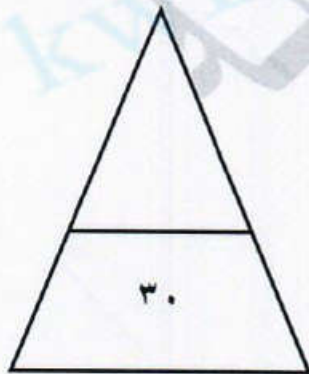
٥- العالم المسلم الذي آمن بكروية الأرض ورسم خريطة تمثلها : ص ٤٢

أ- الكندي ب- الشريف الإدريسي ج- الرازي د- الخوارزمي

هـ لاحظ الخريطة التي أمامك للعالم الإسلامي ثم نفذ ما يلي :



- يقع المسجد النبوي في الدولة التي تحمل رقم ٤ ص ٣٣
- نهر النيل يمثله على الخريطة الرقم ٢ ص ٥٩
- المحيط الأطلسي يمثله على الخريطة الرقم ١ ص ٧٤
- جمهورية تشاد تمثلها على الخريطة الحرف ب ص ٥١
- البحر المتوسط يمثله على الخريطة الرقم ٧ ص ٥٩



السؤال الثاني ويتكون من (أ - ب) :

أ- علل لما يلي :

درجتان (يكتفى بنقطتين)

١- أهمية السهول. ص ٥٨

*تستخدم كموانئ طبيعية * تشييد المدن *تركز السكان فيها لسهولة التنقل

٢- لقيت التجارة تشجيعاً كبيراً في الحضارة الإسلامية . ص ٢٨ درجتان (يكتفى بنقطتين)

*لدورها الكبير في التبادل التجاري مع المناطق المجاورة

*ساهمت التجارة في نشر الدين الإسلامي

*يمتلك موقع العالم الإسلامي الاستراتيجي العديد من الخطوط التجارية البرية والبحرية مما انعكس على ازدهار صادراته و وارداته.

ب- أجب عن الأسئلة الآتية :

١- عدد العوامل التي أدت إلى ازدهار العلم وظهور العلماء في الحضارة الإسلامية . ص ٣٧ درجتان (يكتفى بنقطتين)

*تشجيع العلماء ورعايتهم وتمويل القيادات السياسية لهم من خلفاء وملوك وسلاطين وأمراء.

*التنافس العلمي بين الدول الإسلامية. *الرخاء الاقتصادي.

*حركة التعريب (الترجمة) للكتب القديمة اليونانية والهندية والفارسية وغيرها.

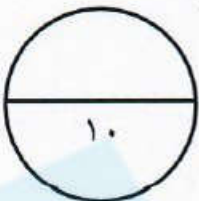
٢- اذكر خصائص الحضارة الإسلامية. ص ٢٢+٢٣ درجتان (يكتفى بنقطتين)

*حضارة تسامح *حضارة إيمان وعمل * حضارة شمولية

*حضارة إنسانية *حضارة عالمية

٣- ما أهم جهود المسلمين في الزراعة ؟ ص ٢٦ درجتان (يكتفى بنقطتين)

*شق القنوات المائية والترع * إقامة السدود * تنظيم وسائل الري



السؤال الثالث ويتكون من (أ - ب - ج) :

أ- فرق بين كل مما يلي : (٤ درجات كل نقطة درجة)

المناخ	الطقس ص ٦٤
هو حالة الجو خلال فترة زمنية طويلة من حيث عناصره وهي درجة الحرارة ، الرطوبة ، الأمطار ، الضغط الجوي .	هو حالة الجو في مكان لمدة قصيرة تتراوح بين يوم أو عدة أيام من حيث درجة الحرارة ، الرطوبة ، الأمطار ، الضغط الجوي .
الوادي	الهضبة ص ٥٣
حوض أو منخفض طبيعي على سطح الأرض.	أرض مرتفعة سطحها مستوٍ وتمتد لمساحة واسعة.

ب- عدد العوامل التي لعبت دوراً هاماً في تنوع المناخ في دول العالم الإسلامي: (درجتان كل

نقطة درجة) ص ٦٣

- ١- امتداد دول العالم الإسلامي على مساحة شاسعة ٣- الإطلالة على مسطحات مائية في معظم أجزائه.
- ٢- تنوع التضاريس من جبال وهضاب وسهول ووديان ٤- الموقع بالنسبة لدوائر العرض. ص ٦٣

ج- اكتب حول كل من :

١- (جهود المسلمين في مجال استخراج المياه الجوفية) ص ٤٣ (درجتان)

* شق القنوات .

* مد المجاري الجوفية تحت الأرض بطريقة هندسية محكمة في غاية الدهشة والإتقان.

* صنعت القنوات من الخزف أو الفخار المتناسك وأحياناً من الحجر.

* توضع في جوانب القنوات أنابيب من الرصاص لتحتفظ الماء من كل دنس.

* خير مثال لهذه المجاري الجوفية مدينة مجريط (مدريد حالياً)

٢- (الهدف من بناء الخلفاء القصور كنموذجاً مميزاً للعمارة الإسلامية) ص ٣٤ (درجتان)

* مقراً للحكم * المكان الذي يضم المؤسسات الإدارية كالوزارة و الدواوين .

* أحياناً تكون القصور صحراوية لتنزه الخلفاء .

السؤال الرابع ويتكون من (أ - ب - ج) :

أ- لاحظ الجدول الذي أمامك ثم أجب عما يليه من اسئلة : ص ٧٠ (٣ درجات)

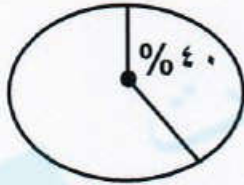
الدولة	نسبة إنتاج اليورانيوم في دول العالم الإسلامي لعام ٢٠١٤ م
كازاخستان	٤١ %
أوزباكستان	٤,٣ %
النيجر	٧,٢ %
باكستان	٠,١ %

١- استخرج حقيقة من الجدول. (درجة)

(ما يراه المصحح مناسباً)

٢- ما اسم اقل دولة منتجة لليورانيوم حسب الجدول ؟ (درجة)

باكستان



٣- حول نسبة إنتاج (كازاخستان ٤١ %) إلى دائرة بيانية. (درجة)

ب- عرف المفاهيم و المصطلحات التالية : (٣ درجات)

١- الزكاة : ص ٢٨

ركن من أركان الإسلام يخرجها المسلمون الأغنياء للمستحقين من الفقراء وسميت الزكاة لما فيه من تزكية للنفس وتطهيرها.

٢- الجبل : ص ٥٣

هو كل قمة لا يقل ارتفاعها عن ١٠٠٠ متر تقريباً.

٣- احتياطي النفط : ص ٦٨

كمية النفط المخزونة في باطن الأرض ولم تستخرج بعد.

ج- أعط مثاليين حول كل من : (٤ درجات)

١- أهم الصناعات في الحضارة الإسلامية. ص ٢٧

*صناعة السفن *صناعة الأسلحة * صناعة الورق * صناعة الأدوية

*صناعة المنسوجات * صناعة الخزف والمعادن * الصناعات الخشبية (الأرابيسك)

٢- مميزات المظاهر العمرانية في الحضارة الإسلامية. ص ٣٠

*القباب * المآذن * المنابر * الزخارف * الأسوار

