

تم تحميل هذا الملف من موقع المناهج الكويتية



الملف نموذج إجابة منطقة حولي

[موقع المناهج](#) ⇨ [المناهج الكويتية](#) ⇨ [الصف التاسع](#) ⇨ [اجتماعيات](#) ⇨ [الفصل الأول](#)

روابط مواقع التواصل الاجتماعي بحسب الصف التاسع



روابط مواد الصف التاسع على تلغرام

الرياضيات	اللغة الانجليزية	اللغة العربية	التربية الاسلامية
---------------------------	----------------------------------	-------------------------------	-----------------------------------

المزيد من الملفات بحسب الصف التاسع والمادة اجتماعيات في الفصل الأول

مسودة كتاب الطالب اجتماعيات لعام 2018	1
نموذج اجابة اختبار لعام 2017 تعليم خاص	2
نموذج اجابة اختبار لمنطقة العاصمة لعام 2016 في مادة الاجتماعيات	3
مراجعة رائعة للفصل الاول في مادة الاجتماعيات	4
حل تقويم الكورس الاول في مادة الاجتماعيات	5



اختبار نهاية الفترة الدراسية الأولى
المناهج الكويتية
almanahj.com/kw

العام الدراسي 2022/2021م

الصف التاسع

نموذج إجابة اختبار مادة

الاجتماعيات

الأربعاء – 2021 / 12 / 29



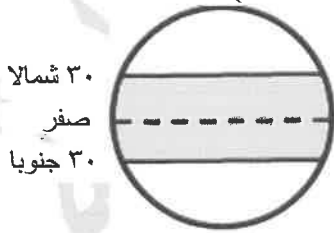
وزارة التربية
الإدارة العامة لمنطقة حولي التعليمية
التوجيه الفني للاجتماعيات
إجابة امتحان نهاية الفترة الدراسية الأولى
مقرر: الكويت والعالم
للف التاسع المتوسط
العام الدراسي: ٢٠٢١ / ٢٠٢٢ م
الزمن: ساعة و ٤٥ دقيقة
عدد الأوراق: ٥

أجب عن جميع الأسئلة

السؤال الأول (موضوعي) : ويتكون من (أ - ب - ج) :

(أ) ضع خطأ تحت الخيار الصحيح من بين الخيارات التي تلي كل عبارة : (٥ درجات)

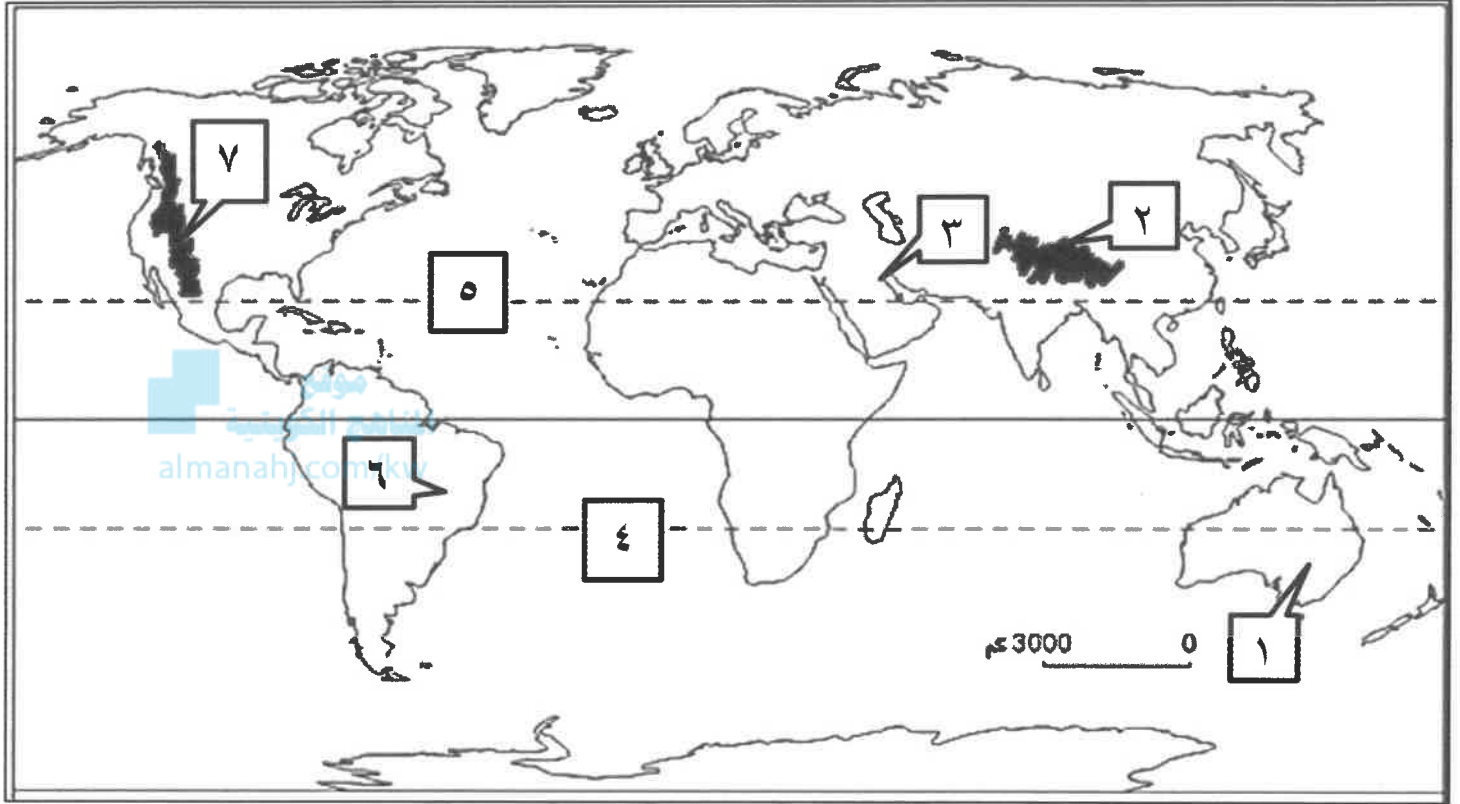
- ١- الاطار الذي يعيش فيه الانسان ويحصل فيه على مقومات حياته ويتفاعل فيها : ص ١٥
(المناخ - البيئة - الموقع - الاقليم)
 - ٢- مصدر من المصادر الميكانيكية لتلوث التربة : ص ٦٧
(الرعي الجائر - المبيدات الحشرية - آفة زراعية - الأسمدة الكيماوية)
 - ٣- يحتفل العالم كل عام باليوم العالمي لمكافحة الجفاف والتصحر بتاريخ : ص ٧٢
(١٧ مارس - ١٧ أبريل - ١٧ مايو - ١٧ يونيو)
 - ٤- سبب طبيعي من أسباب الاحتباس الحراري بكوكب الأرض : ص ٨٠
(إزالة الغابات - استعمال الوقود الاحفوري - الانفجارات البركانية - الأنشطة الصناعية)
 - ٥- أرسلت حكومة الكويت لرسائل التهئة والتعزيزية للدول المختلفة شكل من أشكال العلاقات : ص ١٠٤
(السياسية - الاجتماعية - الاقتصادية - الثقافية)
- (ب) أكمل العبارات التالية بما يناسبها فيما درست : (٦ درجات)



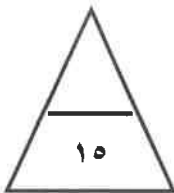
١- الأقاليم المناخية المظلمة في شكل الكرة الأرضية الموضحة
تسمى المنطقة الحارة ص ٢٨

- ٢- النسبة المئوية لمساحة البحار والمحيطات من مساحة الكرة الأرضية تبلغ حوالي ٧١ % ص ٣٠
- ٣- حادثة المفاعل النووي (تشرنوبل) في الاتحاد السوفيتي السابق مثال لدرجة من درجات التلوث المدمر ص ٦٢
- ٤- تم إطفاء آخر بئر نفطي كويتي محترق في السادس من نوفمبر عام ١٩٩١ م ص ٦٣
- ٥- حدوث تلف أو تدمير طفيف جدا في الغطاء النباتي والتربة درجة من درجات التصحر طفيف ص ٧٣
- ٦- منظمة الأمم المتحدة للتربية والعلوم والثقافة تسمى اليونسكو ص ١٠٦

(ج) أمامك خريطة العالم أكتب الأرقام الدالة على العبارات التالية : (٤ درجات)



- دولة الكويت يمثلها على الخريطة الرقم (٣) ص ٢٠
- مدار الجدي يمثله على الخريطة الرقم (٤) ص ١٩
- هضبة البرازيل يمثلها على الخريطة الرقم (٦) ص ٢٥
- جبال الهيمالايا يمثلها على الخريطة الرقم (٢) ص ٢٥



درجة السؤال الأول

السؤال الثاني (موضوعي) : ويتكون من (أ - ب - ج) :
(أ) صوب ما تحته خط في العبارات التالية : (٥ درجات)

م	العبرة	التصويب
١	تقع دولة الكويت ما بين دائرتي عرض ٢٨,٤٥ - ٣٠,٠٥ ° شمال خط جرننش	الاستواء ص ١٩
٢	أفضل البيئات المناخية على وجه الكرة الأرضية البيئة الحارة	المعتدلة ص ٣١
٣	أشد أنواع التلوث خطراً التلوث الهوائي	المائي ص ٦٤
٤	ضجيج الأماكن المزدحمة الغير دائم من نوع التلوث الضوضائي المزمّن	الموقت ص ٦٩
٥	التخميم الموسمي من اسباب التصحر الطبيعية	البشرية ص ٧٤

(ب) أكمل المخططات السهمية التالية : (٥ درجات)
١ - عناصر المناخ : ص ٢٧

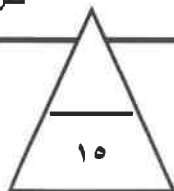


٢ - المصادر التقليدية للمياه : ص ٧٧



(ج) اكتب المفاهيم أو المصطلحات الدالة على العبارات التالية : (٥ درجات)

م	المفهوم أو المصطلح	العبرة
١	التضاريس	الملاح الرئيسية لشكل سطح الأرض من مرتفعات ومنخفضات وأودية وسهول. ص ٢٣
٢	الاحتباس الحراري	الزيادة في متوسط حرارة الأرض والذي نتج عن التغيرات المناخية واضطراب الأنظمة البيئية بسبب زيادة كمية غاز ثاني أكسيد الكربون والميثان . ص ٨٠
٣	السياسة الدولية	علاقات الدول مع بعضها بعضاً على شكل وحدات أو تنظيمات دولية لتحقيق المصالح السياسية بأكبر قدر من الفاعلية أو بأقل الخسائر الممكنة . ص ٩٤
٤	أوبك	منظمة الدول المصدرة للنفط . ص ١٠٢
٥	العلاقات الاجتماعية الدولية	سلسلة المبادلات المادية والمعنوية يكون مضمونها وطنياً ، وتتم في وسط اجتماعي يطلق عليه المجتمع الدولي . ص ١٠٤



درجة السؤال الثاني

السؤال الثالث (مقال) : ويتكون من (أ - ب - ج) :

(أ) علل لما يلي : (٤ درجات)

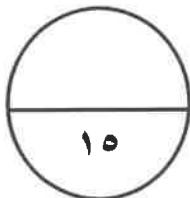
- ١- نشأة الحركة التجارية بين الدول . يكتفى بنقطتين (درجتان) ص ٩٩
* حاجة الدول المنتجة الى أسواق لتصريف منتجاتها ليعود بالنفع عليها وعلى سكانها .
* حاجة الدول المستهلكة لاستيراد السلع والخدمات وموارد الخام التي لا تتوفر في أراضيها .
- ٢- حدوث مشكلة التصحر في دولة الكويت طبيعياً . يكتفى بنقطتين (درجتان) ص ٧٤
* الظروف المناخية القاسية والموقع الجغرافي .
* فقر البيئة من حيث نوعية التربة وندره المياه السطحية والجوفية والجفاف .
* عدم انتظام معدل هطول الأمطار .

(ب) اكتب الحلول والمقترحات للمشكلات التالية مستعينا في ما بين الأقواس : (٥ درجات)

- ١- ندرة المياه في العالم (كيفية المحافظة على المياه) . ص ٧٧ (يكتفى بثلاث نقاط / ٣ درجات)
* بناء محطات معالجة مياه الصرف .
* الحد من الإفراط في سحب المياه الجوفية .
* بناء السدود لتخزين مياه الأمطار .
* استخدام أساليب ري حديثة .
* التوعية بوسائل الإعلام المختلفة .
* سن قوانين وتشريعات للحد من الهدر
- ٢- ظاهرة الاحتباس الحراري (الحلول) . ص ٨١ (يكتفى بنقطتين / درجتان)
* عمل الغيوم الصناعية لها القدرة على عكس أشعة الشمس بنشر رذاذ الماء بواسطة السفن .
* نثر كميات من غاز الكبريت .
* تغذية النباتات البحرية بضخ المغذيات لها .
* تسريع دورة ثاني أكسيد الكربون وزراعة الاشجار للتخلص من غاز ثاني أكسيد الكربون وتلطيف الجو .

(ج) عدد ما يلي : (٦ درجات)

- ١- أنواع السهول . ص ٢٤ (درجتان)
* الساحلية .
* الفيضية (النهرية)
- ٢- مميزات البيئة الجبلية . ص ٣٠ (يكتفى بنقطتين / درجتان)
* تخزين المياه الطبيعية والثروات المعدنية المهمة .
* تعتبر بيئة طبيعية للحياة البرية .
* بيئة للسياحة .
- ٣- أساليب التواصل بين البلدان . ص ٩١ (درجتان)
* بشكل مباشر عن طريق الدولة وسياسات الدولة وحكومتها والقادة المفوضين من الدولة .
* التواصل غير المباشر عن طريق المنظمات الدولية كالشركات والجمعيات الخيرية والرأي العام .



درجة السؤال الثالث

السؤال الرابع (مقالى) : ويتكون من (أ - ب - ج) :
(أ) فرق بين كل مما يلى : (٦ درجات)

مميزات الاقاليم المناخية المعتدلة الدفينة ص ٢٧	مميزات الاقاليم المناخية الباردة ص ٢٧
- الاعتدال مع الميل الى ارتفاع درجة الحرارة صيفا والدفء شتاء .	- انخفاض درجة الحرارة إلى ما دون الصفر معظم أشهر السنة.
أضرار التلوث الهوائي يكتفى بنقطتين ص ٦٣	أضرار تلوث التربة يكتفى بنقطتين ص ٦٧
- التأثير على عملية التنفس لدى الإنسان والكائنات الحية . - نشر كثير من الأمراض . - الشعور بالإرهاق والتعب وعدم القدرة على بذل مجهود كبير .	- قلة الإنتاج الزراعي - انقراض بعض النباتات والحيوانات - ازدياد الطفيليات والبكتيريا ومسببات الأمراض - تلوث المياه الجوفية ومياه البحار

(ب) اكتب فيما يلى : (٥ درجات)

١- أدوات تنفيذ السياسة الخارجية . ص ٩٥ (يكتفى بثلاث نقاط / ٣ درجات)

- * الدبلوماسية . * استخدام القوة السياسية . * استخدام وسائل الاعلام في شرح وجهات نظر الدولة .
- * المعونات الخارجية . * المقاطعة الاقتصادية . * توقيع المعاهدات والاتفاقيات .
- ٢- الأشكال الأساسية للتعاون الدولي والمساعدات لتعزيز التنمية الاجتماعية . ص ١٠٥ (يكتفى بنقطتين / درجتان)
- * مساعدات مالية . * مساعدات طارئة * مساعدات فنية

(ج) عرف المفاهيم أو المصطلحات التالية : (٤ درجات)

- ١- البيئة الطبيعية : كل ما يحيط بالإنسان من ظاهرات حية وغير حية وليس للإنسان أي دخل في وجودها وتتمثل في بنية الأرض والمناخ والنبات الطبيعي والحيوانات . ص ١٥
- ٢- الموقع النسبي : موقع الدولة بالنسبة لليابس والماء . ص ٢٠
- ٣- الجبال : كل مرتفع من الأرض وله قمة لا يقل ارتفاعها عن ١٠٠٠ متر . ص ٢٤
- ٤- العلاقات الاقتصادية الدولية : الانفتاح العالمي على التجارة الدولية وتبادل السلع والخدمات وانسياب رؤوس الأموال . ص ٩٩

درجة السؤال الثالث

انتهت الأسئلة

مع تمنياتنا لكم بالتوفيق

