

تم تحميل هذا الملف من موقع ملفات الكويت التعليمية



[com.kwedufiles.www//:https](https://www.kwedufiles.com)

*للحصول على أوراق عمل لجميع الصفوف وجميع المواد اضغط هنا

* للحصول على أوراق عمل لجميع مواد الصف الرابع اضغط هنا

<https://kwedufiles.com/4>

* للحصول على جميع أوراق الصف الرابع في مادة اجتماعيات وجميع الفصول, اضغط هنا

<https://kwedufiles.com/4social>

* للحصول على أوراق عمل لجميع مواد الصف الرابع في مادة اجتماعيات الخاصة بـ الفصل الأول اضغط هنا

<https://www.kwedufiles.com/4social1>

* لتحميل كتب جميع المواد في جميع الفصول للـ الصف الرابع اضغط هنا

<https://www.kwedufiles.com/grade4>

[bot_kwlinks/me.t//:https](https://t.me/bot_kwlinks)

للحصول على جميع روابط الصفوف على تلغرام وفيسبوك من قنوات وصفحات: اضغط هنا

الروابط التالية هي روابط الصف الرابع على مواقع التواصل الاجتماعي

مجموعة الفيسبوك

صفحة الفيسبوك


مجموعة التلغرام

بوت التلغرام

قناة التلغرام

رياضيات على التلغرام

الوحدة الأولى بلادي الكويت



التوجيه الفني للاجتماعيات لمنطقة الاحمدي التعليمية



١ مفهوم الدولة.



٢ مساحة وحدود بلادي الكويت:
١ - الاتجاهات .
٢ - المساحة والحدود.



٣ أهمية موقع بلادي الكويت.




٤ بيئة بلادي الكويت:
أولاً: جزر بلادي الكويت.
ثانياً: تضاريس بلادي الكويت.
ثالثاً: مناخ بلادي الكويت.

عزيزي المتعلم

- ١- هل لديك معرفة مسبقة بمعنى الدولة وعناصرها؟
- ٢- هل تعرف الاتجاهات الرئيسية والفرعية والدول المحيطة بنا؟
- ٣- هل لديك معرفة لأهمية موقع بلادك ومساحتها؟
- ٤- هل تعرف عدد جزر بلادك وتضاريسها ومناخها؟

كل هذا وأكثر سنتعرف عليه من خلال

دراسة هذه الوحدة



الوحدة الأولى

التوجيه الفني للاجتماعيات لمنطقة الاحمدي التعليمية

- ◀ أنا مريم.
- ◀ أنا كويتية الجنسية.
- ◀ أسكن في محافظة الجھراء.
- ◀ محافظة الجھراء تقع في دولة الكويت.

تعال معي عزيزي
المتعلم لتتعرف على
بلادك الكويت.



مفهوم الدولة



موظف المطار: من أين أنت ؟

حمد: أنا من دولة الكويت .

موظف المطار: وما تعني أنك من دولة الكويت ؟

حمد: أنتمي لدولة الكويت التي أعيش فوق

أرضها وهناك سلطة تنظم العلاقة بين

شعبها، وأحمل هويتها .

موظف المطار: وفقك الله ورافقتك السلامة بالحل والترحال.

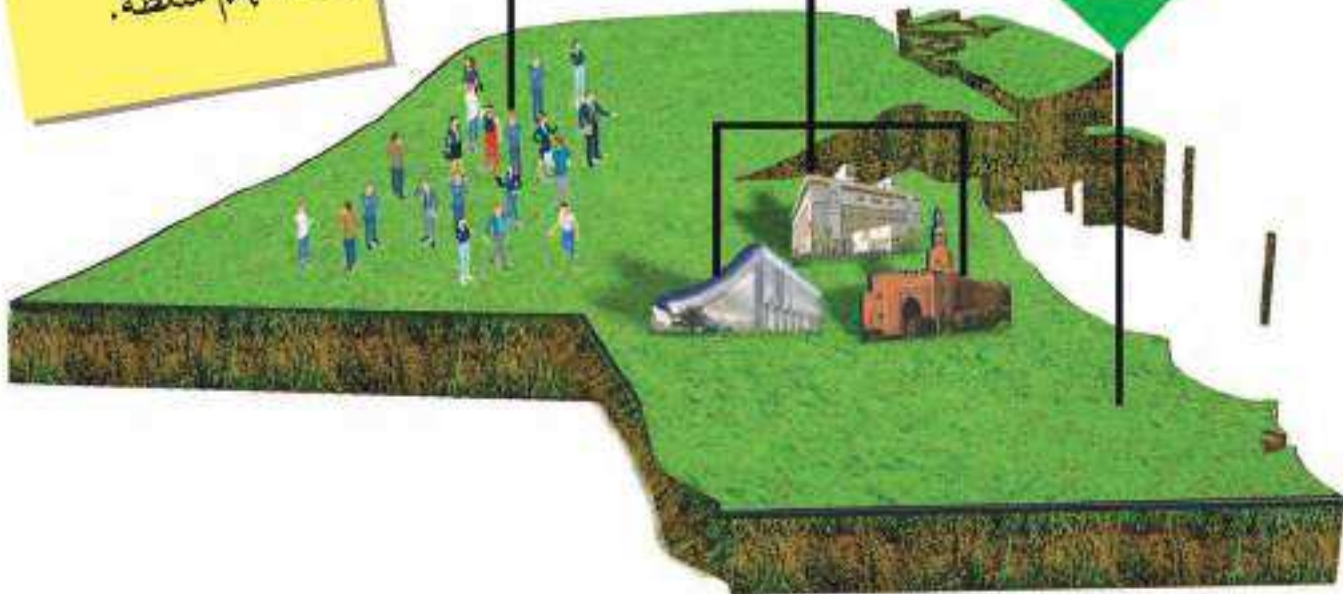
١ من خلال المحادثة استنتج العناصر المكونة للدولة واكتبها داخل الدائرة:

3- الشعب

2- السلطة

1- الأرض

الدولة: مجموعة من
الأفراد يعيشون على
قطعة أرض محددة،
وتنظمهم سلطة.



الأنشطة

النشاط الأول:



أنا من دولة الإمارات العربية المتحدة.



أنا من جمهورية لبنان.



أنا من سلطنة عُمان.



أنا من دولة

النشاط الثاني:

١ اكتب بياناتك الشخصية (اسمك - عمرك - جنسيتك) على البطاقة المدنية:



مذكور





١ صاحب السمو أمير البلاد هو الرئيس الأعلى للدولة، وهو رئيس السلطات الثلاث:

- السلطة التشريعية ممثلة بمجلس الأمة.
- السلطة التنفيذية ممثلة بالحكومة.
- السلطة القضائية ممثلة بالمحاكم.

النشاط الثالث:

فقرة إثرائية:

عدد أعضاء مجلس الأمة ٥٠ عضواً يتم انتخابهم كل أربع سنوات.

١ لاحظ الصور التالية، ثم ضع الاسم المناسب أمام الصورة مستعيناً بما بين الأقواس:
(السلطة التشريعية - السلطة التنفيذية - السلطة القضائية)



السلطة التشريعية



السلطة القضائية



السلطة التنفيذية



٢ ظلل العنصر الذي لا ينتمي إلى عناصر الدولة:



٣ من صاحب السمو الأمير الحالي لدولة الكويت؟

صاحب السمو الأمير صباح الأحمد الجابر الصباح حفظه الله ورعاه

٤ ابحث في محرك البحث الإلكتروني عن:

أ- تاريخ أول مجلس للأمة.

1963

ب- عدد الدوائر الانتخابية في دولة الكويت حالياً.

خمس دوائر

مساحة وحدود بلادي الكويت

استمع وتعلم

أولاً: الاتجاهات.

(حمد في المدرسة)

المعلم يسأل تلاميذه: أين اتجاه قبلة الصلاة؟

حمد: ماذا تقصد بالاتجاه يا معلمي؟

المعلم: هناك اتجاهات رئيسية واتجاهات فرعية.

حمد: وما الاتجاهات الرئيسية والفرعية؟

المعلم: الاتجاهات الرئيسية هي:

(الشمال - الجنوب - الشرق - الغرب).

والاتجاهات الفرعية (الشمال الشرقي والشمال الغربي

والجنوب الشرقي والجنوب الغربي).

حمد: وما فائدة هذه الاتجاهات؟

المعلم: تفيدنا الاتجاهات بالتعرف إلى مواقع بلادي واتجاه القبلة، وعلى الدول التي تحيط بنا واتجاه

الخليج العربي بالنسبة لبلادي.

حمد: إذا سيكون اتجاه القبلة جنوب غربي دولة الكويت.

المعلم: أحسنت يا حمد وبارك الله فيك، ويوجه سؤاله

للمتعلمين... هل عرفتم معنى الاتجاهات؟

الطلاب: شكراً معلمي لقد عرفنا معنى الاتجاهات وأنواعها.

المعلم: عفوا وبارك الله فيكم.



عناصر الخريطة

عزيزي المتعلم حتى تستطيع قراءة الخريطة وتحليلها يجب عليك أن تتعرف إلى عناصرها:



عنوان الخريطة

بلادي الكويت

العراق

اتجاه الشمال

الخليج العربي

مفتاح الخريطة

المملكة العربية السعودية

دول مجاورة لدولة الكويت
الخليج العربي

مقياس
الخريطة

0 15 30 60 km

الأنشطة

١ عدد عناصر الخريطة:

اتجاه الشمال

مفتاح الخريطة

مقياس الخريطة

عنوان الخريطة


٢ على خريطة العالم نفذ المطلوب منك:

- ١- يقع الدب القطبي في اتجاه الشمال
- ٢- يقع البطريق في اتجاه الجنوب
- ٣- تشرق الشمس من جهة الشرق
- ٤- تغرب الشمس من جهة الغرب



٣ هيا بنا نلعب:

خروج



دخول

- من أي جهة دخلت الجنوب
- ومن أي جهة خرجت الشمال

ثانياً: المساحة والحدود.



تبلغ مساحة دولة الكويت ١٧,٨١٨ كم^٢، ويتميز سطح دولة الكويت بالاستواء، وينحدر سطحها تدريجيًا من الغرب إلى الشرق، ويتكون سطحها من سهول رملية يتخللها بعض التلال، كما تتميز بوجود ساحل رملي منبسّط قليل التعاريج، ويحدّها من الشمال والشمال الغربي العراق من الجنوب والجنوب الغربي المملكة العربية السعودية.

١ من خلال قراءتك للفقرة السابقة، استنتج:

مميزات سطح بلادي الكويت

ساحل رملي منبسّط
قليل التعاريج

سطح مستو.

ينحدر السطح تدريجيًا
من الغرب إلى الشرق.

سهول رملية
يتخللها بعض التلال



الخور: لسان بحري ممتد داخل الأرض.

٢ من خلال ترتيب الكلمات استنتج معلومة صحيحة عن مساحة بلادك الكويت:

(سطح - يتميز - دولة الكويت - بالاستواء)

يتميز سطح دولة الكويت بالاستواء

هل تعلم:

أن جون الكويت يعتبر من أكبر الخيران* في شمال الخليج العربي.

*الخيران: هي جمع كلمة خور وتعني لسان في الماء يمتد داخل الأرض.

الأنشطة

١ ظلّ المربع المقابل للعبارة الصحيحة:



ينحدر سطح بلادي الكويت من الغرب إلى الشرق.



سطح بلادي الكويت غير مستوٍ.



يتكون سطح بلادي من جبال كثيرة.

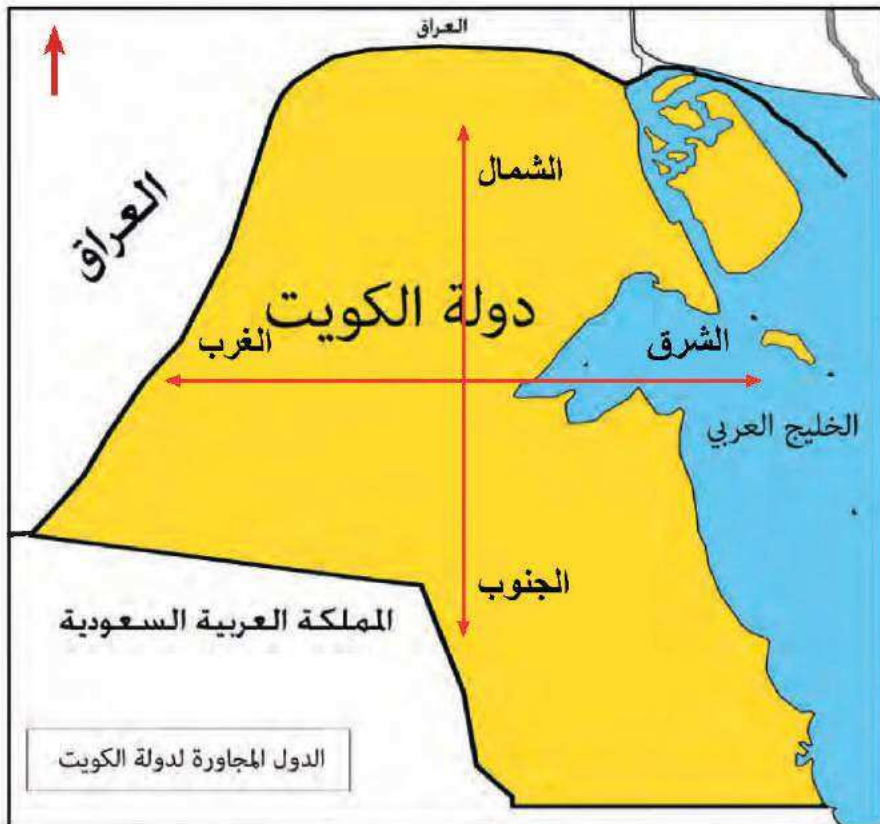
٢ اجمع المعادلة الحسابية لتستنتج مساحة دولة الكويت على أن تبدأ بالجهة اليسرى من الجدول:

من هنا
نبدأ ↓

٠	٢	٢	١	٣
٠	٣	٢	٠	٣
١	٢	٤	٠	٢
١	٧	٨	١	٨

■ إذا مساحة دولة الكويت
تبلغ 17,818 كم^٢

٤ لاحظ خريطة دولة الكويت ونفّذ المطلوب منك :



١- حدّد الاتجاهات الرئيسية الأربعة
على وطنك الكويت.

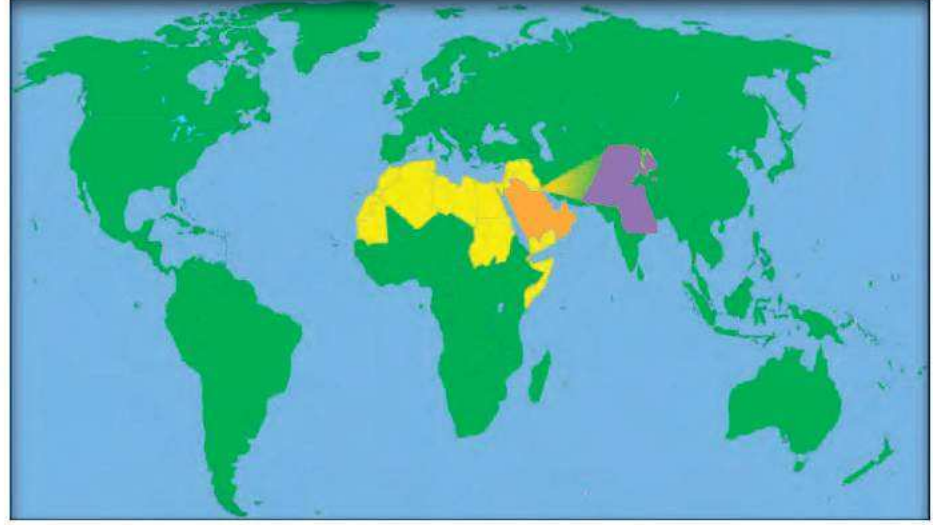
٢- مسطح مائي يحد دولة الكويت من
جهة الشرق يسمى. الخليج العربي.

٣- دولة تقع في جهة الشمال والشمال
الغربي لدولة الكويت العراق

٤- دولة تقع في جهة الجنوب
والجنوب الغربي لدولة الكويت
المملكة العربية السعودية

أهمية موقع بلادي الكويت

شبه جزيرة: مساحة من اليابس يحيط بها الماء من ثلاث جهات فقط.



* عزيزي المتعلم لاحظ موقع وطنك الكويت بالنسبة للعالم، ثم أجب عما يأتي:

- ١ - هل دولة الكويت كبيرة المساحة بالنسبة للعالم؟ لا.....
- ٢ - أين تقع دولة الكويت بالنسبة للعالم؟ تقع دولة الكويت في وسط العالم.....

تحتل موقعاً متوسطاً بالنسبة للعالم.

تمثل المعبر التجاري بين خطوط الملاحة البحرية والبرية قديماً.

تقع في الجزء الشرقي للوطن العربي.

تقع في الطرف الشمالي الغربي للخليج العربي.

المنفذ الشمالي الشرقي لشبه الجزيرة العربية.

أهمية موقع
بلادي الكويت.



تقع بلادي الكويت
في موقع متوسط
بالنسبة للعالم.



١ ضع خطأً تحت الخيار الصحيح:

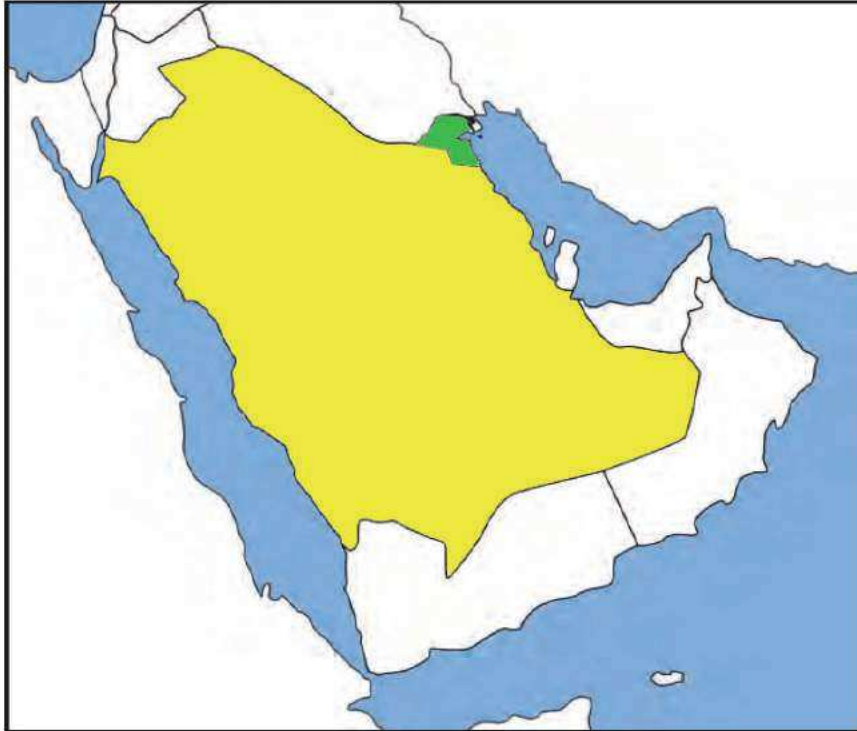
من مميزات موقع وطنك الكويت:

- مساحتها الكبيرة.

- المنفذ الشمالي الشرقي لشبه الجزيرة العربية.

- تقع في الجزء الشمالي للوطن العربي.

٢ لاحظ خريطة شبه الجزيرة العربية الصماء ونفذ المطلوب منك:



لون دولة الكويت باللون الأخضر.

لون شبه الجزيرة العربية باللون الأصفر.

الشمال الشرقي

تقع دولة الكويت بالنسبة لشبه الجزيرة العربية في الجهة

٣ من خلال الاستعانة بمصادر التعلم، اكتب في سطرين عن الأهمية التجارية لدولة

الكويت قديماً :

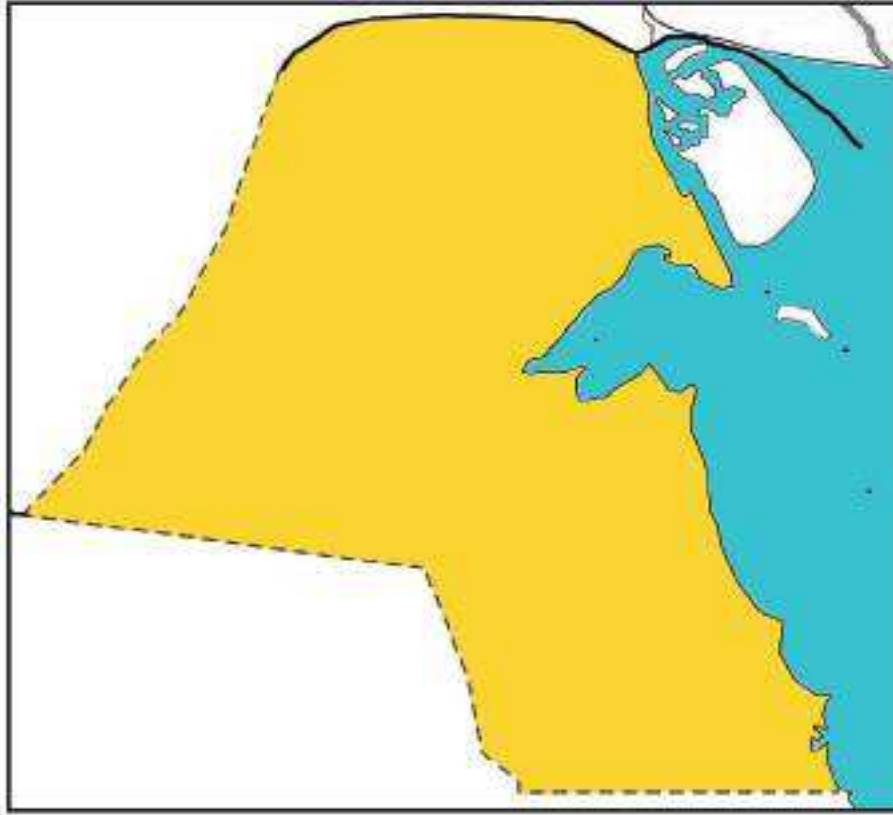
* تميز دولة الكويت بالموقع الجغرافي الجيد بين دول العالم حيث أصبحت حلقة وصل

* دولة الكويت معبر بين خطوط الملاحة البحرية والبرية

* برعوا في تجارة العبور (الترانزيت) إعادة التصدير

* امتلكوا اسطول تجاري كبير / بضائع مختلفة ومتنوعة

٤ لاحظ خريطة دولة الكويت، ثم نفذ المطلوب منك :



◀ تتبع النقط وأكمل خريطة بلادك الكويت.

◀ لوّن خريطة وطنك الكويت محدداً عليها البيئة البحرية باللون الأزرق والبيئة البرية باللون الأصفر.

٥ على خريطة دولة الكويت نفذ المطلوب منك:



◀ ضع علامة (Δ) على مياه الخليج العربي.

- اكتب أسماء الدول المجاورة لدولة الكويت على الخريطة.

ما الجهة التي تشرق منها الشمس
الشرق



بيئة بلادي الكويت

أولاً: جزر بلادي الكويت.

(حمد في رحلة بحرية)



حمد: انظر يا أبي إلى هذه اليابسة وسط الماء!!

الأب: هذه جزيرة فيلكا.

حمد: ما معنى جزيرة يا أبي؟

الأب: قطعة من اليابسة يحيط بها الماء من

جميع الجهات.

حمد: وكم جزيرة في دولة الكويت؟

الأب: تسع جزر يا بني. وأكبرها جزيرة بوبيان.

حمد: وهل هناك جزيرة مأهولة بالسكان؟

الأب: نعم... جزيرة فيلكا كانت مأهولة بالسكان.

حمد: شكرًا يا أبي لقد عرفت الآن أن بلادي فيها تسع جزر أكبرها جزيرة بوبيان.



الجزيرة تعني قطعة من اليابس
تحيط بها المياه من جميع.. الجهات

٢ اكتب ثلاثة أسطر عن جزيرة كويشبة، مستعينًا بالكلمات التالية :
(الموقع - المساحة - أهم المميزات).

تقع جزيرة بوبيان في أقصى شمال غرب الخليج العربي
وهي من أكبر الجزر الكويتية مساحة ومن مميزات أنها
ثاني أكبر جزيرة في الخليج العربي

(أو أي جزيرة أخرى يراها المتعلم مناسبة)

الرأس : لسان من اليابس
يمتد داخل الماء.



تعتبر جزيرة أم النمل من الجزر التي تقع داخل جون
الكويت وبالقرب من رأس عشيرو.

٣ لاحظ خريطة دولة الكويت، ثم نفذ المطلوب منك :



أملأ المربعات الفارغة بأسماء الجزر الكويتية، وذلك بمساعدة معلّم الفصل :

(تسع جزر)

عدد الجزر الكويتية

(أم النمل)

جزيرة كويتية داخل الجون

٤ أكمل العبارات التالية مستعيناً بالأحرف المحيطة بالدائرة مبتدئاً باللون المختلف داخل الشكل :



ثانيًا: تضاريس بلاد الكويت.

(حمد في الصحراء)

حمد: ما هذا يا أبي؟!

الأب: هذه إحدى تضاريس بلادنا الكويت.

حمد: وما معنى تضاريس يا أبي؟

الأب: هي أشكال سطح الأرض من مرتفعات ومنخفضات.

حمد: وما أهم ما يميز تضاريس بلادنا؟

الأب: توجد في بلادنا بعض التضاريس البارزة

الوعرة، فسطحنا ينحدر تدريجياً من الغرب

إلى الشرق ولدينا أودية وسهول وتلال.

حمد: وما أشهر الأودية والسهول والتلال في بلادنا؟

الأب: هناك وادي الباطن، وهو الحد الفاصل بين

الحدود الكويتية - العراقية - السعودية،

وأما السهول فيوجد سهل الدبدبة الذي يقع في

غرب الكويت، ومن جهة الشمال تقع تلال

جال الزور.

حمد: شكرًا يا أبي لقد فهمت الآن تضاريس بلادنا.

الأب: عفواً يا بني، ويسعدني أنك عرفت تضاريس

بلادك.



السهل: أرض مستوية المساحة وواسعة.
الوادي: منخفض طولي بين منطقتين مرتفعتين.
التل: أرض مرتفعة قليلاً عن مستوى الأراضي المحيطة بها.



الأنشطة

١ أكمل الفراغ:

سهل الدبدبة

◀ سهل كويتي

وادي الباطن

◀ وادي كويتي

٢ اختر من المجموعة (أ) ما يرتبط بها من المجموعة (ب) بوضع الرقم المناسب:

المجموعة (ب)	المجموعة (أ)
الرقم المناسب	الاسم
	١ - خور
	٢ - جزيرة
	٣ - تلال
	٤ - وادي

٣ من خلال محرك البحث قوقل، اكتب أسماء اثنين من أشكال التضاريس في دولة الكويت، ثم ألصق صورة لكل منهما:



٢ - خور



١ - جزيرة

او مايراه المعلم والمتعلم صحيحا



ثالثًا: مناخ بلادي الكويت.



سافر حمد في رحلة إلى إحدى الدول البعيدة
وتعرف هناك إلى شخص يسمى (جورج) ودار
بينهما نقاش حول الأجواء في دولة الكويت.

جورج: ما الطقس لديكم في دولة الكويت
اليوم؟

حمد: لا أعلم!

جورج: مستغربًا من إجابة حمد! وكيف لا تعلم؟

حمد: لأن الطقس هو حالة الجو خلال فترة قصيرة من يوم إلى أسبوع وهو متغير وغير
ثابت وكوني موجودًا في بلادكم فإني لا أعرف ما حالة الطقس اليوم، ولكن لو
سألتي عن مناخ دولة الكويت لأجبتك.

جورج: وما المناخ يا حمد؟

حمد: المناخ هو حالة الجو خلال فترة زمنية طويلة لا تقل عن ثلاثين عامًا، ومناخ وطني
الكويت حار جاف صيفًا بارد شتاءً قليل الأمطار لأننا نقع ضمن المناخ الصحراوي
الحار.

جورج: لقد فهمت الآن الفرق بين المناخ والطقس
وشكرًا لك على هذه المعلومات.

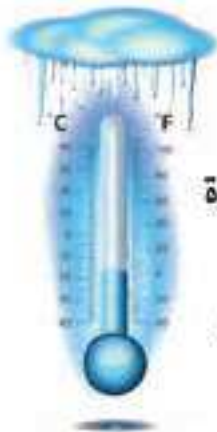
هل تعلم:

أن الأرض تدور حول
الشمس مرة كل سنة وينتج
عن هذا الدوران الفصول
الأربعة وهي: الشتاء والربيع
والصيف والخريف.

١ من خلال قراءتك للحوار السابق، أكمل الجمل التالية بما يناسبها:

مناخ وطني الكويت مناخ صحراوي حار.

الفصول الأربعة



تنخفض درجة الحرارة

في دولة الكويت في فصل

الشتاء

ترتفع درجة الحرارة

في دولة الكويت في فصل

الصيف



٢ بالاستعانة بمعلمك اتصل بنشرة الأرصاد الجوية على الرقم (١٠٤) وسجل حالة الطقس لهذا اليوم في الجدول التالي، ثم ناقش المعلم وزملاءك:

حالة الجو	
اليوم	
التاريخ	
درجة الحرارة الكبرى	
درجة الحرارة الصغرى	
سرعة الرياح	
نسبة الرطوبة	
كمية الأمطار	

مذكور للمعلم والمتعلم
(بناءً على اتصال المتعلم)

٣ تعرف إلى فصول السنة الأربعة من خلال الصور التالية واكتب اسم الفصل بجانب كل صورة:



فصل الخريف



فصل الصيف



فصل الربيع



فصل الشتاء

نفذ المشروع التالي:

مشروع
الوحدة
الأولى

ارسم خريطة دولة الكويت محدداً عليها التالي:

١ لون البيئتين البحرية والبرية بلونين مختلفين.

٢ حدّد عليها مظاهر السطح التالية:

(جال الزور - وادي الباطن - سهل الدبدبة - جزيرة بوبيان - جزيرة فيلكا)

مفاهيم ومصطلحات الوحدة الأولى

- ١- **الدولة** : مجموعة من الأفراد، يعيشون على إقليم جغرافي محدد، وتنظمهم سلطة.
- ٢- **الخور** : لسان من الماء يمتد داخل الأرض.
- ٣- **شبه جزيرة** : مساحة من اليابس يحيط بها الماء من ثلاث جهات.
- ٤- **جزيرة** : قطعة من اليابس يحيط بها الماء من جميع الجهات .
- ٥- **السهل** : أرض مستوية المساحة وواسعة.
- ٦- **الوادي** : منخفض طولي بين منطقتين مرتفعتين.
- ٧- **التل** : أرض مرتفعة قليلاً عن مستوى الأراضي المحيطة بها.
- ٨- **البحر** : مسطح مائي كبير ومياهه مالحة .
- ٩- **المناخ** : حالة الجو خلال فترة زمنية طويلة لا تقل عن ثلاثين عامًا.
- ١٠- **الطقس** : حالة الجو خلال فترة زمنية قصيرة تمتد من يوم إلى أسبوع.
- ١١- **التضاريس** : أشكال سطح الأرض من مرتفعات ومنخفضات.
- ١٢- **الرأس** : لسان من اليابس يمتد داخل الماء.

