

تم تحميل هذا الملف من موقع المناهج الكويتية



مدرسة التميز

الملف امتحانات تجريبية لاختبار نهاية الفصل الأول

[موقع المناهج](#) ← [ملفات الكويت التعليمية](#) ← [الصف الثامن](#) ← [اجتماعيات](#) ← [الفصل الأول](#)

روابط مواقع التواصل الاجتماعي بحسب الصف الثامن



روابط مواد الصف الثامن على تلغرام

[الرياضيات](#)

[اللغة الانجليزية](#)

[اللغة العربية](#)

[التربية الاسلامية](#)

المزيد من الملفات بحسب الصف الثامن والمادة اجتماعيات في الفصل الأول

مسودة كتاب الطالب في مادة الاجتماعيات لعام 2018	1
خطة توزيع منهج العام الجديد في مادة الاجتماعيات	2
حل الوحدة الاولى في مادة الاجتماعيات	3
ورقة عمل في مادة الاجتماعيات	4
ورقة عمل في مادة الاجتماعيات	5



مدرسة التميز النموذجية ابتدائي - متوسط - ثانوي

اختبارات تجريبية مادة الاجتماعيات الصف الثامن



2026 / 2025
الفصل الدراسي الأول

نموذج اختبار تجريبي نهاية الفترة الدراسية الاولى
للفص الثامن مادة الاجتماعيات (الكويت والعالم الإسلامي)
العام الدراسي 2025م - 2026م

السؤال الأول ويتكون من (أ - ب - ج) (درجة لكل نقطة)
(أ) اكمل العبارات التالية بما يناسبها مما درست :-

- 1 . انطلقت الدعوة الإسلامية على يد سيدنا محمد -صلى الله عليه وسلم- في
- 2 . أول الخلفاء الراشدين هو
- 3 . تم افتتاح المسجد الكبير بالكويت في عام
- 4 . الخليفة الراشدي الذي استحدث وظيفة المحتسب يسمى
- 5 . المنطقة التي تميزت بزراعة القمح في شبه الجزيرة العربية هي منطقة

(ب) ظلل الحرف (أ) إذا كانت الجملة صحيحة وظلل الحرف (ب) إذا كانت الجملة غير صحيحة :

ت	الجملة	أ	ب
1	من الدول الإسلامية في قارة أمريكا الجنوبية دولة ألبانيا.		
2	أحد أبرز علماء المسلمين في الجغرافيا و الذي رسم خريطة العالم وهو الإدريسي		
3	تضم قارة آسيا 27 دولة إسلامية		
4	تقع جبال الحجاز في دولة المغرب		
5	من أشهر التلال في دولة الكويت تلال جال الزور		

(ج) اختر الإجابة الصحيحة من بين الخيارات التالية وضع خطاً تحتها :-

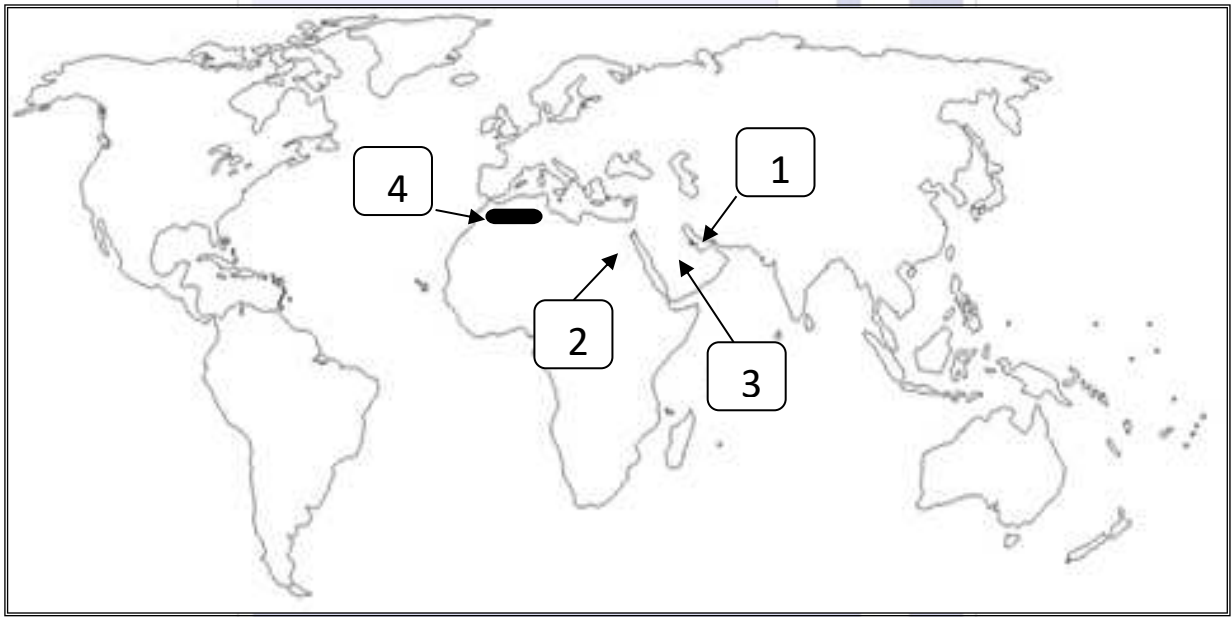
- 1 . من أكبر هضاب العالم الإسلامي وتقع في أفريقيا (الصحراء الكبرى - نجد - الأناضول - الإيرانية)
- 2 . تقع الكويت ضمن إقليم المناخ (الإستوائي - المعتدل - البارد - الصحراوي)
- 3 . أكبر الدول الإسلامية من حيث المساحة هي (السودان - الجزائر - كازاخستان - باكستان)
- 4 . يبلغ إنتاج العالم الإسلامي من الحديد الخام ما يقارب (2 % - 3 % - 4 % - 5 %)
- 5 . دولة موريتانيا أولى دول العالم الإسلامي في إنتاج (الحديد - اليورانيوم- الذهب- الفوسفات)



السؤال الثاني ويتكون من (أ - ب - ج)

(أ) أكتب المفهوم الدال على العبارات الآتية :-

- 1 . (.....) نبات ينمو في المناطق الاستوائية والموسمية
- 2 . (.....) مساحة من الأرض تتصف بعناصر مناخية متشابهة
- 3 . (.....) مقر الحاكم والمكان الذي يضم المؤسسات الإدارية كالوزارة والدواوين
- 4 . (.....) الأرض المنخفضة والتي تكونت من التربة التي حملتها مياه الأنهار
- 5 . (.....) كل ما يطرأ على المجتمع من تقدم ورقي في جميع نواحي الحياة الروحية والمادية.

(ب) لاحظ خريطة العالم التالية ثم أجب عما يليها من أسئلة :-



- 1 . حدد المحيط الأطلسي على الخريطة بوضع الرمز 
- 2 . حدد المحيط الهادي على الخريطة بوضع الرمز 
- 3 . هضبة نجد على الخريطة يمثلها الرقم (.....)
- 4 . سهول نهر النيل على الخريطة يمثلها الرقم (.....)
- 5 . جبال أطلس على الخريطة يمثلها الرقم (.....)

(ج) صحح ما تحته خط بكتابة الإجابة الصحيحة بين القوسين فيما يلي :-

- 1 . العالم المسلم صاحب كتاب (القانون في الطب) هو الخوارزمي (.....)
- 2 . من الدول الإسلامية بأوروبا هي دولة فرنسا (.....)
- 3 . أصغر الدول الإسلامية مساحة هي دولة البحرين (.....)
- 4 . نسبة من يعملون بالزراعة في العالم الإسلامي حوالي 80% (.....)
- 5 . أكثر دول العالم الإسلامي في إنتاج اليورانيوم تسمى أندونيسيا (.....)



السؤال الثالث : ويتكون من (أ - ب)

(أ) علل ما يلي

1 . سميت صناعة الأرابيسك بهذا الاسم .

.....

2 . ظهور منصب الخليفة بعد وفاة الرسول صلى الله عليه وسلم .

.....

3 . تنوع تضاريس العالم الإسلامي .

.....

4 . تدين أوروبا بالفضل الكبير للحضارة الإسلامية.

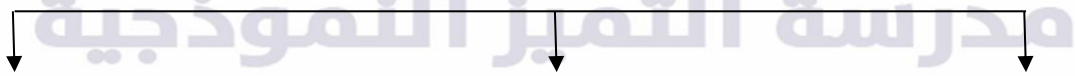
.....

5 . تحول مسمي الدولة الإسلامية إلى دول العالم الإسلامي.

.....


(ب) أكمل المخططات السهمية التالية :-

1 . أسس قيام الحضارة الإسلامية



..... (ابتدائي - متوسط - ثانوي) الحضارات الأخرى

2 . مراكز إشعاع الحضارة الإسلامية.



..... بلاد الشام

السؤال الرابع : ويتكون من (أ – ب)

أ. أكتب مدلول الصور الآتية أسفل كل صورة :-



(ب) فرق بين :-

الهضاب في قارة أفريقيا	الهضاب في قارة آسيا

السهول في تركيا	السهول في السنغال

نسبة انتاج العالم الإسلامي من الغاز الطبيعي	نسبة انتاج العالم الإسلامي من النفط

السؤال الخامس : ويتكون من (أ – ب)

أ – عرف ما يلي :-

- 1 . أهل الذمة :
- 2 . الوالي :
- 3 . البوصلة :
- 4 . الغلات النقدية :
- 5 . السهول الساحلية :

(ب) اقرأ الفقرة التالية جيدا ثم أجب عما يليها من أسئلة :-

((تعد الثروة الزراعية في العالم الإسلامي المصدر الرئيسي لإنتاج الغذاء ويعمل بها نحو 70% من سكان العالم الإسلامي حيث تمثل الدخل الرئيسي لدولة كما تدخل كمادة خام لكثير من الصناعات))

1 . اذكر اثنين من جهود دولة الكويت لتوفير عوامل قيام الزراعة.

- -
- -

2 . أهم العوامل التي ساعدت على زيادة الإنتاج الزراعي في دول العالم الإسلامي

- -
- -
- -

10

انتهت الأسئلة



نموذج إجابة اختبار تجريبي نهاية الفترة الدراسية الأولى
للفيف الثامن مادة الاجتماعيات (الكويت والعالم الإسلامي)
العام الدراسي 2025م - 2026م

السؤال الأول ويتكون من (أ - ب - ج) (درجة لكل نقطة)
(أ) اكمل العبارات التالية بما يناسبها مما درست :-

1 . انطلقت الدعوة الإسلامية على يد سيدنا محمد -صلى الله عليه وسلم- في مكة المكرمة

2 . أول الخلفاء الراشدين هو أبو بكر الصديق

3 . تم افتتاح المسجد الكبير بالكويت في عام 1986م

4 . الخليفة الراشدي الذي استحدث وظيفة المحتسب يسمى عمر بن الخطاب

5 . المنطقة التي تميزت بزراعة القمح في شبه الجزيرة العربية هي منطقة اليمامة

(ب) ظلل الحرف (أ) إذا كانت الجملة صحيحة وظلل الحرف (ب) إذا كانت الجملة غير صحيحة :

ت	الجملة	أ	ب
1	من الدول الإسلامية في قارة أمريكا الجنوبية دولة ألبانيا.		
2	أحد أبرز علماء المسلمين في الجغرافيا و الذي رسم خريطة العالم وهو الإدريسي		
3	تضم قارة آسيا 27 دولة إسلامية		
4	تقع جبال الحجاز في دولة المغرب		
5	من أشهر التلال في دولة الكويت تلال جال الزور		

(ج) اختر الإجابة الصحيحة من بين الخيارات التالية وضع خطاً تحتها :-

1 . من أكبر هضاب العالم الإسلامي وتقع في أفريقيا (الصحراء الكبرى - نجد - الأناضول - الإيرانية)

2 . تقع الكويت ضمن إقليم المناخ (الإستوائي - المعتدل - البارد - الصحراوي)

3 . أكبر الدول الإسلامية من حيث المساحة هي (السودان - الجزائر - كازاخستان - باكستان)

4 . يبلغ إنتاج العالم الإسلامي من الحديد الخام ما يقارب (2 % - 3 % - 4 % - 5 %)

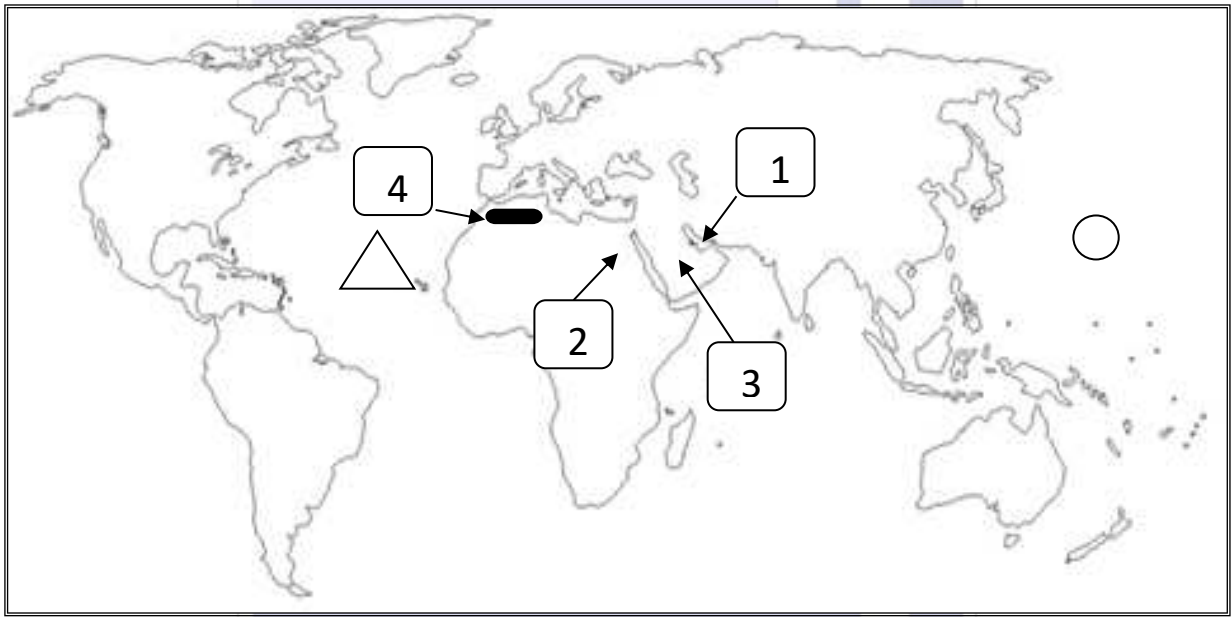
5 . دولة موريتانيا أولى دول العالم الإسلامي في إنتاج (الحديد - اليورانيوم - الذهب - الفوسفات)

السؤال الثاني ويتكون من (أ - ب - ج)

(أ) أكتب المفهوم الدال على العبارات الآتية :-

- 1 . (الجوت) نبات ينمو في المناطق الاستوائية والموسمية
- 2 . (الإقليم المناخي) مساحة من الأرض تتصف بعناصر مناخية متشابهة
- 3 . (القصور) مقر الحاكم والمكان الذي يضم المؤسسات الإدارية كالوزارة والدواوين
- 4 . (السهول الفيضية) الأرض المنخفضة والتي تكونت من التربة التي حملتها مياه الأنهار
- 5 . (الحضارة) كل ما يطرأ على المجتمع من تقدم ورقي في جميع نواحي الحياة الروحية والمادية.

(ب) لاحظ خريطة العالم التالية ثم أجب عما يليها من أسئلة :-



- 1 . حدد المحيط الأطلسي على الخريطة بوضع الرمز
- 2 . حدد المحيط الهادي على الخريطة بوضع الرمز
- 3 . هضبة نجد على الخريطة يمثلها الرقم (3)
- 4 . سهول نهر النيل على الخريطة يمثلها الرقم (2)
- 5 . جبال أطلس على الخريطة يمثلها الرقم (4)

(ج) صحح ما تحته خط بكتابة الإجابة الصحيحة بين القوسين فيما يلي :-

- 1 . العالم المسلم صاحب كتاب (القانون في الطب) هو الخوارزمي (ابن سينا)
- 2 . من الدول الإسلامية بأوروبا هي دولة فرنسا (ألبانيا / البوسنة والهرسك)
- 3 . أصغر الدول الإسلامية مساحة هي دولة البحرين (المالديف)
- 4 . نسبة من يعملون بالزراعة في العالم الإسلامي حوالي 80% (70 %)
- 5 . أكثر دول العالم الإسلامي في إنتاج اليورانيوم تسمى أندونيسيا (كازاخستان)

السؤال الثالث : ويتكون من (أ - ب)

(أ) علل ما يلي


- 1 . سميت صناعة الأرابيسك بهذا الاسم .
- نسبة للعرب
- 2 . ظهور منصب الخليفة بعد وفاة الرسول صلى الله عليه وسلم .
- حاجة الدولة الإسلامية لمن يدير شؤونها في أمور الدين و الدنيا
- 3 . تنوع تضاريس العالم الإسلامي .
- الإمتداد الكبير لمساحة الدولة الإسلامية.
- 4 . تدين أوروبا بالفضل الكبير للحضارة الإسلامية.
- بفضل مراكز إشعاع الحضارة الاسلامية . - ترجمة كتب علماء المسلمين في شت المجالات
- 5 . تحول مسمي الدولة الإسلامية إلى دول العالم الإسلامي .
- بسبب الضعف الذي دب في الدولة الاسلامية - الدول الاستعمارية التي نفذت حملاتها لتفكيكها

(ب) أكمل المخططات السهمية التالية :-

1 . أسس قيام الحضارة الإسلامية



2 . مراكز إشعاع الحضارة الإسلامية.



السؤال الرابع : ويتكون من (أ – ب)

أ. أكتب مدلول الصور الآتية أسفل كل صورة :-



إنتاج النفط

إنتاج الغاز الطبيعي



قصر الحمراء



مأذنة مسجد أحمد بن طولون

(ب) فرق بين :-

الهضاب في قارة أفريقيا	الهضاب في قارة آسيا
هضبة الصحراء الكبرى	هضبة نجد / الأناضول / الإيرانية

السهول في تركيا	السهول في السنغال
سهول بورصة / قيصرية	سهول كايور / باول

نسبة انتاج العالم الإسلامي من الغاز الطبيعي	نسبة انتاج العالم الإسلامي من النفط
36%	35-30%

السؤال الخامس : ويتكون من (أ – ب) أ – عرف ما يلي :-

- 1 . أهل الذمة : هم أهل الكتاب من اليهود والنصارى .
- 2 . الوالي : هو الشخص الذي يعينه الخليفة أمير على منطقة من مناطق الدولة الإسلامية .
- 3 . البوصلة : أداة ملاحية لتحديد الاتجاهات وتحتوي على مؤشر مغناطيسي يدور بحرية ليوجه نفسه دائماً نحو الشمال .
- 4 . الغلات النقدية : هي المحاصيل التي تزرع من أجل التصدير .

5 . السهول الساحلية : الأرض المنبسطة التي تجاور سواحل البحار والمحيطات .

(ب) اقرأ الفقرة التالية جيداً ثم أجب عما يليها من أسئلة :-

((تعد الثروة الزراعية في العالم الإسلامي المصدر الرئيسي لإنتاج الغذاء ويعمل بها نحو 70% من سكان العالم الإسلامي حيث تمثل الدخل الرئيسي لدولة كما تدخل كمادة خام لكثير من الصناعات))

1 . اذكر اثنين من جهود دولة الكويت لتوفير عوامل قيام الزراعة .

- استخدام وسائل الري الحديثة .
- استخدام البيوت المحمية المكيفة .
- الزراعة بدون تربة لتفادي مشكلة التربة .

2 . أهم العوامل التي ساعدت على زيادة الإنتاج الزراعي في دول العالم الإسلامي

- التربة الخصبة / المناخ / الأمطار
- الأيدي العاملة / الأنهار والآبار

نموذج اختبار تجريبي نهاية الفترة الدراسية الاولى
للفصل الثامن مادة الاجتماعيات (الكويت والعالم الإسلامي)
العام الدراسي 2025م - 2026م

السؤال الأول ويتكون من (أ - ب - ج) (درجة لكل نقطة)
(أ) اكمل العبارات التالية بما يناسبها مما درست :-

- 1 . أولى دول العالم الإسلامي في إنتاج النفط واحتياطيه.....
- 2 . يبلغ إنتاج العالم الإسلامي من الحديد الخام ما يقارب
- 3 . الدولة الإسلامية التي احتلت المركز الثاني عالميًا في إنتاج الأسماك ام 2014 تسمى
- 4 . الخليفة الراشدي الذي استحدث وظيفة المحتسب يسمى
- 5 . أحد محطات استراحة الحجاج في الكويت قديمًا اسمها

(ب) اختر من المجموعة (أ) ما يناسبها من المجموعة (ب) بكتابة الرقم المناسب فيما يلي:

ت	المجموعة (أ)	الرقم المناسب	المؤلفات
1	البيروني		صاحب كتاب القانون في الطب
2	جابر بن حيان		مؤلف أسرار الكيمياء
3	الخوارزمي		رسم خريطة العالم
4	ابن سينا		كتاب الجبر والمقابلة
5	الإدريسي		ألف كتاب القانون المسعودي

(ج) اختر الاجابة الصحيحة من بين الخيارات التالية وضع خطا تحتها :-

- 1 . من أشهر هضاب العالم الإسلامي في شبة الجزيرة العربية (الصحراء الكبرى - نجد - الأناضول - الإيرانية)
- 2 . أولى دول العالم الإسلامي إنتاجًا للذهب هي دولة (أندونيسيا - قطر - البحرين - باكستان)
- 3 . أكبر الدول الإسلامية من حيث المساحة هي (السودان - الجزائر - كازاخستان - باكستان)
- 4 . يبلغ احتياطي العالم الإسلامي من النفط الخام ما يقارب (48,5% - 38% - 58,5% - 68%)
- 5 . دولة المغرب أولى دول العالم الإسلامي في إنتاج (الحديد - اليورانيوم- الذهب- الفوسفات)

(أ) صنف المظاهر التضاريسية حسب الجدول التالي :-

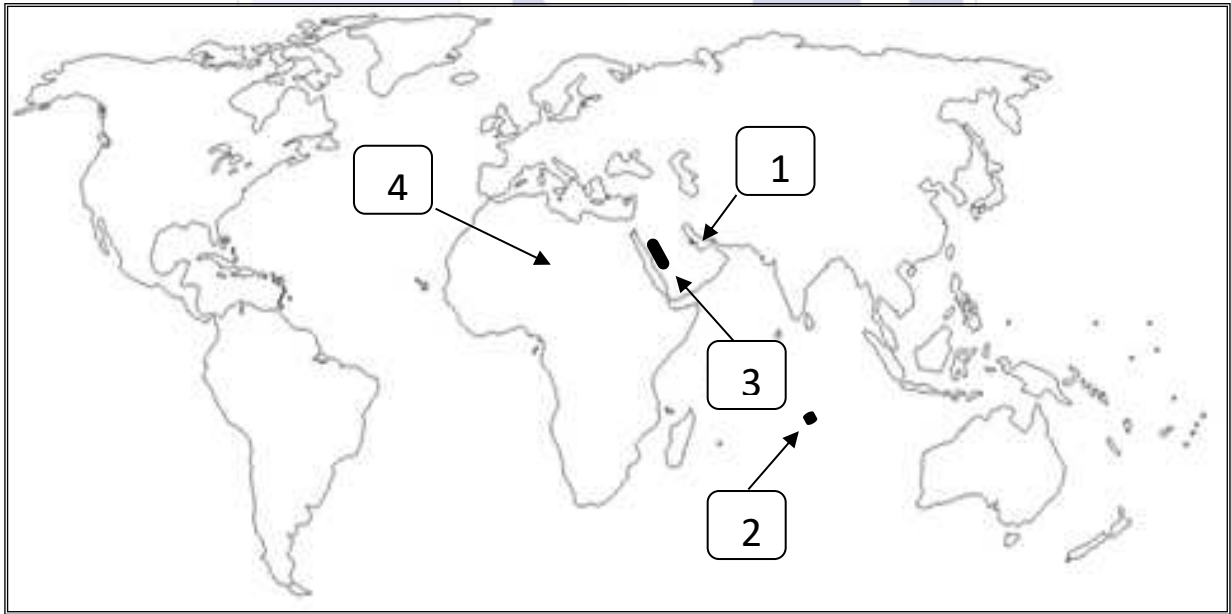
(أطلس - جال الزور - الأناضول - كراع المرو - زاجروس)



تلال	هضاب	جبال

(ب) صحح ما تحته خط بكتابة الإجابة الصحيحة بين القوسين فيما يلي :-

- 1 . مقر الحاكم والمكان الذي يضم المؤسسات الإدارية هو بيت المال (.....)
- 2 . المدينة التي تم إنشاء ديوان الماء بها تسمى سمرقند (.....)
- 3 . العالم المسلم الذي ترجم له الأوربيون في مجال الصيدلة هو الخوارزمي (.....)
- 4 . نسبة انتاج العالم الإسلامي من الحبوب الغذائية حوالي 80% (.....)
- 5 . أكثر دول العالم الإسلامي في انتاج اليورانيوم تسمى أندونيسيا (.....)

(ج) لاحظ خريطة العالم التالية ثم أجب عما يليها من أسئلة :-



- 1 . حدد المحيط الأطلسي على الخريطة بوضع الرمز 
- 2 . حدد المحيط الهادي على الخريطة بوضع الرمز 
- 3 . هضبة الصحراء الكبرى على الخريطة يمثلها الرقم (.....)
- 4 . أصغر دول العالم الإسلامي على الخريطة يمثلها الرقم (.....)
- 5 . جبال الحجاز على الخريطة يمثلها الرقم (.....)

السؤال الثالث : ويتكون من (أ - ب - ج)

(أ) علل ما يلي

1 . سميت صناعة الأرابيسك بهذا الاسم .

.....

2 . تنوع الأقاليم المناخية في العالم الإسلامي.

.....

3. تتفاوت كميات انتاج المعادن في دول العالم الإسلامي من دولة لأخرى.

.....

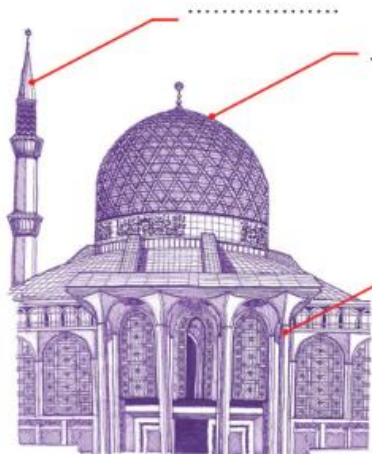
4 . تدين أوروبا بالفضل الكبير للحضارة الإسلامية.

.....

5 . يتركز زراعة الأرز في دولة اندونيسيا وبنجلاديش وباكستان .

.....

(ب) أكمل مميزات العمارة الإسلامية على الشكل التالي :



مدرسة
(ابتدائي)

(ج) عدد العوامل التي أدت إلى ازدهار العلم وظهور العلماء في الدولة الإسلامية.

..... -

..... -

السؤال الرابع : ويتكون من (أ - ب)

أ - عرف ما يلي :-

1 . الحضارة :

.....

2 . الإقليم المناخي :

.....

3 . عرف المعدن :

.....

4 . الجوت :

.....

(ب) قارن بين معدن اليورانيوم والفوسفات من خلال الجدول التالي:

وجه المقارنة	اليورانيوم	الفوسفات
الدولة الأولى		
انتاجها		
الأهمية		


السؤال الخامس : ويتكون من (أ – ب)

(أ) اقرأ الفقرة التالية جيدا ثم أجب عما يليها من أسئلة :-

((ينتج العالم الإسلامي 36% من إجمالي الغاز الطبيعي في العالم ، وتحتل دولة قطر المرتبة الأولى بين الدول المنتجة للغاز المسال))

1. مثل نسبة إنتاج العالم الإسلامي من الغاز الطبيعي (36 %) على الدائرة البيانية التالية :

2. ما هي أولى دول العالم الإسلامي في إنتاج الغاز المسال ؟



3. اذكر اسم أكبر حقل غاز طبيعي في العالم .

(ب) أجب عن الأسئلة التالية:

1. اكتب اثنين من مميزات معدن الحديد.

2. أهم العوامل التي ساعدت على زيادة الإنتاج الزراعي في دول العالم الإسلامي

3. عدد أهم عناصر التكامل الاقتصادي بين دول العالم الإسلامي.



نموذج إجابة اختبار تجريبي نهاية الفترة الدراسية الأولى
للفيف الثامن مادة الاجتماعيات (الكويت والعالم الإسلامي)
العام الدراسي 2025م - 2026م



السؤال الأول ويتكون من (أ - ب - ج) (درجة لكل نقطة)
(أ) اكمل العبارات التالية بما يناسبها مما درست :-

1. أولى دول العالم الإسلامي في إنتاج النفط واحتياطيه السعودية
 2. يبلغ إنتاج العالم الإسلامي من الحديد الخام ما يقارب 3%
 3. الدولة الإسلامية التي احتلت المركز الثاني عالمياً في إنتاج الأسماك ام 2014 تسمى أندونيسيا
 4. الخليفة الراشدي الذي استحدث وظيفة المحتسب يسمى عمر بن الخطاب
 5. أحد محطات استراحة الحجاج في الكويت قديماً اسمها الشجي
- (ب) اختر من المجموعة (أ) ما يناسبها من المجموعة (ب) بكتابة الرقم المناسب فيما يلي:

ت	المجموعة (أ)	الرقم المناسب	المؤلفات
1	البيروني	4	صاحب كتاب القانون في الطب
2	جابر بن حيان	2	مؤلف أسرار الكيمياء
3	الخوارزمي	5	رسم خريطة العالم
4	ابن سينا	3	كتاب الجبر والمقابلة
5	الإدرسي	1	ألف كتاب القانون المسعودي

(ج) اختر الإجابة الصحيحة من بين الخيارات التالية وضع خطاً تحتها :-

1. من أشهر هضاب العالم الإسلامي في شبة الجزيرة العربية (الصحراء الكبرى - نجد - الأناضول - الإيرانية)
2. أولى دول العالم الإسلامي إنتاجاً للذهب هي دولة (أندونيسيا - قطر - البحرين - باكستان)
3. أكبر الدول الإسلامية من حيث المساحة هي (السودان - الجزائر - كازاخستان - باكستان)
4. يبلغ احتياطي العالم الإسلامي من النفط الخام ما يقارب (48,5% - 38% - 58,5% - 68%)
5. دولة المغرب أولى دول العالم الإسلامي في إنتاج (الحديد - اليورانيوم - الذهب - الفوسفات)



السؤال الثاني ويتكون من (أ - ب - ج)

(أ) صنف المظاهر التضاريسية حسب الجدول التالي :-

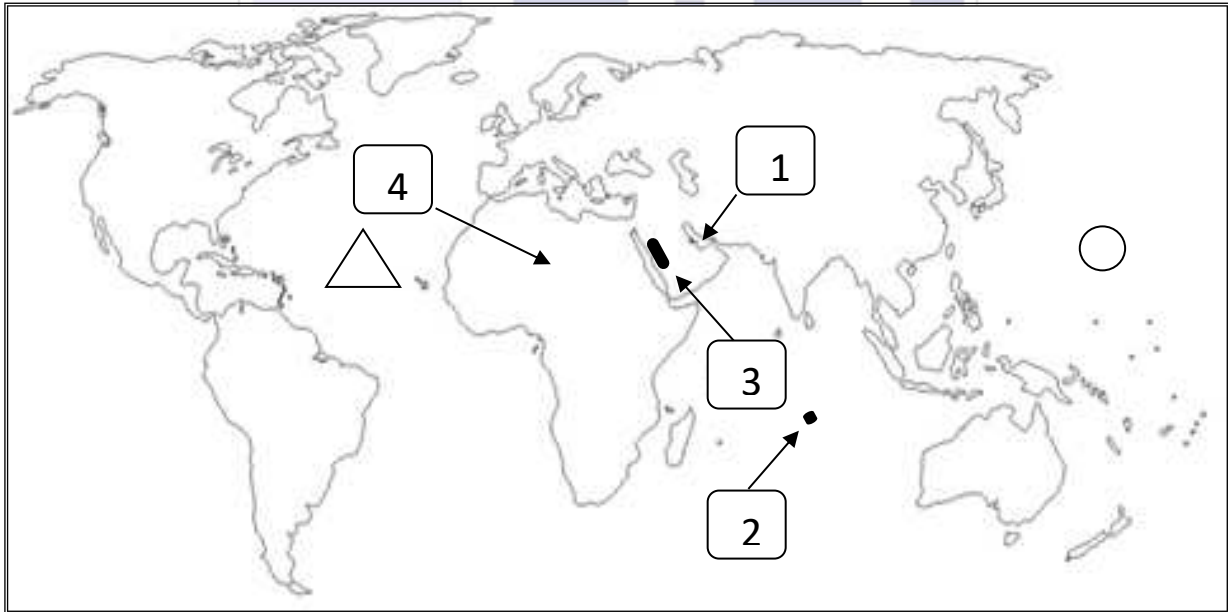
(أطلس - جال الزور - الأناضول - كراع المرو - زاجروس)

تلال	هضاب	جبال
جال الزور كراع المرو	الأناضول	أطلس زاجروس

(ب) صحح ما تحته خط بكتابة الإجابة الصحيحة بين القوسين فيما يلي :-

- 1 . مقر الحاكم والمكان الذي يضم المؤسسات الإدارية هو بيت المال (القصور)
- 2 . المدينة التي تم إنشاء ديوان الماء بها تسمى سمرقند (مرو)
- 3 . العالم المسلم الذي ترجم له الأوربيون في مجال الصيدلة هو الخوارزمي (ابن البيطار)
- 4 . نسبة انتاج العالم الإسلامي من الحبوب الغذائية حوالي 80% (14 %)
- 5 . أكثر دول العالم الإسلامي في انتاج اليورانيوم تسمى أندونيسيا (كازاخستان)

(ج) لاحظ خريطة العالم التالية ثم أجب عما يليها من أسئلة :-



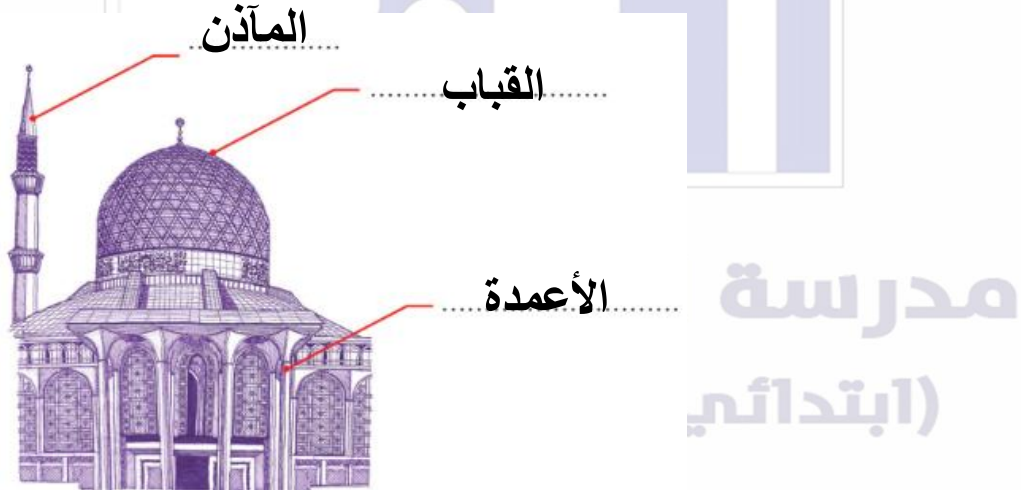
- 1 . حدد المحيط الأطلسي على الخريطة بوضع الرمز
- 2 . حدد المحيط الهادي على الخريطة بوضع الرمز
- 3 . هضبة الصحراء الكبرى على الخريطة يمثلها الرقم (4)
- 4 . أصغر دول العالم الإسلامي على الخريطة يمثلها الرقم (2)
- 5 . جبال الحجاز على الخريطة يمثلها الرقم (3)

السؤال الثالث : ويتكون من (أ - ب - ج)

(أ) علل ما يلي

- 1 . سميت صناعة الأرابيسك بهذا الاسم .
- نسبة للعرب
- 2 . تنوع الأقاليم المناخية في العالم الإسلامي .
- بسبب الإمتداد الكبير لدول العالم الإسلامي
- 3 . تتفاوت كميات انتاج المعادن في دول العالم الإسلامي من دولة لأخرى .
- نتيجة لتباين أقاليم العالم الإسلامي في طبيعة التكوين - عوامل التعرية.
- 4 . تدين أوروبا بالفضل الكبير للحضارة الإسلامية .
- بفضل مراكز إشعاع الحضارة الإسلامية . - ترجمة كتب علماء المسلمين في شت المجالات
- 5 . يتركز زراعة الأرز في دولة اندونيسيا وبنجلاديش وباكستان .
- بسبب الأمطار الغزيرة ودرجة الحرارة المرتفعة .

(ب) أكمل مميزات العمارة الإسلامية على الشكل التالي :



(ج) عدد العوامل التي أدت إلى ازدهار العلم وظهور العلماء في الدولة الإسلامية.

- الرخاء الاقتصادي
- تشجيع الحكام للعلماء
- ترجمة كتب حضارة اليونان والفرس والهند

السؤال الرابع : ويتكون من (أ - ب)

أ - عرف ما يلي :-

1 . الحضارة : كل ما يطرأ على المجتمع من تقدم ورتقي في كافة جوانب الحياة المادية والروحية .

2 . الإقليم المناخي : مساحة من الأرض تتصف بعناصر مناخية متشابهة .

3 . عرف المعدن : هو عنصر او مركب كيميائي بطبيعته ناتج عن عمليات جيولوجية

4 . الجوت : هو نبات ينمو في المناطق الاستوائية والموسمية يصنع منه الحبال والأحذية والحقائب

ب) قارن بين معدن اليورانيوم والفوسفات من خلال الجدول التالي:

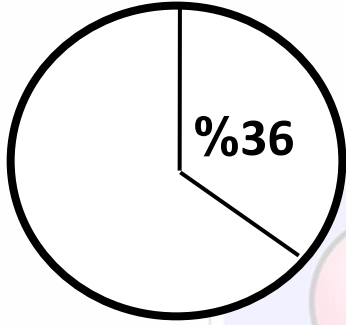
وجه المقارنة	اليورانيوم	الفوسفات
الدولة الأولى	كازاخستان	المغرب
انتاجها	41%	35%
الأهمية	إنتاج الطاقة النووية / الزجاج	صناعة الأسمدة / المنظفات

السؤال الخامس : ويتكون من (أ – ب)

(أ) اقرأ الفقرة التالية جيدا ثم أجب عما يليها من أسئلة :-

((ينتج العالم الإسلامي 36% من إجمالي الغاز الطبيعي في العالم ، وتحتل دولة قطر المرتبة الأولى بين الدول المنتجة للغاز المسال))

1. مثل نسبة إنتاج العالم الإسلامي من الغاز الطبيعي (36 %) على الدائرة البيانية التالية :



2. ما هي أولى دول العالم الإسلامي في إنتاج الغاز المسال ؟

- دولة قطر

3. اذكر اسم أكبر حقل غاز طبيعي في العالم .-

- حقل الشمال في قطر

(ب) أجب عن الأسئلة التالية:

1. اكتب اثنين من مميزات معدن الحديد.

- لانتشار الواسع في القشرة الأرضية

- سهولة طرقه وتشكيله

- سهولة استخراجه

- رخص ثمنه بالنسبة للمعادن الأخرى

2. أهم العوامل التي ساعدت على زيادة الإنتاج الزراعي في دول العالم الإسلامي

- التربة الخصبة / المناخ / الأمطار

- الأيدي العاملة / الأنهار والآبار

3. عدد أهم عناصر التكامل الاقتصادي بين دول العالم الإسلامي.

- الموارد الطبيعية - الأيدي العاملة

- رأس المال - وسائل النقل

