


تم تحميل هذا الملف من موقع المناهج الكويتية



الملف أسئلة اختبار منطقة الأحمدية التعليمية

موقع المناهج ⇌ المناهج الكويتية ⇌ الصف السابع ⇌ تربية اسلامية ⇌ الفصل الثاني

روابط مواقع التواصل الاجتماعي بحسب الصف السابع



روابط مواد الصف السابع على تلغرام

الرياضيات	اللغة الانجليزية	اللغة العربية	التربية الاسلامية
---------------------------	----------------------------------	-------------------------------	-----------------------------------

المزيد من الملفات بحسب الصف السابع والمادة تربية اسلامية في الفصل الثاني

مذكرة أسئلة	1
مذكرة	2
حل الوحدة الثالثة كاملة مع الاجابة للتربية الاسلامية	3
مخططات وتشجيرات مفيدة في مادة التربية الاسلامية	4
مراجعة مفيدة في مادة التربية الاسلامية	5



العام الدراسي: ٢٠٢٤/٢٠٢٥ م
الزمن: ساعة وخمسة وأربعون دقيقة
عدد الأوراق: ٦

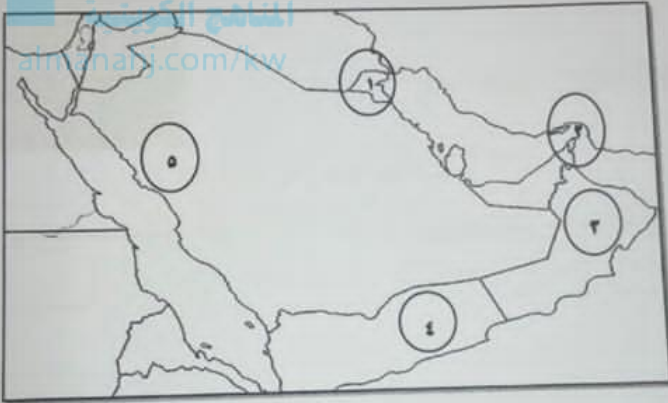
امتحان الفترة الدراسية الثانية
لمقرر الكويت ودول الخليج العربية
للمصف السادس المتوسط

وزارة التربية
الإدارة العامة لمنطقة الأحمدى التعليمية
التوجيه الفني للاجتماعيات

(أجب عن جميع الأسئلة)

السؤال الأول (موضوعي) يتكون من (أ - ب - ج):

(أ) أمامك خريطة شبه الجزيرة العربية الصماء - اكتب الرقم الدال على العبارات التالية:



- الدولة الخليجية التي يقع فيها حقل برقان يمثلها على الخريطة الرقم (.....)

- مضيق هرمز يمثلها على الخريطة الرقم (.....)

- الدولة الخليجية التي يقع فيها سهل الباطنة يمثلها على الخريطة الرقم (.....)

- منطقة ينبع الصناعية يمثلها على الخريطة الرقم (.....)



رد





تابع / امتحان الفترة الدراسية الثانية / لمقر الكويت ودول الخليج العربية / الصف السادس المتوسط / العلم الدراسي ٢٠٢٤-٢٠٢٥ م

جميع / السؤال الأول (موضوعي):

(ب) أكمل العبارات التالية بما يناسبها مما درست :

١- العلم الذي بدأ فيه التنقيب عن النفط في دولة الكويت م.....

٢- القبائل العربية التي هاجرت إلى عمان تسمى


٣- مجموعة من العادات والتقاليد والقيم في مجتمع من المجتمعات تسمى

٤- الصورة التي أمامك تمثل قلعة البحرين وتسمى


(ج) أكمل المخططات السهمية التالية :



١- أسباب النمو المفاجئ التي شهدتها منطقة الخليج العربية بعد اكتشاف النفط



٢- الروابط المشتركة بين أبناء دول الخليج العربية



درجة السؤال الأول بالحروف



+965 557 67276

4 صور

الجدول التالي يوضح النسبة المئوية لانتاج النفط في دول الخليج العربي / الصف السادس المتوسط / العام الدراسي ٢٠٢٤-٢٠٢٣ م

الزابع (مقال) يتكون من (أ - ب - ج):

(أ) لاحظ الجدول المقابل ثم أجب عن الأسئلة التالية:


الدولة	النسبة
الكويت	٨%
السعودية	٢٩%
قطر	٦%

١- ما المقصود بإنتاج النفط؟

٢- استخرج أقل دولة خليجية في إنتاج النفط.

٣- حول الإنتاج النفطي في كل من دولة الكويت والمملكة العربية السعودية إلى أعده بيانية.

المنهج الكويتية
almanahj.com/kw



(ب) عدد اثنين لكل مما يلي:

١- الدول المستوردة للنفط الكويتي.

٢- أنواع الهجرات.

(ج) قارن بين كل من:

		أوجه المقارنة
		اسم المشكلة
		الأسباب



درجة السؤال الرابع بالحروف

تعليم / امتحان الفترة الدراسية الثانية / لمقرر الكويت ودول الخليج العربية / الصف السادس المتوسط / العام الدراسي ٢٠٢٤-٢٠٢٣ م

سؤال الثالث (موضوعي) يتكون من (أ - ب - ج):

(أ) صحح ما تحته خط في العبارات التالية:

- ١- البعثة التي كشفت عن آثار حضارة منطقة الخليج العربية الهولندية. ()
- ٢- الدولة الخليجية التي لم تتعرض للاستعمار الأجنبي سلطنة عمان. ()
- ٣- أعلن قيام السوق الخليجية المشتركة عام ٢٠١٠م. ()
- ٤- يرى العلماء أن العنف ظاهرة موروثة. ()

(ب) اكتب المفاهيم أو المصطلحات الدالة على العبارات التالية:

المفهوم / المصطلح	العبارات
١	تحويل المواد الخام إلى مواد يمكن الاستفادة منها.
٢	عدد المواليد - عدد الوفيات.
٣	قوة مشتركة تضم جميع دول مجلس التعاون الخليجي.
٤	وحدة قياس شدة الضوضاء التي تتعرض لها الأذن البشرية.

(ج) اكتب مدلولات الصور التالية:



.....

.....

.....

.....

.....

.....

.....

.....



درجة السؤال الثالث بالحروف



~Baydaa' Alshammmary



ص 8:36, 2025/5/26



تكميل / امتحان الفترة الدراسية الثانية / لمقرر الكويت ونوول الخليج العربية / الصف السادس المتوسط / العام الدراسي ٢٠٢٤-٢٠٢٥ م

ال الثاني (موضوعي) يتكون من (أ - ب - ج):

(أ) ظلل الحرف (أ) إذا كانت العبارة صحيحة و الحرف (ب) إذا كانت العبارة خاطئة:

م	العبارة	أ	ب
١	تشتهر منطقة صحار في سلطنة عمان بصناعة الغاز.	أ	ب
٢	قطر هي أعلى دولة خليجية في نسبة الوافدين لعام ٢٠٠٦م.	أ	ب
٣	أحد التحديات التي تواجه دول الخليج العربية ندرة المياه الجوفية.	أ	ب
٤	العواصف الترابية من المصادر غير الطبيعية للتلوث الهوائي.	أ	ب

(ب) ضع خطأ تحت الخيار الصحيح من بين الخيارات التي تلي كل عبارة:

almanahj.com/kw

١- الدولة الرائدة في إنتاج محصول القمح:

- أ- دولة الكويت ب- المملكة العربية السعودية ج- سلطنة عمان د- مملكة البحرين

٢- إعادة تصدير البضائع المستوردة:

- أ- الدخل القومي ب- الواردات ج- الصادرات د- الترانزيت

٣- إدانة احتلال الجزر الإماراتية الثلاث من مظاهر التعاون:

- أ- السياسي ب- الثقافي ج- الاقتصادي د- العسكري

٤- عدد آبار النفط الكويتية التي أشعلها النظام العراقي البائد:

- أ- ٦٣٧ ب- ٧٣٧ ج- ٨٣٧ د- ٩٣٧

(ج) صنف الحضارات التالية حسب مكاتها الصحيح في الجدول الذي يليها:

- (تاروت - أم النار - هيلي - دبا)

سلطنة عمان	المملكة العربية السعودية	دولة قطر	دولة الإمارات العربية المتحدة



درجة السؤال الثاني بالحروف

ام عبدالعزيز, [May 26, 2025 at 8:27 AM]

اجتماعيات الاحمدي سادس

UuXl1zUJPKdQdRM0/87780

رد





~Baydaa' Alshammmary



ص 8:36, 2025/5/26



مجلس الوزراء / الكويت ودول الخليج العربية / الصف السادس المتوسط / العام الدراسي ٢٠٢٤-٢٠٢٥ م

الخامس (مقالي) يتكون من (١ - ب - ج) :

(١) اقرأ الفقرة التالية ثم اجب عما يلي:

" كان لاكتشاف النفط وتصديره أهمية اقتصادية كبرى لدول مجلس التعاون مما أثر في النقل القومي فاهتمت الحكومات بزيادة الدخل عن طريق اتوسع في صناعة تكرير النفط وصناعة البتروكيماويات لزيادة الكميات المستوردة."

١- عرف ما تحته خط:

عدد أنواع الصناعات القائمة على النفط بدول مجلس التعاون.

٣- اقترح حلاً لمشكلة الاعتماد على الموارد النفطية.

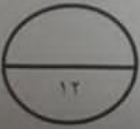
(ب) فرق بين كل من:

البيوت البلاستيكية	الزراعة بدون تربة
الكثافة السكانية	النمو السكاني

(ج) اذكر النتائج المترتبة على:

١- تلوث التربة.

٢- الاعتماد على العمالة المنزلية.



درجة السؤال الخامس بالحروف

(انتهت الأسئلة)



رد

