

تم تحميل هذا الملف من موقع المناهج الكويتية



عيدة الشمري

الملف نموذج 1 للاختبار التحصيلي الأول

[موقع المناهج](#) ⇌ [المناهج الكويتية](#) ⇌ [الصف الثاني](#) ⇌ [رياضيات](#) ⇌ [الفصل الثاني](#)

روابط مواقع التواصل الاجتماعي بحسب الصف الثاني



روابط مواد الصف الثاني على تلغرام

[الرياضيات](#)


[اللغة الانجليزية](#)

[اللغة العربية](#)

[التربية الاسلامية](#)

المزيد من الملفات بحسب الصف الثاني والمادة رياضيات في الفصل الثاني

تدريبات	1
وسائل الوحدة الحادية عشر	2
مذكرة	3
مذكرة مهمة	4
مذكرة مهمة	5



الاختبار التحصيلي الاول للصف الثاني

الفصل الدراسي الثاني للعام 2024-2025





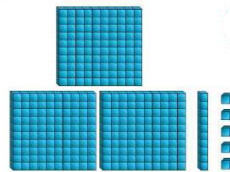
نموذج (١) اختبار تحصيلي (١)
في مادة الرياضيات للصف (الثاني)
الفصل الدراسي الثاني للعام ٢٠٢٤ - ٢٠٢٥

وزارة التربية
الإدارة العامة لمنطقة حولي التعليمية
التوجيه الفني للرياضيات

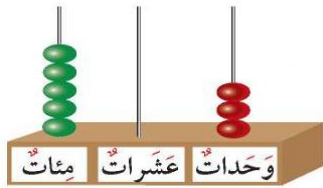
السؤال الأول:

* اكتب رمز العدد .

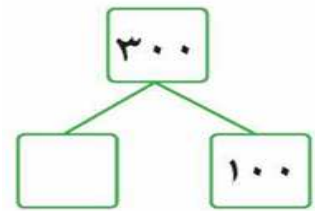
(أ)




(ب)



* أكمل.



* حوط ما يمثل الثلث:

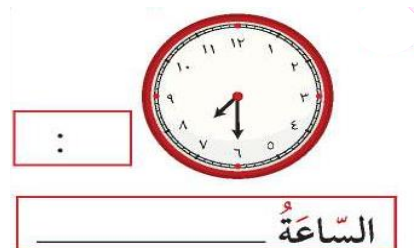


* القيمة المكانية للرقم الذي تحته خط .

٤٧٥

السؤال الثاني:

اكتب الوقت الذي تشير إليه الساعة
بطريقتين مختلفتين



** اكتب عبارة ضرب وعبارة قسمة

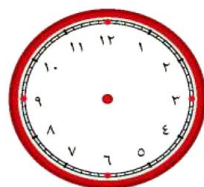
للأعداد ٨ ، ٤ ، ٢

$$\square = \square \times \square$$

$$\square = \square \div \square$$

السؤال الثالث : * ارسم عقري الساعة ، ثم اكتب وقت النهاية .

تصبح



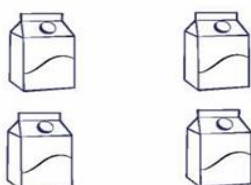
بعد ساعتين



أبدأ

٦:٠٠


** لون ما يمثل الربع :



** لون ما يمثل الثلث :



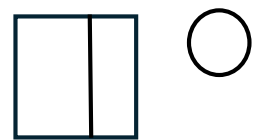
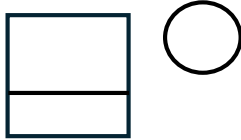
** لون ما يمثل النصف :



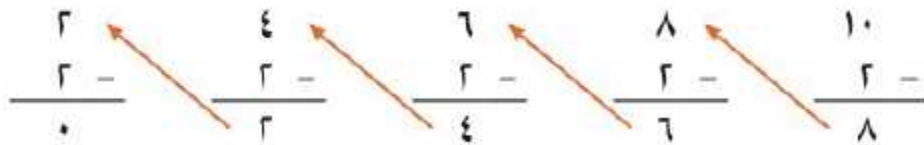
السؤال الرابع:

أولاً: ظلل الدائرة الدالة على الإجابة الصحيحة:

(١) الشكل الذي قسم إلى جزئين متطابقين هو :



(٢) عبارة القسمة المناسبة لعبارة الطرح المتكرر هي



$5 = 2 \div 10$ ☐

$3 = 2 \div 6$ ☐

$4 = 2 \div 10$ ☐

(٣) $= 600 + 30 + 8$

863 ☐

683 ☐

638 ☐

(٤) الشكل الذي يمثل الربع هو :



(٥) الشهر الذي نحتفل فيه بالعيد الوطني هو

مارس ☐

فبراير ☐

يناير ☐

انتهت الأسئلة نتمنى لكم التوفيق،،،

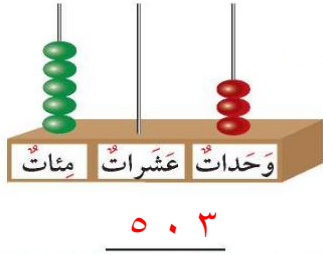
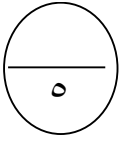


نموذج إجابة (١) اختبار تحصيلي (١)
في مادة الرياضيات للصف (الثاني)
الفصل الدراسي الثاني للعام ٢٠٢٤ - ٢٠٢٥

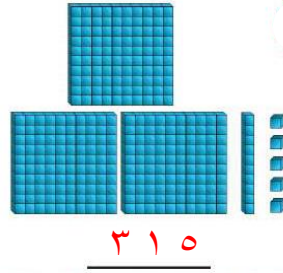
وزارة التربية
الإدارة العامة لمنطقة حولي التعليمية
التوجيه الفني للرياضيات

السؤال الأول:

* اكتب رمز العدد .



(ب)




(أ)

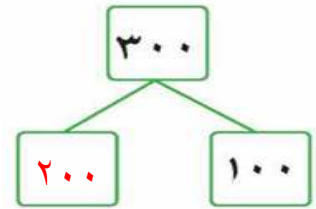
* القيمة المكانية للرقم الذي تحته خط .

475
400

* حوط ما يمثل الثلث:



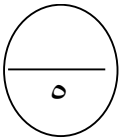
* أكمل.



السؤال الثاني:

أكتب الوقت الذي تشير إليه الساعة

بطريقتين مختلفتين

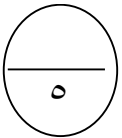


** اكتب عبارة ضرب وعبارة قسمة

للأعداد ٨ ، ٤ ، ٢

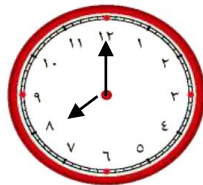
$$8 = 4 \times 2$$

$$2 = 4 \div 8$$



السؤال الثالث: * ارسم عقربي الساعة ، ثم اكتب وقت النهاية .

تصبح
8:00

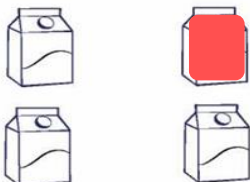


بعد ساعتين



إبدأ
6:00


** لون ما يمثل الربع :



** لون ما يمثل الثلث :



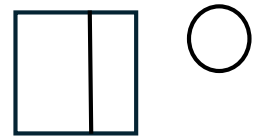
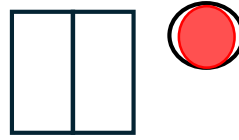
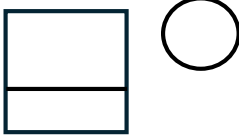
** لون ما يمثل النصف :



السؤال الرابع:

أولاً: ظلل الدائرة الدالة على الإجابة الصحيحة:

(١) الشكل الذي قسم إلى جزئين متطابقين هو :



(٢) عبارة القسمة المناسبة لعبارة الطرح المتكرر هي

$$\begin{array}{r} 2 \\ 2 - \\ \hline 0 \end{array} \quad \begin{array}{r} 4 \\ 2 - \\ \hline 2 \end{array} \quad \begin{array}{r} 6 \\ 2 - \\ \hline 4 \end{array} \quad \begin{array}{r} 8 \\ 2 - \\ \hline 6 \end{array} \quad \begin{array}{r} 10 \\ 2 - \\ \hline 8 \end{array}$$

$5 = 2 \div 10$ ☒

$3 = 2 \div 6$ ☐

$4 = 2 \div 10$ ☐

(٣) $= 600 + 30 + 8$

٨٦٣ ☐

٦٨٣ ☐

٦٣٨ ☒

(٤) الشكل الذي يمثل الربع هو :



(٥) الشهر الذي نحتفل فيه بالعيد الوطني هو

مارس ☐

فبراير ☒

يناير ☐

انتهت الأسئلة نتمنى لكم التوفيق،،،