

تم تحميل هذا الملف من موقع المناهج الكويتية




محمد البلاطي

الملف أسئلة اختبار القصير من منصة البلاطي

موقع المناهج ← المناهج الكويتية ← الصف الحادي عشر الأدبي ← جغرافيا ← الفصل الثاني

روابط مواقع التواصل الاجتماعي بحسب الصف الحادي عشر الأدبي



روابط مواد الصف الحادي عشر الأدبي على تلغرام

[الرياضيات](#)

[اللغة الانجليزية](#)

[اللغة العربية](#)

[التربية الاسلامية](#)

المزيد من الملفات بحسب الصف الحادي عشر الأدبي والمادة جغرافيا في الفصل الثاني

بنك اسئلة مهم ورائع في مادة الجغرافيا	1
بنك اسئلة ممتاز في مادة الجغرافيا	2
بنك اسئلة مفيد في مادة الجغرافيا	3
بنك اسئلة التوجيه في مادة الجغرافيا	4
نماذج اختبارات في مادة الجغرافيا	5

توقعات ليلة الامتحان أسئلة امتحانات تجريبية قصير (أ)



مبادئ علم الجغرافيا
وعلم الاقتصاد
الفصل الدراسي الثاني
2025 - 2024

السؤال الأول (موضوعي):

٢ - شاهد خريطة العالم المعروضة ثم أجب عن الأسئلة التالية :



1 - أكبر المحيطات مساحة الذي يحمل الحرف ()

2 - تيار كاليفورنيا الذي يحمل الرقم ()

٣ - أكتبي عما تدل عليه الصور:



٣ - أكمل الشكل التالي:

المقترضون

المقرضين

الأفراد

الأسواق المالية

المؤسسات

الحكومة

السؤال الثاني (مقالي):

٢ - علي لما يأتي :

١ - تتعدد وظائف البنوك التجارية

٢ - تتسم مياه البحار والمحيطات بمجموعة من الخصائص الطبيعية والكيميائية

موقع
المنهج الكويتية
almanahj.com/kw

٣ - حدوث حركة المد والجزر

٢ - قارن بين:

التيارات الدافئة	التيارات الباردة	معيار المقارنة
		التعريف
		الأمثلة

٣ - عرف ما يلي :

١ - طول الموجة :-

٢ - الأسهم :-

مع أطيب التمنيات بالنجاح والتوفيق،،،

السؤال الأول (موضوعي):

٢ - شاهد خريطة العالم المعروضة ثم أجب عن الأسئلة التالية :



1 - يقع خندق سوندا في المحيط الذي يحمل الرقم ()

2 - تيار البرازيل يحمل الحرف ()

٣ - أكتبي عما تدل عليه الصور:



٣ - اكتب المصطلح العلمي الدال علي العبارات التالية :

1 - () مجموعة القواعد والإجراءات التي تنظم أسواق ومؤسسات معينة يتم بها بيع وشراء الخدمات المالية والتأمين.

2 - () أوراق غير النقدية قابلة للتداول بين الأفراد والشركات والمؤسسات بالطرق التجارية لها شروط محددة تخصم لدي البنك التجاري ومن أشكالها الكمبيالة والشيك.

السؤال الثاني (مقالي):

٢ - ماذا يحدث لو: انعدام الغلاف المائي:

٢ - اذكر اثنان من كلا من :

١ - حركات مياه البحار والمحيطات



٢ - عوامل تباين نسبة ملوحة مياه البحار والمحيطات

٣ - أشكال المؤسسات المالية في الدولة

٢ - قارن بين كلاً من:

وجه المقارنة	السهم	السند
التعريف		

السؤال الأول (موضوعي):

٢ - اكتب الحرف (أ) اذا كانت العبارتين صحيحة والحرف (ب) اذا كانت العبارتين خطأ
والحرف (ج) اذا كانت احدي العبارتين صحيحة والاخرى خطأ

الحرف	العبرة الثانية	العبرة الأولى
()	1 - أصغر المحيطات المحيط الهادي	1 - تغطي نسبة البحار والمحيطات 75%
موقع () المنهج الكويتية almanahj.com/kw ()	2 - أكبر عمليات المد في خليج فوندي	2 - المياه السطحية أعلى حرارة من المياه العميقة
()	3 - أمواج تسونامي تحدث بفعل الزلازل البحرية	3 - يعد تيار كناري من التيارات الدفينة

٢ - اكتب المصطلحات العلمية حسب ما يناسبها في الجدول :

البنك المركزي - البنوك التجارية - القروض - شهادات الأيداع - الأوراق التجارية

المصطلح	التعريف
	شهادات تصدر عن البنك التجاري تثبت إيداع مبلغ معين بعوائد وبفترة وجيزة
	البنك المسؤول عن الجهاز المصرفي وتنظيم إصدار النقد ويشرف ويراقب علي العمليات المصرفية
	تزويد الأفراد والمؤسسات بالمبالغ النقدية المطلوبة علي أن يتعهد المدين بسدادها
	المؤسسات المالية التي تقبل الودائع من الأفراد والهيئات والمؤسسات بحيث تستخدمها في منح القروض والسلف

٣ - اختر الاجابة الصحيحة من بين البدائل التالية :

١ - تبلغ نسبة اليابس علي سطح الكرة الأرضية
(26 % - 27 % - 28 % - 29 %)

٢ - أكبر المسطحات المائية المحيط
(الهادي - الأطلنطي - المتجمد الشمالي - الهندي)

السؤال الثاني (مقالي):

٢ - اقرأ الفقرة التالية ثم أجب عما يلي

« تعد التيارات البحرية أحد أشكال حركة مياه البحر وهي عبارة عن تحرك للكتلة السطحية من مياه المسطح المائي من مكان لآخر وتتميز بعدة خصائص تميزها عن بقية المسطح المائي الذي تتحرك فيه »

١ - عرف ما تحته خط

٢ - علل نشأة التيارات البحرية

٢ - قارن بين كلاً من:

البنوك المتخصصة	البنوك التجارية	وجه المقارنة
		التعريف
		الوظائف

٣ - أجب عما يلي :

١ - أهمية الغلاف المائي

٢ - وظائف البنك المركزي

السؤال الأول (موضوعي):

٢ - (ظلل المربع المناسب للإجابة الصحيحة المقابلة للعبارات التالية:

العبرة	الاستراتوسفير	الميزوسفير	التروبوسفير	الثيرموسفير
تخترقها الشهب والنيازك				
تنشأ فيها السحب والعواصف والتيارات الصاعدة				
تمتاز بخفة وزنها وبغازاتها الطيارة الخفيفة جدا				
تتضمن طبقة الأوزون				

٢ - أكمل الشكل التالي :



٢ - اكتب ما تمثله الأجهزة التالية :



السؤال الثاني (مقالي):

٢ - قارن بين كلا من :

عوامل تؤثر في الاشعاع الشمسي	عوامل اختلاف درجة حرارة الهواء

٢ - علل لما يأتي :

١ - يتأثر الضغط الجوي بعدة عوامل

٢ - أهمية الغلاف الجوي

٣ - ماذا يحدث في الحالات التالية :

١ - في حال حجم الصادرات أكبر من حجم الواردات

٢ - في حال حجم الصادرات أقل من حجم الواردات

مع أطيب التمنيات بالنجاح والتوفيق،،،

السؤال الأول (موضوعي):

٥ - ظلل المربع المناسب للإجابة الصحيحة المقابلة للعبارات التالية:

غياب شبه كلي لبخار الماء - تخترقها الشهب والنيازك - ينشأ فيها السحب والعواصف - تمتاز خفة وزنها وبغازاتها الطيارة - طبقة الأوزون - تتميز بارتفاع درجة حرارة الهواء - تتركز بها الجزيئات الأيونية - تحدث فيها التيارات الصاعدة والهابطة

الميزوسفير	التروبوسفير	الثيرموسفير	الاستراتوسفير

٦ - اختر من المجموعة الأولى بما يناسبها من المجموعة الثانية

1 - قيام الدولة والأفراد بشراء السلع والخدمات	الصادرات
2 - ضريبة تفرض على السلعة في حال عبورها	نظام الحصص
3 - قيام الدولة ببيع السلع والخدمات	الاتفاقيات التجارية
4 - القيد الكمي على كمية أو قيمة السلع	الواردات
	التعريف الجمركية

٧ - اختر الاجابة الصحيحة من بين البدائل التالية :

١ - النسبة التي تمثل نسبة الأشعة الضوئية

أ 43% ب 44%- ج 45% د 46%

٢ - الفرق بين درجة الحرارة اليومية القصوي ودرجة الحرارة اليومية الدنيا

المتوسط اليومي - المدى الحراري - المتوسط الشهري - النطاقات المناخية

$-\theta$

شاهد الشكل المعروض ثم أجب عن الأسئلة التالية :



- ٢

ارسم أعمدة بيانية تمثل نسبة الأشعة المكتسبة في المربع الذي أمامك



اقرأ الجدول الذي أمامك ثم أجب عن الأسئلة التالية :

—)

احسب المتوسط اليومي لدرجة الحرارة ليوم الأحد

— ٢

احسب المدي الحراري ليوم الثلاثاء

—)

« قيود التصدير التطوعية من أهم القيود الغير جمركية »

مع أطيب التمنيات بالنجاح والتوفيق،،،

السؤال الأول (موضوعي):

٥ - صحح ما تحته خط :

١ - متوسط التتابع المنتظم لأحوال الطقس خلال مدة زمنية طويلة تعرف بالطقس ()

٢ - تبلغ نسبة الأشعة المفقودة حوالي %66 ()

٣ - 3-طبقة التروبوز طبقة انتقالية بين طبقة التروبوسفير والميزوسفير ()

٤ - مجموع متوسطات حرارة كل أيام الشهر مقسومة علي عدد أيام هذا الشهر يعرف بالمتوسط اليومي ()

٥ - أكمل الشكل التالي :

	الصادرات
القيود غير الجمركية	

٥ - شاهد الشكل التالي ثم أكمل الناقص :



السؤال الثاني (مقالي):

١ - ماذا يحدث لو انعدام الغلاف الجوي

٢ - حول درجة الحرارة المئوية الي فهرنهايت والعكس

1 - 55 فهرنهايت

2-13 مئوية



٣ - قارن بين كلا من :

وجه المقارنة	منطقة التجارة الحرة الأوروبية	اتفاقية التجارة الحرة لشمال أمريكا
سنة التأسيس		
الدول		

مع أطيب التمنيات بالنجاح والتوفيق،،،

السؤال الأول (موضوعي):

θ - ضع علامة صح أمام العبارة التي تناسبها في المربع :

العبارة	القبلي	السموم	الخماسين	السيروكو	الفهن الجبلية
عدد أيام هبوبها 50 يوما					
تهب من شمال إيطاليا متجهة إلي وسط أوروبا					
تهب من جنوب شبه الجزيرة العربية وتتجه شمالا لتصل إلي بلاد الشام					
تهب من الصحراء الكبرى محملة بالرمال الدقيقة ويتركز تأثيرها علي السواحل الشمالية من ليبيا					
تهب من الصحراء الكبرى متجهة نحو سواحل تونس والجزائر والمغرب					

س - ما الرابط الذي يجمع بين الكلمات التالية :

الموارد الطبيعية + رأس المال البشري + الموقع الجغرافي =

بنك الكويت المركزي + وزارة المالية + هيئة سوق المال =

هـ - سجل نوع الرياح التي تمثلها الخرائط :



السؤال الثاني (مقالي):

ث - قارن بالرسم :

وجه المقارنة	نسيم البر	نسيم البحر
الرسم		

ج - علل لما يأتي:

١ - تعدد طرق تنويع مصادر الدخل بعيدا عن النفط

٢ - أهم التحديات الرئيسية التي يواجهها الاقتصاد الكويتي

هـ - دلل علي صحة العبارة التالية :

١ - « علي الرغم من الأضرار التي تسببها رياح الخماسين الا انها لها فوائد مهمة »

مع أطيب التمنيات بالنجاح والتوفيق،،،

السؤال الأول (موضوعي):

θ - أضيفي عنصرا إلى العناصر التالية :

1 - الرياح الدائمة:

التجارية		العكسية الغربية
----------	--	-----------------

2 - مظاهر التكاثف علي سطح الأرض:

الضباب	الندى	موقع المنهج الكويتية almanahj.com/kw
--------	-------	--

3 - أنواع الأمطار:

الحملي		
--------	--	--

ب - اكمل المخطط السهمي التالي :



ب - شاهد الصورة ثم أكتب ما تمثله الصور :



السؤال الثاني (مقالي):

٥ - اقرأ الفقرة التالية ثم أجيب عما يلي :

التكاثف هو تحول بخار الماء الموجود في الجو من حالته الغازية إلى الحالة السائلة أو الصلبة عن طريق تبريدها وتكاثفها أو أنها في نفس الوقت من الحالة الغازية إلى الصلبة مباشرة عن طريق ما يسمى بعملية (التسامي)

١ - استخرج من الفقرة مفهومين مختلفان :

المعيار	الأول	الثاني
المفهوم		
التعريف		

٢ - ارسم في المربع الذي أمامك كيفية تشكل الندى :

ب - قارن بالشرح بين كلا ما :

وجه المقارنة	نسيم الوادي	نسيم الجبل
الشرح		

ج - أجب (تتخلص أهم مقومات الاقتصاد الكويتي في ثلاث ركائز أساسية)

مع أطيب التمنيات بالنجاح والتوفيق،،،

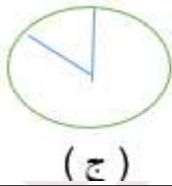
السؤال الأول (موضوعي):

٢ - شاهد خريطة الوطن العربي الذي أمامك ثم أجب عما يلي:

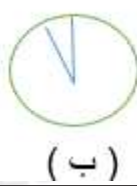


- 1 - رياح الخماسين تمثل رقم ()
2 - رياح القبلي تمثل رقم ()
3 - رياح المسترال تمثل رقم ()

٣ - اختر القطاعات الدائرية التي تناسب العبارات التالية :



(ج)



(ب)



(أ)

الحرف	العبرة
	مساهمة النفط من الناتج المحلي لدولة الكويت
	نصيب الإيرادات النفطية

٣ - اختر الإجابة الصحيحة من بين البدائل التالية :

- ١ - يشبه الندي من حيث أوقات مواقع تكونه الا انه يختلف عنه في النشأة والتكوين
(الضباب - البرد - الندي - الصقيع)
٢ - رياح محلية تهب فوق القسمين الأوسط والجنوبي من الولايات المتحدة الأمريكية
(مسترال - النورثر - الفهن الجبلية - السولانو)

السؤال الثاني (مقالي):

٥ - شاهد الصور ثم أكمل الجدول :

		
اسم الظاهرة		
الشرح		

موقع
المناهج الكويتية
almanah.com/kw

٦ - شاهد الرسم البياني ثم أجب :



١ - ماذا يمثل الرسم البياني المعروض ؟

٢ - أكمل :- الدولة التي أصبحت ثاني أكبر اقتصاد عالمي بعد الولايات المتحدة الأمريكية هي .






٣ - قارن بالرسم :-

وجه المقارنة	الأمطار الإعصارية	الأمطار التضاريسية
الرسم		

مع أطيب التمنيات بالنجاح والتوفيق ،،،

السؤال الأول (موضوعي):

θ - اكتب ما تعبر عنه الاشكال والرسومات التالية :

الشكل	ما عما يمثله
	
	
	
	
	

س - اختر العنصر الذي لا ينتمي إلى العناصر التالية :-

- 1 - الأسهم - القروض - السندات ()
- 2 - بنك الحكومة - بنك الإصدار - شهادات الإيداع ()
- 3 - البنوك التجارية- نظام الحصص- القيود الإدارية والفنية ()

هـ - شاهد الخريطة التي أمامك ثم أجب عما يلي :



- 1 - تيار اليابان يمثل الحرف ()
- 2 - تيار بنجويلا يمثل الحرف ()
- 3 - أصغر المحيطات يمثل الرقم ()
- 4 - أضحل المحيطات يمثل الرقم ()

السؤال الثاني(مقالي):

ث - ماذا يحدث لو اعدام :

١ - الغلاف الجوي

٢ - الغلاف المائي

س - شاهد الخريطة المعروضة ثم أجب عما يلي :



هـ - علل لما يأتي :-

١ - ارتفاع درجة حرارة هواء السواحل الجنوبية الشرقية للولايات المتحدة الأمريكية بأكثر من 10 م عنها السواحل الغربية

٢ - عوامل اختلاف درجة حرارة الهواء من مكان لآخر

و - عدد اثنان من كلا من :

١ - وظائف البنك المركزي

٢ - مقومات التبادل التجاري

٣ - مقومات الاقتصاد الكويتي



احرص على اقتناء سلسلة منصة البلاطي

- كتاب الشرح.
- كتاب الأسئلة.
- كتاب إجابة الأسئلة.
- المراجعة النهائية (الأسئلة - الإجابة).
- توقعات ليلة الامتحان (الأسئلة - الإجابة).
- كبسولة ليلة الامتحان.
- برشامة ليلة الامتحان.

موقع
المنهج الكويتية
almanahj.com/kw



11 مبادئ علم الجغرافيا
وعلم الاقتصاد
الفصل الدراسي الثاني
2025 - 2024

استمتع بتجربة التعلم
مع منصة البلاطي

