

تم تحميل هذا الملف من موقع ملفات الكويت التعليمية



[com.kwedufiles.www//:https](https://www.kwedufiles.com)

*للحصول على أوراق عمل لجميع الصفوف وجميع المواد اضغط هنا

* للحصول على أوراق عمل لجميع مواد الصف الخامس اضغط هنا

<https://kwedufiles.com/5>

* للحصول على جميع أوراق الصف الخامس في مادة علوم وجميع الفصول, اضغط هنا

<https://kwedufiles.com/5science>

* للحصول على أوراق عمل لجميع مواد الصف الخامس في مادة علوم الخاصة بـ الفصل الأول اضغط هنا

<https://www.kwedufiles.com/5science1>

* لتحميل كتب جميع المواد في جميع الفصول للـ الصف الخامس اضغط هنا

<https://www.kwedufiles.com/grade5>

* لتحميل جميع ملفات المدرس اللجنة الفنية المشتركة للعلوم اضغط هنا

[bot_kwlinks/me.t//:https](https://t.me/bot_kwlinks)

للحصول على جميع روابط الصفوف على تلغرام وفيسبوك من قنوات وصفحات: اضغط هنا

الروابط التالية هي روابط الصف الخامس على مواقع التواصل الاجتماعي

مجموعة الفيسبوك

صفحة الفيسبوك

مجموعة التلغرام

بوت التلغرام

قناة التلغرام

رياضيات على التلغرام



بنك أسئلة للصف الخامس للفصل الدراسي الأول
للعام الدراسي ٢٠١٩-٢٠٢٠ م
نموذج (٥)

أولاً : الأسئلة الموضوعية

السؤال الأول : اختر الإجابة الصحيحة علمياً لكل من العبارات التالية بوضع علامة (✓) في المربع المقابل لها:

١- الكوكب الذي تحيط به حلقات لامعة ويمتاز بضغط جوي عال هو كوكب:

☐ الزهرة ☐ المشتري ☐ نبتون ☐ زحل

٢- العضو الذي يخض و يخلط الطعام ويحوّله لسائل هو :

☐ المعدة ☐ الأمعاء الدقيقة ☐ الأمعاء الغليظة ☐ المريء

٣- حالة تنتج عن تمزق الأوعية الدموية وفقدان الدم من الجهاز الدوري :

☐ الإغماء ☐ الغثيان ☐ النزيف ☐ الكسور

٤- النظام المتكامل الذي يحتوي على الكائنات الحية وعناصر غير حية:

☐ النظام البيئي ☐ السلاسل الغذائية ☐ الموطن الطبيعي ☐ النظام الغذائي

٥- الاحتباس الحراري ظاهرة علمية تتمثل بازدياد حراره الغلاف الجوي نتيجة زياده كمية:

☐ غاز الاكسجين ☐ غاز الاوزن ☐ غاز ثاني اكسيد الكربون ☐ غاز الهليوم

السؤال الثاني : أكتب بين القوسين كلمة (صحيحة) للعبارة الصحيحة وكلمة (خطأ)

للعبارة غير الصحيحة في كل مما يأتي:

١- المشتري هو أكبر كواكب النظام الشمسي . (-----)

٢- مده دوران الأرض حول محورها هي ٣٦٥ يوم . (-----)

٣- الحجاب الحاجز يؤدي دور كبير في عملية الهضم . (-----)

٤- من الأعراض المصاحبة لكسور العظام الرّعاف . (-----)

٥- طبقة الستراتوسفير هي الطبقة القريبة من الارض. (-----)

السؤال الثالث: أكتب بين القوسين الاسم أو المصطلح العلمي الدال على كل عبارة من العبارات التالية :-

- ١ - الخط الوهمي المائل الذي يمر بالقطبين الشمالي والجنوبي للأرض . (-----)
- ٢ - الشمس والكواكب الثمانية وأقمارها وغير ذلك من أجسام تدور حول الشمس . (-----)
- ٣ - غاز ينشأ بتأثير الأشعة فوق البنفسجية ويتكون من ثلاث ذرات اكسجين . (-----)
- ٤ - نسيج قوي مرن يمسك العظام معا عند المفاصل . (-----)
- ٥ - الإجراءات التي يمكن تقديمها للمصاب في مكان الحادث . (-----)

السؤال الرابع: في الجدول التالي اختر العبارة أو الشكل من المجموعة (ب) وأكتب رقمها أمام

ما يناسبها من عبارات المجموعة (أ) :

الرقم	المجموعة (أ)	المجموعة (ب)
()	طبقة الغلاف الجوي التي تحوي غاز الأوزون.	١ - الثيرموسفير
()	طبقة الغلاف الجوي التي تحدث فيها الظواهر الطبيعية.	٢ - الستراتوسفير
		٣ - التروبوسفير
()	عضو في الجهاز الهضمي .	١ - الأعصاب
()	عضو في الجهاز التنفسي .	٢ - الرنتان
		٣ - الأمعاء الدقيقة

السؤال الخامس: أكتب بين القوسين كلمة (صحيحة) للعبارة الصحيحة وكلمة (خطأ)

للعبارات غير الصحيحة مع تصحيح الخطأ فيما يلي :

- ١ - تمنع المفاصل احتكاك العظام ببعضها بعضا . (-----)
- ٢ - تدور الأقمار الصناعية في طبقة الثيرموسفير . (-----)
- ٣ - من الممارسات الآمنة للحفاظ على الغلاف الجوي استخدام المبيدات الحشرية الكيميائية . (-----)

السؤال السادس: قارن بين كل مما يلي:

أوجه المقارنة	كوكب الزهرة	كوكب أورانوس
درجة الحرارة

أوجه المقارنة	كريات الدم الحمراء	كريات الدم البيضاء
الوظيفة

السؤال السابع: علل لكل مما يلي تعليلا علميا سليما:

١- يُسمّى الأرض بكوكب الحياة .

٢- أهمية الصفائح الدموية عند النزيف .

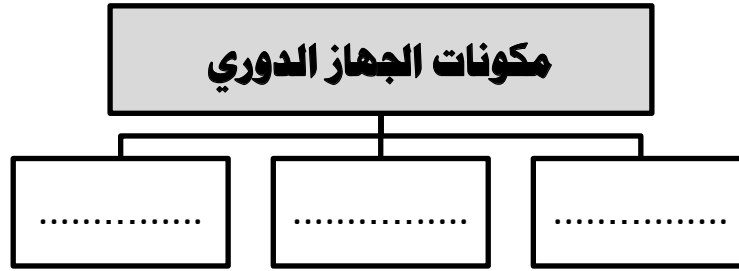
السؤال الثامن: اجب عن الاسئلة التالية :

١- عدد اثنان من الممارسات غير الآمنة والتي تؤثر على الغلاف الجوي؟

٢- تقل قدرة رائد الفضاء على التوازن أثناء وجوده في الفضاء (فسر سبب ذلك) .

السؤال التاسع: اكمل المخطط السهمي التالي:

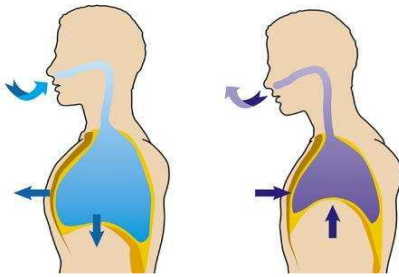
- ١



- ٢



السؤال العاشر: أكتب البيانات على الرسم التالي :-



٢

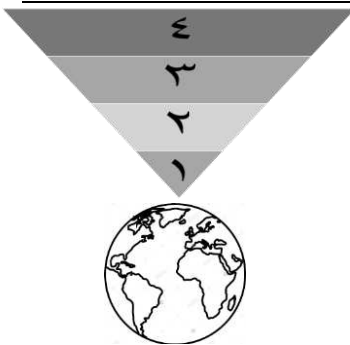
١

أ- الشكل يوضح عملية التنفس اجب عن المطلوب:

١- رقم (١) يوضح عملية

٢- رقم (٢) يوضح عملية

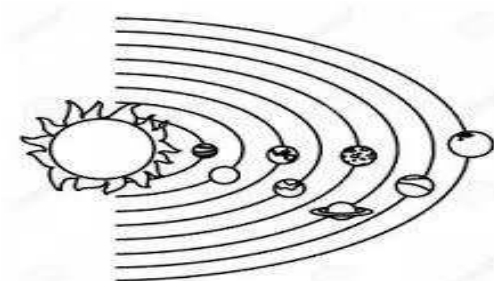
ب- من خلال دراستك لخصائص طبقات الغلاف الجوي أجب عن المطلوب باستخدام الأرقام:



١- الطبقة التي تحمي الأرض من خطر الشهب يمثلها الرقم

٢- أكثر طبقات الأرض حرارة يمثلها الرقم

ج- ادرس الرسم الذي أمامك ثم أجب عن المطلوب :



١- الشكل الذي أمامك يوضح

٢- حوط كوكب الأرض