

تم تحميل هذا الملف من موقع المناهج الكويتية



مدرسة التميز النموذجية

الملف نموذج اختبار قصير ثاني

[موقع المناهج](#) ← [المناهج الكويتية](#) ← [الصف السابع](#) ← [اجتماعيات](#) ← [الفصل الثاني](#)

روابط مواقع التواصل الاجتماعي بحسب الصف السابع



روابط مواد الصف السابع على تلغرام

[الرياضيات](#)

[اللغة الانجليزية](#)

[اللغة العربية](#)

[التربية الاسلامية](#)

المزيد من الملفات بحسب الصف السابع والمادة اجتماعيات في الفصل الثاني

مذكرة موضوعية محلولة	1
حل الكتاب	2
حل الوحدة الرابعة في مادة الاجتماعيات	3
بنك اسئلة التربة سابع	4
مراجعات الصف السابع	5



الفصل الدراسي الثاني ٢٠٢٤م

للمصف السابع

أوراق عمل مادة الكويت والوطن العربي الوحدة الثالثة



إعداد
قسم الاجتماعيات



مدرسة التميز النموذجية



(ورقة عمل ١)

(نمو السكان وتوزيعهم في الوطن العربي)

السؤال الأول : أكمل العبارات التالية بما يناسبها ؟

- ١- يبلغ عدد دول الوطن العربي دولة
- ٢- يبلغ عدد سكان الوطن العربي حوالي مليون نسمة
- ٣- أُجري أول تعداد للسكان في دولة الكويت عام
- ٤- أكبر دول الوطن العربي سكاناً هي
- ٥- أصغر دول الوطن العربي سكاناً هي
- ٦- نسبة سكان الوطن العربي في الجناح الأفريقي هو % والجناح الآسيوي %

السؤال الثاني : أجب عما يلي ؟

ما أهمية التعداد السكان

- أ-.....
- ب-.....

مدرسة التميز النموذجية

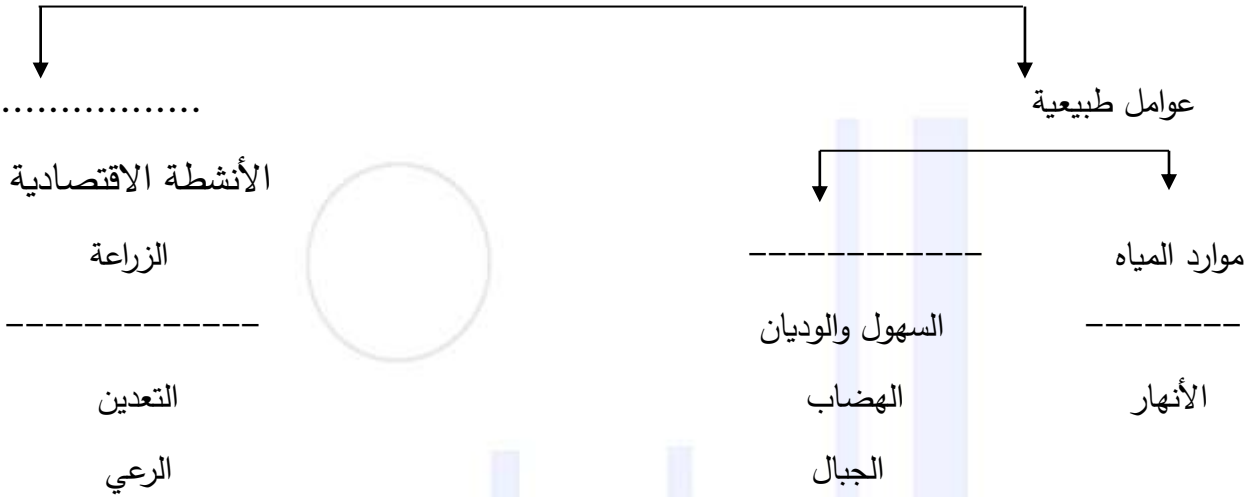


(ورقة عمل ٢)

٢ - الكثافة السكانية في الوطن العربي

السؤال الأول : أكمل المخططات السهمية التالية ؟

العوامل المؤثرة في توزيع السكان



السؤال الثاني: علل لما يأتي ؟

١- صعوبة العيش في المناطق الجبلية

مدرسة التميز النموذجية



(ورقة عمل ٣)

النمو السكاني في الوطن العربي

السؤال الأول : أكمل العبارات التالية بكلمات مناسبة

- ١- يبلغ معدل النمو السنوي للسكان في الوطن العربي حوالي%
- ٢- يبلغ معدل النمو العالمي للسكان حوالي%
- ٣- الهجرة نوعان : (----- و -----)

السؤال الثاني : فرق بين الزيادة الطبيعية والغير طبيعية

الزيادة غير الطبيعية	الزيادة الطبيعية
-----	-----
-----	-----

السؤال الثالث : عل لما يأتي

مدرسة التميز النموذجية

- ٢ - أسباب هجرة الأيدي العاملة من آسيا إلى بعض دول الوطن العربي

أ- ب-



(الموارد الاقتصادية في الوطن العربي)

السؤال الأول : أكمل العبارات التالية

- نسبة مساهمة القطاع الزراعي في الأقتصاد العربي يبلغ.....%
- نسبة مساهمة القطاع الصناعي في الأقتصاد العربي يبلغ.....%
- نسبة مساهمة الخدمات العامة في الأقتصاد العربي يبلغ.....%

- علل: أهمية الزراعة في الوطن العربي؟


السؤال الثاني : أكمل المخططات السهمية التالية

العوامل الطبيعية للإنتاج الزراعي



مدرسة التميز النموذجية

العوامل البشرية للإنتاج الزراعي





(ورقة عمل ٥)

(المحاصيل الزراعية في الوطن العربي)

السؤال الأول : أكمل المخطط السهمي التالي

أهم المحاصيل الزراعية في الوطن العربي



الحبوب الغذائية

السؤال الثاني : استعن بالكتاب المدرسي ص ١٤ ثم أكمل العبارات التالية :

- الدولة العربية التي تحتل المركز الأول في كل من القمح الذرة والأرز هي.....
- الدولة العربية الأولى في إنتاج الشعير هي
- الدولة العربية الأولى في إنتاج الموز هي
- الدولة العربية الأولى في إنتاج البن هي
- الدولة العربية الأولى في إنتاج التمور هي
- الدولة العربية الأولى في إنتاج العنب هي

مدرسة التميز النموذجية

٢- أجب عما يلي

١- ما المشكلات التي تعاني منها الزراعة في الوطن العربي ؟

أ-.....

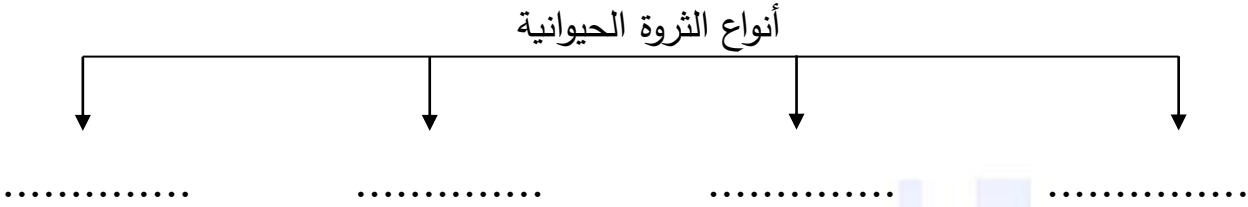
ب-.....



(ورقة عمل ٦)

(الإنتاج الحيواني في الوطن العربي)

السؤال الأول : أكمل المخطط السهمي التالي



السؤال الثاني : أكمل العبارات التالية :

- الدولة العربية التي تحتل المراكز الأولى في الثروة الرعوية تسمى.....
- الدولة العربية التي تحتل المركز الأول في إنتاج الإبل تسمى
- الدولة العربية الأولى في إنتاج الأغنام تسمى
- الدولة العربية الأولى في إنتاج الأسماك تسمى

السؤال الثالث : علل لما يأتي

مدرسة التميز النموذجية

١- تحتل الأغنام مكاناً مهماً ضمن الثروة الرعوية في الوطن العربي.

أ-.....

ب-.....

٢- مساهمة مصر بأكثر من ثلث الإنتاج العربي من الأسماك.

.....



(إجابة ورقة عمل ١)

(نمو السكان وتوزيعهم في الوطن العربي)

السؤال الأول : أكمل العبارات التالية بما يناسبها ؟

- ١- يبلغ عدد دول الوطن العربي٢٢..... دولة
- ٢- يبلغ عدد سكان الوطن العربي حوالي٣٨٢,٠٠٩ مليون نسمة
- ٣- أُجري أول تعداد للسكان في دولة الكويت عام١٩٥٧.....
- ٤- أكبر دول الوطن العربي سكاناً هيمصر.....
- ٥- أصغر دول الوطن العربي سكاناً هيالبحرين.....
- ٦- نسبة سكان الوطن العربي في الجناح الأفريقي هو ٧٠ % والجناح الآسيوي ٣٠ %

السؤال الثاني : أجب عما يلي ؟

ما أهمية التعداد السكان

الحصول على معلومات وافية عن السكان

مدرسة التميز النموذجية

- معرفة احتياجات السكان المختلفة

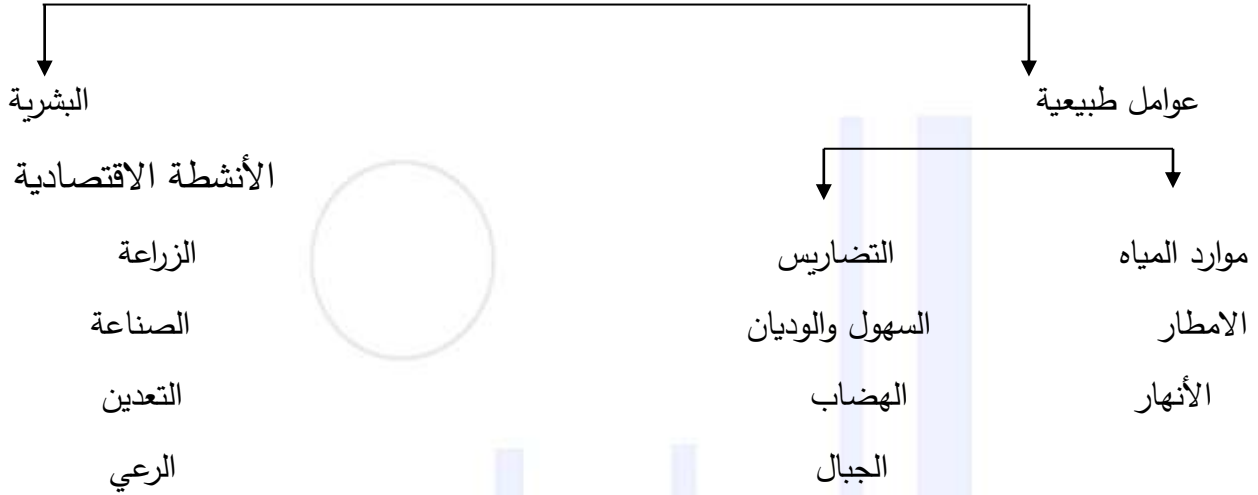


(إجابة ورقة عمل ٢)

٢- الكثافة السكانية في الوطن العربي

السؤال الأول : أكمل المخططات السهمية التالية ؟

العوامل المؤثرة في توزيع السكان



السؤال الثاني: علل لما يأتي ؟

٢- صعوبة العيش في المناطق الجبلية

صعوبة المواصلات

- قلة المياه العذبة .

مدرسة التميز النموذجية



(إجابة ورقة عمل ٣)

النمو السكاني في الوطن العربي

السؤال الأول : أكمل العبارات التالية بكلمات مناسبة

- ٤- يبلغ معدل النمو السنوي للسكان في الوطن العربي حوالي ٢,٢٠%
- ٥- يبلغ معدل النمو العالمي للسكان حوالي ١,٧%
- ٦- الهجرة نوعان : هجرة داخلية - هجرة خارجية)

السؤال الثاني : فرق بين الزيادة الطبيعية والغير طبيعية

الزيادة غير الطبيعية	الزيادة الطبيعية
الزيادة الناتجة عن الهجرة	الفرق بين عدد المواليد وعدد الوفيات

السؤال الثالث : عل لما يأتي

- ١- أسباب هجرة الأيدي العاملة من آسيا إلى بعض دول الوطن العربي
١ : توافر فرص العمل
٢: ارتفاع الأجور



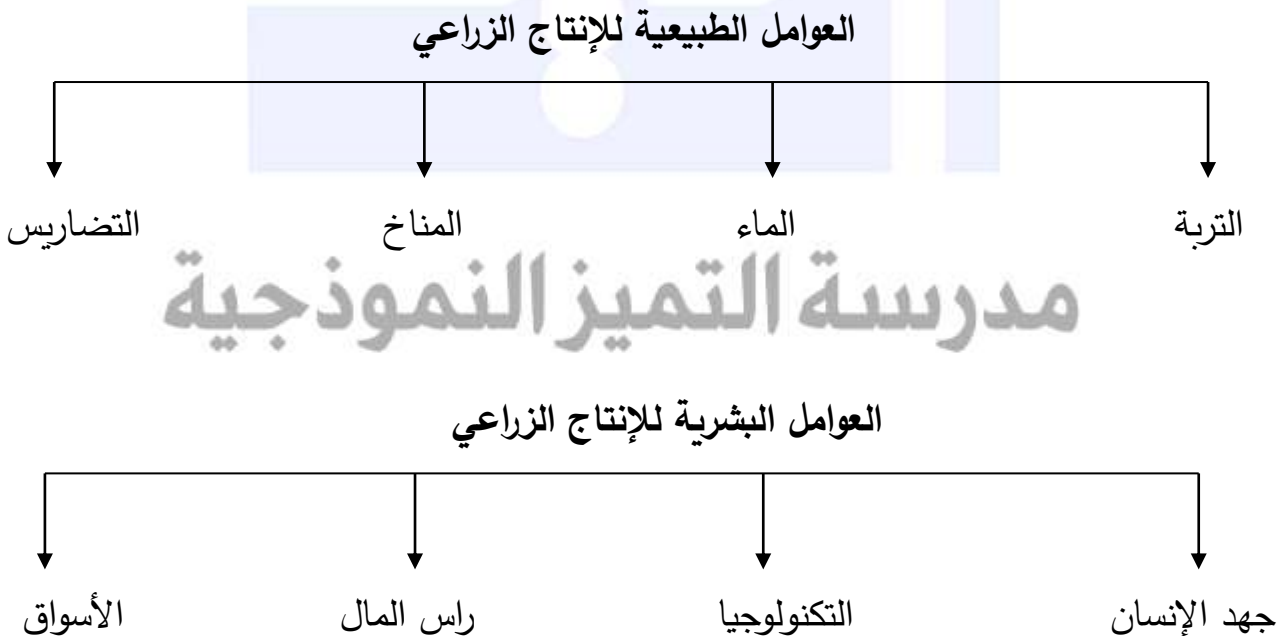
(إجابة ورقة عمل ٤)

(الموارد الاقتصادية في الوطن العربي)

السؤال الأول : أكمل العبارات التالية

- نسبة مساهمة القطاع الزراعي في الأقتصاد العربي يبلغ. ٥٠ %
- نسبة مساهمة القطاع الصناعي في الأقتصاد العربي يبلغ ٢٠ %
- نسبة مساهمة الخدمات العامة في الأقتصاد العربي يبلغ ٣٠ %
- علل: أهمية الزراعة في الوطن العربي؟
- توفير الغذاء
- -توافر فرص العمل

السؤال الثاني : أكمل المخططات السهمية التالية



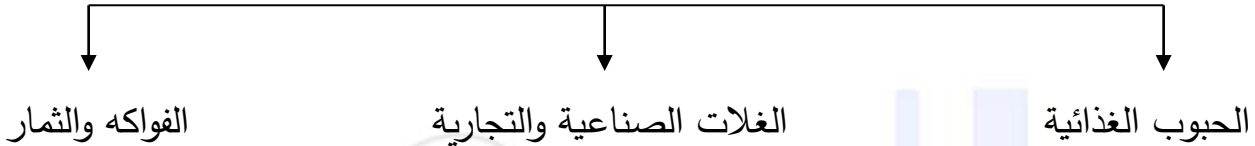


(إجابة ورقة عمل ٥)

(المحاصيل الزراعية في الوطن العربي)

السؤال الأول : أكمل المخطط السهمي التالي

أهم المحاصيل الزراعية في الوطن العربي



السؤال الثاني : استعن بالكتاب المدرسي ص ١٤ اثم أكمل العبارات التالية :

- الدولة العربية التي تحتل المركز الأول في كل من القمح الذرة والأرز هي مصر
- الدولة العربية الأولى في إنتاج الشعير هي المغرب
- الدولة العربية الأولى في إنتاج الموز هي الصومال
- الدولة العربية الأولى في إنتاج البن هي اليمن
- الدولة العربية الأولى في إنتاج التمور هي السعودية
- الدولة العربية الأولى في إنتاج العنب هي سوريا

٢- أجب عما يلي **مدرسة التميز النموذجية**

١- ما المشكلات التي تعاني منها الزراعة في الوطن العربي ؟

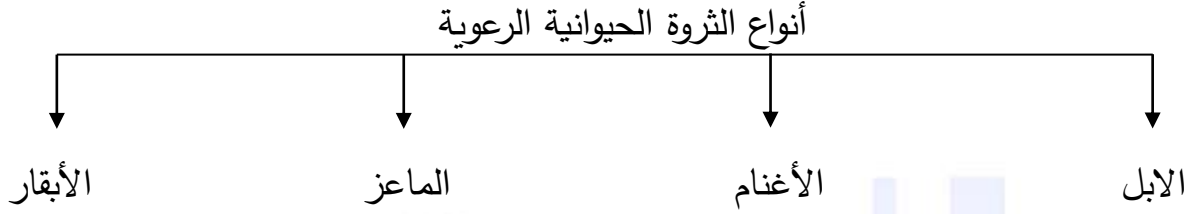
- نقص موارد المياه
- اعتماد بعض الأراضي على مياه الأمطار
- الأساليب القديمة في الزراعة
- قلة الأيدي العاملة



(إجابة ورقة عمل ٦)

(الإنتاج الحيواني في الوطن العربي)

السؤال الأول : أكمل المخطط السهمي التالي



السؤال الثاني : أكمل العبارات التالية :

- الدولة العربية التي تحتل المراكز الأولى في الثروة الرعوية تسمى السودان
- الدولة العربية التي تحتل المركز الأول في إنتاج الإبل تسمى الصومال
- الدولة العربية الأولى في إنتاج الأغنام تسمى السودان
- الدولة العربية الأولى في إنتاج الأسماك تسمى مصر

السؤال الثالث : علل لما يأتي

١- تحتل الأغنام مكاناً مهماً ضمن الثروة الرعوية في الوطن العربي.

أ- لتحملها الجفاف والتقل

ب- مصدر أساسي من مصادر الثروة القومية

٢- مساهمة مصر بأكثر من ثلث الإنتاج العربي من الأسماك.

كثرة المسطحات المائية - استخدام أساليب الصيد الحديثة



مدرسة التميز النموذجية
(ابتدائي - متوسط - ثانوي)
الجهاز الفني التربوي

منصات التميز التعليمية

لزيارة منصة التميز التعليمية في اليوتيوب امسح الباركود التالي :



لزيارة منصة التميز التعليمية في تليجرام امسح الباركود الخاص بقناة كل فصل مما يلي :



الصف الرابع



الصف الثالث



الصف الثاني



الصف الأول



الصف التاسع



الصف الثامن



الصف السابع



الصف السادس



الصف الخامس



الصف العاشر
أدبي



الصف العاشر
علمي



الصف الحادي عشر
علمي



الصف الحادي عشر
أدبي



الصف الثاني عشر



لزيارة صفحتنا في تويتر

لزيارة صفحتنا في الإنستقرام

عنواننا : خيطان - ق ٤ - ش ١٠٠