


تم تحميل هذا الملف من موقع المناهج الكويتية



الملف مراجعة الوحدة الأولى (دليل معالم الكويت الجغرافية والإقتصادية والحضارية)

[موقع المناهج](#) ⇌ [المناهج الكويتية](#) ⇌ [الصف العاشر](#) ⇌ [تاريخ](#) ⇌ [الفصل الأول](#)

روابط مواقع التواصل الاجتماعي بحسب الصف العاشر




روابط مواد الصف العاشر على تلغرام

الرياضيات	اللغة الانجليزية	اللغة العربية	التربية الاسلامية
---------------------------	----------------------------------	-------------------------------	-----------------------------------

المزيد من الملفات بحسب الصف العاشر والمادة تاريخ في الفصل الأول

مسودة كتاب الطالب لعام 2018	1
مذكرة ثانوية سلمان الفارسي	2
حل تقويم الكتاب في مادة التاريخ	3
نموذج احابة امتحان في مادة التاريخ للصف العاشر	4
مذكرة شهرزاد في مادة التاريخ	5

دليل تاريخ دولة الكويت - المراجعة الفصل الدراسي الأول



إعداد/ أ. محمد شبيب + أ. سعود المونس

إشراف وإخراج المذكرات

أ. سعود المونس - رئيس قسم الاجتماعيات

للاستفسار

www.q84s.com

قناة أ. سعود المونس
WWW.Q84S.COM



@Social_ar



@q84skw

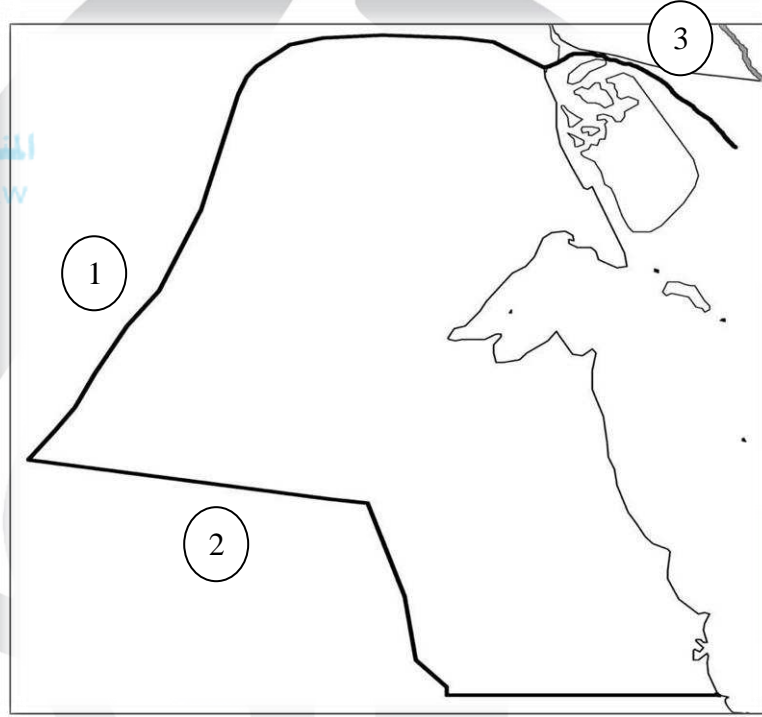
المقدمة

هذا العمل "النسخة الثالثة المحدثه" إهداء إلى إخواننا الطلبة وأولياء الأمور والمعلمين وهو خالص لوجه الله تعالى، يخدم المعلم في تحضير الدروس وإعداد الأسئلة والامتحانات واستحضار المعلومة كما يخدم المعلمين الجدد في ذلك، وللطالب في استذكار الدروس والمراجعة ومعرفة طرق صياغة الأسئلة والتدريب عليها، كما يساعد أولياء الأمور في تخفيض المصاريف الدراسية والحد من الدروس الخصوصية، وهذا الدليل لا يغني عن كتاب المادة الدراسية والذي يعتبر المرجع الأول للطالب والمعلم، ولا يسعنا إلا أن نتقدم بجزيل الشكر للموجهين الفنيين ومدراء المدارس وإدارة المناهج.

قناة أ. سعود المونس
WWW.Q84S.COM

السؤال الأول/ لاحظ الخرائط أمامك ثم أجب عما يليها:

❖ تمرين رقم 1



* دولة تحد دولة الكويت من جهة الشمال والشمال الغربي يمثلها الرقم 1 جمهورية العراق

* دولة تحد دولة الكويت من جهة الجنوب والجنوب الغربي يمثلها الرقم 2 المملكة العربية السعودية

فناة أ. سعود المونس
WWW.Q84S.COM

❖ تمرين رقم 2



موقع
المناهج الكويتية
almanahj.com/kw

ص25

*حافة جال الزور يمثلها الرقم.....2.....

ص25

*تلال واره يمثلها الرقم.....5.....

ص25

*سهل الروضتين يمثلها الرقم4.....

ص25

*تلال كراع المرو يمثلها الرقم3.....

ص25

*وادي الباطن يمثلها الرقم1.....

قناة أ. سعود المونس
WWW.Q84S.COM

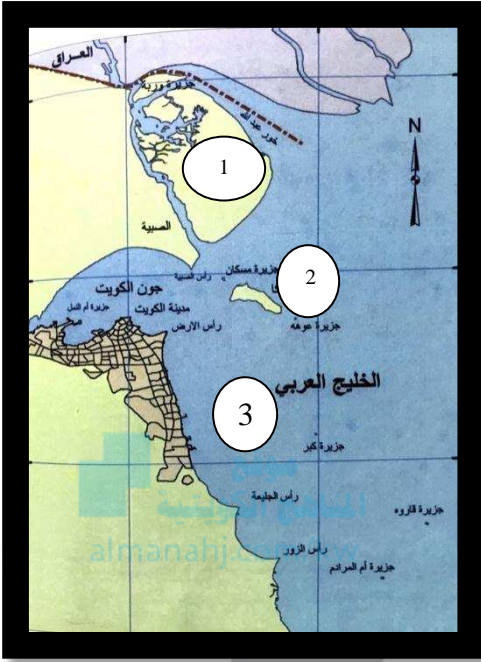
❖ تمرين رقم 3

* جزيرة كويتية تمثل ما نسبته 5٪ من المساحة الإجمالية للبلاد
 يمثلها الرقم 1....
ص28

* جزيرة كويتية شهدت تواجدًا سكانيًا إلى ما قبل الغزو العراقي
 الغاشم عام 1990م يمثلها الرقم 2....
ص29

* رتب الجزر الكويتية من الشمال إلى الجنوب:

جزيرة وربة / جزيرة بوبيان / جزيرة مسكان / جزيرة فيلكا /
 جزيرة أم النمل / جزيرة عوّهة / جزيرة كبر / جزيرة قاروه /
 جزيرة أم المرادم
ص28-29



السؤال الثاني/ صنف ما يلي في الجدول التالي:

أ- النباتات الموسمية والنباتات المعمرة.

الريلة - الحمض - التندا - جويضان

ص51

النباتات الموسمية	النباتات المعمرة
جويضان - الريلة	الحمض - التندا

قناة أ. سعود المونس
 WWW.Q84S.COM

السؤال الثالث/ أكمل العبارات التالية:

- 1- يحد دولة الكويت من جهة الشرق مسطح مائي يسمى الخليج العربي.
- 2- يحد دولة الكويت من جهة الشمال والشمال الغربي دولة تسمى جمهورية العراق.
- 3- تبلغ مساحة دولة الكويت 17,818 كلم مربع.
- 4- تقع الكويت بين دائرتي عرض 28,45-30,05 شمال خط الاستواء.
- 5- تقع الكويت بين خطي طول 46,30-48,30 شرق خط غرينتش.
- 6- ينحدر سطح دولة الكويت انحداراً تدريجياً من جهة الغرب إلى الشرق.
- 7- تمثل جزيرة بوبيان من المساحة الإجمالية لدولة الكويت ما نسبته 5%.
- 8- جزيرة كويتية شهدت تواجداً سكانياً سابقاً وأصبحت غير مأهولة بالسكان بعد الغزو العراقي عام 1990م تسمى فيلكا.
- 9- يبدأ طريق الحرير من ميناء يسمى كانتون.
- 10- ظهر اللؤلؤ الصناعي بعد العام 1928م.
- 11- مصطلح (دانة / قماشة) كان يطلق في الكويت قديماً على اللؤلؤ.
- 12- أصدر قانون الغواصين عام 1940م.
- 13- الحاكم الذي أصدر قانون الغواصين يسمى أحمد الجابر.
- 14- الحرفة الأساسية لسكان البادية في الكويت هي الرعي.
- 15- بدأ التنقيب الأثري في جزيرة فيلكا عام 1958م.

السؤال الرابع/ عرف المفاهيم التالية:

- 1- طريق الحرير: طريق تجاري مهم يبدأ من الصين وكان الأكثر استخداماً للتجارة الدولية في العالم القديم.
- 2- القمبار: الصيد بالإضاءة حيث يتجمع السمك حول سراج يحمله الصياد فيقوم بضربه بآلة حادة.
- 3- العمائر: هي مخازن للمواد المستخدمة في صناعة السفن.
- 4- الهيرات: هي منابت المحار المحتوي على اللؤلؤ.
- 5- النوخذة: قائد السفينة وربانها والمسؤول عنها وعن طاقمها.
- 6- المجدي: لقب كان يطلق على رئيس البحارة، والمسؤول عن إدارة السفينة من الداخل.

ص47

7- الغيص:

الشخص الذي يغوص في قاع البحر بحثاً عن المحار.

ص47

8- السيب:

الشخص المنوط به سحب الغيص للسطح عند شد الأخير الحبل (الأيد) بالإضافة إلى مهمة مساعدة الغيص في فتح المحار.

ص47

9- النهام:

الشخص الذي ينشد المواويل تشجيعاً لطاقم السفينة في رحلتهم.

ص47

10- الرضيف:

صغار السن الذين يقومون ببعض الأعمال الأقل من السيب.

ص47

11- الطواش:

تاجر اللؤلؤ.

ص49

12- الترانزيت:

هو إعادة تصدير الواردات.

ص54

13- الصخين:

أداة يصنعها الحداد وتستخدم للحفر.

السؤال الخامس/ علل لما يلي:

ص22

أ- الموقع الاستراتيجي لدولة الكويت بالنسبة لدول العالم

- 1- موقعها الذي يمثل النهاية الطبيعية للطريق الملاحي البحري والتجاري، الواقع على طريق الهند ومنطقة الشرق الأقصى.
- 2- تمثل دولة الكويت البوابة والمدخل الطبيعي لشمال شرق الجزيرة العربية، وتعد مركزاً لتجارة السكان الوافدين عليها من نجد والإحساء وبادية الشام.
- 3- شهرتها بأنها منطقة (ترانزيت)، أو منطقة لتجارة العبور قليلة الضرائب.
- 4- نشاط دولة الكويت البحري والتجاري، فهي أحد أهم الموانئ في شمال إقليم الإحساء، خاصة مع ظهورها البري وملحقاتها من الجزر.
- 5- تميز الكويتين بالمهارة في نقل التجارة بين موانئ الخليج وسواحل الهند والشرق الأفريقي.

ص28

ب- أهمية جزيرة فيلكا

- 1- بسبب ما تحتويه من إشارات ودلائل أثرية ومعمارية قديمة.
- 2- ذكرها الرحالة الغربيون في المصادر اليونانية والرومانية القديمة.
- 3- اهتمام البعثات الاستكشافية للكشف عن تاريخها الحضاري.

ص34

ج- تتميز الرياح الشمالية الغربية بالجفاف.

- بسبب المرتفع السيبيري المتمركز في القارة الآسيوية.

ص34

د- تتميز الرياح الجنوبية الشرقية بأنها رطبة ودافئة.
- بسبب تأثرها بالمنخفض السوداني.

ص39

هـ- زيادة أهمية النشاط الاقتصادي قديماً.

1- وجود الخليج العربي.

2- طريق الحرير.

3- تنوع الأنشطة الاقتصادية (النشاط البحري-النشاط البري-الحرف اليدوية).

ص42

و- توجه معظم سكان الكويت قديماً إلى النشاط البحر.

- بسبب موقع دولة الكويت الجغرافي، حيث تقع دولة الكويت في منطقة صحراوية شحيحة الموارد والأمطار، وتحتوي على أراضٍ غير صالحة للزراعة.

ص46

ز- كساد تجارة الغوص على اللؤلؤ عام 1928م

- بسبب ظهور اللؤلؤ الصناعي.

ص46

ح- أهمية قانون الغواصين عام 1940م

- لأنه ينظم علاقة العمل بين النوخة والبحار.

ص49

ط- تعتبر الكويت قديماً من المراكز التجارية المهمة.

- بسبب موقعها الجغرافي الاستراتيجي، حيث تربط الشرق بالغرب (نقطة ترانزيت).

ص52

ي- قلة الزراعة في دولة الكويت مقارنة بالنشاط البحري.

1- لأن الكويت بلد صحراوي يعاني من شح المياه وارتفاع درجة الحرارة.

2- عدم خصوبة التربة.

السؤال السادس/ دلل على صحة العبارات التالية:

ص39-40

أ- للخليج العربي أهمية اقتصادية قديماً.

1- يقع في موقع متوسط من قارات العالم القديم (آسيا-إفريقيا-أوروبا).

2- وجود مضيق هرمز الذي يربط بين خليج عمان والخليج العربي.

3- يعد الخليج العربي أحد أذرع المحيط الهندي في شبه الجزيرة العربية.

4- توافر الموارد الطبيعية البرية والبحرية، كالتمر واللؤلؤ.

5- توافر وسائل النقل برًا وبحرًا للبلدان المحيطة.

ص48

ب- لحرفة الغوص على اللؤلؤ أثر إيجابي على أهل الكويت قديماً.

1- تقوية العلاقات بين السكان وتأسيس قيم الصدق والأمانة.

2- الاحترام المتبادل وتكوين الأسرة الواحدة.

3- التعاون والتعاقد بالمجتمع.

4- الالتزام والطاعة.

ص58

ج- الأهمية الحضارية لدولة الكويت.
نتيجة لموقع دولة الكويت الجغرافي فقد ساهمت في التواصل الحضاري بين حضارات شمال الخليج العربي وجنوبه.

ص52

د- أهمية أشجار الأثل في الكويت قديماً.
أنها كانت تستخدم كمصدات للرياح.

السؤال السابع/ قارن بين ما يلي:

ص25-24

أ- أنواع التضاريس الجغرافية في دولة الكويت مع ذكر مثال لها.

هضاب	السهول	الأودية	التلال	نوع التضاريس
-الأحمدي	1-سهل الدبدبة 2-سهل برقان 3-سهل الروضتين	-وادي الباطن	1-حافة جال الزور 2-تلال كراع المرو 3-تلال اللياح 4-تلال وارة	أمثلة

ص34

ب-أنواع الرياح التي تهب في دولة الكويت ومميزاتها.

الرياح	المميزات وآثارها المناخية
الشمالية الغربية	رياح جافة بفعل المرتفع السيبيري المتمركز شمال القارة الآسيوية – تهب معظم أيام السنة – خافضة لدرجة الحرارة.
الجنوبية الشرقية (الكوس)	رياح رطبة دافئة – تهب من الجنوب الشرقي وتتأثر بالمنخفض السوداني – ترفع درجة الحرارة وتزيد من نسبة الرطوبة في فصل الصيف – تسهم باعتدال الجو في فصل الشتاء وتحمل معها المطر.
السموم	رياح جافة جداً تهب في الظهيرة – تخفض نسبة الرطوبة – تتميز بدرجات حرارة عالية – تهب من جهة الشمال أو الشمال الشرقي في فصل الصيف.
العواصف الترابية (السرايات)	عواصف ترابية تهب في أواخر الربيع وأوائل الصيف – مثيرة للغبار – مصحوبة بعواصف رعدية يسقط بسببها المطر الشديد.

السؤال الثامن/فرق بين ما يلي:

ص46

1-الدشة والقفال

القفال	الدشة
تعني انتهاء موسم الغوص.	بداية موسم الغوص على اللؤلؤ.

ص54

2-الأستاذ والقلاف

القلاف	الأستاذ
هو الذي يقوم بعملية إعداد المواد اللازمة للصناعة ثم يقوم ببناء السفينة.	هو الذي يقوم بتصميم السفينة.

ص55-54

3-المنز والرك

الرك	المنز
هو صندوق له فتحة من الأعلى لوضع المأكولات به.	هو السرير الذي ينام عليه الطفل قديمًا ويصنعه القفاص.

ص55

4-العدول والمزاود

المزاود	العدول
هي أكياس متوسطة الحجم لحفظ الطعام والملابس.	هي أكياس كبيرة لحفظ بعض أنواع الطعام توضع على ظهر الدابة ويوضع به حاجات الراكب أيضًا.

السؤال التاسع/ عدد كل من:

ص32

أ-أهم المناطق التي تحتوي على المياه الصالحة للاستهلاك الآدمي.

- 1-الروضتين.
- 2-أم العيش.
- 3-الصليبية.
- 4-العبدلي.
- 5-الوفرة.

ص54-55

ب - أبرز المهن الكويتية القديمة.

حرفة يدوية يُستخدم بها الخشب، لعب العاملون بها دورًا مهمًا لتوفير مواد البناء وغيرها من المستلزمات المنزلية قديمًا، ومن صناعات النجار: الأبواب والنوافذ والشداخة لصيد الفئران والصفائح لتصريف مياه الأمطار وألعاب الأطفال.	النجارة
حرفة يقوم العاملون بها بصناعة المسامير اللازمة لصناعة السفن قديمًا، وصناعة الأدوات المستخدمة في البناء والزراعة والأدوات المنزلية كالمنقاش والسكاكين والسلاسل والدوة وغيرها.	الحدادة
حرفة يقوم العاملون بها بصنع وتلميع القدور المستخدمة في المطبخ المصنوعة من النحاس.	الصفارة
حرفة يقوم العاملون بها باستخدام الصفائح المعدنية لصنع "المحقان" والعلب وأغطيبتها والطشوت وقوطي الجاز (الكروسين).	التنّك
حرفة يقوم العاملون بها باستخدام جريد النخيل وشبك بعضه ببعض لصنع أشكال مختلفة من الأقفاص، بالإضافة للمنز والرك وأسرّة الكبار.	القفاص
حرفة يقوم العاملون بها بخياطة الملابس كالبنشوت.	الحياكة
حرفة يقوم العاملون بها بتنجيد وصناعة المساند والفرش باستخدام القطن.	الندافة
حرفة سائدة كانت تزاولها المرأة في البادية قديمًا وتقوم على حياكة الصوف، حيث يعتبر أساس مكونات بيت الشعر، إضافة إلى الصناعات التي تتعلق بالسدو والمنسوجات الصوفية كالعباءات النسائية والبنشوت الرجالية.	غزل السدو

ص42-43

ج-أنواع الأنشطة الاقتصادية قديمًا.

- 1- النشاط البحري.
- 2- النشاط البري.
- 3- الحرف اليدوية.

ص43

د-أنواع الأسماك التي كانت تستخدم كغذاء في الكويت قديمًا.

- 1- الزبيدي.
- 2- الهامور.
- 3- الصبور.
- 4- النقرور.
- 5- الربيان.
- 6- البياح.
- 7- السبيطي.

ص43

هـ-أهم طرق صيد الأسماك قديماً.

- 1- الصيد بالشباك.
- 2- الصيد بالحظور.
- 3- الصيد بالقرقور.
- 4- الصيد بالإضاءة.
- 5- الصيد بالميدار (السنارة).

ص43

و-العوامل التي ساعدت على ازدهار صناعة السفن في الكويت قديماً.

- 1- هبوب الرياح الموسمية على منطقة الخليج العربي والتي تساعد على دفع السفن.
- 2- توفر الأيدي العاملة لصناعة السفن.
- 3- تمتع الكويت بواجهة بحرية طويلة تمتد من شمالها إلى جنوبها.
- 4- توفر مصادر المواد المستخدمة في صناعة السفن.
- 5- براعة الأساتذة والقلاليف في صناعة السفن.

ص52

ز-أهم النباتات البرية تنمو في الكويت.

- 1- العرفج.
- 2- الحنظل.
- 3- الحمض.
- 4- التنداء.
- 5- الارطاة.

ص58

ح-مراحل التطور الحضاري للكويت قديماً.

- 1- حضارة العبيد (5500-4500 ق.م) في منطقة الصبية.
- 2- الحضارة الدلمونية (النصف الثاني من الألف الأول ق.م) في جزيرتي أم النمل وفيلكا.
- 3- معركة ذات السلاسل (12 هـ الموافق 633م) في منطقة كاظمة.

السؤال العاشر/ اكتب في سطرين عن:

ص36-37

أ-أول تعداد سكاني رسمي لسكان الكويت.

تم أول تعداد سكاني رسمي موثق في عام 1957م، في عهد الأمير الراحل عبد الله السالم الصباح، وقد قامت بإجرائه دائرة الشؤون الاجتماعية.

ص37

ب-تغير التركيبة السكانية في دولة الكويت بعد عام 1990م.

بلغ إجمالي عدد السكان 2141465 في عام 1990م (72% غير كويتيين)، لكن تعرضت هذه النسبة للتغيير بعد عام 1990م نتيجة للعدوان والغزو العراقي الغاشم على دولة الكويت، وما تبع ذلك من هجرة غير الكويتيون من الكويت.

ص59

ج-الدور الحضاري لجزيرة فيلكا

لعبت جزيرة فيلكا دوراً رئيسياً في منطقة الخليج العربي باعتبارها مركزاً من مراكز حضارة دلمون القديمة، حيث كانت تؤدي دور الوسيط التجاري بين حضارات الهند وبلاد الرافدين.

السؤال الحادي عشر/ فند ما يلي:

ص36

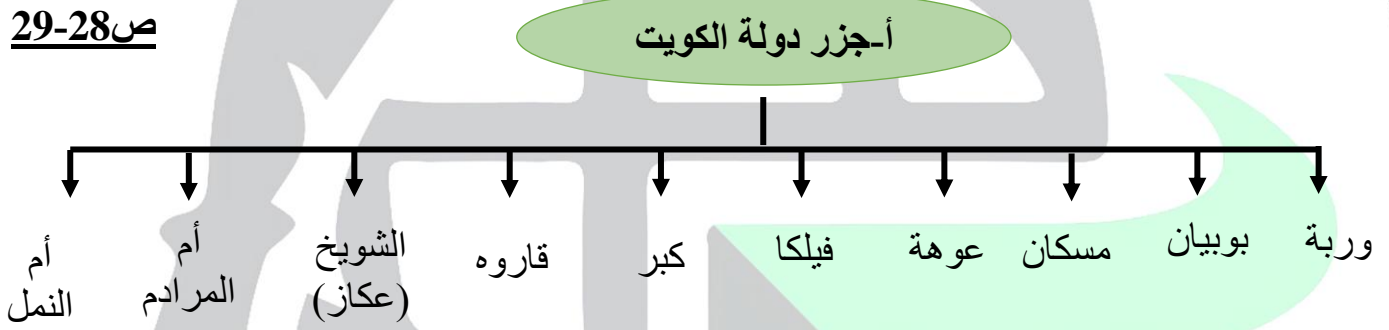
1-لم تفتقد الكويت قبل نزول العتوب بها لأي شكل من أشكال البناء السياسي للدولة.

-العبارة خاطئة فقد افتقدت الكويت لعنصرين مهمين من عناصر البناء السياسي أولها السلطة وثانيها الحدود السياسية.

موقع
المنهج الكويتية
almanahj.com/kw

السؤال الثاني عشر/أكمل المخططات السهمية التالية:

ص28-29



ص42

ب-تأثر المجتمع الكويتي قديماً بعنصرين أساسيين هما:



ص 40

ج- كان لطريق الحرير مساران رئيسيان:

المسار الغربي
طريق الحرير البحري

المسار الشمالي
طريق الحرير البري

ص 44

د- أنواع السفن الكويتية:

البتيل

البقارة

البغلة

البوم

الشوعي

الجالبوت

ص 52

هـ- أهم المناطق الزراعية في الكويت قديماً:

المنقف

الفنطاس

الفحيحيل

أبوحليفة

الجهراء

الشعيبة

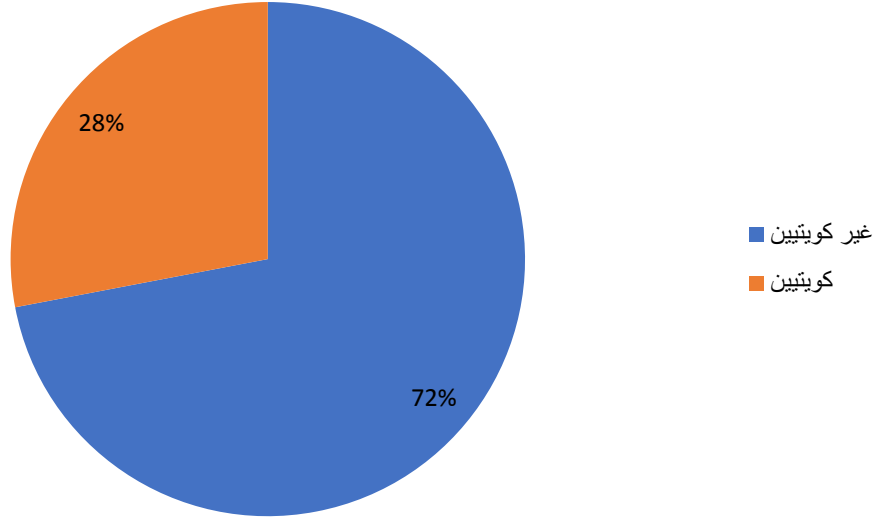
الدمنة
(السالمية)

قناة أ. سعود المونس
WWW.Q84S.COM

السؤال الثالث عشر/ أكمل الدائرة البيانية التالية بنسبة الوافدين في دولة الكويت عام 1990م.

ص37

نسبة الوافدين في دولة الكويت عام 1990م



السؤال الرابع عشر/ لاحظ الأشكال التالية ثم أجب:

أ- حدد المشترك في الشكل (1). ص45 ص45

- اليوم الكويتي.



الشكل (1)

قناة أ. سعود المونس
WWW.Q84S.COM


ب- اكتب تعليقاً مناسباً للأشكال التالية:



3 / ص 55



1 / ص 45



2 / ص 55



5 / ص 59



4 / ص 58



ص 62 / 7



ص 59 / 6




ص 62 / 9



ص 62 / 8

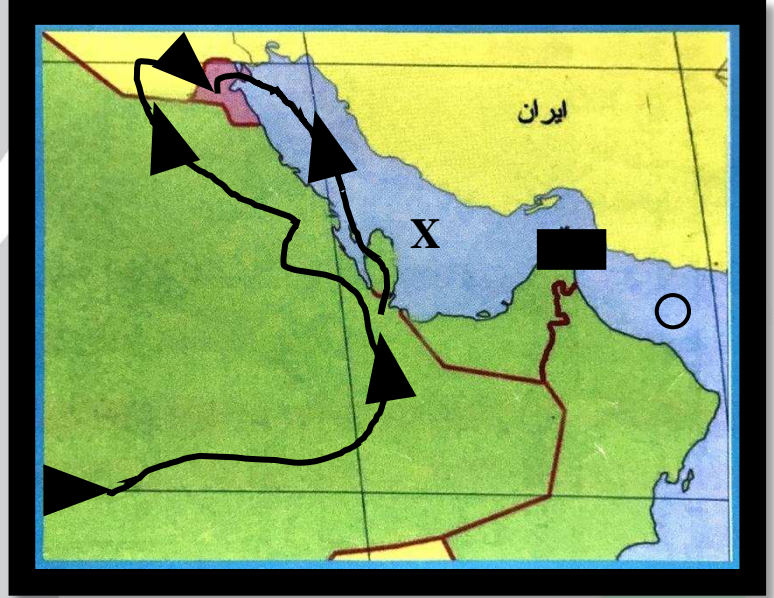


ص 62 / 10



السؤال الأول/ لاحظ الخرائط التالية ثم أجب:

❖ تمرين رقم 1



موقع
المناهج الكويتية
almanahj.com/kw

ص 69

أ/ عين على الخريطة الصماء ما يلي:

*موقع الخليج العربي بالرمز X

*موقع خليج عُمان بالرمز ○

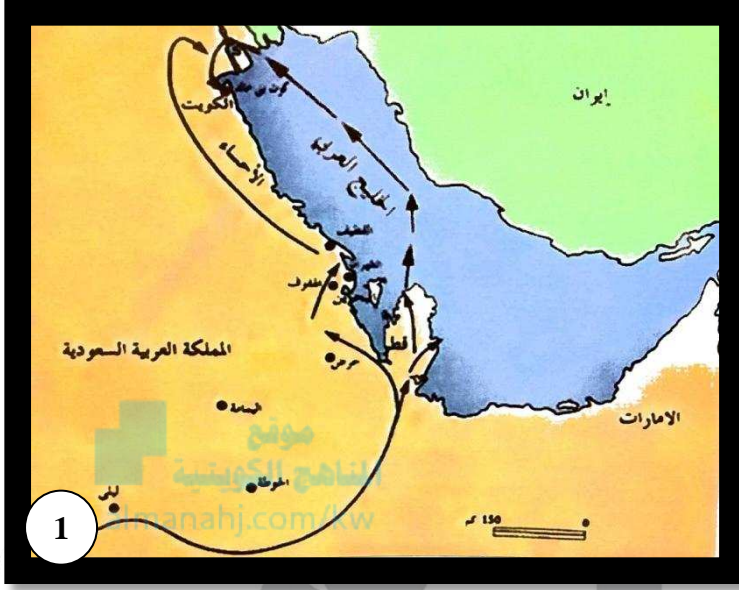
*مضيق هرمز بالرمز ■

*هجرة العتوب من الهذار حتى استقرارهم في الكويت بالرمز ←

قناة أ. سعود المونس
WWW.Q84S.COM

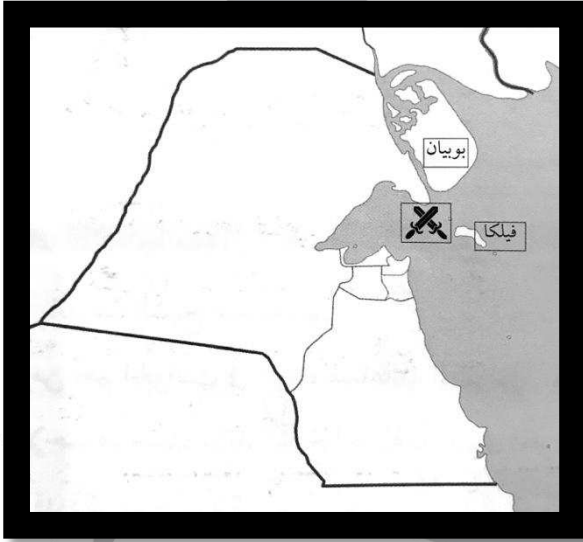
تمرين رقم (2)

*يمثل الرقم (1) موطن العتوب قبل هجرتهم ويسمى منطقة الهدار. ص 69



• تمرين رقم (3)

*يشير الرمز X لمعركة بارزة في تاريخ دولة الكويت تسمى معركة الرقة. ص 74
 *حدثت في عام 1783م.



قناة أ. سعود المونس
 WWW.Q84S.COM

السؤال الثاني/ أكمل العبارات التالية:

1- بني سور الكويت الأول عام 1797م

2- بني سور الكويت الثاني عام 1814م

ص74

ص76

3- "احتفظت الكويت باستقلالها دوماً حتى في الوقت الذي خضت فيه هرمز ومسقط والبحرين والإحساء لحكم الأجنبي وان أهل الكويت أكثر حباً للحرية والإقدام من القائل الرحالة بكنجهم.

ص77

السؤال الثالث/ عرف ما يلي:

ص69

- العتوب: هم أسر ترجع أصولها إلى عدة قبائل أبرزها قبيلة عنزة، وموطنهم الأصلي نجد في منطقة الهدار.

السؤال الرابع/ علل لما يلي:

ص67

أ- تسمية الكويت بهذا الاسم
سُميت الكويت تصغيراً لكلمة (الكوت)، وهو مصطلح شائع معناه "القلعة" أو "الحصن".

ص69

ب- كانت قطر محطة الاستقرار الأولى بالنسبة للعتوب.
1- بسبب القحط الذي أصاب مناطقهم الأصلية.
2- الصراعات القبلية في موطنهم.

ص69

ج- تسمية العتوب بهذا الاسم
أصل كلمة العتوب يرجع إلى الفعل (عَتَب) ومعناه الإكثار من الترحال.

ص70

د- اختيار الشيخ صباح الأول للحكم

1- لسماته الشخصية من شجاعة وحكمة.
2- كان لوالده الزعامة على قومه منذ أن كانوا بنجد.
3- كان يقيم في الكويت طوال أيام العام وكان عمله في البر خلافاً للبقية الذين كانوا يعملون في البحر.

ص76

هـ- تسمية الشيخ جابر الأول بن عبد الله الصباح بلقب "جابر العيش".
لكرمه ولكثرة ما يتصدق به على الفقراء والمساكين.

السؤال الخامس/ دال على صحة العبارات التالية:

ص68

أ-نشأة الكويت وتأسيسها عام 1613م

- 1- رسالة الشيخ مبارك الصباح حاكم الكويت السابع إلى المقيم البريطاني في الخليج العربي، والتي استهلها بقوله: "الكويت أرض قفراء نزلها جدنا صباح عام 1022 هـ (الموافق 1613م)".
- 2- ذكر مؤرخ الكويت عبدالعزيز الرشيد في كتابه تاريخ الكويت: "سكن الكويت قبل نزول العتوب قليل من البدو وصيادي الأسماك".

ص76

ب-تعد فترة الشيخ جابر الأول فترة ازدهار بحري للكويت.

- 1- تطورت خلالها صناعة السفن الكبيرة الخاصة بالنقل التجاري.
- 2- استطاع الكويتيون الوصول لسواحل مختلفة لنقل البضائع منها وإليها.

موقع
المنهج الكويتية
almanahj.com/kw

ص71

السؤال السادس/ قارن بين:

أ-مهام الأسر الثلاث في دولة الكويت قديماً.

الأسرة	آل صباح	آل خليفة	آل الجلاهمة
المهام	الحكم	شؤون التجارة	شؤون التجارة

السؤال السابع/ عدد ما يلي:

ص73

أ-أبرز أعمال الشيخ صباح الأول بن جابر.

- 1- العمل على توطيد الأمن ونشر العدل.
- 2- تنظيم أمور السكان والبلاد.
- 3- ترسيخ أنشطة دولة الكويت البحرية.

ص73

ب-أبرز الأحداث في عهد الشيخ عبد الله الأول بن صباح.

- 1- معركة الرقة (الكويت x بني كعب) عام 1783م.
- 2- بناء سور الكويت الأول عام 1797م.

ص76

ج-أعمال جابر الأول بن عبد الله الصباح

- 1-بناء سور الكويت الثاني عام 1814م.
- 2-مساعدة العثمانيين على إعادة البصرة بعد قيام بعض القبائل بالخروج على السلطة العثمانية.
- 3-عرض مقدم من شركة الهند الشرقية الانجليزية لإقامة محطة فحم للكويت عام 1841م.

ص77

ج- أهم الأحداث في عهد الشيخ صباح الثاني بن جابر.

- 1- تقدمت التجارة في عهده بشكل كبير.
- 2- عندما قرر أن يفرض رسوماً على البضائع رفض التجار، فألغى الرسوم احتراماً لرغبة أبناء شعبه.
- 3- زيارة المعتمد البريطاني في الخليج العربي "لويس بيلي" للكويت في عام ١٨٦٥م، حيث أشار فيها "بيلي" للتقدم الاقتصادي والتجاري للكويت وإلى النظام العادل للحكم.

ص77

د- أبرز الأحداث في عهد الشيخ عبد الله بن صباح الثاني.

- مساعدته العثمانيين في حملة مدحت باشا عام ١٨٧١م على إقليم الإحساء. (مساندتهم بأسطول بحري يقوده بنفسه، وجيش بري يقوده شقيقه الشيخ مبارك).

ص80

هـ- أبرز القرارات التي ساهمت بالنمو التجاري والاقتصادي لدولة الكويت.

- 1- قلة الضرائب على البضائع القادمة إلى الكويت.
- 2- تشجيع بناء سفن الغوص على اللؤلؤ وتأمين طرق التجارة المارة عبر أراضيها.
- 3- اجتذاب الوكالات التجارية التابعة للشركات الأوروبية العاملة في الخليج العربي.
- 4- لعب التجار الكويتيون دور الوسيطاء التجاريين، مما ساعد على بناء علاقات تجارية بين الكويت ومناطق دول الجوار.

ص81

و- العوامل التي ساعدت على نمو وازدهار الكويت تحت حكم آل صباح.

- 1- موقع الكويت الاستراتيجي على الجزء الغربي للخليج العربي.
- 2- طبيعة نظام الحكم المعتمد على العدل والشورى والأمن.
- 3- وجود علاقات متوازنة مع القوى المجاورة.
- 4- التسهيلات التي كانت تمنح لتجار البادية (تجارة المسابلة).
- 5- النظام الاقتصادي وتوزيع المهام ما بين الغوص على اللؤلؤ ونقل التمور وتجارة البادية.
- 6- الصفات التي تميز بها أهل الكويت من التسامح والانفتاح على الآخرين.

السؤال الثامن/ أوجد العلاقة بكتابة فقرة مترابطة بالاستعانة بالكلمات التالية:

ص72

أ- (طبيعة العلاقة - بني خالد - التهديدات).

في ظل ارتباط الكويت بنفوذ بني خالد استطاعت الكويت أن تتمتع بمزيد من الحماية والأمن، وبفضل هذا الارتباط استطاعت الكويت أن تتجوز من كثير من التهديدات والأخطار لمختلف القوى الإقليمية آنذاك.

ص77

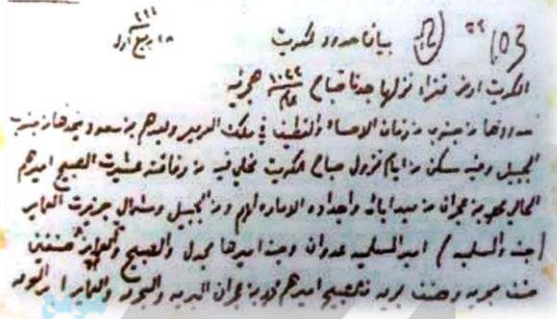
ب- (محمد بن صباح - 1891م - عبدالرحمن آل سعود).

اشتهر الشيخ محمد بن صباح بالنزاهة والوقار، وساعده في الحكم أخواه الشيخان جراح (تولى الشؤون المالية) ومبارك (تولى شؤون البادية والجيش)، ورحب وسهّل استقرار أسرة الأمير عبد الرحمن آل سعود والد مؤسس الدولة السعودية الثالثة في دولة الكويت عام 1891م.

السؤال التاسع/ لاحظ الشكل ثم أجب عما يلي:

ص68

السابع إلى



أ- الشكل الذي أمامك يمثل:
رسالة الشيخ مبارك الصباح حاكم الكويت
المقيم البريطاني في الخليج العربي.

السؤال العاشر / فند ما يلي:

ص76

أ- قبل الشيخ جابر الأول طلب نائب المقيم السياسي البريطاني في الخليج بأن تقوم الكويت برفع الراية
الانجليزية.
العبارة خطأ فقد رفض الشيخ جابر الأول طلب المقيم السياسي البريطاني برفع الراية الانجليزية عام
1839م حيث أكد الشيخ جابر أن مثل هذا الطلب لو تقدمت به الحكومة العثمانية سيتم رفضه لأنه في غير
صالح الكويت.

قناة أ. سعود المونس
WWW.Q84S.COM



الفصل الثالث: الكويت والتنافس الأوروبي على منطقة الخليج العربي من القرن السادس عشر حتى القرن التاسع عشر ميلادي.
ص85-91

السؤال الأول/ أكمل العبارات التالية:

- 1- بدأ الوجود الهولندي في آسيا خصوصاً والشرق عموماً في فترة أواخر القرن السادس عشر. **ص87**
- 2- خرج أول أسطول هولندي إلى آسيا عام 1595م. **ص88**
- 3- ميناء اتخذته الهولنديون لهم في الشرق مركزاً تجارياً يسمى بندر عباس. **ص87**
- 4- تأسست شركة الهند الشرقية الانجليزية عام 1600م. **ص88**

السؤال الثاني/ علل لما يلي:

- أ- يعتبر الاستعمار البرتغالي من أسوأ النظم الاستعمارية في الخليج العربي. **ص86**
- 1- تدمير البرتغاليين القاعدة الاقتصادية لمنطقة الخليج ودويلاتها.
 - 2- احتلال المدن والقرى بطريقة وحشية.
- ب- أهمية اليعاربة في منطقة الخليج العربي في أواخر القرن السادس عشر. **ص86**
- لتصفيته الوجود البرتغالي وطردهم من منطقة الخليج العربي.
- ج- الانهيار التدريجي للاستعمار البرتغالي في منطقة الخليج العربي. **ص86**
- 1- المنافسة التجارية مع الهولنديين والبريطانيين.
 - 2- جهود اليعاربة في عُمان والتي ساهمت في تصفية الوجود البرتغالي.
 - 3- وقوع البرتغال نفسها تحت الاحتلال الإسباني.
- د- عدم استمرار التفوق الهولندي في منطقة الخليج العربي طويلاً. **ص88**
- التنافس البريطاني الهولندي.
- هـ- نزاع بريطانيا مع القوى الاستعمارية الأخرى في منطقة الخليج العربي. **ص88**
- وذلك لأطماع البريطانيين في السيطرة على الخليج العربي.
- و- ازدياد حدة التنافس بين البريطانيين والهولنديين في منطقة الخليج العربي. **ص88**
- لتأسيس شركة الهند الشرقية البريطانية في عام 1600م.
- ز- نقل بريطانيا مركز البريد والتجارة من البصرة إلى الكويت في عامي 1775م و1793م. **ص89**
- 1- نقلت بريطانيا مركز البريد والتجارة إلى الكويت في عام 1775م بسبب الحصار الفارسي واحتلال البصرة.
 - 2- نقلت بريطانيا مركز البريد والتجارة إلى الكويت عام 1793م بسبب المشاكل التجارية بين العثمانيين والوكالة الإنجليزية.

السؤال الثالث/ دلل على صحة العبارات التالية:

ص 89

أ- أهمية الكويت بالنسبة لبريطانيا في نهاية القرن الثامن عشر.

- 1- أسس البريطانيون مراكز تجارية لهم في الكويت.
- 2- أسس البريطانيون مركزاً للبريد البري المتجه من الهند إلى لندن.
- 3- نقل مركز البريد والتجارة من البصرة إلى الكويت.

ص 90

ب- العلاقات الكويتية العثمانية قديماً.

كانت العلاقة الكويتية العثمانية علاقة قائمة على الولاء الديني بحكم أن الدولة العثمانية دولة خلافة، وكانت دولة الكويت مستقلة في شؤونها الداخلية فقط.

السؤال الرابع/ عدد كل من:

ص 86

موقع
المنهج الكويتية
almanahj.com/kw

أ- دوافع البرتغاليين لمد نفوذهم لمنطقة الخليج العربي.

- 1- النهضة الملاحية التي شهدتها أوروبا في تلك الفترة.
- 2- إدراكهم للأهمية الاقتصادية للخليج العربي.
- 3- العامل السياسي والديني.

ص 86

ب- التغيرات التي وقعت في أواخر القرن السادس عشر في أوضاع البرتغاليين في الشرق.

- 1- وصول سفن لدول أوروبية أخرى جاءت لتشارك البرتغاليين أرباحهم من تجارة الشرق.
- 2- ظهور الهولنديون في مياه الهند الشرقية.

ص 87-88

ج- أبرز أعمال الهولنديون بعد وصولهم لمنطقة الخليج العربي.

- 1- عقد معاهدات مع حكام منطقة الخليج العربي باسم الحكومة الهولندية.
- 2- بناء القلاع.
- 3- تعيين الحكام والقضاة في المواقع التابعة لهم.
- 4- اتخاذ ميناء بندر عباس مركزاً تجارياً.

ص 88

د- أبرز سياسات البريطانيين في منطقة الخليج العربي بعد انهيار النفوذ الهولندي.

- 1- الاستيلاء على ممتلكات هولندا في الهند وسيلان.
 - 2- الاستيلاء على المواقع الهولندية في الخليج العربي.
 - 3- قيام شاه فارس بمنح الانجليز بعض الامتيازات
 - 4- تعزيز وجودها العسكري بما يضمن تحقيق الانفراد بالخليج بشكل كامل.
- هـ- الأسس التي حددها الفرمان العثماني حول علاقة الكويت بالدولة العثمانية.

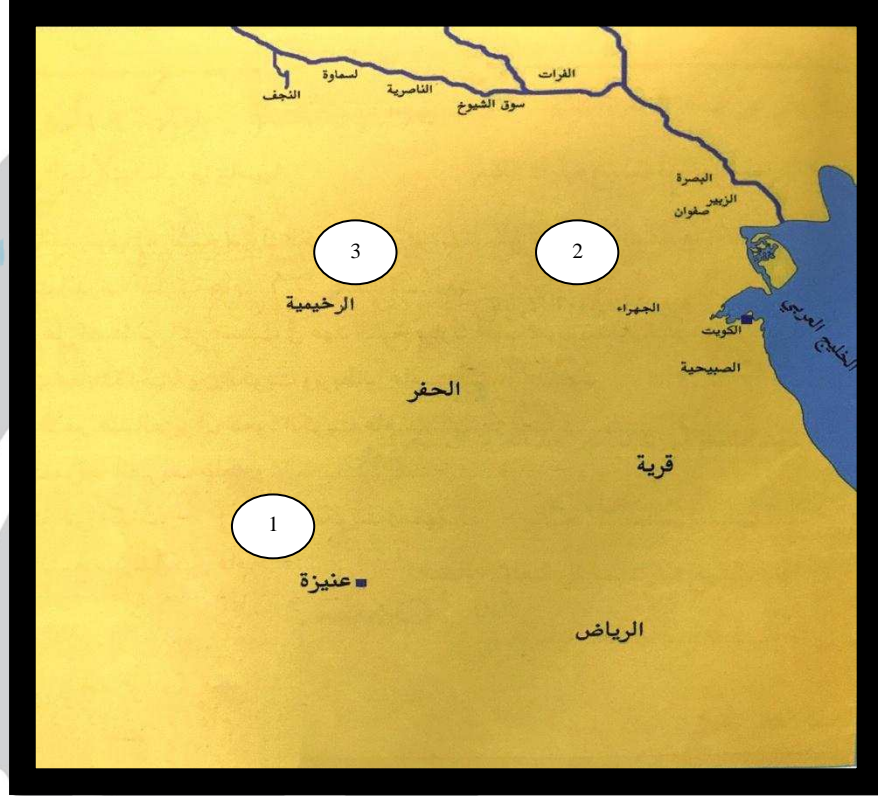
ص 90



- 1- شيخ الكويت مستقل بشؤونه الداخلية.
- 2- منح شيخ الكويت لقب قائم مقام.
- 3- أهالي الكويت لا يلتزمون بدفع ضرائب أو رسوم للباب العالي.
- 4- إلزام السفن الكويتية برفع العلم العثماني.

• **الفصل الرابع: الحاكم السابع الشيخ مبارك الكبير مؤسساً لإمارة الكويت الحديثة 1896-1915م**
ص 95-107

السؤال الأول/ لاحظ خريطة معارك الشيخ مبارك الصباح ثم أجب عما يلي:



ص 106

1- موقع معركة الصريف (مارس 1901م) يمثلها على الخريطة الرقم 1....

ص 106

2- موقع معركة هدية (مايو 1910م) يمثلها على الخريطة الرقم 2....

قناة أ. سعود المونس
WWW.Q84S.COM

السؤال الثاني/ أكمل العبارات التالية:

- 1- العام الذي أنشئت فيه أولى المدارس النظامية الأهلية في دولة الكويت 1911م. ص96
- 2- المنطقة التي استقبل فيها الشيخ مبارك الصباح البعثة الألمانية عام 1900م تسمى الجهراء. ص99
- 3- العام الذي عقدت فيه اتفاقية الحماية الكويتية البريطانية 1899م. ص101
- 4- قاد الشيخ مبارك الصباح عدة معارك منها معركة في مايو ١٩١٠م تسمى هدية. ص106

السؤال الثالث/ عرف ما يلي:

- مشروع كابنست: هو مشروع روسي لجعل دولة الكويت نهاية لخط سكة حديدية جديدة. ص98

السؤال الرابع/ علل لما يلي:

- أ- رفض الشيخ مبارك الصباح لكافة المشاريع الروسية في الإمارة. ص98
- لإدراك الشيخ مبارك بأن الكفة تميل للجانب البريطاني.
- ب- رفض الشيخ مبارك لمشروع سكة الحديد مع الدولة العثمانية والألمان. ص99
- لأن الدولة العثمانية ستبعث موظفين وجباة ضرائب فتفقد بذلك الكويت استقلالها.
- ج- أهمية اتفاقية الحماية 1899م بالنسبة للكويت. ص102

- 1- تكمن أهمية اتفاقية الحماية مع بريطانيا في أنها حفظت للكويت حدودها من الأطماع في تلك الفترة.
- 2- تدعيم واستقرار وتطور الأوضاع في الكويت.
- 3- دعم قدرات الكويت في مواجهة الأخطار الداخلية والخارجية.

السؤال الخامس/ دلل على صحة العبارات التالية:

- أ- كانت فترة حكم الشيخ مبارك حاسمة في تاريخ إمارة الكويت. ص95
- 1- كان الشيخ مبارك الكبير حاكمًا مطلقًا.
- 2- واجه العديد من الخلافات والتغيرات والتهديدات التي كانت سائدة آنذاك.

- ب- اهتم الشيخ مبارك الصباح في المجال الصحي في دولة الكويت. ص96
- وافق على تأسيس أول مستشفى في عام 1911م والذي أطلق عليه اسم المستشفى الأمريكي.

- ج- اهتم الشيخ مبارك الصباح بمجال التعليم. ص96
- إنشاء المدرسة المباركية في عام 1911م، وتعد أول المدارس النظامية الأهلية.

- د- تأييد الشيخ مبارك الصباح للأمير عبدالعزيز آل سعود. ص105
- تجهيز الأمير عبدالعزيز آل سعود وتهيئة الأسلحة والمؤن له لاستعادة الرياض.

هـ- براعة الشيخ مبارك الاستقلالية رغم ارتباطه باتفاقية الحماية مع بريطانيا. ص105-106

- 1- تحركه المنفرد في كثير من الأحيان، مثل دعم الأمير عبدالعزيز آل سعود مادياً وعسكرياً لاستعادة ملك أجداده.
- 2- امتصاص وتخفيف التوتر مع العثمانيين وعدم التصادم العسكري معهم.

ص98

السؤال السادس/ فرق بين كل من:

أ- السبب المعلن وغير المعلن لخطوات روسيا للتأثير على الشيخ مبارك الصباح في القرن التاسع عشر.

السبب المعلن:	استغلال بعض المشاريع التجارية (إنشاء محطة للفحم / إنشاء ميناء لتزويد سفنها بالوقود / جعل الكويت نهاية خط سكة حديد جديدة (مشروع كابنست).
السبب غير المعلن:	محاولة الروس عقد اتفاقية حماية مع الشيخ مبارك الصباح.

ب- سياسة الدولة العثمانية مع الكويت قبل وبعد عقد الكويت اتفاقية الحماية مع بريطانيا عام 1899م.

قبل اتفاقية الحماية	التظاهر بموقف حيادي	ص100
بعد اتفاقية الحماية	1- إرسال بعض الوحدات العسكرية لأراضي الكويت. 2- تهديد الشيخ مبارك نفسه بالنفي.	

ص101

ج- دوافع كل من الشيخ مبارك الصباح والبريطانيون في توقيع اتفاقية الحماية عام 1899م.

(الطرف الثاني)
الشيخ مبارك الصباح

1- رغبة الشيخ مبارك في تأمين وضع الإمارة والخوف

(الطرف الأول)
البريطانيون

1- فرض سيطرتها على الخليج العربي المؤدي إلى الهند.
2- إضعاف الدولة العثمانية وفصل سيطرتها عن شبه الجزيرة العربية.

السؤال السابع/ عدد ما يلي:

ص96

- أ- أبرز أعمال الشيخ مبارك الصباح في مجال حفظ الأمن وتشجيع التجارة.
- 1- إخراج قوات عسكرية لتأمين طرق القوافل التجارية وضمان سلامة الطرق.
 - 2- مراقبة الأسواق والنظر في مشاكل الأهالي.
 - 3- معاقبة الخارجين عن النظم المتبعة.
 - 4- تشجيع تصنيع السفن الكبيرة لنقل البضائع بين الكويت والموانئ المختلفة.
 - 5- التوسط لحل المشكلات التي تنشأ بين التجار.

ص106

موقع
المنهج الكويتية
almanahj.com/kw

ب- أبرز المعارك التي قادها الشيخ مبارك الصباح

- 1- معركة الصريف 1901م.
- 2- معركة هدية 1910م.

السؤال الثامن/ اكتب تعليقاً مناسباً للأشكال التالية:



ص97

1- الصورة توضح المستشفى الأمريكي.

قناة أ. سعود المونس
WWW.Q84S.COM

ص105



موقع
الماناهج الكويتية
almanahj.com/kw

2- الصورة توضح كل من الشيخ مبارك الصباح وإلى جانبه الأمير عبدالعزيز آل سعود.



قناة أ. سعود المونس
WWW.Q84S.COM

@Social_ar

@q84skw

أسأل الله لكم التوفيق والنجاح ...

ملاحظة: هذا الدليل لا يغني عن الكتاب المدرسي وشرح المعلم. (مجانية لاتباع)