

تم تحميل هذا الملف من موقع المناهج الكويتية




محمد البلاطي

الملف إجابة أسئلة اختبار القصير من منصة البلاطي

موقع المناهج ← المناهج الكويتية ← الصف الحادي عشر الأدبي ← جغرافيا ← الفصل الثاني

روابط مواقع التواصل الاجتماعي بحسب الصف الحادي عشر الأدبي



روابط مواد الصف الحادي عشر الأدبي على تلغرام

[الرياضيات](#)

[اللغة الانجليزية](#)

[اللغة العربية](#)

[التربية الاسلامية](#)

المزيد من الملفات بحسب الصف الحادي عشر الأدبي والمادة جغرافيا في الفصل الثاني

بنك اسئلة مهم ورائع في مادة الجغرافيا	1
بنك اسئلة ممتاز في مادة الجغرافيا	2
بنك اسئلة مفيد في مادة الجغرافيا	3
بنك اسئلة التوجيه في مادة الجغرافيا	4
نماذج اختبارات في مادة الجغرافيا	5

توقعات ليلة الامتحان إجابة امتحانات تجريبية قصير (أ)



مبادئ علم الجغرافيا
وعلم الاقتصاد
الفصل الدراسي الثاني
2025 - 2024

السؤال الأول (موضوعي):


٢ - شاهد خريطة العالم المعروضة ثم أجب عن الأسئلة التالية :



1 - أكبر المحيطات مساحة الذي يحمل الحرف (ج)

2 - تيار كاليفورنيا الذي يحمل الرقم (2)

٣ - أكتب عما تدل عليه الصور:



السند



الكمبيالة

٣ - أكمل الشكل التالي:

المقترضون

المقرضين

الأفراد

المؤسسات

الحكومة

الأسواق المالية

الأفراد

المؤسسات

الحكومة

السؤال الثاني (مقالي):

١ - عللي لما يأتي :

١ - تتعدد وظائف البنوك التجارية

أ- قبول الوائع ب- خلق النقود

٢ - تتسم مياه البحار والمحيطات بمجموعة من الخصائص الطبيعية والكيميائية

أ- حرارة مياه البحار والمحيطات ب- ملوحة مياه البحار والمحيطات

٣ - حدوث حركة المد والجزر

أ- قوة جذب القمر والشمس لمياه سطح الأرض ب- قوة الطرد المركزية للأرض الناشئة عن دورانها حول نفسها .

٢ - قارن بين:

التيارات الدافئة	التيارات الباردة	معيار المقارنة
تتجه من العروض الدنيا الدفينة نحو العروض العليا الباردة	تتجه من العروض العليا الباردة نحو خط الاستواء	التعريف
1 - الخليج الدافئ 2 - موزبيق 3 - اليابان	1 - لبرادور 2 - بنجويلا 3 - فوكلاند	الأمثلة

٣ - عرف ما يلي :

١ - طول الموجة :-

المسافة بين قمتين متتاليتين

٢ - الأسهم :-

ورقة مالية تمثل كأداة ملكية لحصة في رأس مال الشركات المساهمة

مع أطيب التمنيات بالنجاح والتوفيق،،،

السؤال الأول (موضوعي):

٢ - شاهد خريطة العالم المعروضة ثم أجب عن الأسئلة التالية :



1 - يقع خندق سوندا في المحيط الذي يحمل الرقم (1)

2 - تيار البرازيل يحمل الحرف (أ)

٣ - أكتبي عما تدل عليه الصور:



شهادات الإيداع



التيارات البحرية

٣ - اكتب المصطلح العلمي الدال علي العبارات التالية :

1 - (النظام المالي) مجموعة القواعد والإجراءات التي تنظم أسواق ومؤسسات معينة يتم بها بيع وشراء الخدمات المالية والتأمين.

2 - (الأوراق التجارية) أوراق غير النقدية قابلة للتداول بين الأفراد والشركات والمؤسسات بالطرق التجارية لها شروط محددة تخصم لدي البنك التجاري ومن أشكالها الكمبيالة والشيك.

السؤال الثاني(مقالي):

٢ - ماذا يحدث لو: انعدام الغلاف المائي:

- 1 -انعدام الطرق الممهدة لاستخدام الانسان لها في النقل والتجارة
- 2 -لا يتوفر غذاء سمكي
- 3 - لا يمكن توليد مصادر طاقة (كهرومائية)

٢ - اذكر اثنان من كلا من :

١ - حركات مياه البحار والمحيطات

أ- المد والجزر ب- الأمواج

٢ - عوامل تباين نسبة ملوحة مياه البحار والمحيطات

أ- درجة الحرارة ونسبة التبخر ب- كمية المياه العذبة المكتسبة من الأمطار أو أنهار الجليد التي تصبها الأنهار في المسطحات المائية .

٣ - أشكال المؤسسات المالية في الدولة

أ- سوق النقد ب- سوق رأس المال

٢ - قارن بين كلا من:

وجه المقارنة	السهم	السند
التعريف	ورقة مالية تمثل كأداة ملكية لحصة في رأس مال الشركات المساهمة	ورقة مالية تمثل كأداة دين علي مصدر السند وتدر دخلا ثابتاً علي حامله

مع أطيب التمنيات بالنجاح والتوفيق،،،

السؤال الأول (موضوعي):

٢ - اكتب الحرف (أ) اذا كانت العبارتين صحيحة والحرف (ب) اذا كانت العبارتين خطأ
والحرف (ج) اذا كانت احدي العبارتين صحيحة والاخرى خطأ

الحرف	العبرة الثانية	العبرة الأولى
(ب)	1 - أصغر المحيطات المحيط الهادي	1 - تغطي نسبة البحار والمحيطات 75%
(أ)	2 - أكبر عمليات المد في خليج فوندي	2 - المياه السطحية أعلى حرارة من المياه العميقة
(ج)	3 - أمواج تسونامي تحدث بفعل الزلازل البحرية	3 - يعد تيار كناري من التيارات الدفيئة

٢ - اكتب المصطلحات العلمية حسب ما يناسبها في الجدول :

البنك المركزي - البنوك التجارية - القروض - شهادات الأيداع - الأوراق التجارية

المصطلح	التعريف
شهادات الأيداع	شهادات تصدر عن البنك التجاري تثبت إيداع مبلغ معين بعوائد وبفترة وجيزة
البنك المركزي	البنك المسؤول عن الجهاز المصرفي وتنظيم إصدار النقد ويشرف ويراقب علي العمليات المصرفية
القروض	تزويد الأفراد والمؤسسات بالمبالغ النقدية المطلوبة علي أن يتعهد المدين بسدادها
البنوك التجارية	المؤسسات المالية التي تقبل الودائع من الأفراد والهيئات والمؤسسات بحيث تستخدمها في منح القروض والسلف

٣ - اختر الاجابة الصحيحة من بين البدائل التالية :

١ - تبلغ نسبة اليابس علي سطح الكرة الأرضية
(26 % - 27 % - 28 % - 29 %)

٢ - أكبر المسطحات المائية المحيط
(الهادي - الأطلنطي - المتجمد الشمالي - الهندي)

السؤال الثاني (مقالي):

٢ - اقرأ الفقرة التالية ثم أجب عما يلي

« تعد التيارات البحرية أحد أشكال حركة مياه البحر وهي عبارة عن تحرك للكتلة السطحية من مياه المسطح المائي من مكان لآخر وتتميز بعدة خصائص تميزها عن بقية المسطح المائي الذي تتحرك فيه »

١ - عرف ما تحته خط

تحرك للكتلة السطحية من مياه المسطح المائي من مكان لآخر وتتميز بعدة خصائص تميزها عن بقية المسطح المائي الذي تتحرك فيه

٢ - علل نشأة التيارات البحرية

أ- ارتفاع كثافة مياه البحر

ب- الرياح الدائمة

ج- السواحل

٢ - قارن بين كلاً من:

البنوك المتخصصة	البنوك التجارية	وجه المقارنة
المؤسسات المالية التي لا تزاوّل نشاط البنوك التجارية وتهتم فقط في انعاش قطاعات محددة في الاقتصاد	المؤسسات المالية التي تقبل الودائع من الأفراد والهيئات والمؤسسات بحيث تستخدمها في منح القروض والسلف	التعريف
1 - بنك متخصص للزراعة 2 - بنك متخصص للعقار 3 - بنك متخصص لتمويل المشاريع الصغيرة والمتوسطة	1 - قبول الودائع 2 - خلق النقود 3 - تقديم القروض والتسهيلات الائتمانية	الوظائف
٣ - أجب عما يلي :		

١ - أهمية الغلاف المائي

أ- أهمية المسطحات المائية الكبرى والصغرى للمناخ

ب- سد العجز في المياه العذبة اللازمة بعد ابتكار وسائل لتحلية المياه المالحة

٢ - وظائف البنك المركزي

أ- بنك الإصدار ب- بنك الحكومة

مع أطيب التمنيات بالنجاح والتوفيق،،،

السؤال الأول (موضوعي):

٢ - (ظلل المربع المناسب للإجابة الصحيحة المقابلة للعبارات التالية:

العبرة	الاستراتوسفير	الميزوسفير	التروبوسفير	الثيرموسفير
تخترقها الشهب والنيازك		صح		
تنشأ فيها السحب والعواصف والتيارات الصاعدة			صح	
تمتاز بخفة وزنها وبغازاتها الطيارة الخفيفة جدا				صح
تتضمن طبقة الأوزون	صح			

٢ - أكمل الشكل التالي :

الفروقات الجغرافية
والمناخية في الانتاج

الحاجة إلى
المادة
الخام

مقومات التبادل
التجاري بين
الدول

التخصص
في
الإنتاج

٢ - اكتب ما تمثله الأجهزة التالية :



الانيمومتر



الترموجراف

السؤال الثاني (مقالي):

٢ - قارن بين كلا من :

عوامل تؤثر في الاشعاع الشمشي	عوامل اختلاف درجة حرارة الهواء
أ- قوة النشاط الاشعاعي للشمس ب- مدي شفافية طبقات الغلاف الجوي ج- اختلاف عدد ساعات سقوط أشعة الشمس	أ- تنخفض درجة الحرارة كلما بعدنا عن الدائرة الاستوائية شمالا أو جنوبا ب- تأثير التيارات البحرية الدافئة والباردة ج- تقلل الغطاءات النباتية من المدي الحراري اليومي

٢ - علل لما يأتي :

١ - يتأثر الضغط الجوي بعدة عوامل

أ- درجة الحرارة ب- الرطوبة

٢ - أهمية الغلاف الجوي

أ- يحمي سطح الأرض من تساقط الشهب والنيازك من الفضاء الخارجي
ب- الغلاف الجوي سبب الحياة علي سطح الأرض

٣ - ماذا يحدث في الحالات التالية :

١ - في حال حجم الصادرات أكبر من حجم الواردات

تزايد وانتعاش في مستوي الانفاق الكلي والنتاج المحلي الإجمالي وبالتالي تزايد حجم التوظيف في الاقتصاد مما ينتج عنه انتعاش اقتصادي في جميع قطاعات الاقتصاد

٢ - في حال حجم الصادرات أقل من حجم الواردات

تراجع في مستوي الانفاق الكلي والنتاج المحلي الاجمالي وبالتالي تراجع حجم التوظيف في الاقتصاد مما يسبب انكماشاً اقتصادياً في جميع قطاعات الاقتصاد

مع أطيب التمنيات بالنجاح والتوفيق،،،

السؤال الأول (موضوعي):

٢ - ظلل المربع المناسب للإجابة الصحيحة المقابلة للعبارات التالية:

غياب شبه كلي لبخار الماء - تخترقها الشهب والنيازك - ينشأ فيها السحب والعواصف - تمتاز خفة وزنها وبغازاتها الطيارة - طبقة الأوزون - تتميز بارتفاع درجة حرارة الهواء - تتركز بها الجزيئات الأيونية - تحدث فيها التيارات الصاعدة والهابطة

الميزوسفير	التروبوسفير	الثيرموسفير	الاستراتوسفير
- تخترقها الشهب والنيازك - تتميز بارتفاع درجة حرارة الهواء	- ينشأ فيها السحب والعواصف - تحدث فيها التيارات الصاعدة والهابطة	- تمتاز خفة وزنها وبغازاتها الطيارة - تتركز بها الجزيئات الأيونية	- غياب شبه كلي لبخار الماء. - طبقة الأوزون

٣ - اختر من المجموعة الأولى بما يناسبها من المجموعة الثانية

1 - قيام الدولة والأفراد بشراء السلع والخدمات	3	الصادرات
2 - ضريبة تفرض علي السلعة في حال عبورها	4	نظام الحصص
3 - قيام الدولة ببيع السلع والخدمات	-	الاتفاقيات التجارية
4 - القيد الكمي علي كمية أو قيمة السلع	1	الواردات
	2	التعريفات الجمركية

٣ - اختر الاجابة الصحيحة من بين البدائل التالية :

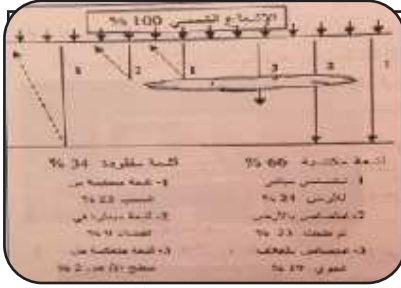
١ - النسبة التي تمثل نسبة الأشعة الضوئية

أ 43% ب 44%- ج 45% د 46%

٢ - الفرق بين درجة الحرارة اليومية القصوي ودرجة الحرارة اليومية الدنيا

المتوسط اليومي - **المدى الحراري** - المتوسط الشهري - النطاقات المناخية

السؤال الثاني (مقالي):



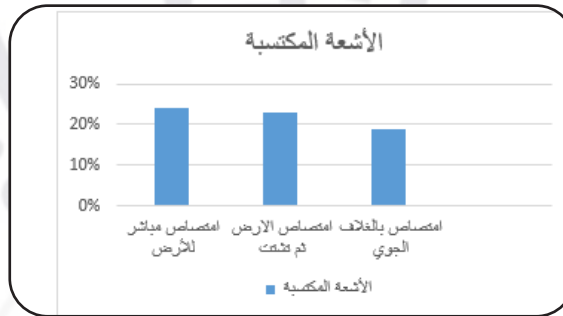
٢ - شاهد الشكل المعروض ثم أجب عن الأسئلة التالية :

١ - ماذا يمثل هذا الشكل

الإشعاع الشمسي (الأشعة المكتسبة - الأشعة المفقودة)

٢ - ارسم أعمدة بيانية تمثل نسبة الأشعة المكتسبة في المربع الذي أمامك

موقع
المنهج الكويتية
almanahj.com/kw



٣ - اقرا الجدول الذي أمامك ثم أجب عن الأسئلة التالية :

وجه المقارنة	السبت	الأحد	الاثنين	الثلاثاء
درجة الحرارة الدنيا	15	16	17	18
درجة الحرارة القصوى	24	26	25	27

١ - احسب المتوسط اليومي لدرجة الحرارة ليوم الأحد

المتوسط اليومي = الحراري الدنيا + الحرارة القصوى تقسيم 2

$$21 = 2 \div 42 = 26 + 16$$

٢ - احسب المدى الحراري ليوم الثلاثاء

المدى الحراري = الفرق بين درجة الحرارة القصوى ودرجة حرارة الدنيا

$$9 = 18 - 27$$

٣ - دلل علي صحة العبارة التالية :

١ - « قيود التصدير التطوعية من أهم القيود الغير جمركية »

عندما تقوم الدولة المستوردة بالطلب من الدول المصدرة للحد من صادراتها من سلعة « طوعا بحجة تهديد هذه الصادرات للصناعة المحلية بالدولة المستوردة مثلا الولايات المتحدة الأمريكية اتفاقها مع اليابان ان تقوم اليابان بتقليل صادراتها من السيارات إلي الولايات المتحدة لتجنب الأضرار بصناعة السيارات في السوق الأمريكية

مع أطيب التمنيات بالنجاح والتوفيق،،،

السؤال الأول (موضوعي):

٥ - صح ما تحته خط :

١ - متوسط التتابع المنتظم لأحوال الطقس خلال مدة زمنية طويلة تعرف بالطقس (المناخ)

٢ - تبلغ نسبة الأشعة المفقودة حوالي 66% (34%)

٣ - 3-طبقة التروبوز طبقة انتقالية بين طبقة التروبوسفير والميزوسفير (الاستراتوسفير)

٤ - مجموع متوسطات حرارة كل أيام الشهر مقسومة علي عدد أيام هذا الشهر يعرف بالمتوسط اليومي (المتوسط الشهري)

٥ - أكمل الشكل التالي :

الواردات	الصادرات
القيود غير الجمركية	القيود الجمركية

٥ - شاهد الشكل التالي ثم أكمل الناقص :



السؤال الثاني (مقالي):

١ - ماذا يحدث لو انعدام الغلاف الجوي

1 -تساقط الشهب والنيازك علي سطح الأرض من الفضاء الخارجي

2 -انعدام الحياة علي سطح الأرض

٢ - حول درجة الحرارة المئوية الي فهرنهايت والعكس



2-13 مئوية

$$23.4 = 1.8 \times 13$$

$$55.4 = 32 + 23.4 \text{ درجة فهرنهايت}$$

1 - 55 فهرنهايت

$$23 = 32 - 55$$

$$12.7 = 1.8 \setminus 23 \text{ مئوية}$$

٣ - قارن بين كلا من :

وجه المقارنة	منطقة التجارة الحرة الأوروبية	اتفاقية التجارة الحرة لشمال أمريكا
سنة التأسيس	1959	1992
الدول	سبعة دول أوروبية	المكسيك - الولايات المتحدة الأمريكية - كندا

مع أطيب التمنيات بالنجاح والتوفيق،،،

السؤال الأول (موضوعي):

θ - ضع علامة صح أمام العبارة التي تناسبها في المربع :

العبارة	القبلي	السموم	الخماسين	السيروكو	الفهن الجبلية
عدد أيام هبوبها 50 يوما			صح		
تهب من شمال إيطاليا متجهة إلي وسط أوروبا					صح
تهب من جنوب شبه الجزيرة العربية وتتجه شمالا لتصل إلي بلاد الشام		صح			
تهب من الصحراء الكبرى محملة بالرمال الدقيقة ويتركز تأثيرها علي السواحل الشمالية من ليبيا	صح				
تهب من الصحراء الكبرى متجهة نحو سواحل تونس والجزائر والمغرب				صح	

س - ما الرابط الذي يجمع بين الكلمات التالية :

الموارد الطبيعية + رأس المال البشري + الموقع الجغرافي = مقومات الاقتصاد الكويتي

بنك الكويت المركزي + وزارة المالية + هيئة سوق المال = أهم المؤسسات ذات الطابع الاقتصادي

هـ - سجل نوع الرياح التي تمثلها الخرائط :



الرياح الموسمية
الصيفية



الرياح الموسمية
الشتوية

السؤال الثاني (مقالي):

ث - قارن بالرسم :

نسيم البحر	نسيم البر	وجه المقارنة
		الرسم

ج - علل لما يأتي:

١ - تعدد طرق تنويع مصادر الدخل بعيدا عن النفط

أ- استغلال المقومات الحالية للاقتصاد

ب- ايجاد المصادر البديلة

٢ - أهم التحديات الرئيسية التي يواجهها الاقتصاد الكويتي

أ- النفط مصدر غير متجدد

ب- تنويع مصادر الدخل .

هـ - دلل علي صحة العبارة التالية :

١ - « علي الرغم من الأضرار التي تسببها رياح الخماسين الا انها لها فوائد مهمة »

الفوائد:- تساعد علي نضج محصول القمح

الأضرار :- انتشار الحرائق في القرى المصرية

مع أطيب التمنيات بالنجاح والتوفيق،،،

السؤال الأول (موضوعي):

θ - أضيفي عنصرا إلى العناصر التالية :

1 - الرياح الدائمة:

التجارية	القطبية	العكسية الغربية
----------	---------	-----------------

2 - مظاهر التكاثف علي سطح الأرض:

الضباب	الندى	مو الصقيع
--------	-------	-----------

المنهج الكويتي
almanahj.com/kw

3 - أنواع الأمطار:

الحملي	التضاريسية	الاعصارية
--------	------------	-----------

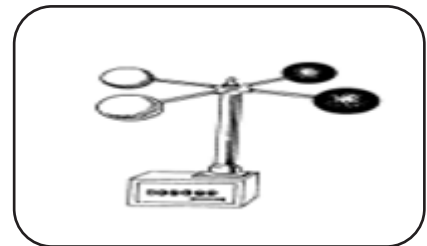
س - اكمل المخطط السهمي التالي :



س - شاهد الصورة ثم أكتب ما تمثله الصور :



الوعاء القياسي
للمطر



الانيمومتر

السؤال الثاني (مقالي):

٥ - اقرا الفقرة التالية ثم أجيب عما يلي :

التكاثف هو تحول بخار الماء الموجود في الجو من حالته الغازية إلى الحالة السائلة أو الصلبة عن طريق تبريدها وتكاثفها أو أنها في نفس الوقت من الحالة الغازية إلى الصلبة مباشرة عن طريق ما يسمى بعملية (التسامي)

١ - استخرج من الفقرة مفهومين مختلفان :

المعيار	الأول	الثاني
المفهوم	التكاثف	التسامي
التعريف	تحول بخار الماء الموجود في الجو من حالته الغازية إلى الحالة السائلة أو الصلبة	تحول بخار الماء من الحالة الغازية إلى الصلبة مباشرة

٢ - ارسم في المربع الذي أمامك كيفية تشكل الندى :



٣ - قارن بالشرح بين كلا ما :

وجه المقارنة	نسيم الوادي	نسيم الجبل
الشرح	يسخن الهواء الملامس للأرض نهاراً في الأودية فيتصاعد الهواء إلى أعلى السفوح الجبلية	أثناء الليل يبرد الهواء على سفوح الجبال فيهبط نحو الأودية والأراضي المنخفضة

٤ - أجيب (تتخلص أهم مقومات الاقتصاد الكويتي في ثلاث ركائز أساسية)

أ-الموارد الطبيعية

ب-الموقع الجغرافي

ج-رأس المال البشري

مع أطيب التمنيات بالنجاح والتوفيق،،،

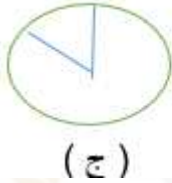
السؤال الأول (موضوعي):

٥ - شاهد خريطة الوطن العربي الذي أمامك ثم أجب عما يلي:

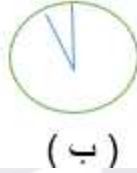


- 1 - رياح الخماسين تمثل رقم (2)
2 - رياح القبلي تمثل رقم (1)
3 - رياح المسترال تمثل رقم (4)

٥ - اختر القطاعات الدائرية التي تناسب العبارات التالية :



(ج)



(ب)



(أ)


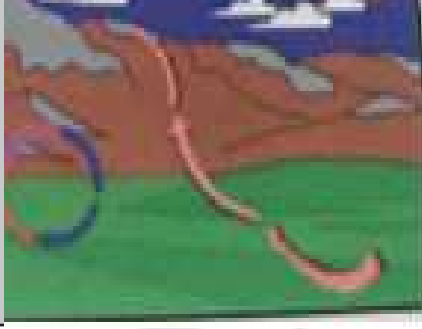
الحرف	العبرة
أ	مساهمة النفط من الناتج المحلي لدولة الكويت
ج	نصيب الإيرادات النفطية

٥ - اختر الاجابة الصحيحة من بين البدائل التالية :

- ١ - يشبه الندي من حيث أوقات مواقع تكونه الا انه يختلف عنه في النشأة والتكوين
(الضباب - البرد - الندي - الصقيع)
- ٢ - رياح محلية تهب فوق القسمين الأوسط والجنوبي من الولايات المتحدة الأمريكية
(مسترال - النورثر - الفهن الجبلية - السولانو)

السؤال الثاني (مقالي):

٥ - شاهد الصور ثم أكمل الجدول :

		
نسيم الجبل	نسيم الوادي	اسم الظاهرة
أثناء الليل يبرد الهواء على سفوح الجبال فيهب نحو الأودية والأراضي المنخفضة	يسخن الهواء الملامس للأرض نهاراً في الأودية فيتصاعد الهواء إلى أعلى السفوح الجبلية	الشرح

٦ - شاهد الرسم البياني ثم أجب :

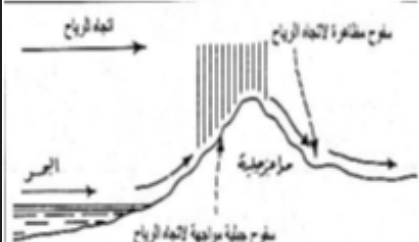
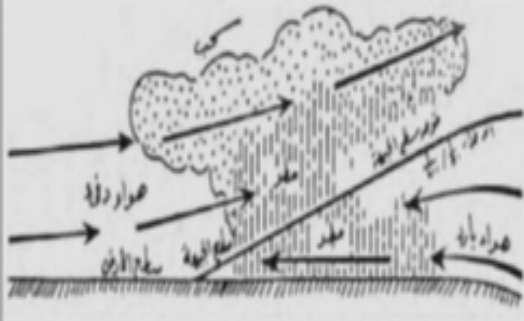


١ - ماذا يمثل الرسم البياني المعروض ؟

المقارنة التاريخية لمتوسط دخل الفرد في اليابان

٢ - أكمل :- الدولة التي أصبحت ثاني أكبر اقتصاد عالمي بعد الولايات المتحدة الأمريكية هي **اليابان**.

٣ - قارن بالرسم :-

الأمطار التضاريسية	الأمطار الإعصارية	وجه المقارنة
		الرسم

مع أطيب التمنيات بالنجاح والتوفيق ،،،

السؤال الأول (موضوعي):

θ - اكتب ما تعبر عنه الاشكال والرسومات التالية :

الشكل	ما عما يمثله
	الرياح الموسمية الصيفية المناهج الكويتية almanahj.com/kw
	نسيم الوادي
	الانيمومتر
	الترموجراف
	الوعاء القياسي للمطر

س - اختر العنصر الذي لا ينتمي إلى العناصر التالية :-

- 1 - الأسهم - القروض - السندات
 - 2 - بنك الحكومة - بنك الإصدار - شهادات الإيداع
 - 3 - البنوك التجارية- نظام الحصص- القيود الإدارية والفنية
- (القروض)
(شهادات الإيداع)
(البنوك التجارية)

هـ - شاهد الخريطة التي أمامك ثم أجب عما يلي :



- 1 - تيار اليابان يمثل الحرف (ب)
- 2 - تيار بنجويلا يمثل الحرف (ج)
- 3 - أصغر المحيطات يمثل الرقم (1)
- 4 - أضل المحيطات يمثل الرقم (2)

السؤال الثاني (مقالي):

ث - ماذا يحدث لو انعدام :

- ١ - الغلاف الجوي
 - 1 - تساقط الشهب والنيازك علي سطح الأرض من الفضاء الخارجي
 - 2 - انعدام الحياة علي سطح الأرض
- ٢ - الغلاف المائي
 - 1 - لا يمكن استخدام مياه البحر في تبريد المصانع للتبريد كمصانع الحديد والصلب ومولدات الطاقة النووية
 - 2 - لا يوجد مصدر سخي للغذاء السمكي

س - شاهد الخريطة المعروضة ثم أجب عما يلي :



م - علل لما يأتي :-

- ١ - ارتفاع درجة حرارة هواء السواحل الجنوبية الشرقية للولايات المتحدة الأمريكية بأكثر من 10 م عنها السواحل الغربية
لأنها تتأثر حرارتها بمؤثرات تيار الخليج الدافئ والهواء الدافئ المصاحب له في حين تتأثر السواحل الثانية بتيار كاليفورنيا البارد والهواء البارد المصاحب له
- ٢ - عوامل اختلاف درجة حرارة الهواء من مكان لآخر
أ- تقلل الغطاءات النباتية من المدى الحراي اليومي ب- الكتل الهوائية الباردة والدافئة

و - عدد اثنان من كلا من :

- ١ - وظائف البنك المركزي
أ- بنك الاصدار ب- بنك البنوك
- ٢ - مقومات التبادل التجاري
أ- التخصص في الانتاج ب- الحاجة إلي المادة الخام
- ٣ - مقومات الاقتصاد الكويتي
أ- الموارد الطبيعية ب- رأس المال البشري

مع أطيب التمنيات بالنجاح والتوفيق،،،



احرص على اقتناء سلسلة منصة البلاطي

- كتاب الشرح.
- كتاب الأسئلة.
- كتاب إجابة الأسئلة.
- المراجعة النهائية (الأسئلة - الإجابة).
- توقعات ليلة الامتحان (الأسئلة - الإجابة).
- كبسولة ليلة الامتحان.
- برشامة ليلة الامتحان.

موقع
المنهج الكويتية
almanahj.com/kw



11 مبادئ علم الجغرافيا
وعلم الاقتصاد
الفصل الدراسي الثاني
2025 - 2024

استمتع بتجربة التعلم
مع منصة البلاطي

